


4. SINIF TRAFİK GÜVENLİĞİ DERSİ
2. DÖNEM 1. YAZILI SINAV SORULARI
(Kaynaştırma öğrencisi İçin)

Adı – Soyadı :

No :

1. Aşağıdakilerden hangisinde yayalar karşıya geçer? (10 Puan)



2. Aşağıdakilerden hangisi güvenli oyun yeri değildir? (10 Puan)



3. Aşağıdakilerden hangisinde yolculuk yapmak güvenlidir? (10 Puan)



4) Bisiklet kullanırken hangisini takmak zorunlu değildir? (10 Puan)



5-)Yukarıda verilen resimlerde hangi ulaşım türünden örnek verilmemiştir?

A) Demir yolu

B) Hava Yolu

C) Deniz yolu


D) Kara Yolu

6) Aşağıdakilerden hangisi trafikte doğru bir davranıştır? (10 Puan)

A)



B)



C)



7) Aşağıdakilerden hangisi güvenli geçiş yerlerinden değildir? (10 Puan)

A)



B)



C)



8) Aşağıdakilerden hangisi doğru bir davranıştır? (10 Puan)


A)



C)



9) Aşağıdaki taşıtları kullandıkları yollar ile eşleştiriniz. (10 Puan)



Karayolu Taşıtları	Havayolu Taşıtları	Deniz yolu Taşıtları	Demiryolu Taşıtları
--------------------	--------------------	----------------------	---------------------

10) Aşağıdaki trafik levhalarını anlamları ile eşleştiriniz. (10p)



Işıklı işaret cihazı	Kamyon giremez	Demiryolu geçidi	Okul geçidi	Hastane
----------------------	----------------	------------------	-------------	---------