


Adı:	4. SINIFI TRAFİK GÜVENLİĞİ DERSİ <u>2.DÖNEM 1.YAZILI SINAVI</u>	Tarih: .../.../.....
Soyadı:		
No:		

A- Aşağıdaki cümlelerden doğru olanın başına (D) yanlış olanın başına (Y) yazınız. (10 puan)

- (.....) İtfaiye araçlarında kırmızı renkli, yanıp sönen ışıklı uyarı işareti bulunur.
- (.....) Kamyon, yük taşımak amacıyla kullanılan bir taşıttır.
- (.....) Toplu taşıma araçları, geçiş üstünlüğü olan taşıtlardır.
- (.....) Geçiş hakkı kurallarına uyulması trafikte güvenliği sağlar..
- (.....) Yolcu gemilerini süren kişilere pilot denir.
- (.....) Trafik işaret levhalarının anlamını bilmek bize bir fayda sağlamaz.
- (.....) Bisiklet, kayak ve paten gibi araçlar trafiğe kapalı alalarında kullanılmalıdır.
- (.....) Trafik polisi trafiğin denetlenmesini sağlar.
- (.....) Bisiklet sürerken ellerimizi bırakabiliriz.
- (.....) En hızlı ulaşım yolu hava yolu ulaşımıdır.

B- Aşağıdaki cümlelerde boş bırakılan yerleri uygun kelimelerle tamamlayınız. (20 puan)

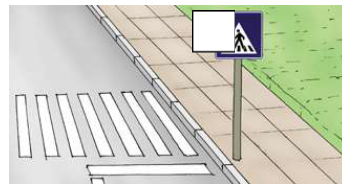

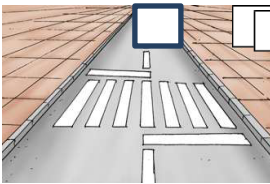
kask	yaya kaldırımı	yük ve yolcu	trafik polisi	vatman
siren	yolcu	zarar	gemi	geçiş üstünlüğü

- Kara yolu kenarında yalnız yayaların kullanımına ayrılmış olan yerlere denir.
- Ambulans itfaiye ve polis araçlarının vardır.
- İnsanlar trafikte yaya, sürücü veolarak bulunabilir.
- Trafik işaret ve levhalarına verenleri yetkililere bildirmek vatandaşlık görevidir.
- Ulaşım araçlarıtaşımak için geliştirilmiştir.
- Bisiklet, kayak ve paten kullanmadan önce.....takılmalıdır.
- trafiğin denetlenmesini sağlar.
- deniz yolu ulaşım aracıdır.
- İtfaiye, ambulans ve polis araçlarında bulunan ve uyarıcı olarak kullanılan düdüğü.....denir.
- Şehir içi yolcu taşımacılığında kullanılan tramvay sürücüsüne denir.

C- Aşağıda verilen kavramları anlamları ile eşleştiriniz. (5x2=10 puan)

- Makinist () Trafiki düzenlemekle görevli kişi.
- Yaya Geçidi () Araç ve yayaların geçişlerini düzenleyen ışıklı cihaz.
- Alt Geçit () Tren, lokomotif, fabrika ve makineleri kullanan kişi.
- Trafik Işıkları () Yolda yayaların güvenle karşıya geçişlerini sağlayan bölümler.
- Trafik Polisi () Trafik akışını kesmemek için taşıt yolunun altından geçirilen yol.

D- Aşağıdaki kavramları görselleri ile eşleştiriniz. Boş kutucuğa numarasını yazınız. (4x2=8 puan)



1. Banket

2. Trafik işaret levhası

3. Yaya geçidi

4. Işıklı trafik işaret cihazı

E- Aşağıdaki soruları cevaplandırınız. (Her soru 4 puandır.)

1- Ambulans, itfaiye ve polis aracı sürücüleri geçiş üstünlüğünü ne zaman kullanır ?

- A) Her zaman
B) Görev halinde
C) Trafik sıkışığında
D) Canları istediğinde

2- Aşağıdakilerden hangisi yanlış bir davranıştır?

- A) Kaldırımda yürüyen insanlara saygılı davranırım.
B) Kaldırımda yürüyen insanlara dikkat ederim.
C) Karşıya geçerken park etmiş arabaların arasından geçirim.
D) Karşıya geçmek istediğimde güvenli geçiş yerlerini kullanırım.

3- Ulaşım türü ve araçları tercih edilirken hangisine dikkat edilmez ?

- A) Ulaşımın güvenli olmasına
B) Ulaşım süresinin kısa olmasına
C) Ulaşımın maliyetine, yani pahalılık durumuna.
D) Ulaşım aracının rengine.

4- Üzerinde “H” harfi olan aşağıdaki trafik işaret levhası hangisini bildirir?

- A) Hayvan çıkabilir
B) Hayvanat bahçesi
C) Hastane
D) Her şey olabilir



5- Aşağıdaki resimde gösterilen güvenli geçiş yeri hangisidir?

- A) üst geçit
B) alt geçit
C) okul geçidi
D) yaya geçidi



6- Aşağıdakilerden hangisinde oyun oynamak tehlikeli olabilir?

- A) Trafiğe açık alanlarda
B) Parklarda
C) Oyun yerlerinde
D) Bahçede

7- En hızlı ulaşım türü hangisidir ?

- A) Deniz yolu
B) Hava yolu
C) Kara yolu
D) Demir yolu

8- Aşağıdaki mesleklerden hangisi trafikle ilgili değildir ?

- A) Trafik polisi
B) Vatman
C) Pilot
D) Otomobil tamircisi

9- Bisiklet, kayak, paten ve kızak gibi oyun araçları nerelerde kullanılmalıdır ?

- A) Trafiğin yoğun olmadığı yerlerde
B) Mahallemizdeki sokaklarda
C) Trafiğe kapalı oyun alanlarında
D) Evimizin içinde

10- Trafik kazalarına sebep olan en önemli unsur hangisidir ?

- A) İnsanların kurallara uymaması
B) Araçların bakımsız olması
C) Olumsuz iklim koşulları
D) Trafik levhaları

11- “Ben bir trafik levhasıyım. Ben sadece okul önlerinde bulunurum.” diyen trafik levhası aşağıdakilerden hangisidir?

- A) Taşıt Giremez Levhası.
B) Okul Geçidi Levhası.
C) Yaya Geçidi Levhası.
D) Trafik Işıkları Uyarı Levhası

12- Evden okula gidip gelirken hangi yolu tercih etmeliyiz?

- A) En kısa yolu
B) En uzun yolu
C) En güvenli yolu
D) En karmaşık yolu

13) Araç içinde bulunmayan kara yolu üzerinde hareketli ya da hareketsiz olan insanlara ne denir?

- A) Yaya
B) Görevli
C) Sürücü
D) Yolcu



BAŞARILAR DİLERİM :)