

Adı:	4. SINIFLAR TRAFİK GÜVENLİĞİ DERSİ 1. DÖNEM 1.YAZILI SINAVI	.../.../.....
Soyadı:		PUAN:
No:		

1)Aşağıdaki ifadelerden doğru olanın başına (D), yanlış olanın başına (Y) koyunuz.(20 puan)

- () Trafik kazaları sadece kazayı yapan kişiyi değil, pek çok kişiyi etkiler.
() Yaya geçitlerinin olduğu yerlere arabalar park edebilir.
() Trafik kazalarına karşı önlem alabilmek için herkesin trafik kurallarına uyması gerekmez.
() Trafikte sadece kendi hayatımızı düşünmeliyiz.
() Ülkemizdeki trafik kazalarının nedenleri arasında insan kaynaklı kusurlar ilk sırada yer almaktadır.
() Okula gelirken ve okuldan giderken yolun karşısına geçmek için güvenli geçiş alanlarını kullanmalıyız.
() Trafik polisi, trafiğin düzenini sağlar ve trafiği denetler.
() Kırmızı ışık yandığında karşıya geçmeliyiz.
() Araç kullanan kişilere yolcu denir.
() Taşıtlarda sürücü dışında bulunan kişilere müşteri denir.

2) Aşağıdaki boşlukları uygun ifadelerle doldurunuz. (20 puan)

Yaya geçidi **boyumuza** **Üçgen** **alt geçit** **kare**
en kısa **en güvenli** **Freni** **kornası** **akrobatik**

Bisiklet, kaykay, scooter, paten gibi araçlara binerken hareketler yapılmamalıdır.

..... biçimindeki işaret levhaları, tehlikeler hakkında uyarır.

Yayaların kullandıkları geçidedenir.

Trafik akışını kesmemek için taşıt yolunun altından geçirilen yola denir




.....şeklindeki trafik levhaları bilgilendiricidir.

Okula gelirken yolu değil, yolu seçmeliyiz.

Bisikletimizinuygun olması gerekir.

Bisikletimize güvenle binebilmek için bisikletimizin ve çalışır durumda olmalıdır.

3) Bazı levhalar uyarıcı, bazıları bilgilendirici ve bazıları da yasaklayıcıdır. Aşağıdaki levhaların anlamlarını yazınız. (10 puan)

4) Aşağıdaki trafik levhasının anlamı nedir? (5 puan)



- A) Alt geçit B) Yaya geçidi C) Okul geçidi D)Yaya giremez

5) Aşağıdaki trafik levhası neyi ifade eder? (5 puan)



- A) Bisiklet giremez B)Bisiklet çıkamaz C) Yaya giremez D)Yolcu giremez

6) Bir yolun güvenli olabilmesi nelerin bulunması gerekmez? (5 puan)

- A) Yaya kaldırımı B) Trafik işaret cihazı C) Yol çizgisi D)Tümsek ve çukurlar

7) Aşağıdakilerden hangisi kara yolunda karşıya geçişlerde kullanmamız gereken güvenli geçiş yerlerinden değildir ? (5 puan)

- A)Alt geçit B) Üst geçit C)Yan geçit D) Okul geçidi

8) Aşağıdakilerden hangisi trafik kazalarının nedenlerindedir? (5 puan)

- A) Trafik kurallarına uymak B) Dikkatli olmak
C) Emniyet kemeri takmak D) Uykusuz araç kullanma

9) Trafiği düzenlemek için kullanılan özel işaretlerin tümüne ne denir? (5 puan)

- A) Levha B)Tabela C) Trafik işareti D)Pano

10) Araçlarda bulunmayan, karayolunda hareketsiz veya hareket halinde bulunan insanlara ne denir? (5 puan)

- A)Yolcu B)Yaya C)Vatandaş D)Sürücü

11) Ulaşım ihtiyacının çok sayıda insanın aynı anda taşınması ile karşılanmasına ne denir? (5 puan)

- A)Çoklu taşıma B)Bütün taşıma C)Toplu taşıma D)Seyahat

12) Bisiklet, kaykay, scooter, paten, kızak vb. araçları kullanırken ne takmamıza gerek yoktur? (5 puan)

- A)Dizlik B)Dirseklik C)Kask D)Güneş gözlüğü

13) Aşağıdakilerde hangisi güvenli oyun alanlarından değildir? (5 puan)

- A) Evimiz bahçesi B) İnşaat alanı C) Okulumuzun bahçesi C) Oyun parkı