

4. SINIFLAR SOSYAL BİLGİLER 1. DÖNEM 2. YAZILI

ADI –SOYADI:..... Sınıfı : No:

PUAN:

1. Aşağıdakilerden hangisini doğal afetlerin önlenmesi için alınabilecek önlemler arasında sayamayız? (5 P)

- A. Sel baskınlarını önlemek için setler yapılmalıdır.
- B. Erozyonu önlemek için yamaçlar teraslanmalıdır.
- C. Toprak kaymasını azaltmak için bitki örtüsü çeşitlendirilmelidir.
- D. Deprem zararlarını azaltmak için evler düz yerlere yapılmalıdır.

2.

- * Ülkemizin pek çok yerinde yaşanma riski vardır.
- * En fazla can ve mal kaybına neden olan afettir.

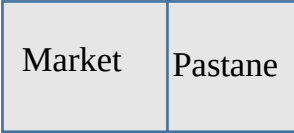
Yukarıda özellikleri verilen doğal afet aşağıdaki-lerden hangisidir?

- A. Heyelan
- B. Sel
- C. Deprem
- D. Çığ

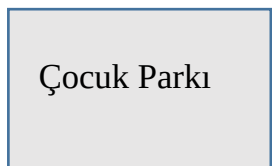
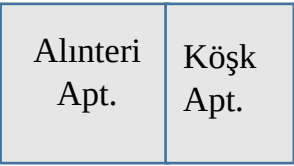
3. Bazı doğal afetlerde hava olaylarının etkisi büyüktür.

Aşağıdaki afetlerden hangisinde hava olaylarının etkisi yoktur?

- A. Deprem
- B. Çığ
- C. Heyelan
- D. Sel



Akyol Caddesi



5. Krokiye göre aşağıdakilerden hangisi yanlıştır?

- A. Marketin güneydoğusunda Köşk Apartmanı bulunmaktadır.
- B. Okulun güneyinde çocuk parkı bulunmaktadır.
- C. Köşk Apartmanı, Alinteri Apartmanı'nın batısındadır.
- D. Akyol Caddesi'nin kuzeyinde market ve pastane vardır.

6. Çocuk Parkı için aşağıdakilerden hangisi söylenemez?

- A. Kuzeyinde okul ve kırtasiye vardır
- B. Kuzeybatısında market ve pastane vardır.
- C. Güneydoğusunda Akyol Caddesi vardır.
- D. Batısında Alinteri ve Köşk Apartmanı vardır.



Bu anlaşmayla ülkemizin bağımsızlığını tüm dünya tanımıştır.

Hatay ili dışında ülke sınırlarımız belirlenmiştir.



7. 24 Temmuz 1923'te imzalanan bu anlaşma aşağıdakilerden hangisidir?

- A. Moskova Antlaşması
- B. Lozan Barış Antlaşması
- C. Mudanya Antlaşması
- D. Gümrü Antlaşması



8. Haritada Kurtuluş Savaşı'nın hazırlık döneminde gelişmelerin yaşandığı şehirler verilmiştir.

Bu şehirlerde yaşanan gelişmelerin kronolojik sıralaması aşağıdakilerden hangisidir?

- A. Samsun – Erzurum – Amasya – Sivas
- B. Amasya – Samsun – Sivas – Erzurum
- C. Samsun – Amasya – Erzurum – Sivas
- D. Erzurum – Amasya – Samsun – Sivas

10. Milli Mücadele döneminde, bazı şehirler kendi imkânlarıyla göstermiş oldukları kahramanlıklar sonrası farklı isimlerde unvanlar almışlardır.

4. 5. 6. soruları yukarıdaki krokiye göre cevaplayınız.

4. Okulun yeriyle ilgili olarak hangisi doğrudur?

- A. Çocuk parkının kuzeyindedir.
- B. Marketin batısındadır.
- C. Kırtasiyenin güneyindedir.
- D. Alinteri Apartmanı'nın kuzeybatısındadır.

4. SINIFLAR SOSYAL BİLGİLER 1. DÖNEM 2. YAZILI YOKLAMA

Aşağıdakilerden hangisi bu illerden birisi değildir?

- A.** Şanlıurfa **B.** Kahramanmaraş
C. Gaziantep **D.** Eskişehir

- 11.** I. Okula kayıt yaptırma
II. Nüfus kağıdı çıkarma
III. Okuldan mezun olma
IV. İş hayatına başlama

Verilen olayların kronolojik sıralaması aşağıdakilerin hangisinde doğru olarak verilmiştir?

- A.** I – IV – III - II **B.** I – II- III - IV
C. II – I – III – IV **D.** I – III – II - IV

12. Aşağıdakilerden hangisi Kurtuluş Savaşı'nın hazırlık döneminde yaşanan gelişmelerden biri değildir?

- A.** Amasya Genelgesi ile Kurtuluş Savaşı'nın amacı ve yönteminin belirlenmesi
B. Erzurum ve Sivas kongreleri ile milli mücadele halk tarafından benimsenmiştir.
C. Yenilikler yapılarak çağdaş ve modern bir toplum oluşturulmuştur.
D. TBMM açılarak ulusal egemenliğe geçiş için önemli bir adım atılmıştır.

13. Aşağıda verilen cümlelerin hangisinde doğal bir unsur geçmektedir?

Aşağıda verilen bilgiler doğru ise başına (D), yanlış ise başına (Y) yazınız. (10 Puan)

- () Mustafa Kemal'in Samsun'a çıkmasıyla Kurtuluş Savaşı başlamış oldu.
() Ermenilerle, Kazım Karabekir önderliğinde Batı Cephesi'nde savaştık
() Ülkemizin ve ilimizin yeryüzü şekillerini tanımak için fiziki haritadan yararlanırsınız.
() Yönler, Güneş'in doğuşu ve batışına göre belirlenir.
() Yeni kimlik belgelerimiz kadınlar ve erkekler için farklı renkte tasarlanmıştır.

Aşağıdaki cümlelerde boş bırakılan yerleri uygun sözcüklerle tamamlayınız. (10 Puan)

Krokide bir yerin üstten görünüşü olarak kağıda çizilir.

Haritalarda üst tarafa daima gösterir.

Mağara ve buzullar unsurlardır.

Hava olaylarının canlılar ve dünya açısından sonuçlarını inceleyen bilim dalına denir.

Geçmiş toplumlara ait kültürel değerler sergilenir.

- A.** Göl kenarındaki ağaçlar çiçek açmış.
B. Öğrenciler hayvanat bahçesini gezdiler.
C. Yeni açılan eğlence parkı çok güzel.
D. Okul bahçesinde öğrenciler top oynuyor.

14. Bulunduğu yer ile ilgili hava grafiği hazırlayan Demir'in grafiğinde aşağıdakilerinin hangisinin bulunmasına gerek yoktur?

- A.** Yağışlı günler
B. Hava sıcaklığının olumsuz etkileri
C. Günlere göre hava durumu
D. Güneşli günler

15. Aşağıdaki ifadelerden hangisi yanlıştır?

- A.** Kutup Yıldızı her zaman kuzeyi gösterir.
B. Karınca yuvalarının ağzı daima güneyi gösterir.
C. Ağaçların yosunlu yüzeyleri kuzeyi gösterir.
D. Yere dikilen çubuğun gölgesinin en kısa olduğu vakit gölge güneydedir.

16. Hangi savaş sonunda Mustafa Kemal'e "gazi" unvanı verilmiştir?

- A.** Büyük Taarruz
B. Sakarya Meydan Muharebesi
C. Çanakkale Savaşı
D. Trablusgarp Savaşı