

Adı :
Soyadı :
Sınıfı :

Matematik Dersi 2.Dönem 2.Yazılı Sınav Soruları

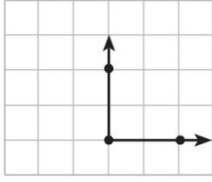
4. SINIF

A. Aşağıdaki çoklukların verilen kesir kadarını bulunuz. (2X5=10 puan)

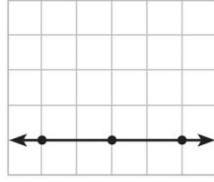
a. 112 sayısının $\frac{3}{8}$ 'ü kaçtır?

b. 102 sayısının $\frac{3}{6}$ 'ü kaçtır?

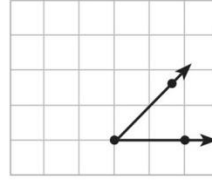
B. Aşağıdaki her açı çeşidine bir örnek çizerek açıları sembolle gösteriniz. (4X5=20 puan)



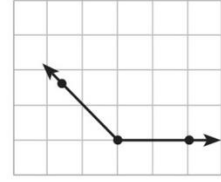
Dik açı



Doğru açı



Dar açı



Geniş açı

C. Aşağıdaki problemleri çözünüz (4X5=20 puan)

1. Mert'in boyu 1m 38 cm'dir. Babasının boyu, Mert'in boyundan 34 cm uzundur. Mert'in babasının boyu kaç santimetredir?

2. Emre 2 saat 15 dakika basketbol antrenmanı yaptı. Emre'nin antrenmanı kaç dakika sürmüştür?

3. 4 ay 3 hafta kaç gündür?

4. Bir terzi 9 m'lik kumaştan 72 cm'lik parçalar kullanarak 6 etek dikti. Kumaştan geriye kaç santimetrelik parça kalmıştır?

D. Aşağıdaki noktalı yerlere uygun sayıları yazınız. (10 x2 =20 puan)

1 cm =mm

2 gün saattir.

150 mm =cm

3 haftagündür.

4500 cm =m

3 aygündür.

14 km =m


4 yılaydır.

45cm =mm

2 saatdakikadır.

E. Aşağıdaki soruların yanıtlarını seçenekler içinden bulup işaretleyiniz. (6 x5 =30 puan)

1.



Yukarıda modeli verilen dikdörtgen 8 eş karenin birleştirilmesinden oluşmuştur. Karelerden birinin çevresi 52 cm olduğuna göre dikdörtgenin çevresi kaç santimetredir?

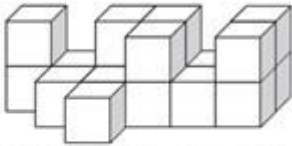
A. 148

B. 156

C. 162

D. 166

2.



Yukarıdaki şekli oluşturmak için kaç tane eş küp kullanılmıştır?

A. 17

B. 18

C. 19

D. 20

3.



Utku, kaleminin boyunu ölçmek için cetvelin yanına görseldeki gibi yerleştirmiştir. Utku'nun kalemi kaç santimetredir?

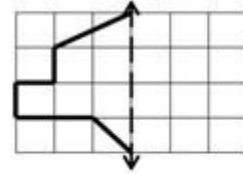
A. 13

B. 14

C. 15

D. 16

4.



Timur, eş birim kareler üzerine çizilmiş olan yukarıdaki şeklin simetrisini çizip tüm şekli boyayacaktır. Timur'un kaç birim kare boyaması gerekir?

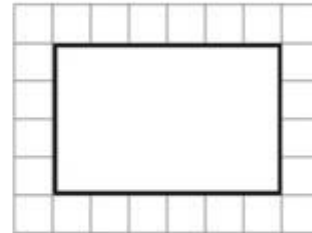
A. 13

B. 14

C. 15

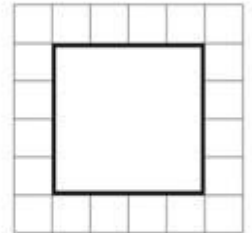
D. 16

5. Aşağıdaki birim kareler üzerine çizilmiş olan şekillerin alan ve çevre uzunluklarını yazınız.



Alan:br²

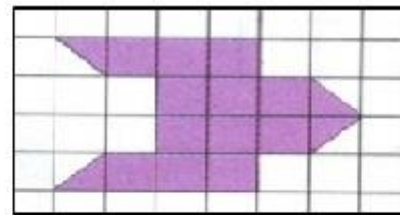
Çevre: br



Alan:br²

Çevre: br

6.



Yukarıda verilen şeklin alanı kaç birim karedir

A. 14

B. 13

C. 16

D. 15