

Adı Soyadı:.....

Sınıfı : 4 No : .....



NOT:

07.06.2022

4. SINIF MATEMATİK DERSİ II. DÖNEM II. YAZILISI

1)Aşağıdaki işlemleri yapınız. (8 puan)

$$\begin{array}{r} 4256 \\ - 2143 \\ \hline \end{array}$$

$$\begin{array}{r} 3142 \\ - 2583 \\ \hline \end{array}$$

$$\begin{array}{r} 5127 \\ + 3261 \\ \hline \end{array}$$

$$\begin{array}{r} 3562 \\ + 2576 \\ \hline \end{array}$$

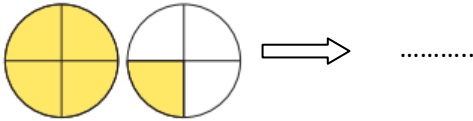
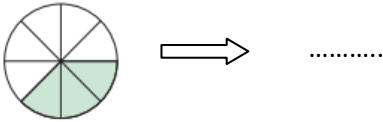
$$\begin{array}{r} 634 \\ \times 25 \\ \hline \end{array}$$

$$\begin{array}{r} 247 \\ \times 34 \\ \hline \end{array}$$

$$946 \overline{) 4}$$

$$298 \overline{) 12}$$

2)Aşağıda modellenen kesirleri karşılarına yazınız.(4 P)



3) Aşağıda verilen işlemleri yapın.(4 puan)

$$\frac{10}{5} + \frac{6}{5} = \frac{\square}{\square} \quad \frac{8}{3} - \frac{4}{3} = \frac{\square}{\square}$$

4) Aşağıdaki zaman çevirmelerini yapın.(4 puan)

5 dakika = ..... saniye

3 saat = ..... dakika

2 gün = ..... saat

4 hafta = ..... gün

5) Aşağıdaki uzunluk çevirmelerini yapınız.(4 puan)

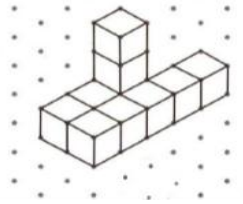
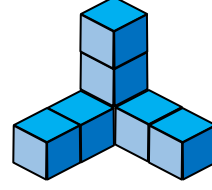
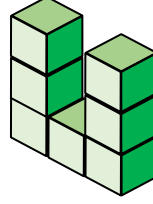
800 cm = ..... m

7 km = ..... m

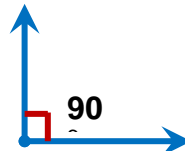
7 m 8 cm = ..... cm

11 000 m = ..... km

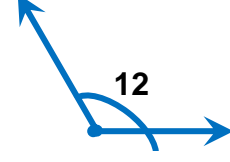
6)Aşağıdaki yapıların kaç birim küpten oluştuklarını altlarına yazınız.(6 puan)



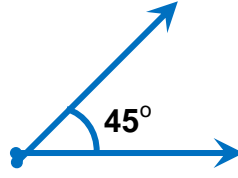
7) Aşağıdaki açıların çeşitlerini yazınız.(8 puan)  
(Geniş-Dar- Dik- Doğru açı)



.....



.....

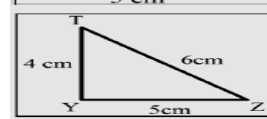
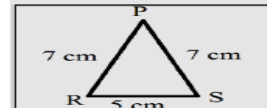
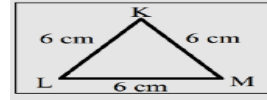


.....



.....

8) Aşağıdaki üçgenleri kenar uzunluklarına göre çeşitleriyle eşleştiriniz. (6 puan)

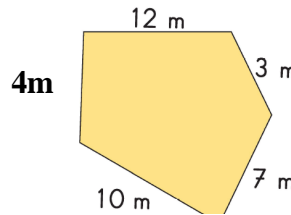


Çeşitkenar Üçgen

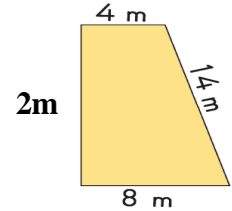
Eşkenar Üçgen

İkizkenar Üçgen


9)Aşağıda verilen şekillerden çevrelerini ve alanlarını hesaplayınız. (3x4=12 puan)



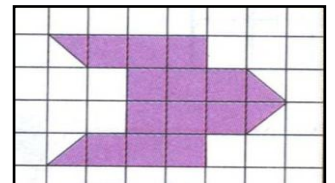
Çevre=.....



Çevre=.....

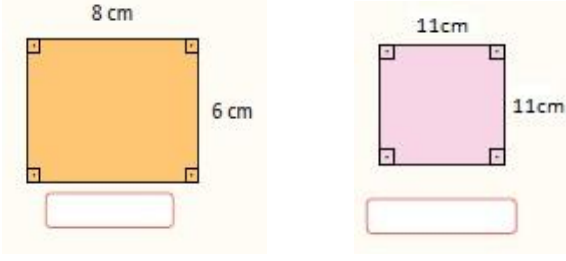


Alan=.....



Alan=.....

10) Aşağıdaki şekillerin alanlarını bulunuz.(4 puan)



11) Çoktan seçmeli ve problemleri çözünüz.

(Her soru 4 puandır.)

1) Aşağıdakilerden hangisi yanlıştır?

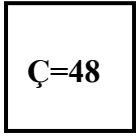
- A) Camın kalınlığını **mm** ile ölçeriz.
- B) Silgimizin uzunluğunu **mm** ile ölçeriz.
- C) Sınıfımızın kapısını **m** ile ölçeriz.
- D) Mersin-Antalya arasını **cm** ile ölçeriz.

2) Aşağıdaki uzunluklardan hangisini ölçerken milimetre(mm) kullanılmaz?

- A) Çivinin ucu
- B) Saç telinin kalınlığı
- C) Perdenin boyu
- D) Küp şekerin yüksekliği

3) Belli bir mesafeyi 2 dakika 58 saniyede koşan bir sporcu, bu mesafeyi toplam kaç saniyede koşmuştur?

- A) 120    B) 158    C) 168    D) 178



4) Çevresi 48 cm olan bir karenin alanı nedir?

- A) 96    B) 144    C) 176    D) 192

5) Elindeki 8 m kumaşın 4m 30 cm'sini elbise dikmek için kullanan terzinin geriye kaç cm kumaş kalmıştır?

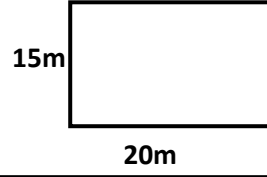
- A) 350    B) 360    C) 370    D) 470

6) 90 sayfalık kitabın  $\frac{4}{6}$ ' ünü okuyan Selim'in okuması gereken kaç sayfası kalmıştır?

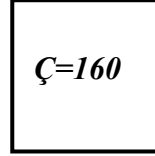
- A) 30    B) 60    C) 45    D) 40

6) Mehmet Bey kısa kenarı 15m, uzun kenarı 20m olan dikdörtgen şeklindeki bahçesinin etrafına 2 sıra tel çekiyor. Mehmet Bey bahçesi için kaç m tel kullanmıştır?

Çözüm:



7) Çevresi 160 m olan kare biçimindeki bir tarlanın bir kenar uzunluğu kaç metredir?

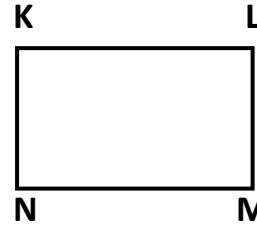


Çözüm:

8) 140 lira paranın  $\frac{4}{7}$ ' ü kaç lira eder?

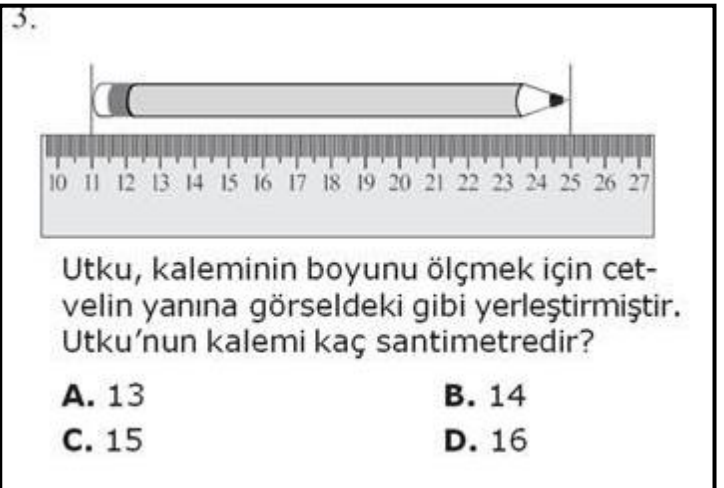
- A) 245
- B) 60
- C) 80
- D) 235

9) Aşağıdaki dikdörtgene verilen adlardan hangisi yanlış olmuştur?



- A) LMNK
- B) NKML
- C) MNKL
- D) KLMN

10)



Utku, kaleminin boyunu ölçmek için cetvelin yanına görseldeki gibi yerleştirmiştir. Utku'nun kalemi kaç santimetredir?

- A. 13    B. 14
- C. 15    D. 16