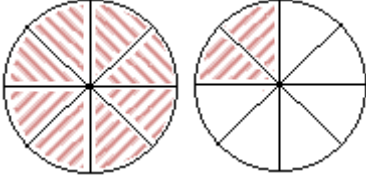
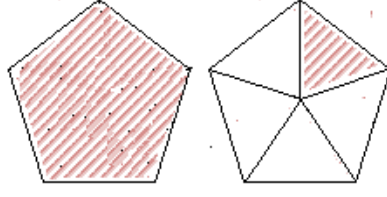


MATEMATİK 2. DÖNEM 1. YAZILISI


1 – Aşağıda modellenen kesirleri yazınız.



.....

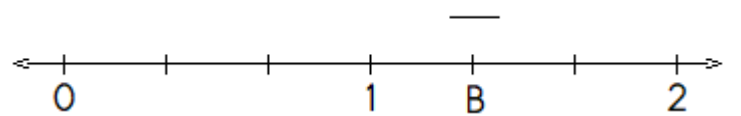
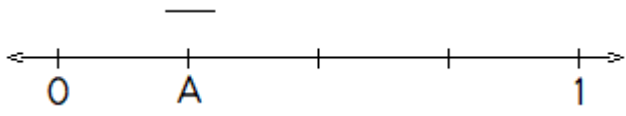


.....



.....

2 – Aşağıda sayı doğrusunda gösterilen noktaları kesirleri yazınız.



3 – Aşağıda modellenen işlemleri yapınız. (8 puan)



..... + =



..... - =

4 – 23 Ekim 1993 tarihinde doğan Ege 'nin yaşını gün , ay , yıl olarak hesaplayınız.
(27 Mart 2023)

5 – Bir şişedeki kolonyanın $\frac{3}{8}$ ' ü kullanılıncaya şişede 250 mL kolonya kalıyor. Şişe tam doluyken kaç mililitre kolonya vardı ?

6 – Zaman ölçme birimlerini çeviriniz.

* 140 dk = sa dk

* 5 dk 45 sn = sn

* 217 gün = ay gün

* 5 yıl 5 ay = ay

MATEMATİK 2. DÖNEM 1. YAZILISI

1 – Aşağıdaki kesirlerden hangisi en büyüktür ?

- A) $\frac{7}{7}$ B) $\frac{7}{9}$ C) $\frac{7}{3}$ D) $\frac{7}{11}$
-

2 – $\frac{7}{\square - 3}$ Yandaki kesrin basit

kesir olabilmesi için " \square " yerine yazılabilecek en küçük sayı kaçtır ?

- A) 11 B) 10 C) 5 D) 4
-

3 – Bir otobüste bulunan yolcuların $\frac{4}{9}$ 'ü kadın , $\frac{15}{15}$ 'ü erkek , diğerleri çocuktur.

Yolcuların kaçta kaç çocuktur ?

- A) $\frac{2}{15}$ B) $\frac{3}{15}$ C) $\frac{5}{15}$ D) $\frac{13}{15}$
-

4 – Sınıfımızdaki 36 öğrencinin $\frac{4}{9}$ 'ü erkektir. Sınıfta kaç tane kız öğrenci vardır ?

- A) 12 B) 16 C) 20 D) 36
-

5 – Miraç , gideceği yolun $\frac{3}{10}$ 'ünü gittikten sonra geriye 420 m yolu kaldı. Miraç 'ın gideceği yolun tamamı kaç metredir ?

- A) 400 B) 600 C) 800 D) 840
-

6 – Duru , 81 sayfa kitabın $\frac{4}{9}$ 'ini okudu. Duru'nun okuyacağı geriye kaç sayfa kaldı ?

- A) 36 B) 42 C) 45 D) 48
-

7 – Kantine sabah gelen 96 simidin öğleden önce $\frac{5}{8}$ 'i, öğleden sonra $\frac{2}{8}$ 'si satılıyor. Kantinde satılmayan kaç simit kalmıştır ?

- A) 12 B) 24 C) 36 D) 48
-

8 – 10.45 ' te ödev yapmaya başlayan Meteali 85 dakika sonra ödevini bitirmiştir. Ödevi bittiğinde saat kaç gösterir ?

- A) 11.50 B) 12.00
C) 12.10 D) 12.20

MATEMATİK 2. DÖNEM 1. YAZILISI

9 – Aşağıdaki yılların hangisinde şubat ayı 29 gündür ?

- A) 1950 B) 1952
C) 1970 D) 2082

10 – Bir otobüs durağından 15 dakika arayla otobüs geçmektedir. İlk otobüs 06.50'de geçtiğine göre beşinci otobüs saat geçer ?

- A) 07.50 B) 07.55
C) 08.00 D) 08.05

11 – Annem ilk işinde 1 yıl 4 ay 3 hafta çalıştıktan sonra istifa etmiştir. Annem kaç gün çalışmıştır ?

- A) 496 B) 501
C) 506 D) 516

12 – Okulumuzda bir ders 40 dakika , teneffüsler ise 10 dakikadır. İlk ders 09.00 'da başladığına göre dördüncü ders saat kaçta biter ?

- A) 12.10 B) 12.20
C) 12.30 D) 12.40

13 – 20.35 'te başlayan bir film 1 saat 45 dakika sürmüştür. Buna göre film saat kaçta bitmiştir ?

- A) 21.50 B) 22,00
C) 22.10 D) 22.20

14 – Duvar saatimiz , bir saatte 3 dakika ileri gidiyor.



7 saat sonra saat kaç gösterir ?

- A) 07.21 B) 10.21
C) 11.21 D) 12.21

Not Baremi : 1 , 2. sorular 6 puan ;
3 , 4 , 5 ve 6. sorular 8 puan
çoktan seçmeli sorular 4 puandır.



Başarılar dilerim.