

www.eaitimbane.com

1. Binler basamağında sıfır , yüzler basamağında 5 olan en küçük 6 basamaklı rakamları farklı bir doğal sayı ile 88 749 sayısının toplamı kaçtır ?

ÇÖZÜM :



2. Üç toplananlı bir toplama işleminde 1.toplanan 100 200'dür. 2. ve 3. toplanan , 1. toplanandan 71 248 fazla ise bu üç sayının toplamı kaçtır ?

ÇÖZÜM :



3. 184 076 sayısının on binler ve yüzler basamağındaki rakamlarının yerleri değiştirildiğinde oluşacak sayı ile toplamı kaçtır ?

ÇÖZÜM :



4. Edirne ile Kars arası 1672 km dir .Sinop ile Hatay arası ise 1 003 km ' dir . İki seyahati yapan birisi toplam kaç km yol gitmiştir ?

ÇÖZÜM :




5. 67 854 sayısı ile rakamları birbirinden farklı 5 basamaklı en büyük çift sayının toplamı kaçtır ?

ÇÖZÜM :




6. Bir manav, 18 645 kg soğan ,
64 025 kg patates ve soğanlardan
13 024 kg fazla domates satmıştır.
Acaba bu manav toplam kaç kg
ürün satmıştır ?

ÇÖZÜM :




7. Galatasaray kulübünün ilk ma-
çında 44 714 , ikinci maçında 39
075 ve 3. maçında 41 987 kişi
maça gelmiştir . Acaba bu üç maçta
toplam kaç seyirci maça gelmiştir ?

ÇÖZÜM :




8. İki doğal sayının toplamı 204741
dir . Sayılardan birine 101 254 ,
diğerine 166 008 eklenirse yeni top-
lam kaç olur ?

ÇÖZÜM :



9. 1-3-5-0-2 sayılarını birer kez
kullanarak yazılabilecek 5 basamaklı
en büyük çift sayı ile en küçük çift
sayının toplamı kaçtır ?

ÇÖZÜM :



10. 3-7-9-4-5-1 rakamlarını
kullanarak yazılabilecek 6 basamaklı
en küçük tek sayı ile bu rakamların
toplamının toplamı kaçtır ?

ÇÖZÜM :

