

"Ey kahraman Türk kadını! Sen, yerde sürüklenmeye değil, omuzlar üzerinde göklere yükselmeye layıksın."

(M. K. Atatürk)



"Dünyada her şey kadının eseridir."  
(M. K. Atatürk)

"Daha emin ve daha doğru olarak yürüyeceğimiz bir yol vardır: Büyük Türk kadınına çalışmamıza ortak kılmaktır."

(M. K. Atatürk)



"Dünyada hiçbir milletin kadını, ben Anadolu kadınından fazla çalıştım, milletimi kurtuluşa ve zafere götürmekte Anadolu kadını kadar emek verdim, diyemez!"

(M. K. Atatürk)

"Milletimiz güçlü bir millet olmaya azmetmiştir. Bunun gereklerinden biri de kadınlarımızın her konuda yükselmelerini sağlamaktır."

(M. K. Atatürk)



**Etkinlik:** Aşağıda karışık olarak verilen kelimelerin doğrularını yazarak anlamını bulunuz. Bulmacaya yazınız.

1 A K A R N M H A → ○ ○ ○ ○ ○ ○ ○ ○ ○ ○

Anlamı : .....

.....

2 R S E E → ○ ○ ○ ○

Anlamı : .....

.....

3 F Z E R A → ○ ○ ○ ○ ○

Anlamı : .....

.....

4 M E E K → ○ ○ ○ ○

Anlamı : .....

.....

5 L L E T M İ → ○ ○ ○ ○ ○ ○

Anlamı : .....

.....

6 R T L K U U U Ş → ○ ○ ○ ○ ○ ○ ○ ○

Anlamı : .....

.....

**Etkinlik:** Atatürk'ün kadınlarla ilgili söylediği sözlerden en çok hangisini beğendiniz?



**Etkinlik:** Yazdığınız sözden anladıklarınızı aşağıya yazınız.




**Etkinlik:** Verilen sözlerin ortak özellikleri nedir? Konusunu ve ana fikrini yazınız.



Konu : .....

Ana fikir: .....

**Etkinlik:** Metinle ilgili bir resim yapınız.



## Bisikletim Vız Vız

Babaları söz vermişti. O gün işten erken gelecekti. Birlikte bisiklet almaya gideceklerdi.

Bisiklet satıcısı, güler yüzlü bir insandı. Ali ile Ayşe, hemen her gün bu dükkâna uğrarlardı. Onun için satıcı onları iyi tanıyordu.

- Gelin bakalım, gelin, dedi. Evet, senin mavi orada duruyor, senin kırmızı da burada... İkisinin de tozunu aldım. Bisikletleriniz hazır.

İkisi de bisikletlerin dümeninden tuttu. Bisiklet satıcısı:

- Çok dikkatli binin çocuklar, dedi. Yolun sağından gidin. Bisikletin üzerinde cambazlık yapmayın. Hızlı da sürmeyin, dedi.

İkisi de bisikletlerine bindiler. Ali'nin babası:

- Ne duruyorsunuz, dedi. Haydi, siz gidin!


Çocuklar sanki bu sözü bekliyormuş gibi basiverdi pedallara. Kırmızı cızladı, mavi vızladı. Ali ile Ayşe'nin en mutlu günlerinden biriydi bugün.

Muzaffer İZGÜ



**Etkinlik:** Yandaki görseli istediğiniz gibi boyayınız. Metnin konusunu ve ana fikrini yazınız.

Konusu .....

Ana Fikri .....



**Etkinlik:** Aşağıdaki soruları metne göre cevaplayınız.



**Etkinlik:** Aşağıdaki bulmacada metinde geçen bazı kelimeler gizlenmiştir. Kelimeleri bulup cümlede kullanınız.

D Ü M E N S H

Ü S S P Z M K

K A A E E U F

K T N D K T S

A I E A İ L B

N C M L Y U Y

T I A E E İ S

C A M B A Z M

1) .....

2) .....

3) .....

4) .....

5) .....

6) .....



Bir öğle vaktiydi. Bir kuş, kumun üzerinde çaresizce çırpınıp duruyordu. Kuş ile evin arası, fazla uzak değildi. Hava, güneşli olmasına rağmen kimsecikler yoktu. Çocuk, kapıyı açtı ve dışarı çıktı. Kuşun bulunduğu yere doğru koşmaya başladı.



Ömer SEYFETTİN

**Etkinlik:** Aşağıdaki ilk üç soruyu metne göre cevaplayınız.

1 Olayın kahramanları kimlerdir?

.....

.....

.....

2 Olay, ne zaman olmuştur?

.....

.....

.....

3 Metnin başlığı sizce ne olabilir?

.....

.....

.....



**Etkinlik:** Metinde geçen kelimeleri anlamlarıyla eşleştiriniz. (Kuşların kafese girmesine yardım eder misiniz?)



Çözüm yolu olmayan





Yan, taraf



Bir acı etkisiyle kendini yerden yere atmak




Kim olduğu bilinmeyen kişi





Çok öteelerde olan



Bütün canlıların sorunumunu sağlayan gaz karışımı



**Etkinlik:** Aşağıdaki görselleri boyayınız. Bu görsellerle ilgili birer cümle kurunuz.



**Etkinlik:** Aşağıda cevapları verilen cümlelere uygun sorular yazınız.

.....?  
En çok elma ve muz seviyorum.

.....?  
Atatürk, 1881 yılında doğdu.

.....?  
Çocuklar, parkta oyun oynuyorlar.

.....?  
Arkadaşıyla sinemaya gitti.

.....?  
Hayatta en çok ailemi seviyorum.

.....?  
İzmir Karşıyaka'da oturuyor.

**Etkinlik:** Aşağıdaki cümlelerin sonuna noktalama işaretlerinden uygun olanlarını yazınız.


🐟 Aaaa ( ) merdivenden düştüm ( ) 🐟 Ben anlamadım ki ( )

🐟 Bunu kim yaptı ( )

🐟 Elma ( ) armut ( ) muz en sevdiğim meyveler ( )

🐟 Sen çok başarılı bir çocuksun ( )

**Etkinlik:** Aşağıdaki görsellere uygun bir hikâye yazınız.



A large empty rectangular box with a green border, intended for writing a story based on the images above.



• Hikâyemi yazarken noktalama işaretlerine dikkat ettim mi?

.....

• Hikâyemi görsellere uygun seçtim mi?

.....



## İSTİKLÂL MARŞI

Korkma, sönmez bu şafaklarda yüzen al sancak,  
Sönmeden yurdumun üstünde tüten en son ocak.  
O benim milletimin yıldızıdır, parlayacak,  
O benimdir, o benim milletimindir ancak



Çatma, kurban olayım, çehreni ey nazlı hilal!  
Kahraman ırkıma bir gül! Ne bu şiddet, bu celal?  
Sana olmaz dökülen kanlarımız sonra helal...  
Hakkıdır, Hakk'a tapan, milletimin istiklâl!  
(Mehmet Âkif ERSOY)



☞ Aşağıdaki soruları metne göre cevaplayınız.



1

İstiklâl Marşı' nın şairi kimdir?

.....



2

İstiklâl Marşı' nın konusunu ve ana fikrini yazınız.

Konu: .....

.....

Ana Fikri: .....

.....



3

Şair, birinci dörtlükte "Korkma!" diyerek kime sesleniyor?

.....

**Etkinlik:** Aşağıda şiirde geçen bazı kelimeler karışık olarak verilmiştir. Kelimeleri yazıp bulmacada bulunuz. Anlamını bilmediğiniz üç tane kelimenin anlamını sözlükten bularak cümlede kullanınız.

2 E İ M L L T

.....

3 A K R H M N A A

.....

4 Ş E D T İ D

.....

5 Ş A A F K

.....

1 R K İ

.....

6 İ L A H L

.....

7 L L E C A

.....



K	Ş	T	L	Y	Ş	S
A	A	K	H	İ	İ	M
H	F	N	İ	R	D	S
R	A	C	L	K	D	Ş
A	K	E	A	T	E	T
M	İ	L	L	E	T	L
A	R	A	O	Ö	T	R
N	Y	L	M	N	L	M



1-.....: .....

Cümle : .....

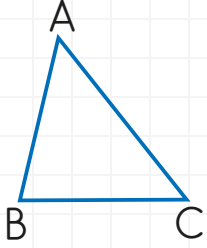
2-.....: .....

Cümle : .....

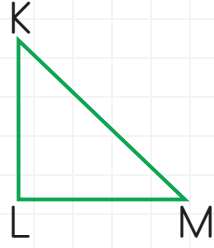
3-.....: .....

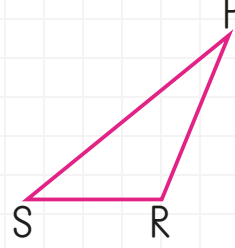
Cümle : .....

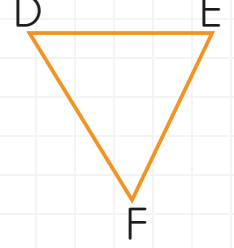
**Etkinlik:** Aşağıdaki üçgenleri isimlendiriniz.



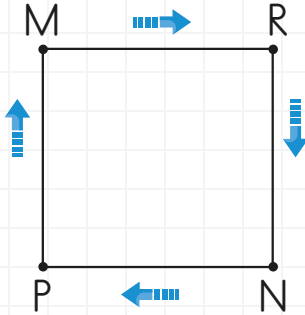
ABC	CBA



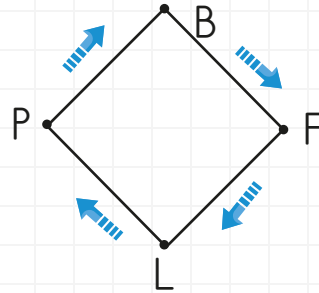



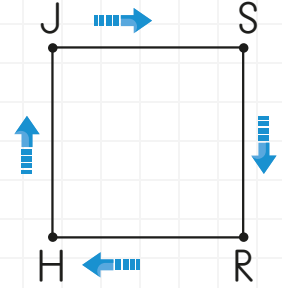




**Etkinlik:** Aşağıdaki kareleri ok yönlerine dikkat ederek farklı şekillerde isimlendiriniz.




MRNP karesi

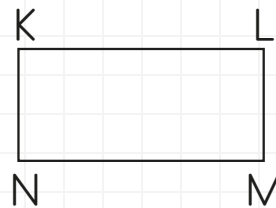




**Etkinlik:** Aşağıdaki şekiller isimlendirilmiştir. Doğru olan kutuları yeşile, yanlış olanları kırmızıya boyayınız.

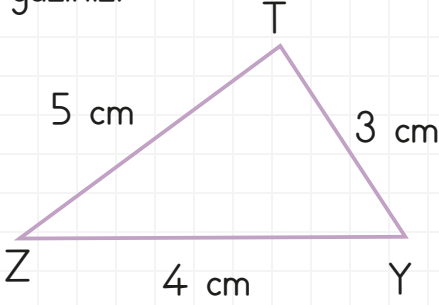


- OPRS karesi
- RPSO karesi
- PSRO karesi
- OSRP karesi

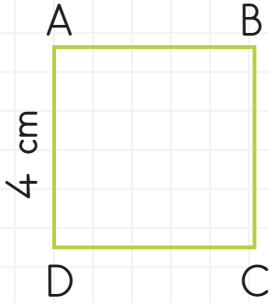
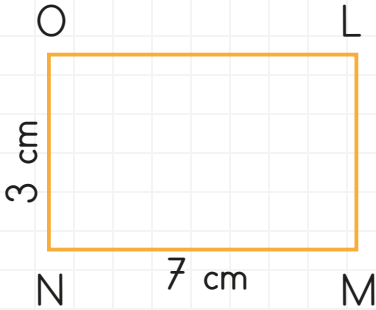


- NLMK dikdörtgeni
- NKLM dikdörtgeni
- KMNL dikdörtgeni
- MNKL dikdörtgeni

**Etkinlik:** Aşağıdaki şekillerin kenarlarını ve kenar uzunluklarını örnekteki gibi yazınız.

Kenarları [TY] veya  $\overline{TY}$ Uzunlukları 

|TY| = 3 cm

Kenarları Uzunlukları Kenarları Uzunlukları 

**Etkinlik:** Aşağıdaki dikdörtgene göre doğru ifadelerin başına **D**, yanlış olanlara **Y** yazınız.

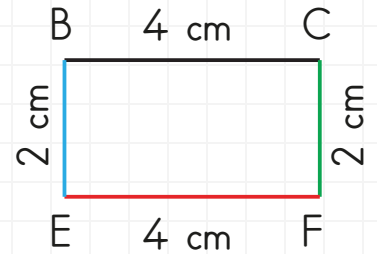
 Yeşil kenarı [CF] 'dir.

  $|BE| = |EF|$ 
 Kırmızı kenarı  $\overline{EB}$  'dir.

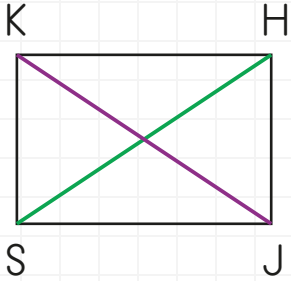
 Mavi kenarı [BE] 'dir.

  $|BC| = |EF|$ 
 CEBF dikdörtgeni olarak isimlendirilebilir.

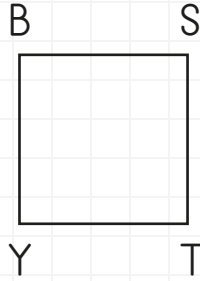
 4 kenarı ve 4 köşesi vardır.

 Bütün kenar uzunlukları birbirine eşittir.



**Etkinlik:** Aşağıdaki şekillerin köşegenlerini örnekteki gibi çizin ve isimlerini yazınız.



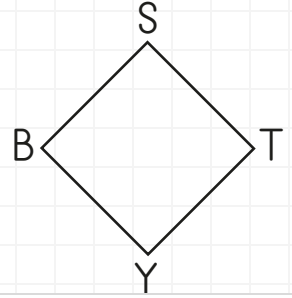
...[H. S], [K. J]



.....

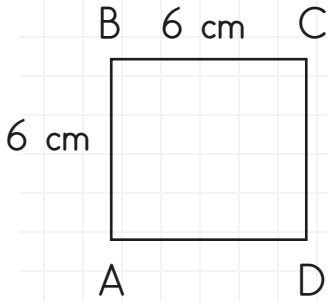


.....



.....

**Etkinlik:** Aşağıdaki şekillerin kenar uzunluklarını yazınız. Köşegenlerini belirleyiniz.

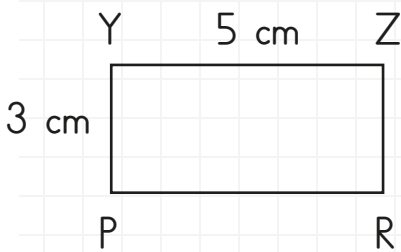


Kenar uzunlukları

...|AB| = 6 cm

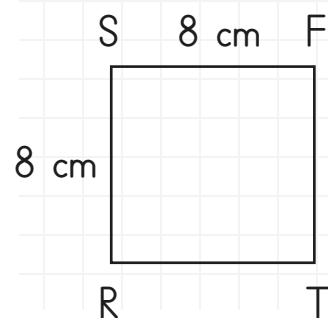
Köşegenleri

...[AC] köşegeni



Kenar uzunlukları

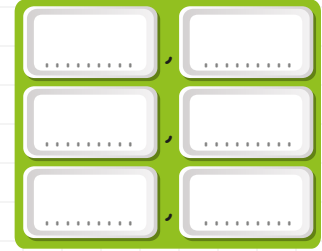
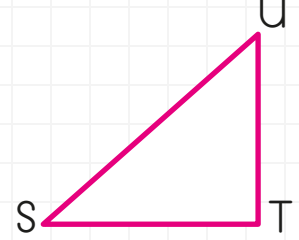
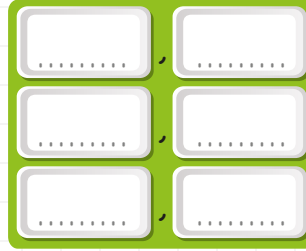
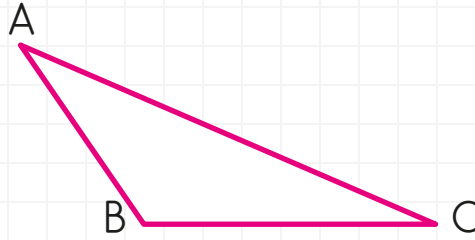
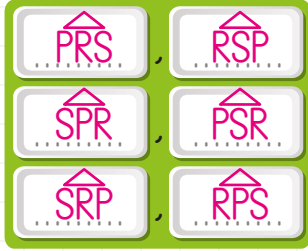
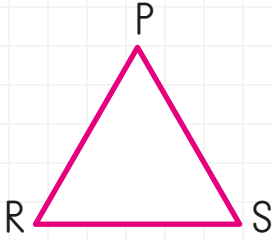
Köşegenleri



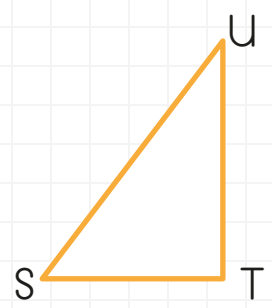
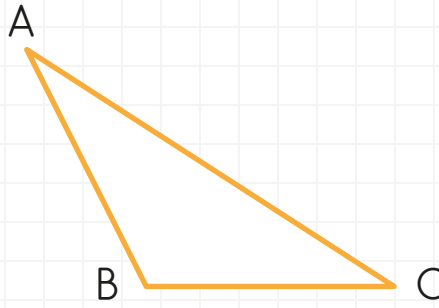
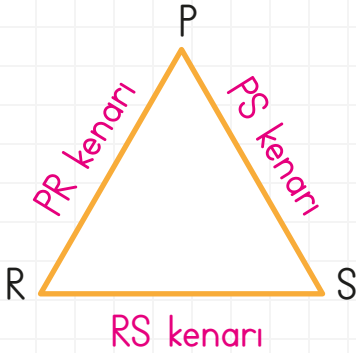
Kenar uzunlukları

Köşegenleri

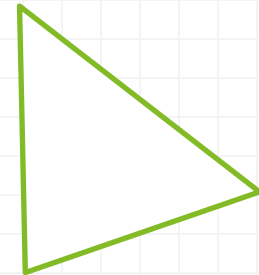
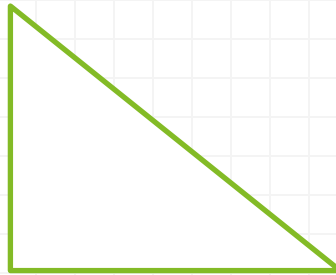
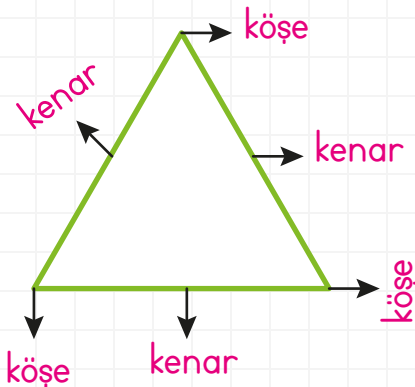
**Etkinlik:** Aşağıda verilen üçgenleri isimlendiriniz.



**Etkinlik:** Aşağıdaki üçgenlerin kenar isimlerini yazınız.



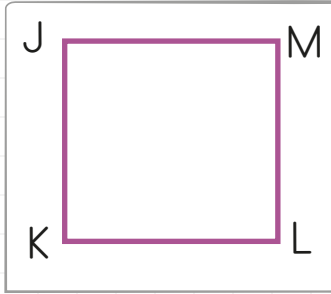

**Etkinlik:** Aşağıdaki üçgenlerde örnekteki gibi köşe ve kenarları gösterip yazınız.

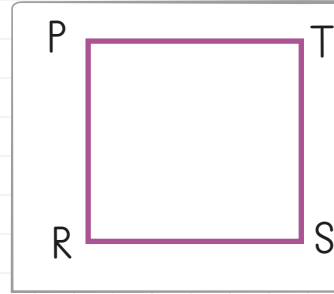



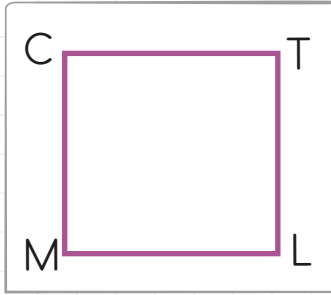

**Etkinlik:** Aşağıda verilen karelerin adlarını yazınız.

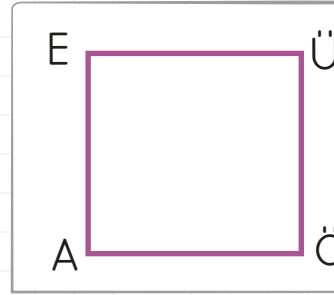
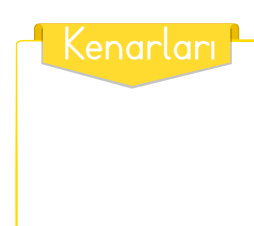
	➤ DEFG karesi	veya	➤ GFED karesi
	➤ EFGD karesi		➤ F..... karesi
	➤ FGDE karesi		➤ E..... karesi
	➤ GDEF karesi		➤ D..... karesi

**Etkinlik:** Aşağıdaki karelerin kenarlarını yazınız.

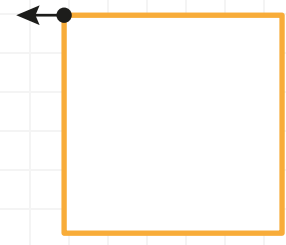


	
--	--

	
---	--


	
---	---

	
--	---


**Etkinlik:** Aşağıdaki karelerde ok ile gösterilen bölümlerin isimlerini yazınız.



**Etkinlik:** Aşağıdaki kareleri isimlendiriniz.



..... karesi  
..... karesi  
..... karesi



..... karesi  
..... karesi  
..... karesi

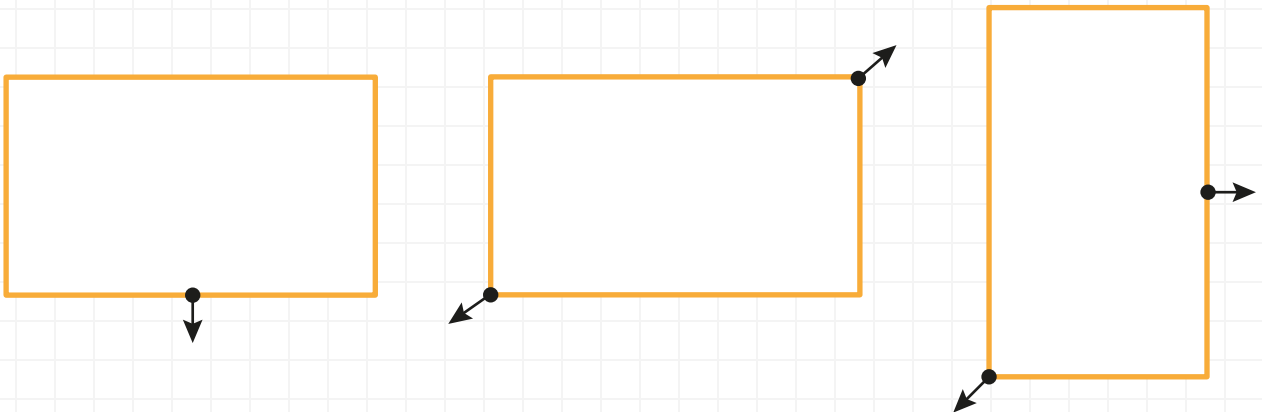
**Etkinlik:** Aşağıda verilen dikdörtgenlerin adlarını yazınız.

N	T	➤	N.M.L.T	dikdörtgeni	H	S	➤	.....	dikdörtgeni
█	█	➤	M.T.	dikdörtgeni	█	█	➤	.....	dikdörtgeni
█	█	➤	L.N.	dikdörtgeni	█	█	➤	.....	dikdörtgeni
M	L	➤	T.M.L	dikdörtgeni	M	C	➤	.....	dikdörtgeni

**Etkinlik:** Aşağıdaki dikdörtgenlerin kenarlarını yazınız.

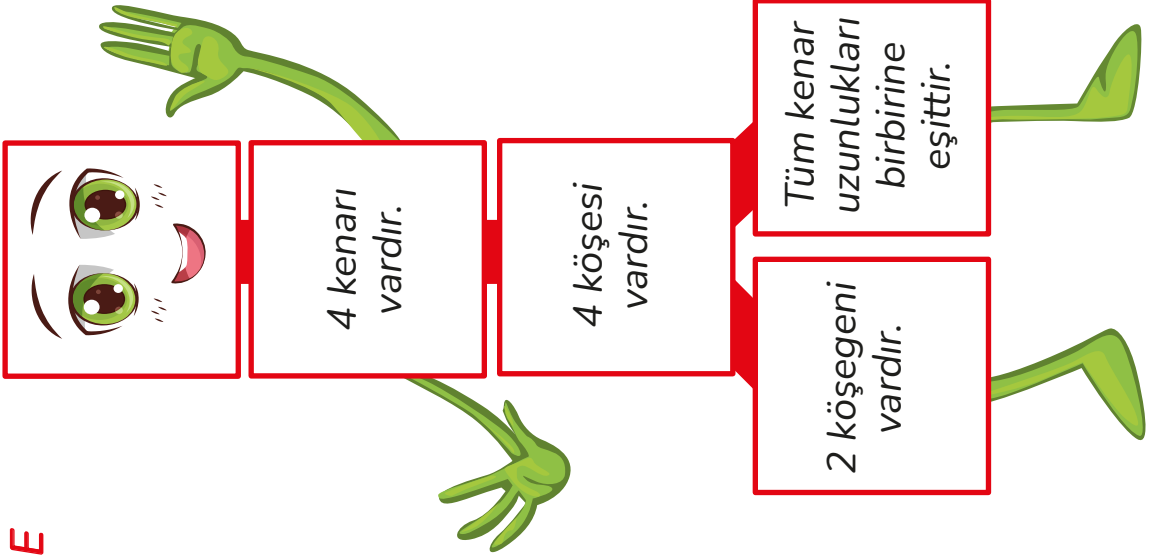
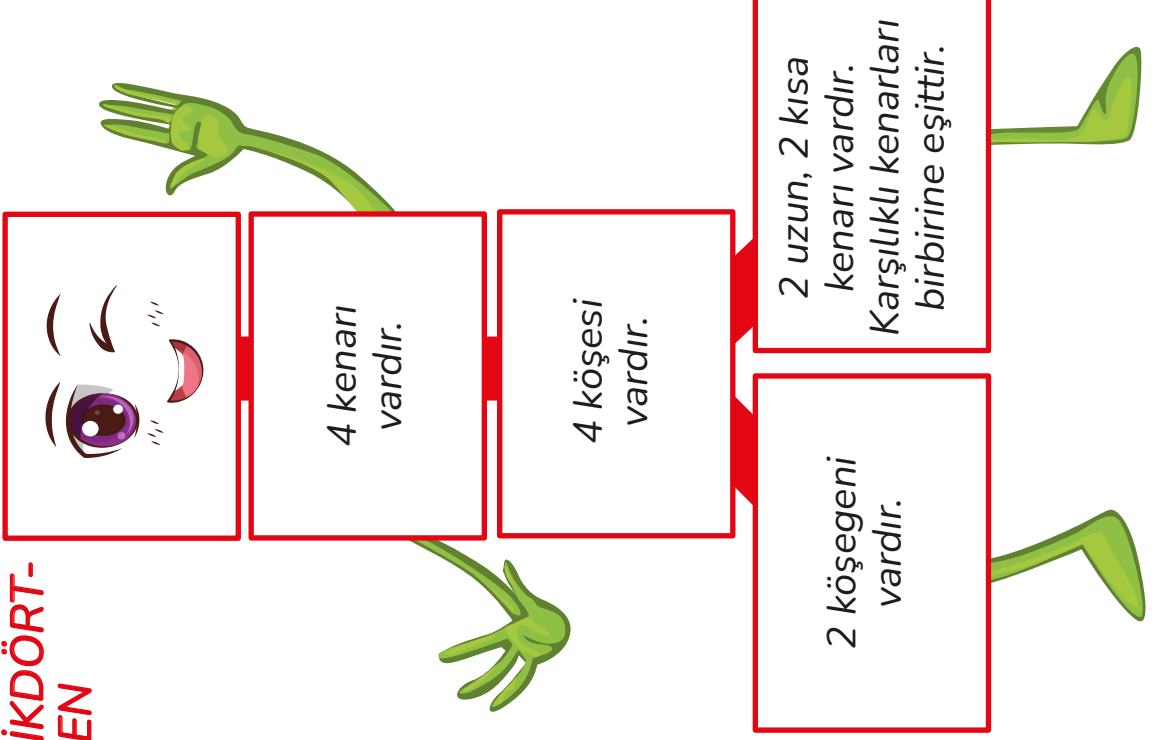
S	B	Kenarları	S	B	Kenarları
M	C		M	C	
K	M	Kenarları	S	i	Kenarları
B	R		E	N	

**Etkinlik:** Aşağıdaki dikdörtgenlerde ok ile gösterilen bölümlerin isimlerini yazınız.








**Etkinlik:** Kare ve dikdörtgenin özelliklerini okuyunuz. Çevrelerinden kesip defterinize yapıştırınız.

**KARE****DIKDÖRT-  
GEN**

**Etkinlik:** Aşağıda verilen görsellerden hangileri uygun aydınlatmaya örnektir? Görsellerin altındaki yüzleri boyayarak belirtiniz.



**Etkinlik:** Aşağıdaki bilgiler doğru ise gülen yüz, yanlış ise üzgün yüz yapınız.



Enerji israfını engellemek için aydınlatmanın doğru yapılması gerekir.



Aydınlatılacak ortamlarda ışık kaynağı, ortamın büyüklüğüne göre seçilir.



Ders çalışırken aydınlatma sol üst taraftan gelmelidir.



Uygun aydınlatma, göz yormamalıdır.



Oturmadığımız odanın lambalarını açık bırakmalıyız.



Uygun aydınlatma, doğru yerde olmalıdır.



Ders çalışırken az ışık veren ışık kaynağı kullanılmalıdır.



Uygun olmayan aydınlatma, göz sağlığımızı olumlu etkiler.



Aydınlatma teknolojisi hayatımızı olumsuz etkiler.



Güneş'e çıplak gözle bakmakta hiçbir sakınca yoktur.



Okulumuzda ışıkları her zaman açık tutmalıyız.



Uygun aydınlatma, doğru renkte olmalıdır.

**Etkinlik:** Aşağıdaki cümleleri uygun kelimelerle doldurup bulmacaya yazınız.

- 1 Aydınlatma teknolojisi, toplum yaşamını ..... yünden etkiler.
- 2 Sokak lambaları ..... gösterir şekilde aydınlatılmalıdır.
- 3 Uygun aydınlatma, ..... yormaz.
- 4 Enerji israfını engellemek için ..... aydınlatma yapılmalıdır.
- 5 Işık enerjisinin ..... kullanılması ülke ekonomisine katkı sağlar.
- 6 ..... olmayan aydınlatma, ışık kirliliğine sebep olur.
- 7 Evi aydınlatırken gereğinden fazla ..... kullanmamalıyız.

doğru

yolu

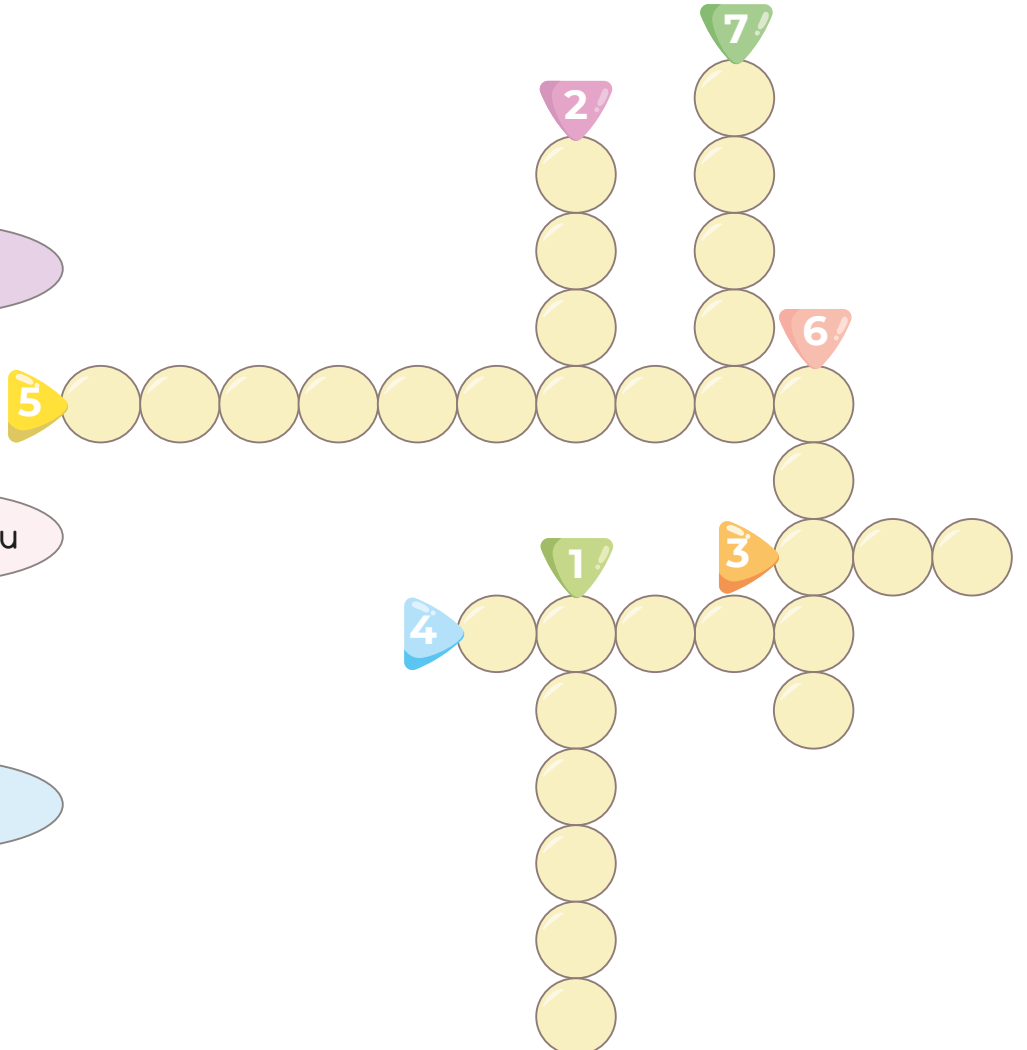
uygun

tasarruflu

ampul

olumlu

göz




**Etkinlik:** Aşağıdaki bulmacada aydınlatma ile ilgili gizlenen kelimeleri bulup kalan harflerle şifreyi bulunuz.

M	E	Ş	A	L	E	A	T	E	Ş
U	G	U	M	Y	G	U	N	P	F
M	Ü	L	P	A	G	Y	L	A	L
K	N	A	U	D	Ö	I	E	R	O
A	E	M	L	N	Z	L	D	L	R
N	Ş	B	A	T	M	A	K	A	E
D	U	A	L	L	A	N	M	K	S
İ	A	L	L	A	Z	E	R	I	A
L	T	A	S	A	R	R	U	F	N
H	A	L	O	J	E	N	Y	I	Z
E	D	İ	S	O	N	I	Ş	I	K

Şifre




**Etkinlik:** Yukarıdaki bulmacada bulduğunuz aydınlatma araçlarından beş tanesini aşağıdaki trene geçmişten günümüze kullanımına göre yazınız.



**Etkinlik:** Aşağıda açıklamalarla verilen kelimeleri eşleştiriniz.

Mal ve hizmetlerin sağlanması.

A Tüketim

Mal ve hizmetlerin tüketiciye ulaştırılması.

B Üretim








Mal ve hizmetlerin kullanılması.

C Dağıtım

**Etkinlik:** Aşağıdaki ifadeleri okuyunuz. Sizce hangileri bilinçli tüketicidir? İşaretleyiniz.

Yabancı ürünler ilk tercihimdir.	Satıcılar benim kararlarımı çabuk etkiliyor.	Tartılacak bir ürün aldığımda ölçü aletini kontrol ederim.
		
Çikolata alacağım zaman en çok reklamı olanı alırım.	Her alışverişten sonra mutlaka fiş alırım.	İhtiyaçlarım için alışveriş listemi kontrol ederim.
		

**Etkinlik:** Aşağıda verilen soruları "evet" ya da "hayır" şeklinde cevap verip işaretleyiniz.

- |  | EVET                     | HAYIR                    |
|--|--------------------------|--------------------------|
|  Herhangi bir ürünü alırken fiyatlarını ve kalitesini farklı mağazalardan da araştırıyor musunuz? | <input type="checkbox"/> | <input type="checkbox"/> |
|  Alacağınız ürünün kullanma kılavuzu olmasına bakıyor musunuz?                                    | <input type="checkbox"/> | <input type="checkbox"/> |
|  Ürünleri tercih ederken reklamların etkisi oluyor mu?  | <input type="checkbox"/> | <input type="checkbox"/> |
|  Size göre aileniz bilinçli bir tüketici midir?   | <input type="checkbox"/> | <input type="checkbox"/> |
|  Aldığınız ürünün garanti belgesinin olması sizin için önemli midir?                              | <input type="checkbox"/> | <input type="checkbox"/> |
|  Ürünlerin TSE damgasının anlamını biliyor musunuz?   | <input type="checkbox"/> | <input type="checkbox"/> |
|  Mağaza görevlilerinin sizi yönlendirmesine izin verir misiniz?                                   | <input type="checkbox"/> | <input type="checkbox"/> |

**Etkinlik:** Aşağıda boş bırakılan yerleri uygun şekilde doldurunuz.

**EKONOMİK FAALİYETLER**

1.  
.....  
.....  
.....

2.  
.....  
.....  
.....

3.  
.....  
.....  
.....

4.  
.....  
.....  
.....

5.  
.....  
.....  
.....

6.  
.....  
.....  
.....

**Etkinlik:** Aşağıda verilen tanımları uygun kelimelerle eşleştiriniz.



Sanayi



Yer altında yer alan demir, bakır, altın, kömür gibi ürünlerin çıkarılmasıdır.



Hizmet



Bir ürünün fabrikalarda işlenerek yeni ürüne dönüştürülmesi.



Tarım



İhtiyacımız olan ürünlerin toprakta yetiştirilmesidir.



Madencilik



İnsanların eğitim, sağlık, bankacılık, güvenlik gibi ihtiyaçlarının karşılanma işidir.



Ekonomi



Üretimden tüketime kadar geçen süredir.

**Etkinlik:** Aşağıdaki soruları yanıtlayınız.



➤ Aileniz ve çevrenizdeki büyüklerin yaptıkları meslekler, hangi ekonomik faaliyet içerisinde yer alıyor? Örnek veriniz.

➤ Tarım faaliyeti, insanların hangi ihtiyaçlarını karşılar?

**Etkinlik:** Aşağıdaki tabloyu kendi gelir - giderinize göre doldurunuz.

★ İhtiyaç Listesi Tutarı	
★ İstek Listesi Tutarı	
★ Gelir	
★ Gider	
★ Tasarruf	



**Etkinlik:** Verilen kelimeleri uygun boşluklara yerleştiriniz.

anlayışlı

gerekli

tutumlu

tasarruf

gereksiz

savurgan

biriktirmeliyiz

➤ Harçlıklarımızdan artan parayı .....

➤ Paramızı harcarken ..... olmalıyız.

➤ Paramızı ..... yere harcamamalıyız.

➤ Ailemiz istediğimiz bir eşya alamadığında ..... olmalıyız.

➤ Eşyalarımızı özenle kullanırsak ..... etmiş oluruz.

**Etkinlik:** Aşağıdaki cümleleri okuyup "evet", "hayır" şeklinde işaretleyiniz.



- Bütçemi hazırlarken ailemden yardım alırım.
- Tasarruflarımı biriktirdiklerime eklerim.
- Birikimlerimi ayırırım.
- Giderlerimi ayırırım.
- İhtiyaçlarıma öncelik veririm.

**EVET****HAYIR**

**Etkinlik:** Aşağıdaki görsellerden hangisi üretim, hangisi tüketimdir? Yazınız.










**Etkinlik:** Aşağıdaki görsellerden ihtiyacımız olanları yuvarlak içine alınız.





**Etkinlik:** Aşağıda verilen boşlukları uygun kelimelerle doldurunuz.

Üretim için gereken maddeye  
"....." denir.

dağıtım

ham madde

Bir ailenin ihtiyaçlarını karşılamak için yıllık  
yaptığı harcamalara "....." denir.

doğal madde

sermaye

Üretim için gereken paraya "....."  
denir.

yıllık gider

Bir ürünün tüketiciye ulaşması için ilgili yerlere  
götürülmesine "....." denir.

İnsan eliyle yapılmayan, hiçbir işlem yapılmayan  
madde ..... dir.



**Etkinlik:** Aşağıdaki sorulara uygun cevapları bulmacaya yazınız.

**1-** Evimizde kullandığımız ürünler  
sırasıyla şu aşamalardan geçer.  
Üretim - ...?... - Satış - Tüketim

**2-** Ailenin gelir giderlerini göste-  
ren liste.

**3-** Bir hizmet ya da ürün karşılığı  
harcanan para.


**4-** Ağaçtan eşya yapan meslek.

**5-** Diyetisyenin hizmet alanı.

**6-** Türk Standartları Enstitüsü  
kısaltması.

**7-** Bir ürünün taşınması gereken  
özelliklere sahip olduğunu gösteren  
kalite belgesi.

**8-** Gelir giderlerin dengelenmesi.



## Etkinlik:

## CEVAP ANAHTARI

Üretim için gereken maddeye ".....**ham madde**....." denir.

dağıtım

ham madde

Bir ailenin ihtiyaçlarını karşılamak için yıllık yaptığı harcamalara ".....**yıllık gider**....." denir.

doğal madde

sermaye

Üretim için gereken paraya ".....**sermaye**....." denir.

yıllık gider

Bir ürünün tüketiciye ulaşması için ilgili yerlere götürülmesine ".....**dağıtım**....." denir.

İnsan eliyle yapılmayan, hiçbir işlem yapılmayan madde .....**doğal madde**..... dir.



**Etkinlik:** Aşağıdaki sorulara uygun cevapları bulmacaya yazınız.

**1-** Evimizde kullandığımız ürünler sırasıyla şu aşamalardan geçer. Üretim - ...?... - Satış - Tüketim

**2-** Ailenin gelir giderlerini gösteren liste.

**3-** Bir hizmet ya da ürün karşılığı harcanan para.

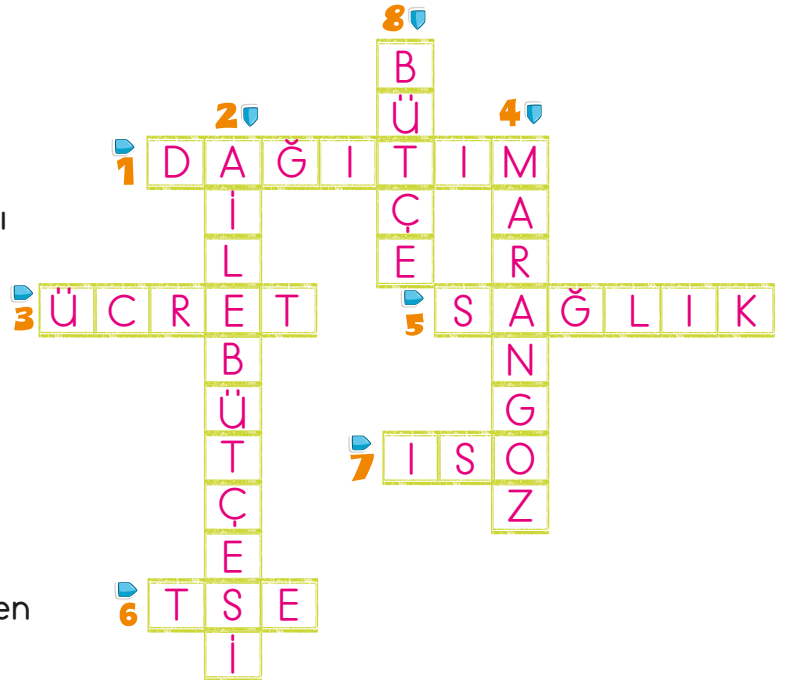
**4-** Ağaçtan eşya yapan meslek.

**5-** Diyetisyenin hizmet alanı.

**6-** Türk Standartları Enstitüsü kısaltması.

**7-** Bir ürünün taşınması gereken özelliklere sahip olduğunu gösteren kalite belgesi.

**8-** Gelir giderlerin dengelenmesi.



1. Aşağıda verilen cümlelerden hangisinin sonuna nokta getirilir?
- A) Bir de baktım ki  
B) Neden buraya gelmedin  
C) Eyvah, yemek yandı  
D) Okuldan eve dönerken gördüm
2. Aşağıda verilen cümlelerden hangisinde kesme işareti kullanılmalıdır?
- A) Evde oturmaktan sıkıldım.  
B) Sevgiler bugün gelemeyecekmiş.  
C) Ankarada kar yağıyormuş.  
D) İzmirli olduğunu bilmiyordu.
3. Aşağıdaki cümlelerin hangisinde noktalama işareti yanlış kullanılmıştır?
- A) Ay, canım çok acıyor!  
B) Amca'm futbolu çok seviyor.  
C) Evet, aldığın kitabı gördüm.  
D) Sen misin Ayşe?

4. "Çok istemek" anlamına gelen deyim aşağıdakilerden hangisidir?
- A) Şifayı kapmak  
B) Baltayı taşa vurmak  
C) Paçaları sıvamak  
D) Can atmak

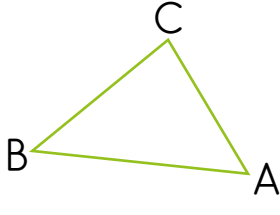
5. TEMA karesi şeklinde okunan kare aşağıdakilerden hangisidir?

A) T M B) A E  
A E M T

C) T E D) B B  
A M T E

6. N O Yandaki dikdörtgeni isimlendirsek hangi şık yanlış olur?
- P Ö
- A) NOÖP B) NÖPO  
C) ONPÖ D) ÖONP

7.



Yandaki üçgenle ilgili bilgilerden hangisi yanlıştır?

- A) BCA üçgenidir.  
B) BA üçgenin kenarıdır.  
C) C üçgenin köşesidir.  
D) Dört kenarı vardır.

8.  Karenin üç kenarı vardır.  
 Dikdörtgenin tüm kenarları eşittir.  
 Karenin karşılıklı kenarları birbirine eşittir.  
 Dikdörtgenin dört kenarı vardır.

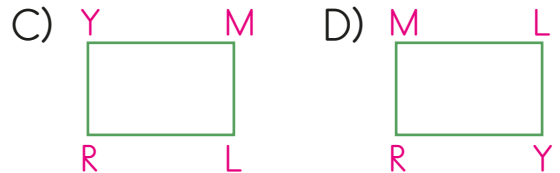
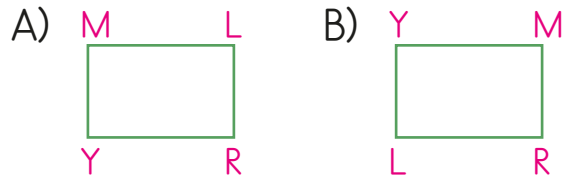
Verilen bilgilere göre doğru olanlara "D", yanlış olanlara "Y" yazarsak hangi şık ortaya çıkar?

- A)  Y  Y  D  D  
B)  Y  D  Y  D  
C)  D  Y  Y  Y  
D)  Y  Y  Y  D

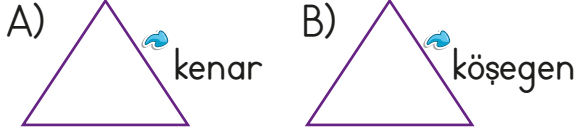
9. Aşağıda verilen bilgilerden hangisi kare ve dikdörtgenin ortak özelliği değildir?

- A) Dört köşesi vardır.  
B) İki köşegeni vardır.  
C) Tüm kenar uzunlukları birbirine eşittir.  
D) Dört kenarı vardır.

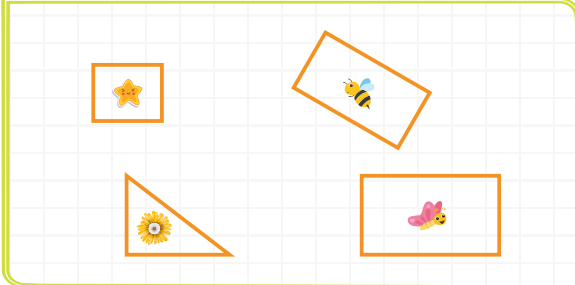
10. MRLY dikdörtgeni şeklinde okunan dikdörtgen aşağıdakilerden hangisidir?



11. Hangi üçgende ok ile gösterilen bölümün ismi doğru yazılmıştır?




12.



Yukarıdaki şekiller ile ilgili aşağıdaki ifadelerden hangisi yanlıştır?

- A) 🌟 ile gösterilen şeklin tüm kenarları birbirine eşittir.
- B) 🐝 ile gösterilen şeklin adı dikdörtgendir.
- C) 🦋 ile gösterilen şeklin iki uzun, iki kısa kenarı vardır.
- D) ☀ ile gösterilen şeklin adı dikdörtgendir.


13.



Yukarıda verilen şekil aşağıdakilerden hangisi ile isimlendirilemez?

- A) PRŞT karesi      B) TPRŞ karesi  
C) RPTŞ karesi      D) PŞRT karesi

14.



Yukarıda verilen KLNМ dikdörtgeninin kenar uzunlukları arasındaki ilişki aşağıdakilerin hangisinde yanlış verilmiştir?

- A)  $|KM| = |LN|$   
B)  $|KL| > |LN|$   
C)  $|KL| = |MN|$   
D)  $|MK| = |NL|$

15.

- I. Karenin tüm kenar uzunlukları birbirine eşittir.  
II. Karenin dört kenarı vardır.  
III. Karenin üç köşegeni vardır.





Yukarıda verilen bilgilerden hangileri doğrudur?

- A) I ve III                      B) I ve II  
C) II ve III                      D) I, II ve III

16.

Göz sağlığımız	Göçmen kuşlar
Beslenmemiz	Ülke ve aile ekonomisi

Yukarıdaki tabloda ışık kaynağının yönü yanlış olduğunda zarar göreceklere bazıları yazılmıştır. Zarar göremeyecek olan yeri çıkarırsak hangi şekil ortaya çıkar?

- A)                       B)   
C)                       D) 

17. Aşağıdaki davranışlardan hangisi yanlıştır?

- A) Boşa yanan lambaları kapatmalıyız.  
B) Güneşe doğrudan bakmamalıyız.  
C) Gündüz vakti de olsa ışıkları açmalıyız.  
D) Işık yönünü ve miktarını doğru ayarlamalıyız.

18.



Yukarıdaki sokak lambalarının hangisinde doğru aydınlatma kullanılmıştır?





- A) 1    B) 2    C) 3    D) 4

19. Aşağıdakilerden hangisi, ülke ekonomisi için olumsuz bir davranıştır?

- A) Gereksiz yanan ışıkları söndürmeliyiz.  
B) Aydınlatmada güneş enerjisini kullanmalıyız.  
C) Bilinçli olmalıyız.  
D) Işıkları gündüz de açmalıyız.

20. İnsanlar neden bütçe yaparlar?
- A) Tatile çıkmak için
- B) Satın alacakları ürüne karar veremediklerinden
- C) Bilinçli harcama ihtiyacından
- D) Ürün fiyatlarının artmasından

21. Aşağıdaki ifadelerin hangisi bir ürünün üretim basamağını belirtmez?

- A)  Tohumları ekтім.
- B)  Bahçeye meyve ağacı diktik.
- C)  Tarlaya tohumları ekip gübre verdim.
- D)  Markette ürünler satılıyor.

22. Bir ürün bozulduğunda tamirin ücretsiz olarak yapılacağı hangi belge ile gösterilir?
- A) Kullanma kılavuzu
- B) Reklam kâğıdı
- C) Garanti belgesi
- D) Fatura

23. Aşağıdakilerden hangisi temel ihtiyaçlarımızdan değildir?

- A) Barınma
- B) Eğlenme
- C) Giyinme
- D) Beslenme

## CEVAP ANAHTARI


- |       |        |        |
|-------|--------|--------|
| 1 - D | 10 - B | 19 - D |
| 2 - C | 11 - A | 20 - C |
| 3 - B | 12 - D | 21 - D |
| 4 - D | 13 - D | 22 - C |
| 5 - C | 14 - B | 23 - B |
| 6 - B | 15 - B |        |
| 7 - D | 16 - A |        |
| 8 - A | 17 - C |        |
| 9 - C | 18 - C |        |

## İSTİKLÂL MARŞI

Korkma, sönmez bu şafaklarda yüzen al sancak;  
Sönmeden yurdumun üstünde tüten en son ocak.


○ benim milletimin yıldızıdır, parlayacak;

○ benimdir, o benim milletimindir ancak.



Mehmet Âkif ERSOY

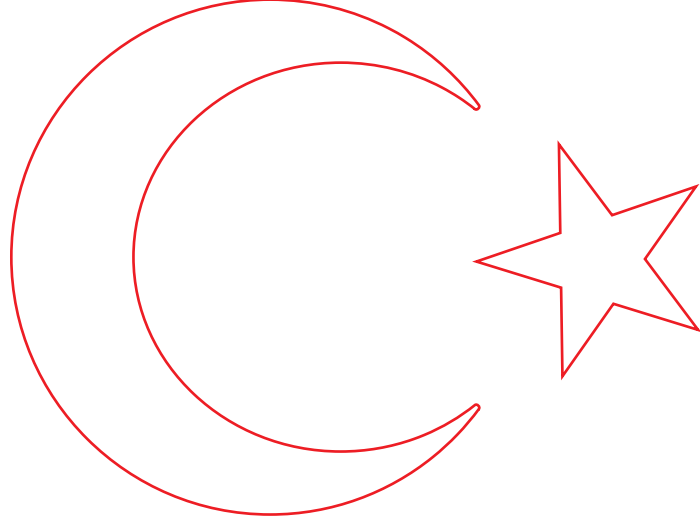
12 MART  
İSTİKLÂL MARŞIMIZIN  
KABULÜ




Osman Zeki ÜNGÖR

Çatma, kurban olayım, çehreni ey nazlı hilâl!  
Kahraman ırkıma bir gül! Ne bu şiddet, bu celâl?  
Sana olmaz dökülen kanlarımız sonra helâl...  
Hakkıdır, Hakk'a tapan, milletimin istiklâl!





Mehmet Âkif ERSOY



Osman Zeki ÜNGÖR

2 resim için bitmiş halı



**Etkinlik:** Çocukların tuttuğu kalbin içerisine İstiklal Marş'ımızı yazınız. Görseli boyayınız.

