

Adı - Soyadı: ..... No : .....



2020-2021 EĞİTİM-ÖĞRETİM YILI  
..... İLKOKULU 4. SINIF  
TRAFİK DERSİ 1.DÖNEM 2.YAZILI SINAVI



**A) Aşağıdaki cümlelerden doğru olanların başına "D", yanlış olanların başına "Y" işareti koyunuz. (10 x 1 = 10 puan)**

- (.....) Gideceğimiz yere en kısa yoldan değil, en güvenli yoldan gitmeliyiz.  
(.....) Kara yollarında duran taşıtların önünden, arkasından, arasından karşıya geçmemeliyiz.  
(.....) Bisikleti, kaykayı, pateni hızlı kullanmalıyız, akrobatik yani artistik hareketler yapmalıyız.  
(.....) Ambulans ve itfaiye gibi araçların trafikte geçiş üstünlüğü vardır.  
(.....) Geçiş üstünlüğü ancak görev halinde kullanılır.  
(.....) Yaya kaldırımında top oynanabilir.  
(.....) Trafik işaret levhaları; Uyarıcı, bilgi veren ve düzenleyen (yasaklayan) olarak 3'e ayrılır.  
(.....) Ulaşım araçlarının tercihinde ulaşım süresi etkili olmaz.  
(.....) Taşıt yolunda bisiklet sürebilmek için 9 yaşında olma şartı vardır.  
(.....) Ulaşım araçlarının tercihinde hava şartlarının da önemi vardır.

**B-) Aşağıda verilen ifadeleri baş tarafındaki rakamları kullanarak doğru şekilde eşleştirelim. (10 puan)**

1	Kara yolu üzerinde bulunan kişi	...	Yolcu
2	Taşıtı kullanan kişi	...	Yaya
3	Yolda yayaların güvenle karşıya geçişlerini sağlayan çizgili bölüm	...	Trafik Işıkları
4	Araç ve yayaların geçişlerini düzenleyen ışıklı cihaz.	...	Sürücü
5	Taşıtı kullanmayıp taşıt içinde seyahat eden kişi	...	Yaya Geçidi

**C-) Aşağıdaki cümlelerdeki noktalı yerleri uygun kelimelerle tamamlayınız. 10 P**

- 1-Bisiklet, otomobil ve kamyon .....yolunda kullanılan araçlardır.  
2-Kara yolunda motorlu veya motorsuz bir aracı kullanan kişiye .....denir.  
3-Kazalarda yaralanma riskini azaltmak için .....takarız.  
4-Ulaşımında en hızlı yolculuk .....yollarında yapılır.  
5-Yayaların yürümek için kullandığı alana .....denir.




**D-)Aşağıdaki tabloya ulaşım türlerini yazarak verilen taşıtları ulaşım türlerine uygun olarak gruplandırınız (16 p)**

otomobil - uçak - tren - gemi - otobüs - helikopter - tramvay - vapur

**ULAŞIM TÜRLERİ**

HAVA YOLU	KARA YOLU	DENİZ YOLU	DEMİR YOLU

E-) Trafik işaretleriyle anlamlarını eşleştirin. ( 7 x 2 = 14 puan )

						
<input type="radio"/>	<input type="radio"/>	<input type="radio"/>	<input type="radio"/>	<input type="radio"/>	<input type="radio"/>	<input type="radio"/>
1 - bisiklet giremez	2 - hastane	3 - yaya geçidi	4 - okul geçidi	5 - kontrolsüz demir yolu geçidi	6 - ışıklı trafik işaret cihazı	7 - kamyon giremez

F-) Aşağıda verilen araçları sürücüleri ile eşleştiriniz. (10 p)



1-) Yayalara yanan kırmızı ışık ne anlama gelir?

- A) Yayalar geçebilir.      B) Yayalar hazırlanır.  
C) Yayalar bekler.      D) Yayalar hızlı geçer.

2) Bisiklet, kayak, kızak ve paten gibi motorsuz taşıtlar nerelerde kullanılmamalıdır?

- A) Okul bahçesinde      B) Taşıt yolunda  
C) Parkta      D) Oyun alanında

3-) Otobüs ve otomobil hangi ulaşım yoluna ait araçlardır?

- A) Hava yolu      B) Demir yolu  
C) Kara yolu      D) Deniz yolu

4-) Trafikte en önemli unsur nedir?

- A) Taşıt      B) Trafik işaret levhası  
C) İnsan      D) Banket

5-) Kara yollarının güvenli olması için aşağıdakilerden hangisi gerekli değildir?

- A) Alt ve üst geçitler      C) Reklam levhaları  
B) Yaya ve okul geçidi      D) Işıklı işaret cihazlar

6-) Yaya kaldırımı olmayan yollarda yayaların yürümesi için ayrılmış toprak yerlere verilen ad aşağıdakilerden hangisidir?

- A) Okul      B) Alt geçit  
C) Banket      D) Üst geçit

7-) Otobüs ve otomobil hangi ulaşım yoluna ait araçlardır?

- A) Hava yolu      B) Demir yolu  
C) Kara yolu      D) Deniz yolu

8-) Tren, tramvay gibi araçlarla yapılan ulaşım türü aşağıdakilerden hangisidir?

- A) hava yolu ulaşımı      B) kara yolu ulaşımı  
C) demir yolu ulaşımı      D) deniz yolu ulaşımı

9-) Ambulans ve itfaiye sürücülerinin hız ve yön değiştirme kurallarına uymaması nedir?

- A) Geçiş üstünlüğü  
B) Geçiş hakkı  
C) Geçiş sırası  
D) Trafik üstünlüğü

10-) Günlük yaşamımızda okula, markete veya parka gitmek için aşağıdakilerin hangisini tercih etmeliyiz?

- A) En güvenli yolları  
B) En kısa yolları  
C) Yaya kaldırımı olmayan yolları  
D) Taşıt yolları

G-) Yukarıdaki çoktan seçmeli soruları cevaplayınız. Her soru 3 puandır