

4.SINIFLAR TRAFİK GÜVENLİĞİ 1.DÖNEM 1.YAZILISI

AD-SOYAD:

NO:

PUAN:

A-) Aşağıdaki cümlelerden doğru olanların başına “ D ”, yanlış olanların başına “ Y ” harfini koyunuz. (10x2=20 Puan)

- 1- () Tehlike ve uyarı işaretleri sadece sürücüler içindir.
- 2- () Karşıdan karşıya geçerken sola sağa bakmaya gerek yoktur.
- 3- () Gideceğimiz yere yol uzun olsa bile en kısa yoldan değil en güvenli yoldan gitmeliyiz.
- 4- () Kırmızı ışık yandığında araçlar geçebilir.
- 5- () Trafik kurallarına uymak herkesin görevidir.
- 6- () Yaya kaldırımları aynı zamanda oyun alanlarıdır.
- 7- () Duran iki aracın arasından geçmek tehlikeli değildir.
- 8- () Yaya ve okul geçitleri, ışıklı işaret cihazı, alt ve üst geçitler güvenli geçiş yerleridir.
- 9- () Trafik kazalarında insanın payının azaltılması için insanlar eğitilmeli ve güvenli yaşama kültürü geliştirilmelidir.
- 10- () Duran taşıtların önünden ve arkasından karşıya geçebiliriz.

B-) Aşağıda verilen kavramları anlamları ile eşleştiriniz. (5x2=10 Puan)

- 1- Trafik İşaretleri () Trafiği düzenlemekle görevli kişi.
- 2- Yaya Geçidi () Araç ve yayaların geçişlerini düzenleyen ışıklı cihaz.
- 3- Alt Geçit () Trafiği düzenlemek için kullanılan araçlar.
- 4- Trafik Işıkları () Yolda yayaların güvenle karşıya geçişlerini sağlayan bölümler.
- 5- Trafik Polisi () Trafik akışını kesmemek için taşıt yolunun altından geçirilen yol.

C-) Aşağıdaki eşleştirmeleri yapınız. (5x2=10 Puan)



Alt geçit

Trafik ışıkları

Okul geçidi

Bisiklet giremez

Hastane

D-) Aşağıdaki görsellerin altına anlamlarını yazın. (6x2=12 Puan)

Üst geçit

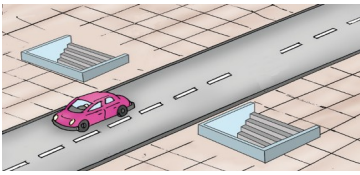

Banket

Yaya geçidi

Işıklı trafik işaret cihazı

Alt geçit

Toplu taşıma aracı



E-) Aşağıdaki soruları cevaplayınız. (8x5=40 Puan)

1) Aşağıdakilerden hangisi, yayaların uymaları gereken kurallardan biridir?

- A) Yaya alt ve üst geçitlerini kullanmak
- B) Karşıya taşıtların arasından geçmek
- C) Yaya kaldırımlarında oynamak
- D) Araç yoksa taşıt yolunda oynamak

2) Aşağıdakilerden hangisi trafik işaret levhalarının amacı değildir ?

- A) Yol kenarlarını güzelleştirmek
- B) Sürücülere uyararak
- C) Trafikte güvenliğini sağlamak
- D) Sürücülere bilgilendirmek

3) Hangisi güvenli yollardan biri değildir?

- A) Tehlikeli de olsa da en kısa yollar
- B) Alt ve üst geçitler
- C) Trafik polisinin bulunduğu yollar
- D) Yaya ve okul geçitleri

4) Yolun karşı tarafına geçmek için güvenli geçiş yolu yoksa karşıya geçerken nasıl davranmalıyız?

- A) Trafik polisini arayıp yardım istemeliyiz.
- B) Önce sola, sonra sağa, sonra tekrar sola bakıp yolun boş olduğundan emin olup hızlı adımlarla geçmeliyiz.
- C) Önce sağa, sonra sola, sonra tekrar sağa bakıp yolun boş olduğundan emin olup hızlı adımlarla geçmeliyiz.
- D) Duran araçların ön veya arka taraflarından yolu koşarak geçmeliyiz.

5) Aşağıdakilerden hangisi güvenli geçiş yollarından biri değildir?

- A) Üst geçit
- B) Alt geçit
- C) Yaya geçidi
- D) Taşıt yolu

6) Araçlar hangi ışık yanınca durmalıdırlar?

- A) Beyaz
- B) Sarı
- C) Yeşil
- D) Kırmızı

7) Enes'in yaptığı hangi davranış yanlıştır?

- A) Yaya alt geçit veya üst geçitlerini kullanıyor.
- B) Yaya kaldırımlarını kullanmıyor.
- C) Araç tehlikesi olmayan yerlerde oynuyor.
- D) Karşıya geçişlerde yaya ve okul geçitlerini kullanıyor.

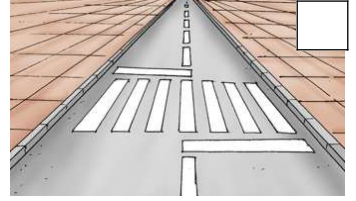
8) Evden okula gidip gelirken hangi yolu tercih etmeliyiz?

- A) En kısa yolu
- B) En uzun yolu
- C) En güvenli yolu
- D) En karmaşık yolu

F-) Aşağıdaki kavramları görselleri ile eşleştiriniz. Boş kutucuğa numarasını yazınız. (4x2=8 Puan)


1

banket



2

ışıklı trafik
işaret cihazı



3

trafik işaret
levhası



4

yaya geçidi



Başarılar Dilerim...