

Adı:	4.SINIFLAR TRAFİK GÜVENLİĞİ DERSİ 1. DÖNEM 1. YAZILI SINAVI	Tarih: ././....
Soyadı:		ALDIĞI NOT:
Sınıfı:		
No:		

A-) Aşağıdaki ifadelerden doğru olanların başına D, yanlış olanların başına Y harfi yazınız.

(10x1=10 puan)

1. (.....) Trafikte en önemli unsur insanlardır.
2. (.....) Yayalar, yaya kaldırımlarında kendi gidiş yönlerine göre sağ taraftan yürümelidir
3. (.....) Trafik işaret levhalarının şekil, renk, yazı ve semboller ile verdiği mesajlara uygun davranılmalıdır.
4. (.....) Kara yolları üzerindeki yayaların, araçların ve hayvanların hâl ve hareketlerine **trafik** denir
5. (.....) Alt ve üst geçitlerin olduğu yollar güvenli yollardandır.
6. (.....) Toplu taşıma araçlarının yaygın olarak kullanılması trafik kazalarının artmasını sağlar.
7. (.....) Kara yolu kenarında duran taşıtların; önünden, arkasından ve arasından karşıya geçilmemelidir.
8. (.....) Trafik kazalarının oluş sebepleri sadece yayaların hatalı davranışlarıdır.
9. (.....) Yayalara yanan kırmızı ışık ‘yayaların geçebileceği’ anlamına gelir.
10. (.....) Karayolunda insan, hayvan ve yük taşımaya yarayan araca taşıt denir.

B-) Aşağıda boş bırakılan yerleri uygun kelimelerle tamamlayınız. (10x3=30 puan)




**kırmızı - karşıya geçerken - yolcu - güvenli yol - alt geçit - banket
sürücü - yeşil - yaya kaldırımı - zarar - trafik yoğunluğunun - yarar**

- 1) Okul ve yaya geçitleri, alt ve üst geçitler, ışıklı trafik işaret cihazları bulunan kara yollarına denir.
- 2) Kara yolu kenarında yalnız yayaların kullanımına ayrılmış olan yerlere denir.
- 3) Toplu taşıma araçlarının tercih edilmesi azalmasına katkı sağlar.
- 4) Kara yollarında koşmadan hızlı adımlarla geçilmelidir.
- 5) Karşıya geçmek için ışığın yanmasını beklemeliyiz.
- 6) İnsanlar trafikte yaya, sürücü ve olarak bulunabilir.
- 7) Trafik işaret ve levhalarına verenleri yetkililere bildirmek vatandaşlık görevidir.
- 8) Trafikte araç kullanan kişilere denir.
- 9) Trafik akışını kesmemek için taşıt yolunun altından geçirilen yola denir.
- 10) Yaya kaldırımı bulunmayan kara yollarında, taşıt yolu kenarında yayaların ve hayvanların kullanacağı alanlaradenir.

C-) Aşağıdaki eşleştirmeleri numaralandırarak yapınız. (5x1=5 puan)

1-Trafik Polisi	() Kara yolunda insan, hayvan ve yük taşımaya yarayan araçlar.
2-Yaya Kaldırımı	() Trafiği düzenlemek için kullanılan işaretlerin tümü.
3-Trafik İşaretleri	() Trafiği düzenlemekle görevli kişi.
4-Taşıtlar	() Kara yolları üzerinde yayaların, araçların ve hayvanların hâl ve hareketleri
5-Trafik	() Yayaların yürümek için kullandığı alan.

D-) Aşağıdaki trafik işaret levhalarındaki şekillerin anlamlarını altlarında verilen boşluklara yazınız. (3x5=15 puan)



.....

.....

.....

E-) Aşağıda verilen sorularda doğru seçenekleri işaretleyiniz. (10x4= 40 puan)

1-) Bankette grup hâlinde yürüyen yayalar nasıl davranmalıdır?

- A) Banketin yol tarafından yürümelidir. B) Kol kola girerek yürümelidir.
C) Tek sıra hâlinde yürümelidir. D) Oyun oynayıp şakaşarak yürümelidir.

2-) Kara yollarının güvenli olması için aşağıdakilerden hangisi gerekli değildir?

- A) Reklam levhaları B) Trafik ışıkları C) Trafik işaret ve levhaları D) Yol çizgileri

3-) Günlük yaşantımızda okula, markete veya parka gitmek için aşağıdakilerin hangisini tercih etmeliyiz?

- A) En güvenli yolları B) En kısa yolları
C) Yaya kaldırımı olmayan yolları D) En uzak yolları

4-) Aşağıdakilerden hangisi “ okul geçidi ” anlamında olan işaret levhasıdır?

- A)  B)  C)  D) 

5-) Aşağıdakilerden hangisi trafik kazalarının nedenlerindedir?

- A) Alkollü araç kullanmak B) Dikkatli olmak
C) Trafik kurallarına uymak D) Emniyet kemeri takmak

6-) Yandaki resimde hangi trafik kavramı anlatılıyor?

- A) Yaya Geçidi B) Yaya Yolu
C) Yaya Kaldırımı D) Taşıtlar Yolu



7-) Taşıt yolunda yayaların karşıya geçmelerini sağlayan güvenli yerlerin olmadığı yerlerde, karşıya geçmek için nasıl hareket etmeliyiz?

- A) Önce sağa sonra sola bakıp geçeriz . B) Önümüze bakarız araba yoksa geçeriz
C) Önce sola, sonra sağa, tekrar sola bakar yol boşsa geçeriz. D) Koşa koşa geçeriz.

8-) Trafikte en önemli unsur nedir?

- A) Taşıt B) İnsan C) Trafik işaret levhası D) Çevre temizliği

9-) Aşağıdakilerden hangisi yayaların trafik ortamında yaptığı **yanlış** davranışlardan biridir?

- A) Trafik işaret ve levhaları bilmek B) Kaldırım ve sokaklarda oyun oynamak
C) Alt ve üst geçitleri kullanmak D) Karayolunda güvenli geçiş yerlerinden karşıya geçmek

10-) Aşağıdakilerden hangisi güvenli oyun alanlarından birisi değildir?

- A) Çocuk parkları B) Caddeler C) Oyun bahçeleri D) Yoldan uzak boş arsalar

Joker Soru: **Bir yaya olarak hangi trafik kurallarına uyarınız? 5 tane yazınız. (5x2=10 puan)**

- 1.....
2.....
3.....
4.....
5.....



*** Sınavınız bitmiştir. Cevaplarınızı kontrol ediniz. ***