

4. SINIFLAR TRAFİK GÜVENLİĞİ DERSİ 1. DÖNEM 1. YAZILI SINAVI

Adı Soyadı:

NO:

Puan:

A) Aşağıdaki cümlelerden doğru olanın başına (D) yanlış olanın başına (Y) yazınız. (10 puan)

- (...) Karayolunda karşıdan karşıya geçerken, güvenli olmasa da en kısa yolu tercih etmeliyiz.
(...) Trafik kurallarına uymak herkesin görevidir.
(...) Yaya geçidi, ışıklı işaret cihazı, alt ve üst geçit güvenli geçiş yerleridir.
(...) Yolun karşısına istediğimiz zaman geçebiliriz.
(...) Trafik polisi, trafiğin düzenini sağlar ve trafiği denetler.
(...) Trafik işaret levhalarının anlamını bilmek bize bir fayda sağlamaz.
(...) Bisiklet kullanırken kask, bileklik ve dizlik takmalıyız.
(...) Yaya geçitlerinin olduğu yerlere arabalar park edebilir.
(...) Bisiklet sürerken ellerimizi bırakabiliriz.
(...) Toplu taşıma araçlarını kullanmak, hava kirliliğinin azalmasına katkıda bulunmaktır.

B-Aşağıdaki cümlelerde boş bırakılan yerleri uygun kelimelerle tamamlayınız. (20 puan)

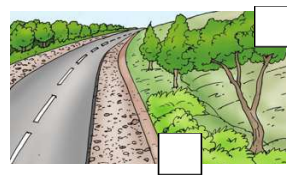
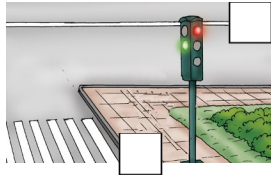
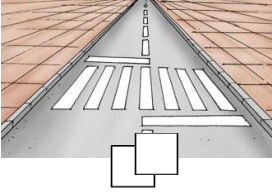
alt geçit	güvenli yol	yolcu	yaya kaldırımı	banket
sol	uç	trafik yoğunluğunun	trafik işareti	zarar

- 1) Okul ve yaya geçitleri, alt ve üst geçitler, ışıklı trafik işaret cihazları bulunan kara yollarınadenir.
2) Kara yolu kenarında yalnız yayaların kullanımına ayrılmış olan yerlere denir.
3) Toplu taşıma araçlarının tercih edilmesiazalmasına katkı sağlar.
4) İnsanlar trafikte yaya, sürücü veolarak bulunabilir.
5) Trafik işaret ve levhalarınaverenleri yetkililere bildirmek vatandaşlık görevidir.
6) Trafik akışını kesmemek için taşıt yolunun altından geçirilen yoladenir.
7) Yaya kaldırımı bulunmayan kara yollarında, taşıt yolu kenarında yayaların ve hayvanların kullanacağı alanlaradenir.
8) Banketlerde gidiş yönümüze göretaftaki banketi kullanmalıyız.
9) Trafik işaret levhalarınıntemel şeklidir.
10) Trafiği düzenlemek için kullanılan özel işaretlere denir.

C-Aşağıda verilen kavramları anlamları ile eşleştiriniz. (5x2=10 puan)

- 1- Trafik İşaretleri () Trafiği düzenlemekle görevli kişi.
2- Yaya Geçidi () Araç ve yayaların geçişlerini düzenleyen ışıklı cihaz.
3- Alt Geçit () Trafiği düzenlemek için kullanılan araçlar.
4- Trafik Işıkları () Yolda yayaların güvenle karşıya geçişlerini sağlayan bölümler.
5- Trafik Polisi () Trafik akışını kesmemek için taşıt yolunun altından geçirilen yol.

D-Aşağıdaki kavramları görselleri ile eşleştiriniz. Boş kutucuğa numarasını yazınız.(4x4=16 puan)



1.Banket

2.Trafik işaret levhası

3.Yaya geçidi

4.Işıklı trafik işaret cihazı

E- Aşağıdaki soruları cevaplandırınız. (Her soru 4 puandır.)

1- İnsan, hayvan ve araçların kara yolu üzerindeki hal ve hareketlerine ne denir?

- A) kara yolu B) ulaşım
C) trafik D) taşıt yolu

2- Aşağıdakilerden hangisi yanlış bir davranıştır?

- A) Kaldırımında yürüyen insanlara saygılı davranırım.
B) Kaldırımında yürüyen insanlara dikkat ederim.
C) Karşıya geçerken park etmiş arabaların arasından geçerim.
D) Karşıya geçmek istediğimde güvenli geçiş yerlerini kullanırım.

3- Bankette grup hâlinde yürüyen yayalar nasıl davranmalıdır?

- A) Banketin yol tarafından yürümelidir.
B) Kol kola girerek yürümelidir.
C) Tek sıra hâlinde yürümelidir.
D) Oyun oynayıp şakalaşarak yürümelidir.

4- Üzerinde "H" harfi olan aşağıdaki trafik işaret levhası hangisini bildirir?

- A) Hayvan çıkabilir
B) Hayvanat bahçesi
C) Hastane
D) Her şey olabilir



5- Aşağıdaki resimde gösterilen güvenli geçiş yeri hangisidir?

- A) üst geçit
B) alt geçit
C) okul geçidi
D) yaya geçidi



6- Aşağıdakilerden hangisinde oyun oynamak tehlikeli olabilir?

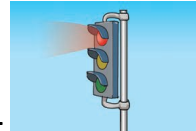
- A) Trafığe açık alanlarda B) Parklarda
C) Oyun yerlerinde D) Bahçede

7- Trafığın en önemli unsuru aşağıdakilerden hangisidir?

- A) Araç B) Yol C) İnsan D) Trafik polisi

8- Sedat'ın yaptığı hangi davranış yanlıştır?

- A) Yaya alt geçit veya üst geçitlerini kullanıyor.
B) Yaya kaldırımlarını kullanmıyor.
C) Araç tehlikesi olmayan yerlerde oynuyor.
D) Karşıya geçişlerde yaya ve okul geçitlerini kullanıyor.



9- Yandaki trafik işaretinin anlamı nedir?

- A) Yoldan araba geliyor anlamındadır.
B) Hazırlan anlamındadır.
C) Dur anlamındadır.
D) Geç anlamındadır.

10- Aşağıdakilerden hangisi bisiklet, scooter, kayak, kızak ve paten kullanmadan önce alınması gereken önlemlerden biri değildir?

- A) Kask takmak B) Dizlik takmak
C) Bere ve kaşkol takmak D) Dirseklik takmak

11- Evden okula gidip gelirken hangi yolu tercih etmeliyiz?

- A) En kısa yolu B) En uzun yolu
C) En güvenli yolu D) En karmaşık yolu