

## 4.SINIF

### SOSYAL BİLGİLER 2.DÖNEM 1.SINAV SORULARI

#### Adı Soyadı:

1. "İşlerimizi daha kolay ve hızlı yapabilmemiz için kullandığımız araçları, aletleri ve yöntemleri kapsayan bilgiye.....denir."

**Yukarıdaki ifadeye noktalı yere aşağıdakilerden hangisi yazılmalıdır?**

- A. teknik B. icat  
C. buluş D. teknoloji

2. Teknolojik ürünler kullanım alanlarına göre sınıflandırılırlar.

**Buna göre otomobil, tren, gemi, uçak gibi teknolojik ürünlerin kullanım alanı aşağıdakilerden hangisidir?**

- A. haberleşme B. ulaşım  
C. eğitim D. sağlık

3. Tekerleğin icadı ile ilgili aşağıdaki ifadelerden hangisi **yanlıştır?**

- A. Tekerleğin icadından sonra ilk ilkel arabalar yapılmıştır.  
B. Tekerlek, insanlara yükleri bir yerden başka bir yere kolayca taşıma imkânı vermiştir  
C. Tekerlek icat edilmeseydi hiçbir oyuncak yapılamazdı.  
D. Tekerlek, insanlığın en önemli icatlarından birisidir.

4. Uzakta olan sevdiğimizle görüşebilmek için aşağıdaki araçların hangisinden **yararlanmayız?**

- A. televizyon B. faks  
C. telefon D. İnternet  
I. tramvay – ulaşım  
II. telgraf - eğitim  
III. bilgisayar - eğitim  
IV. televizyon - ev işleri

**Yukarıda verilen teknolojik ürünler ile kullanım alanları eşleştirilmiştir. Bunlardan hangileri doğrudur?**

- A. I-II B. II - IV  
C. II-III-IV D. I-III

6. I. saat II. gazete  
III. takvim IV. televizyon

**İnsanlar tarih boyunca zamanı belirlemek için yukarıdaki araçlardan hangilerini kullanmışlardır?**

- A. I-III B. II - IV  
C. I-II D. I-III-IV

7. Ağıdakilerden hangisi zamanı ölçmede **kullanılmamıştır?**

- A. güneş saati B. yemek saati  
C. kum saati D. su saati

8. Aşağıda, buluşlar ile buluşu yapan kişiler eşleştirilmiştir. **Bu eşleştirmelerden hangisi doğrudur?**

- A. mikroskop - Galileo Galilei  
B. ampul - Kari Benz  
C. telefon - Alexander Graham Bell  
D. aspirin - Vinton Cerf

9. Televizyon yayınlarının hem olumlu hem de olumsuz etkileri vardır.

**Aşağıdakilerden hangisi olumsuz etkilerinden biri değildir?**

- A. Uyku düzenini bozar.  
B. Ders çalışmada isteksizlik yaratır.  
C. Bilgilerin hafızada kalıcı olmasını sağlar.  
D. Göz sağlığına zararlı olabilir.

10. I. mum II. gaz lambası  
III. elektrik IV. kandil

Mekânların aydınlatılmasında yukarıdaki araçlar kullanılmıştır.

**Bu araçların kronolojik sıralanışı aşağıdaki seçeneklerin hangisinde doğru olarak verilmiştir?**

- A. I-II-III-IV B. II - III - I - IV  
C. IV - II - I - III D. IV-I-II-III

11. Çocukların yaşamında teknolojik gelişmelerin etkisini nasıl izleyebiliriz?

- A. giysilerine bakarak  
B. yaşadıkları çevreye bakarak  
C. oyuncaklarına bakarak  
D. beslenmelerine bakarak

12. Çevre kirliliğinin önüne geçmek ve doğal kaynakların tükenmesini önlemek için yapılabilecek çalışmalardan biri de geri dönüşümü olan maddeleri kullanmaktır. **Aşağıdakilerden hangisi geri dönüşümü olan maddelerden değildir?**

- A. ayakkabı boyası B. ekmek poşeti  
C. konserve kutusu D. su şişesi

13. I. İnsanlar çevrelerini incelemişlerdir.  
II. Gökyüzünü incelemeye başlamışlardır.  
III. Ağaçların yeşerme ve yaprak dökme sürelerini belirlemişlerdir.  
IV. Ay ve yıldızların belli zamanlarda hareket ettiklerini görmüşlerdir.

**İnsanların ilk takvimleri oluştururken yapmış oldukları çalışmaların kronolojik sıralanışı aşağıdaki seçeneklerden hangisinde verilmiştir?**

- A. I-II-III-IV B. I-III-II-IV  
C. I-II-IV-III D. I-III-IV-II

14. İnsanlar tarih boyunca çeşitli saatler kullanmışlardır. **Aşağıdakilerden hangisi insanların kullandığı saat türlerinden biri değildir?**

- A. duvar saati B. kum saati  
C. ay saati D. güneş saati

15. "İnsanların hayatını kolaylaştırmak ve ihtiyaçlarını gidermek için çeşitli ürünlerin ilk kez ortaya konulmasına ..... denir." **ifadesinde noktalı yere aşağıdakilerden hangisi yazılmalıdır?**

- A. teknoloji B. internet  
C. iletişim D. icat

16. İnsanlar tarih boyunca zamanı belirlemek için çeşitli takvimleri kullanmıştır. **Ülkemizde şu an hangi takvim kullanılmaktadır?**

- A. on iki hayvanlı Türk takvimi  
B. miladi takvim  
C. hicri takvim  
D. Rumi takvim

17. Aşağıdakilerden hangisi teknolojiyi bilinçsizce kullanmayı anlatan bir davranıştır?

- A. alınan ürünün kullanma kılavuzunu okumadan ürünü kullanmak
- B. bilgilere ulaşmak için İnternet'ten yararlanmak
- C. televizyonu, uygun uzaklıktan izlemek
- D. telefon konuşmalarını kısa tutmak

18. Zamanı ölçmek için kullanılan ilk saat aşağıdakilerden hangisidir?

- A. güneş saati
- B. kum saati
- C. kol saati
- D. su saati

19. Cumhuriyetten önce ülkemizde hem güneş yılına hem de ay yılına göre düzenlenmiş takvimler kullanılıyordu. Ancak bu takvimler, diğer ülkelerin kullandığı takvimlere uymuyordu.

Cumhuriyetten sonra bu ülkelere uyum sağlamak amacıyla aşağıdakilerden hangisi yapılmıştır?

- A. Halk arasında hicri takvimin kullanılmasına devam edilmiştir.
- B. Devlet işlerinde Rumi takvim kullanılmıştır.
- C. Miladi takvim, resmî takvim olarak kabul edilmiştir.
- D. Rumi takvim ile miladi takvim birlikte kullanılmıştır.

20. Aşağıdakilerden hangisinde teknolojinin kullanılmasına gerek yoktur?

- A. oyuncak yapımında
- B. yürüyüş yapmada
- C. ekmek üretiminde
- D. yol yapımında

21. Aşağıdakilerden hangisi ekmeğin hammadde-sidir?

- A. tuz
- B. buğday
- C. su
- D. maya

22. Bir binanın yapımından son aşamasına kadar aşağıdaki meslek gruplarından hangisi çalışmaz?

- A) elektrikçi
- B) mühendis
- C) kapıcı
- D) boyacı

23. Ülkemizde ve dünyada birçok tüketici derneği bulun maktadır. Aşağıdakilerden hangisi tüketici dernek lerinin amaçları arasında yer almaz?

- A) tüketici haklarını korumak
- B) tüketicilerin bilinçlenmesini sağlamak
- C) tüketicilere para kazandırmak
- D) tüketicilere bilgi vermek

24. Aldığımız bir malın bozuk olduğunu gördüğümüzde,

I. Aldığımız yere geri götürmeliyiz

II. Satıcıyla tartışmalıyız

III. Tüketici Hakları Koruma Derneği'ne

başvurmamız gerekir. Hangi gelişmelerden hangileri yapılmalı?

- A) I ve II
- B) I ve III
- C) II ve III
- D) I, II ve III

25. Yiyecek satın alırken aşağıdakilerden hangisine bakmamız gerekmez?

- A) Fiyatına
- B) Ambalajının bozuk olup olmadığına
- C) Üretim ve son kullanma tarihine
- D) Reklamının yapıp yapılmadığına

26. Bilinçli bir tüketici alışverişlerinde hangisine öncelik verir?

- A) İsteklerine
- B) İhtiyaçlarına
- C) Modaya
- D) Reklamlara



27. Bazı ürünlerin üzerinde gördüğümüz bu amblem neyi gösterir?

- A) Garanti belgesinin olduğunu
- B) Kendi kendini temizlediğini
- C) Geri dönüşümünün olduğunu
- D) Tüm standartlara uyulduğunu

28. TSE damgalı bir malın özelliği aşağıdakilerden hangisidir?

- A. Pahalı olduğunu gösterir.
- B. Kaliteli olduğunu gösterir.
- C. Ucuz olduğunu gösterir.
- D. Ekonomik olduğunu gösterir.

29. Aşağıdakilerden hangisi aile bütçesine katkı sağlayan bir davranış biçimi değildir?

- A. Harçlıklarımızın bir kısmını biriktirip zorunlu ihtiyaçlarımız için kullanmak
- B. Eşyalarımızı özenli kullanıp tutumlu olmak
- C. Daha ucuz olduğu için açıkta satılan yiyecekleri satın almak
- D. Alışveriş yaparken kaliteli ve ucuz olan ürünleri seçmek

30. "Ailelerin çalışarak kazandıkları paraya....., ihtiyaçlarını karşılamak için harcadıkları paraya .....denir."

Cümlesindeki noktalı yerleri aşağıdakilerden hangisiyle tamamlarız?

- A. gelir-gider
- B. bütçe-tüketim
- C. para-bütçe
- D. birimi-para

31. Her alışverişten sonra mutlaka.....almalıyız. Cümlesindeki noktalı yerleri aşağıdakilerden hangisiyle tamamlarız?

- A. TSE
- B. bütçe
- C. para
- D. fiş

32. Paketlenmiş besin maddeleri belirli tarihler arasında tazeliklerini korur. Bu durum ürünlerle ilgili aşağıdakilerden hangisinin önemini ortaya çıkarmaktadır?

- A) Son kullanma tarihinin
- B) Üretim yerinin
- C) Garanti belgesinin
- D) Faturasının

33. Aşağıdaki ürünlerden hangisi için son kullanma tarihi gerekli değildir?

- A. Televizyon
- B. Salça
- C. Bisküvi
- D. Çikolata

34. Aşağıdakilerden hangisi yanlıştır?





- A) Gıdaları alırken üretim ve son kullanma tarihlerine bakmalıyız.
- B) Aynı ürünler farklı yerlerde farklı fiyata satılıyor olabilir.
- C) Beslenme, giyinme ve barınma sosyal ihtiyaçlarımızdır.
- D) Dayanıklı tüketim malları alırken garanti belgesini almalıyız.

35. İnsanlar alışverişlerde karşılaştıkları sorunları bazı kurumlar veya dernekler aracılığıyla çözerler.

Aşağıdakilerden hangisi bu kurum veya derneklerden birisi değildir?

- A) Belediyeler
- B) Hakem heyetleri
- C) İtfaiye
- D) Tüketici koruma derneği

36. Aşağıdakilerden hangisi dayanıklı tüketim mallarından birisi değildir?

- A) 
- B) 
- C) 
- D) 

37. I. Gelir giderler arasında denge kurarak bütçe hazırlamalıyız.

II. İsteklerimize öncelik vermeliyiz.

III. İhtiyaçlarımıza öncelik vermeliyiz.





IV. Ucuz olan ürünleri fazlasıyla almalıyız.

Aile bütçesi yapılırken yukarıdakilerden hangilerine dikkat etmemiz gerekir ?

A) I-IV B) I-II-III

C) I - III D) II-IV

38. Aşağıdakilerden hangisinin garanti belgesi olmaz?

- A) 
- B) 
- C) 
- D) 

39.



Bir ürün alırken öncelikle aşağıdakilerden hangisine bakmalıyız?

- A) Ambalajına
- B) Reklamına
- C) TSE damgasına
- D) Fiyatına

40. Kullanım süreleri bir yıldan fazla olan ürünlere ne denir?

- A) Market ürünleri
- B) Dayanıklı tüketim malları
- C) Kozmetik ürünleri
- D) Temel ürünler