

Haritaya göre II ve VI numaralı yerlerde bulunan şehirler ve yönleri ile ilgili aşağıdaki bilgilerden hangisi doğrudur?

- A) II numaralı yerde Van ilimiz bulunmakta ve Türkiye'nin batısında yer almaktadır.
- B) VI numaralı yerde İzmir ilimiz bulunmakta ve Türkiye'nin güneyinde yer almaktadır.
- C) II numaralı yerde Hakkâri ilimiz bulunmakta ve Türkiye'nin güneydoğusunda yer almaktadır.
- D) VI numaralı yerde İzmir ilimiz bulunmakta ve Türkiye'nin kuzeyinde yer almaktadır.

Haritaya göre aşağıdakilerden hangisi yanlıştır?

- A) VII numaralı yerde bulunan şehir, Türkiye'nin doğusundadır.
- B) IV numaralı yerde bulunan şehir, Türkiye'nin güneybatısındadır.
- C) V numaralı yerde bulunan şehir, Türkiye'nin güneyindedir.
- D) VIII numaralı yerde bulunan şehir, Türkiye'nin kuzeyindedir.

- Teknolojik ürünler geçmişten günümüze aynı kalmıştır.
- Teknolojik ürünlerin hepsi yararlıdır, zararı yoktur.
- Teknolojik ürünler ihtiyaçlar sonucu ortaya çıkmıştır.
- Taşıtlardan çıkan egzoz gazı çevreye zarar verir.

Yukarıdakilerden kaç tanesi doğrudur?

- A) 1 B) 2 C) 3 D) 4

Erol, teknolojik bir ürün tasarlamak istiyor.

Bu tasarımda öncelikle hangisine önem verilmelidir?

- A) Ürünün ihtiyaçları karşılamasına
- B) Ürünün ilgi çekici olmasına
- C) Ürünün son teknolojiyle üretilmesine
- D) Ürünün fiyatının ucuz olmasına

Doğal Afetler	
Deprem	Sel
?	Toprak kayması

Yukarıda "?" yerine hangisi yazılmıştır?

- A) Yağmur B) Kar
- C) Rüzgâr D) Çiğ

"Fırından satın alınan ekmeğin geçirdiği hangi aşamadır?"

- A) Tüketim aşaması
- B) Pişirme aşaması
- C) Üretim aşaması
- D) Dağıtım aşaması

Aşağıdakilerden hangisi geçmişten günümüze oynanan çocuk oyunlarından biri değildir?

- A) Yapboz B) Saklambaç
- C) Körebe D) Mendil kapmaca

1. Lise yıllarım İzmir'de geçti.
2. 1974 yılında Ankara'da doğdum.
3. Ortaokulda şiir yarışmasına katıldım.
4. İlkokulu Kavaklıdere İlkokulunda tamamladım.
5. Beş yaşındayken okumayı öğrendim.

Ece'nin annesinin yaşamındaki olayların kronolojik sıralaması hangi seçenekte doğru verilmiştir?

- A. 2 - 3 - 5 - 4 - 1
- B. 5 - 2 - 4 - 1 - 3
- C. 2 - 5 - 4 - 3 - 1
- D. 1 - 2 - 5 - 4 - 3

- I. Yağış III. Sıcaklık
- II. Sis IV. Gece

Yukarıdakilerden hangileri hava olayıdır?

- A) I, III, IV B) II, III, IV
- C) I, II, III D) I, II, III, IV

"Yeryüzünün şiddetli bir şekilde sarsılmasına, hava sıcaklığını ölçen alete denir." cümlesinde noktalı yerlere sıra ile hangi seçenekler yazılmalıdır?

- A) deprem - termometre
- B) deprem - barometre
- C) termometre - deprem
- D) deprem - pusula

Yaşamın kronolojisini oluşturan Murat kronolojide hangi bilgiye vermez?

- A) Çocukluğunda nasıl beslendiğine
- B) Ne zaman doğduğuna
- C) Atletizme kaç yaşında başladığına
- D) İlkokula ne zaman başladığına

Her şeyi anlayışla karşılayan biri için aşağıdakilerden hangisini söyleyebiliriz?

- A. Hoşgörülü B. Yardımsever
- C. Dürüst D. Çalışkan

Aşağıdakilerden hangisi soyağacı-mızda yer almaz?

- A) Dedemiz B) Ninemiz
C) Arkadaşımız D) Teyzemiz

Millî Mücadele'nin sonunda hangi antlaşma ile yurdumuzun sınırları belirlenmiştir?

- A. Mondros Ateşkes Anlaşması
B. Lozan Barış Antlaşması
C. Mudanya Ateşkes Anlaşması
D. Ankara Anlaşması

Aşağıdakilerden hangisi beşeri unsurdur?

- A. İznik Gölü
B. Bolu Dağı
C. Bolu Dağı Tüneli
D. Afrika ormanları

"Sabah doğmakta olan güneşe yüzünü dön. Sol kolunun bulunduğu yöne doğru git." diyen birisi hangi yöne gidilmesini istemektedir?

- A. Güneye B. Kuzeye
C. Doğuya D. Batıya

Aşağıda verilenlerden hangisi doğal unsurdur?

- A) Köprü B) Liman
C) Demir yolu D) Göl

Doğaya en çok zarar veren varlık aşağıdakilerden hangisidir?

- A. Bitkiler
B. Hayvanlar
C. Akarsu ve göller
D. İnsanlar

Aşağıdakilerden hangisi deprem sonrası alınacak önlemdir?

- A. Zarar görmüş olabileceğinden evlerimize hemen girmemeliyiz.
B. Üzerimize evin tavanının çökme olasılığı olduğu için sağlam eşyaların yanında kalmalıyız.
C. Deprem çantasına gerekli araçları koyup eksik olup olmadığını kontrol etmeliyiz.
D. Evin balkonuna çıkıp diğerlerinin gelmelerini beklemeliyiz.

TBMM, ilk defa ne zaman ve nerede açılmıştır?

- A. 23 Nisan 1923 - İstanbul
B. 29 Ekim 1923 - Ankara
C. 23 Nisan 1920 - Ankara
D. 19 Mayıs 1919 - Samsun

Yere dikilen bir çubuğun gölgesinin en kısa olduğu vakit ne zamandır?

- A) Sabah vakti B) Öğlen vakti
C) İkinci vakti D) Akşam vakti

❁ Teknolojik ürünler zamandan tasarruf sağlar.

▲ Çevre şartlarına göre teknolojik ürünler değişir.

● Teknolojik ürünlerle işler daha yavaş yapılır.

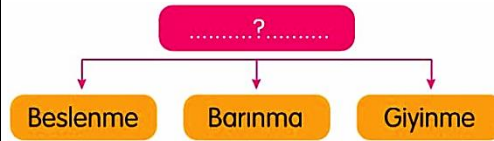
★ Teknolojik ürünlerin zararlı yönleri yoktur.

Yukarıdaki ifadelerden hangisi ya da hangileri doğrudur?

- A. Yalnız ❁ B. Yalnız ▲
C. ● ve ★ D. ❁ ve ▲

Geri dönüşüm projelerinin faydaları arasında aşağıdakilerden hangileri yer alır?

- I. Kaynakların yok olmaması
II. Çevre kirliliğinin azaltılması
III. Ekonomik kazanç sağlanması
A) Yalnız I B) I ve II
C) II ve III D) I, II ve III



Yukarıdaki şemaya verilebilecek en uygun başlık aşağıdakilerden hangisidir?

- A) Sosyal ihtiyaçlarımız
B) İsteklerimiz
C) Doğal kaynaklarımız
D) Temel ihtiyaçlarımız

Aşağıdakilerden hangisi heyelanın tanımıdır?

- A) Yağış alan yamaçlarda taş, toprak ve kayaların aşağıya doğru kaymasıdır.
B) Toprağın üst tabakasının su veya rüzgâr ile sürüklenmesidir.
C) Dağlardaki kar kütlelerinin koparak aşağıya kaymasıdır.
D) Yerin içindeki enerjinin yeryüzüne çıkmasıdır.

- I. Hiçbir kaynak sınırsız değildir.
II. Kaynaklar her geçen gün azalmaktadır.
III. Kaynakları israf etmeden dikkatli tüketmeliyiz.
IV. Atıklarımızı geri dönüştürerek kaynakları verimli kullanabiliriz.

Yukarıda verilen bilgilerden kaç tanesi doğrudur?

- A) 1 B) 2 C) 3 D) 4

TBMM, Mustafa Kemal'e "Mareşal" rütbesini hangi savaştan sonra verilmiştir?

- A) Büyük Taarruz
B) Sakarya Meydan Savaşı
C) Çanakkale Savaşı
D) I. İnönü Savaşı

Kutup yıldızına arkasını dönen bir kişi yüzünün gösterdiği yöne doğru yürürse hangi yöne doğru yürümüş olur?

- A) doğu B) kuzey C) güney D) batı

Aşırı yağmurlar ve kar sularının erimesi sonucu aşağıdaki doğal afetlerden hangisi meydana gelir?

- A) Heyelan B) Çığ
C) Deprem D) Sel

Aşağıdaki doğal afetlerden hangisi için ağaçlandırma yapmak alınabilecek önlemlerden biri değildir?

K.3.6

- A. Heyelan B. Sel
C. Çığ D. Deprem

Aşağıda verilen alanlardan hangisinde nüfusun daha seyrek olması gerekir?

- A) Verimli tarım arazilerine sahip yerler
B) Dağlık ve engebeli alanlar
C) Su kaynaklarına yakın düz alanlar
D) Ulaşım yönünden gelişmiş yerler

1. gün

2. gün

3. gün



Tatile gitmek isteyen Tuna, üç gün boyunca havanın uygun olacağını öğrendi.

Hava durumuyla ilgili bilgiler hangi kuruluş tarafından duyurulmaktadır? S.B.4.3.4

- A. Emniyet Genel Müdürlüğü
B. Haberleşme Genel Müdürlüğü
C. Meteoroloji İşleri Genel Müdürlüğü
D. Vakıflar Genel Müdürlüğü

Aşağıdaki ekonomik faaliyetlerden hangisi olumsuz hava koşullarından diğerlerine göre daha az etkilenir?

- A) Madencilik B) Balıkçılık
C) Tarım D) Hayvancılık

En güvenilir yön bulma tekniği aşağıdakilerden hangisidir?

- A. Pusula B. Çubuk gölgesi
C. Karınca yuvaları D. Kutup Yıldızı



Pamukkale travertenleri doğal unsurlardandır. Çünkü

Ravza'nın cümlesi aşağıdakilerden hangisi ile tamamlanabilir?

- A) Denizli'de bulunuyor.
B) turistik önemi vardır.
C) insan eliyle yapılmamıştır.
D) koruma altındadır.

Krokide bulunması gereken bazı özellikler vardır.

Aşağıdakilerden hangisi krokide bulunması gereken bir özellik değildir?

- A. Krokide sembolleri ve bu sembolleri açıklayan bir bölüm olmalıdır.
B. Önemli cadde, sokak ve binaların adları belirtilmelidir.
C. Belli bir ölçeğe göre çizilmelidir.
D. Yönün mutlaka belirtilmesi gerekir.



5 ve 6. soruları krokiye göre cevaplayınız.

Hastane, eczanenin batısında olduğuna göre, eczanenin güneyinde ne vardır?

- A. Ev B. Cami
C. Okul D. İtfaiye

Hastane, eczanenin batısında olduğuna göre, eczanenin güneyinde ne vardır?

- A. Ev B. Cami
C. Okul D. İtfaiye

27) Aşağıda verilen bilgilerden hangisi yanlıştır?

- A) Karınca yuvalarının ağız kuzeyi gösterir.
B) Ağaçların yosunlu tarafı kuzeyi gösterir.
C) Minarelerin kapısı güneyi göstermektedir.
D) Pusulaların renkli ucu kuzeyi gösterir

28) Aşağıdaki yön bulma yöntemlerinden hangisi diğerlerinde farklı bir yönü gösterir?

- A) Karınca Yuvası B) Yosunlar
C) Pusulanın renkli ucu D) Kutup Yıldızı

Aşağıdakilerden hangisi millî kültürümüzü oluşturan öğelerden biri değildir?

- A) Ata sporları
B) Halk oyunları
C) Yöresel yemekler
D) Voleybol

- I. Düşünlerde misafirlere yemek verilmesi
II. Kına gecelerinde kına yakılması
III. Sünnet düğünlerinde çocuğun at yerine arabaya bindirilmesi
IV. Bayramlarda çocuklara harçlık verilmesi

Yukarıdakilerden hangisi kültürel öğelerin geçmişten günümüze değişim gösterdiğine örnek olarak gösterilebilir?

- A) I B) II C) III D) IV

Aşağıda verilen mesleklerden hangisi insanların satın alabileceği bir ürün üretir?

- A) Öğretmen B) Doktor
C) Tamirci D) Marangoz



Son zamanlarda ülkemizin Karadeniz Bölgesi'nde de kivi yetiştirilmeye başlanmıştır.

Yukarıdaki cümlede, kivin ekonomik yolculuğunun hangi aşamasından bahsedilmiştir?

- A) Tüketim B) Dağıtım
C) Üretim D) Reklam

Bireylerin karşılaşmak zorunda olduğu ihtiyaçları vardır. Bu ihtiyaçlara temel ihtiyaçlar ya da zorunlu ihtiyaçlar denir. **Aşağıdakilerden hangisi temel ihtiyaçlar arasında gösterilebilir?**

- A) Ayşe'nin annesiyle yüzme kursuna gitmesi
- B) Filiz'in kış mevsiminde atkı ve eldiven kullanması
- C) Duygu'nun arkadaşlarıyla birlikte tiyatroya gitmesi
- D) Hakan'ın dedesiyle birlikte yurt dışına çıkması

İstek, bir şeye karşı duyduğumuz arzu ya da yönelme duygusudur. İnsan yaşamı için gerekli olan ve yokluğunda sıkıntı çekilen şeylere ihtiyaç denir.

Aşağıdaki örneklerden hangisinin temel ihtiyaçları karşılamaya yönelik olduğu söylenemez?

- A) Ceyda Hanım'ın öğle tatilinde yemek yemesinin
- B) Cengiz Bey'in gösterime yeni giren bir filmi sinemada izlemesinin
- C) Deniz Hanım'ın okumak için geldiği şehirde bir ev kiralamasının
- D) Ali Bey'in yaklaşan kış mevsimi için kendine kaban almasının

35) Aşağıdakilerden hangisi ihtiyaçlar sıralamasında diğerlerinden sonra gelmelidir?

- A) Ayakkabı
- B) Ekmek
- C) Saat
- D) Süt

Yeni doğmuş bir bebekle, 11 ve 25 yaşındaki birinin istek ve ihtiyaçları aynı değildir.

Buna göre aşağıdakilerden hangisi söylenebilir?

- A. Yaş ilerledikçe ihtiyaçlar azalır.
- B. İhtiyaç ve istekler yaşa göre değişir.
- C. 11 yaşındaki birinin ihtiyaçları, 25 yaşındaki birinin ihtiyaçlarından daha önemlidir.
- D. Bebeklerin ihtiyaçları önemli değildir.

- I. Tarlada biber yetiştirdik.
- II. Biber sebze haline yollandı.
- III. Sebze halinde biberler satıldı.

Üretilen bir biberin geçtiği aşamalar hangi seçenekte sırasıyla verilmiştir?

- A) Üretim - Tüketim - Dağıtım
- B) Tüketim - Dağıtım - Üretim
- C) Dağıtım - Tüketim - Üretim
- D) Üretim - Dağıtım - Tüketim

Üretimden sonra ürünlerin motorlu araçlarla mağazalara ulaştırılmasına aşağıdakilerden hangisi denir?

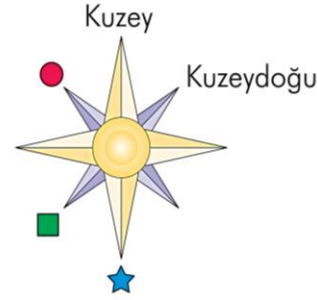
- A) Üretici
- B) Dağıtım
- C) Tüketim
- D) Üretim

Evimizde kullandığımız teknolojik ürünler aşağıdakilerden hangisini sağlamaz?

- A. Zamandan tasarruf sağlar.
- B. Hayatımızı kolaylaştırır.
- C. Bizi tembelliğe iter.
- D. Kısa sürede çok iş yapmamızı sağlar.

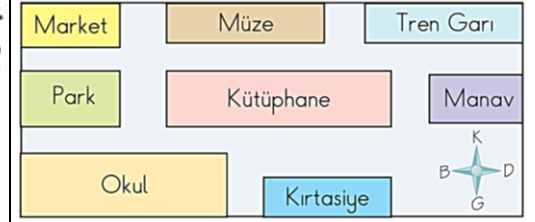
Atıkların ayrı ayrı bölümlerde biriktirip tekrar kullanılır hâle getirilmesine ne denir?

- A. Atık
- B. Çevreye katkı
- C. Geri dönüşüm
- D. Tema



Görselde sembollerle ifade edilen yerlere hangileri gelmelidir?

- A. Kuzeybatı
 - B. Kuzeybatı
 - C. Güneybatı
 - D. Güneydoğu
- Güneydoğu
 - Güneybatı
 - Kuzeybatı
 - Kuzeydoğu
- Güney
 - Güney
 - Kuzey
 - Kuzey



Yukarıdaki krokiye göre verilen ifadelerden hangisi yanlıştır?

- A. Kütüphane, parkın doğusundadır.
- B. Tren garı, okulun kuzeydoğusundadır.
- C. Kırtasiyeden çıkıp önce doğu, sonra kuzey yönüne gidilirse parka ulaşılır.
- D. Müzenin doğusunda tren garı, batısında market vardır.

- İnsan eli değmeden ve doğada kendiliğinden oluşan unsurlardır.
- Bir yerin kuş bakışı görünüşünün kabataslak çizilmiş hâlidir.
- Bir konu ile ilgili bilgilerin düzenlenip sınıflandırılarak gösterilmesidir.

Yukarıdaki ifadelerle kavramlar eşleştirildiğinde hangisi açıkta kalır?

- A. Kroki
- B. Doğal unsur
- C. Doğal afet
- D. Şema

44) Aşağıdakilerden hangisi doğal çevreyi bozan etkenlerden biri değildir?

- A) İnsanlar
- B) Teknolojik atıklar
- C) Bitkiler
- D) Çöpler