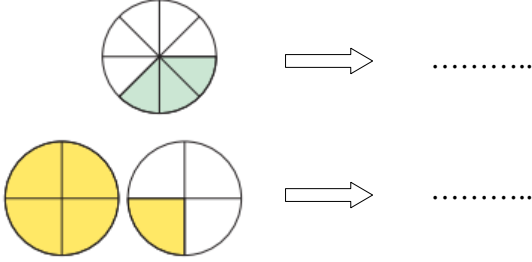


4. SINIF MATEMATİK 2. DÖNEM 2. YAZILI SINAVI

ADI-SOYADI:

PUANI:

1.Aşağıda modellenen kesirleri karşılarına yazın.(4p)



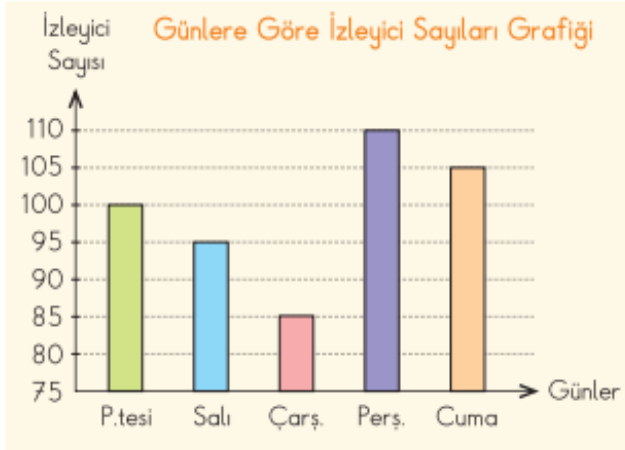
2.Aşağıda verilen işlemleri yapın.(4P)

$$\frac{8}{3} - \frac{4}{3} = \frac{\square}{\square} \quad \frac{10}{5} + \frac{6}{5} = \frac{\square}{\square}$$

3.Aşağıdaki zaman çevirmelerini yapın.(4p)

5 dakika = saniye
3 saat = dakika
2 gün = saat
4 hafta = gün

4.Aşağıda verilen sütun grafiğine göre soruları cevaplayın.



En çok izleyici hangi gün gelmiştir?(2p)

.....

En az izleyici hangi gün gelmiştir?(2p)

.....

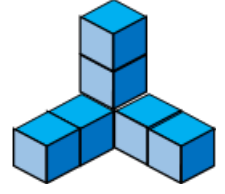
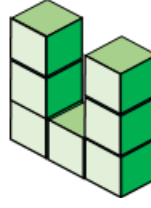
Bu oyunu Cuma gün izleyenler Salı gün izleyenlerden kaç fazladır?(4p)

.....

Bu oyunu beş günde toplam kaç kişi izlemiştir?(4p)

.....

5.Aşağıdaki yapıların kaç birim küpten oluştuğunu bulup altına yazınız. (4p)

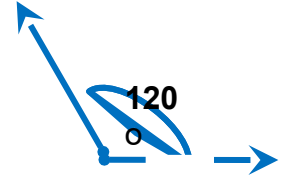


.....

.....

6.Aşağıdaki açıların çeşitlerini yazınız.(8p)

90°



.....

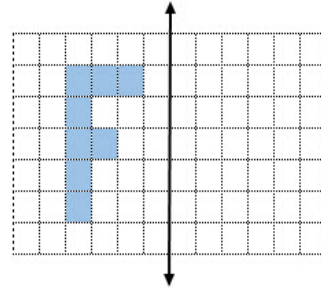
.....



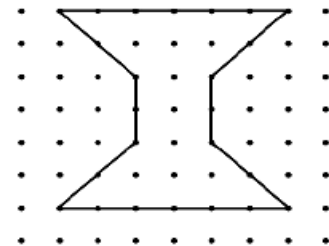
45°

180°

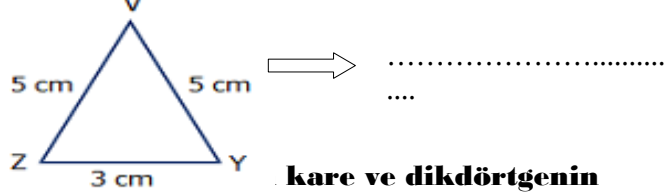
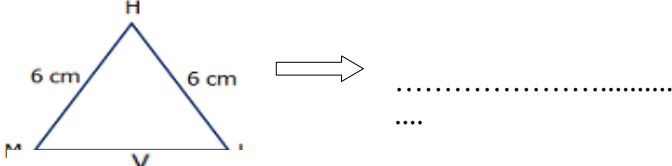
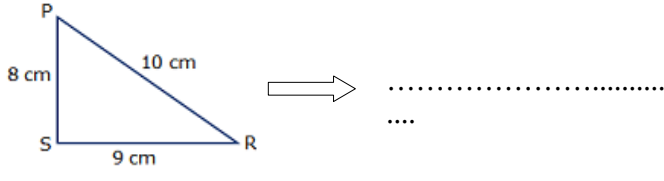
7.Aşağıdaki şekilleri simetri doğrusuna göre tamamlayınız.(4p)



8.Aşağıda verilen şeklin simetri doğrularını çizin.(4p)



9.Aşağıda verilen üçgenleri kenar uzunluklarına göre isimlendirelim.(6p)



kare ve dikdörtgenin alanlarını bulun.(8p)



Alan :.....

Alan :.....

11. Aşağıdaki uzunluk ölçüsü çevirmelerini yapın.(4p)

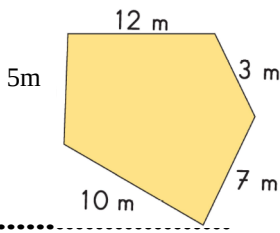
7 km = m

7 m 80 cm =cm

80 mm = cm

365 cm = m.....cm

12.Aşağıdaki düzlemsel şeklin çevre uzunluğu kaçtır?(4p)



13.Aşağıdaki çevirmeleri yapınız. (4p)

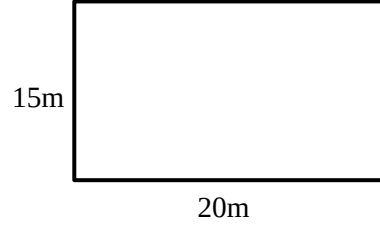
5kg =.....g

34g =.....mg


6t =.....kg

2750g =.....kg.....g

14.Mehmet Bey kısa kenarı 15m, uzun kenarı 20m olan dikdörtgen şeklindeki bahçesinin etrafına 2 sıra tel çekiyor. Mehmet Bey bahçesi için kaç m tel kullanmıştır?(10p)



15. Eren kare şeklindeki parkın etrafında bir tur atınca 56 metre yürümüş oluyor. Buna göre bu parkın bir kenarının uzunluğu kaç metredir?(10p)



16.Fatma Hanım, 2 L'lik sütün 250 mL'sini kek, 325 mL'sini sütlaç için kullandı. Geriye kalan süt miktarı kaç mililitredir?(10p)



Başarılar dilerim...