

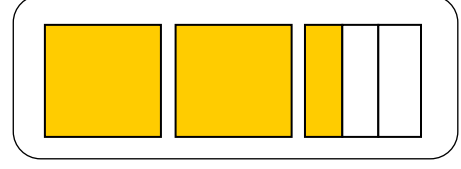
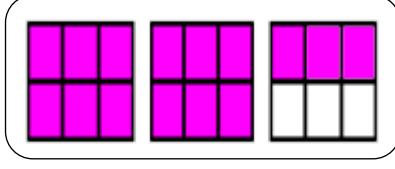
ADI SOYADI:

NO:

PUANI:

4.SINIFLAR 2. DÖNEM 1. MATEMATİK DEĞERLENDİRME SINAVI

1) Aşağıdaki şekillerde boyalı kısımları gösteren kesirleri altlarına yazınız. (9p)



2) Aşağıdaki sayı doğrusunda gösterilen harflere denk gelen kesirleri bulup yanına yazınız. (4p)



3) Sembol kullanarak büyükten küçüğe sıralayınız. (6p)

$$\frac{4}{8} \quad \frac{3}{8} \quad \frac{7}{8} \quad \frac{9}{8} \quad \longrightarrow$$

4) Okunuşları verilen kesirleri yazınız. (8p)

Yedi bölü dokuz =

Beş tam dört bölü on =

Onda sekiz =

İki tam üç bölü altı =

5) Aşağıdaki çıkarma ve toplama işlemlerini yapınız. (8p)

$$\frac{6}{7} - \frac{2}{7} =$$

$$\frac{9}{16} - \frac{2}{16} =$$

$$3\frac{5}{9} + 2\frac{2}{9} =$$

$$\frac{2}{14} + \frac{5}{14} =$$

6) 96 sayısının $\frac{3}{6}$ 'ü kaçtır? (4p)7) Bir yolun önce $\frac{4}{9}$ 'ü , sonra $\frac{2}{9}$ 'si gidilmiştir.

Buna göre bu yolun kaçta kaç kalmıştır? (4p)

8) Bir bahçede toplanan 144 kg elma 4 aile tarafından eşit olarak paylaşıldı. Her bir aileye kaç kg elma düşmüştür? (4p)

9) Verilen doğal sayıların okunuşlarını ve okunuşları verilen doğal sayıları rakamla yazınız. (8p)

104 052:.....

50 505 :.....

Doksan bin yedi :

Yüz beş bin altı:

10) Sabah 08.20 'de ders başlıyor. 12.50 'de bitiyor. Acaba kaç saat ve kaç dakika okulda kalıyorum? (5p)

11) Aşağıda verilen dönüşümleri yaparak, boşlukları uygun şekilde doldurunuz. (10p)

2 saat 30 dakika = dakika

180 saniye = dakika





2 dakika 25 saniye = saniye

98 dakika = saat dakika

2 hafta 4 gün = gün

12) Tabloya göre çiftlikteki toplam hayvan sayısı kaçtır?

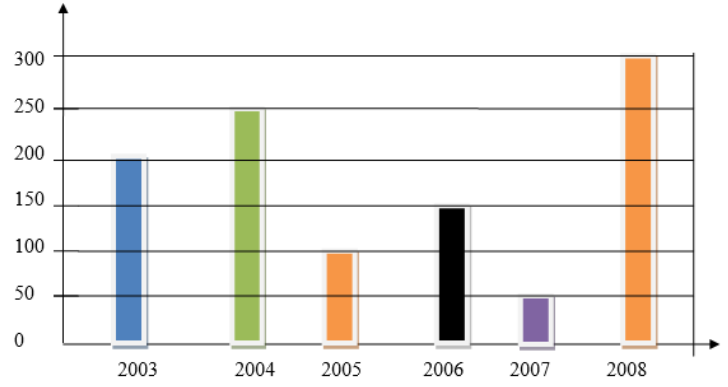
Not: Her şekil 3 hayvanı gösterir. (6p)

İnek	
Ördek	
Tavuk	
Koyun	

Yanıt:

13) (16p)

Üretilen Fındık Miktarı (ton)



Üstteki grafiğe göre:

a. En çok fındık hangi yıl üretilmiştir?

.....

b. 2004 ve 2005 yıllarında toplam kaç ton fındık üretilmiştir?

.....

c. En az fındık hangi yıl üretilmiştir?

.....

d. En az fındık üretilen yıl ile en çok fındık üretilen yıl arasında kaç ton fark vardır?

.....

14) Aşağıda işlemleri yapınız. (8p)

$$\begin{array}{r} 5466 \\ + 2845 \\ \hline \end{array}$$

.....

$$\begin{array}{r} 6293 \\ - 3458 \\ \hline \end{array}$$

.....

$$\begin{array}{r} 149 \\ \times 3 \\ \hline \end{array}$$

.....

7	4	2		7
□	□	□		□□□
□□□				
□□				
□□				