

4. SINIF MATEMATİK DERSİ 2. DÖNEM 1 YAZILISI

Adı - Soyadı:

NOTU:

A.)Aşağıdaki zaman ölçümlerini belirtilen birimlere çeviriniz. (10puan)

98 ay =yılay


127dakika =sa.....dk
.....yılay

123 gün=.....hafta.....gün


478 gün=.....yıl.....gün

2dk 25 saniye =saniye

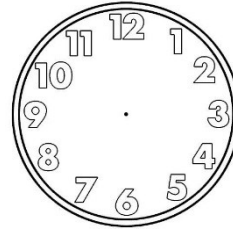
B.)Aşağıdaki saatlerin gösterdikleri zamanları akrep ve yelkovan çizerek saat üzerinde gösteriniz? (4x2=8 puan)




15.05



17.50



04.10



08.40

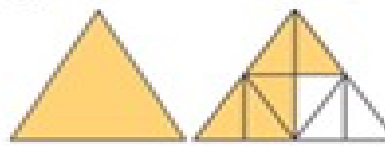
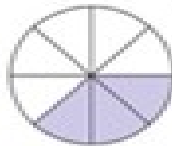
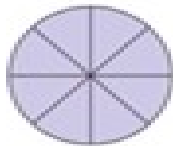
C.)Aşağıda verilen kesirlerin okunuşlarını, okunuşları verilen kesirlerin ise yazılışlarını yanlarına yazınız. (3 x 2 = 6 puan)

KESİR	OKUNUŞU
.....
.....
.....

OKUNUŞU	KESİR
Üç bölü dört
Dokuzda beş
Beş tam dörtte üç

2.) $2\frac{3}{4}$ tam sayılı kesrini aşağıdaki sayı doğrusunda gösteriniz. (2 puan)

8.) Aşağıda modellenen kesirleri altlarına yazınız. (3 x 1 = 3 puan)



.....

.....

.....

C) Aşağıdaki problemleri çözelim. (5 x 4 = 20 puan)

1.) Saat 12.25'te ders çalışmaya başlayan Anıl, 14.10'da çalışmayı bırakmıştır. Anıl, kaç saat ders çalışmıştır?

2.) İzlediğimiz tiyatro gösterisi 105 dakika sürmüştür. Tiyatronun bitişi 12.45 olduğuna göre tiyatro oyunu saat kaçta başlamıştır?

3.) Otobüs 4200 kilometrelik yolun $\frac{2}{8}$ 'ini gitmiştir. Geriye gitmesi için daha kaç kilometre yol kalmıştır?

4.) Bir yolun önce $\frac{4}{15}$ 'i sonra da $\frac{7}{15}$ 'i asfaltlandı. Asfaltlanmayan yol tamamının kaçta kaçtır?

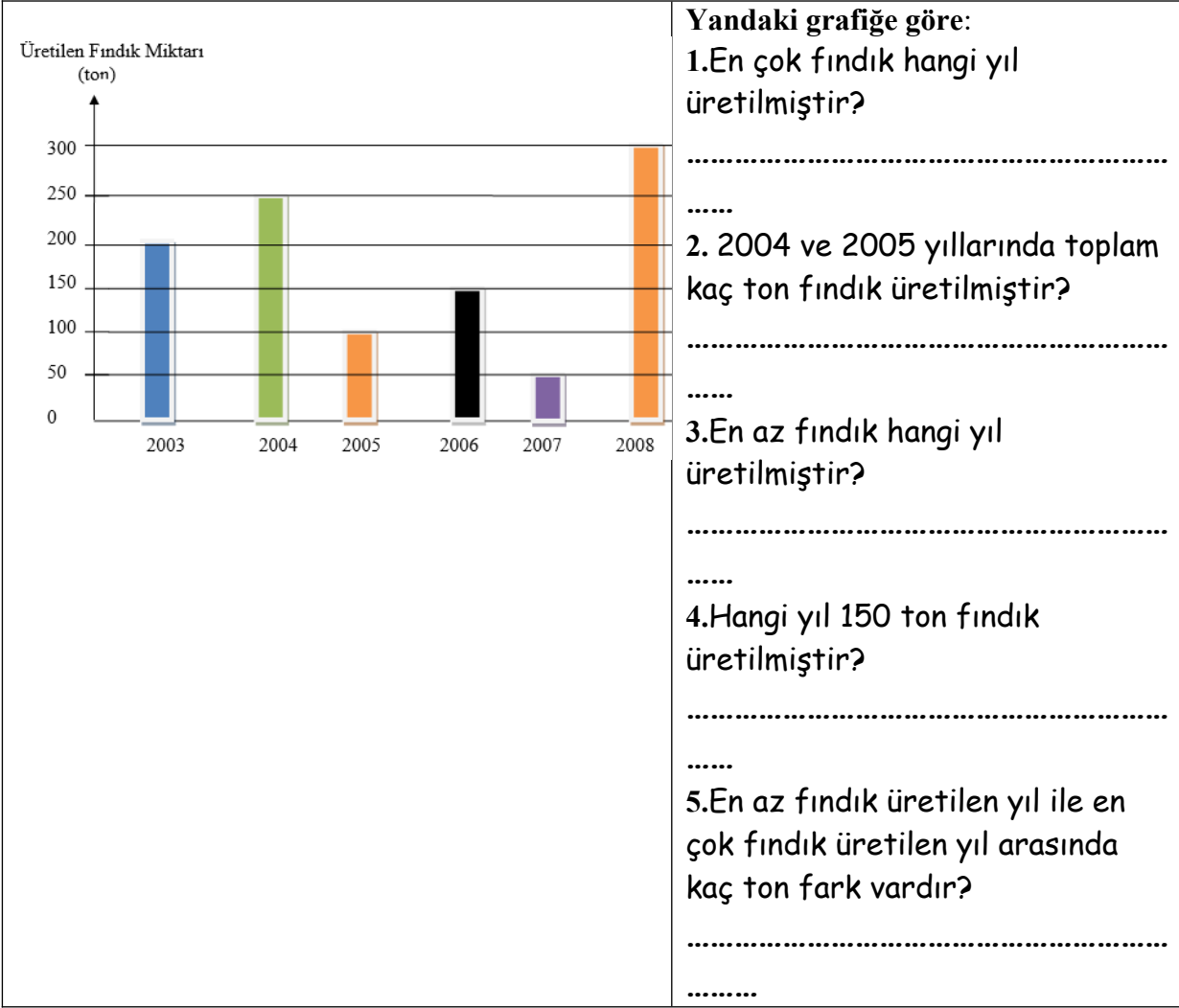
5.) 240 kg. pirincin önce $\frac{1}{6}$ 'i, sonra $\frac{3}{6}$ 'ü satıldı. Geriye kaç kg. pirinç kalmıştır?

D.) Aşağıdaki verilere göre soruları cevaplayınız.

1.) Okulumuzda açılan müzik kursuna; saza 15 öğrenci, flütte 12 öğrenci, gitara 18 öğrenci, davula 8 öğrenci, katılmak için başvurmuşlardır. Verilere uygun olarak tablo ve grafikleri oluşturunuz. (8 puan)

Kurs Adı	Öğrenci sayısı
Saz	
Flüt	
Gitar	
Davul	



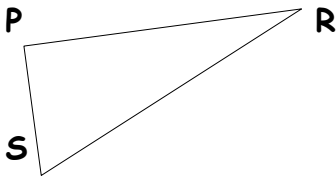
2-) Yıllara göre üretilen fındık miktarının verildiği sütun grafiğini inceleyerek soruları cevaplayınız. (5 puan)



E.)

Aşağıdaki geometri sorularını dikkatle cevaplayınız. (3 x 3 = 9 puan)

1.)Aşağıda verilen üçgen, kare ve dikdörtgeni 3 şekilde isimlendirilip, yazınız.



.....

.....

.....

.....

.....

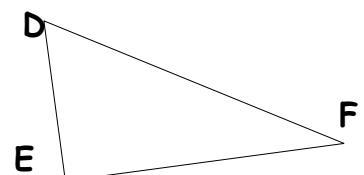
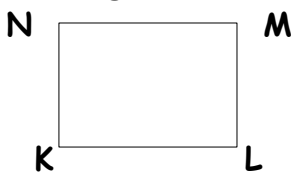
.....

.....

.....

.....

2.) Aşağıdaki şekillerin kenar uzunluklarını sembolle gösteriniz. (9 puan)



.....

.....

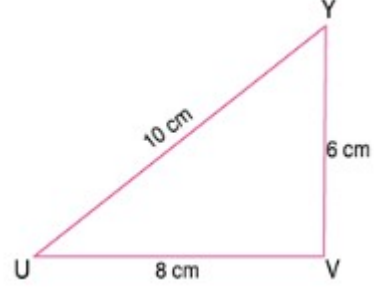
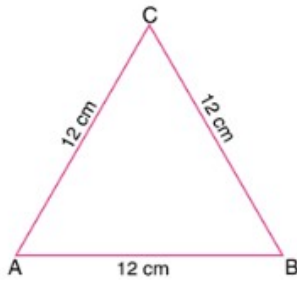
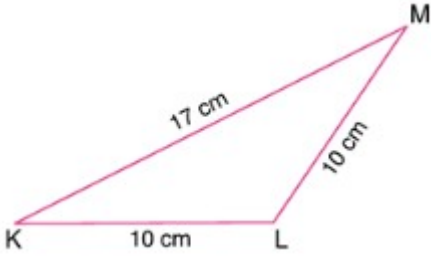
.....

.....

.....

.....

3.)Aşağıdaki üçgenlerin adlarını kenar özelliklerine göre altlarına yazınız. (3 puan)



BÜTÜN CEVAPLARINIZI KONTROL EDİNİZ..
BAŞARILAR.