



4.SINIF MATEMATİK DERSİ II. DÖNEM I. SINAVI

Adı Soyadı, Numarası:

Puan:

1. Kesirleri şekillerin altına yazınız. (6x2= 12 puan)


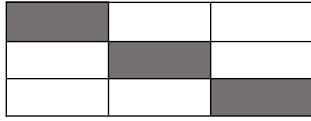


.....

.....

.....

.....



.....

.....

2. Aşağıdaki kesirleri büyükten küçüğe sıralayınız. (4x2=8 puan)

$$\frac{1}{5} \quad \frac{1}{18} \quad \frac{1}{10} \quad \frac{1}{24}$$

> > >

.....

3. Aşağıdaki kesirler ve türleri eşleştirmesini yapınız. (5x2= 10 puan)

a	Basit kesir
b	Bileşik kesir
c	Tam sayılı kesir

	$\frac{7}{16}$
	$3\frac{4}{9}$
	$\frac{8}{5}$
	$\frac{1}{25}$
	$\frac{6}{6}$

4. Aşağıdaki kesirleri küçükten büyüğe sıralayınız. (4x2=8 puan)

$$\frac{1}{8} \quad \frac{5}{8} \quad \frac{7}{8} \quad \frac{2}{8}$$

< < <

.....

5. Aşağıdaki işlemleri yapınız. (2x6=12 puan)

$$\frac{5}{12} + \frac{3}{12} =$$

$$\frac{9}{15} - \frac{4}{15} =$$

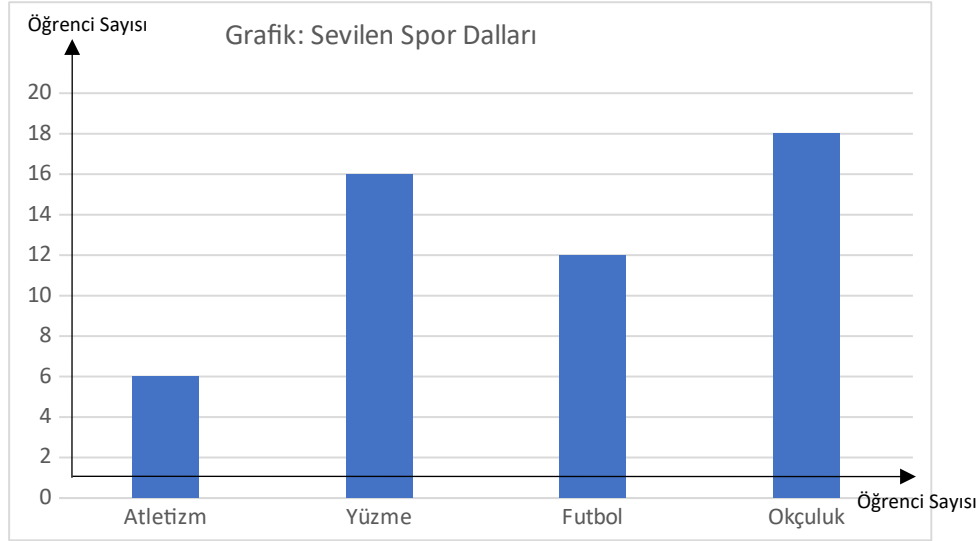
***6, 7, 8 ve 9. Soruları grafiğe göre cevaplayınız

6. Grafiğe göre en çok tercih edilen spor dalı hangisidir? (5puan)

- A. Voleybol B. Basketbol
C. Futbol D. Okçuluk

7. Bu grafik için toplam kaç kişi görüş bildirmiştir? (5puan)

- A. 50 B. 52
C. 54 D. 56



8. Okçuluğu tercih edenler futbolu tercih edenlerden kaç kişi fazladır? (5puan)

- A. 10 B. 6 C. 8
D. 12

9. Grafiğe göre aşağıdaki yorumlardan hangisi yapılamaz? (5puan)

- A. En az tercih edilen spor dalı atletizmdir.
B. Yüzmeyi tercih edenler, futbolu tercih edenlerden 4 kişi daha fazladır.
C. Futbol ve atletizmi seçenlerin toplamı okçuluğu tercih edenler kadardır.
D. En çok basketbol tercih edilmiştir.

10. Nihal hanım şubat ayının $\frac{1}{4}$ ini dinlenerek geçirdi. Çalıştığı günlerin sayısı kaçtır? (5puan)

- A. 7 B. 14 C. 21 D. 28

11. Bir kasap elindeki 256 kg etin $\frac{5}{8}$ ünü sattığına göre elinde geriye kaç kg et kalmıştır? (5puan)

- A. 160 B. 190 C. 94 D. 200

12. Aşağıdaki boşlukları gerekli dönüşümleri yaparak doldurunuz. (10x2=20 puan)

* Bir günsaattir.

* 2 saat 15 dakikadakikadır.

* 165 dakikasaat.....dakikadır.

* 35 günhaftadır.

* 2 ay 10 güngündür.

* 5 yılaydır.

* 240 günaydır.

* 3 saat.....saniyedir.

* Bir yıl.....gün.....saattir.

* 540saniye.....dakikadır.