

4.SINIF MATEMATİK 2. DÖNEM 1. YAZILI SINAV SORULARI

Adı Soyadı:.....

Okul No:.....

Not:.....

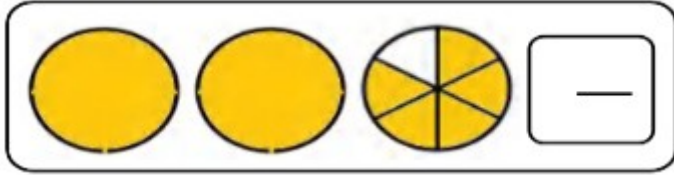
1. Aşağıdaki kesirlerin okunuşlarını yazınız. (6p)

$\frac{8}{5} =$

$\frac{7}{12} =$

$2\frac{1}{3} =$

2. Aşağıdaki kesir modellerinin yanlarına kesirlerini yazınız. (6p)



$\frac{2}{4}$, $\frac{5}{4}$, $\frac{4}{4}$, $\frac{8}{4}$

3. Yukarıdaki kesirleri küçükten büyüğe sembol kullanarak sıralayınız. (4p)



4.

1

- gün saattir.
- hafta gündür.
- ay gündür.
- ay haftadır
- yıl aydır.
- yıl haftadır.
- yıl mevsimdir.
- yıl gündür.

(7p)

5. Aşağıdaki işlemleri yapınız. (8p)

	2	7	0	5	
-	_____				
-	_____				

		2	5	2
	x		3	2

+				

6. Aşağıda verilen dönüşümleri yapınız. (8p)

1 saat 30 dakika = dakika

120 saniye = dakika

2 saat 10 dakika = dakika

2 dakika 20 saniye = saniye

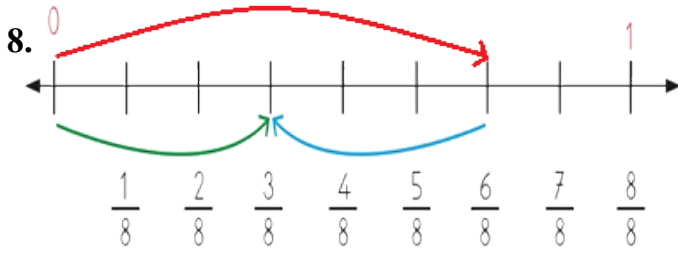
7.

Çiftlikteki toplam hayvan sayısı kaçtır?

Inek	
Ördek	
Tavuk	
Koyun	

Not: Her şekil 3 hayvanı gösterir.(5p)

- A) 34 B) 18 C) 36 D) 54



Sayı doğrusunda yapılan işlem hangisidir?

- A) $\frac{3}{8} + \frac{3}{8} = \frac{6}{8}$ C) $\frac{6}{8} - \frac{3}{8} = \frac{3}{8}$
B) $\frac{8}{8} - \frac{2}{8} = \frac{6}{8}$ D) $\frac{8}{6} - \frac{2}{6} = \frac{6}{6}$

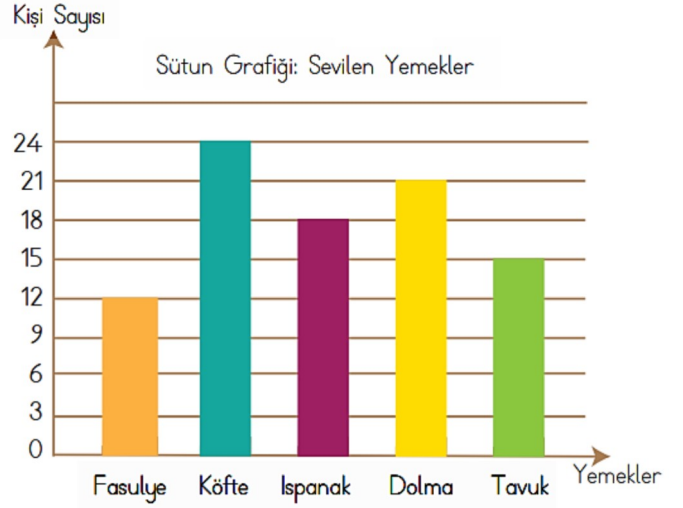
(5p)

9. Yandaki saatin 2 saat 15 dakika sonrası saat kaç gösterir? (5p)



- A) 12:25 B) 12:30
C) 02:15 D) 14:15

10. Yiğit, arkadaşlarına sevdikleri yemeklerle ilgili bir anket hazırlamıştır. Anket sonuçlarına göre oluşturulan grafik üzerinden soruları yanıtlayınız. (12p)



- a) En çok sevilen yemek hangisidir?
b) En az sevilen yemek hangisidir?
c) Köfte sevenlerin sayısı, tavuk sevenlerin sayısından kaç kişi fazladır?
d) Ankete toplam kaç kişi katılmıştır?

11. Duru'nun parasının $\frac{3}{5}$ 'ü 30 TL'dir. Duru'nun parasının tamamı kaç TL'dir? (5p)

- A) 18 B) 6 C) 10 D) 50

12. 60 litre yağı 3 litrelik şişelere koymak istersek kaç tane şişe gerekir? (5p)

- A) 19 B) 20 C) 21 D) 22

13. Aşağıda verilen çetele tablosuna göre hangisi yanlıştır? (3p)

Tüketilen Ekmek Miktarı

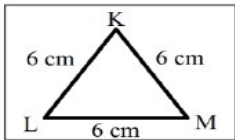
Günler	Ekmek Miktarı
Pazartesi	////
Çarşamba	///
Cuma	###—
Pazar	###+

- A. Tüketilen ekmek sayısı en fazla pazar günüdür.
B. Tüketilen ekmek miktarı en az çarşambadır.
C. Toplam 20 ekmek tüketilmiştir.
D. Cuma günü 5 ekmek tüketilmiştir.

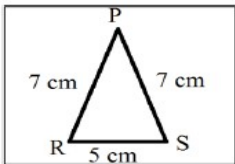
14. Sabah **08.10** 'da ders başlıyor. **12.40** 'da bitiyor. Acaba **kaç saat, kaç dakika** okulda kalıyorum? (6p)

15. Bir çuval mercimeğin önce $\frac{3}{10}$ 'ü, sonra $\frac{5}{10}$ 'i satılıyor. Geriye 12 kilogram mercimek kaldığına göre bir çuval kaç kilogramdır? (6p)

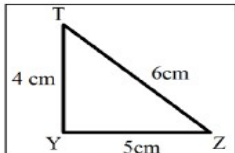
16. Aşağıdaki üçgenleri kenar uzunluklarına göre çeşitleriyle eşleştiriniz. (6p)



Çeşitkenar Üçgen



Eşkenar Üçgen

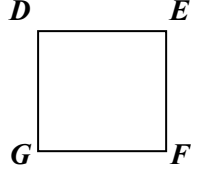


İkizkenar Üçgen

17. Küp ile ilgili bilgilerden hangisi yanlıştır? (3p)

- A. 6 kare yüzeyi vardır.
B. 4 köşesi vardır.
C. 12 ayrıtı vardır.
D. Küpün farklı açınımları vardır

18. Yandaki kareyi aşağıdakilerde hangisi ile adlandıramayız? (3p)



- A) DEFG B) GDEF
C) GFED D) EGFD

19.

$$\begin{array}{r} \square \quad | \quad 9 \\ - \quad \quad | \quad 12 \\ \hline \square \end{array}$$

Yukarıdaki bölme işleminde bölünen **en çok** kaç olabilir?

- A. 116 B. 109
C. 108 D. 104

(5p)

20. Aşağıdaki sayı doğrusunda “A” harfi ile gösterilen kesir aşağıdakilerden hangisidir? (3p)

