

MATEMATİK DERSİ 4-A SINIFI 2. DÖNEM 1. YAZILI SINAV SORULARI

1. Aşağıdaki işlemleri yapınız.

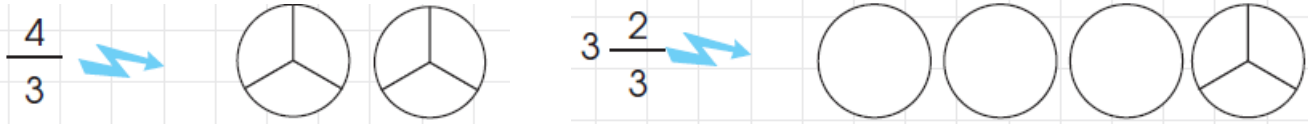
$$\begin{array}{r} 2576 \\ + 1464 \\ \hline \end{array}$$

$$\begin{array}{r} 7100 \\ - 1505 \\ \hline \end{array}$$

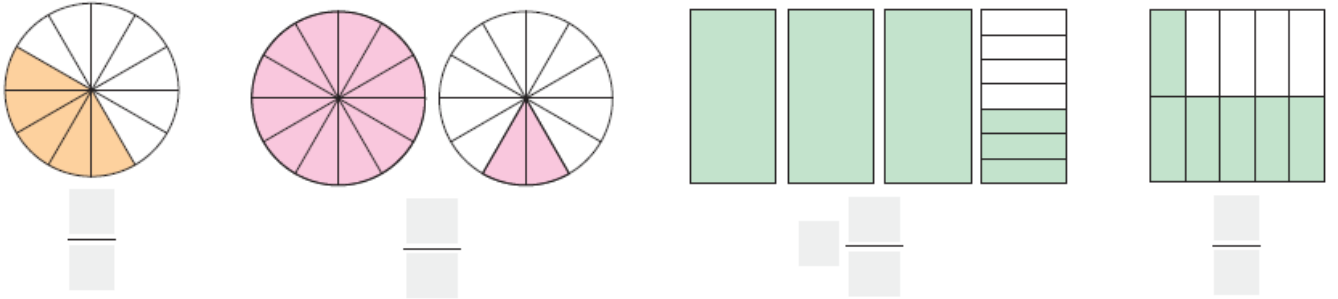
$$\begin{array}{r} 267 \\ \times 58 \\ \hline \end{array}$$

$$\begin{array}{r} 7632 \overline{) 8} \\ \hline \end{array}$$

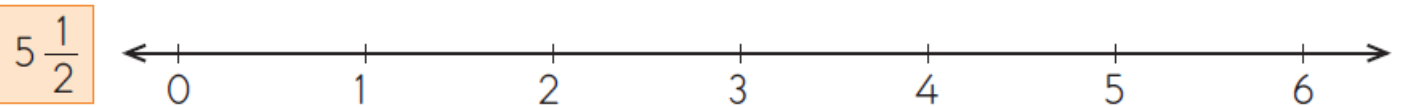

2. Aşağıda verilen şekilleri belirtilen kesir kadarını boyayınız. **2x3=6 puan**



3. Aşağıdaki şekillerin boyalı kısmına karşılık gelen kesirleri yazınız. **4x2=8 puan**



4. Aşağıdaki sirlere sayı doğrusunda gösteriniz. **(3x2=6puan)**



5. Aşağıda verilen kesirleri **büyükten küçüğe** doğru sıralayınız. **(2x3=6 puan)**

a) $\frac{1}{14}$ $\frac{1}{11}$ $\frac{1}{13}$ \rightarrow $\frac{\quad}{\quad} > \frac{\quad}{\quad} > \frac{\quad}{\quad}$

b) $\frac{8}{14}$ $\frac{5}{14}$ $\frac{10}{14}$ \rightarrow $\frac{\quad}{\quad} > \frac{\quad}{\quad} > \frac{\quad}{\quad}$

6. Aşağıda verilen kesir işlemlerini yapınız. **(2x3=6 puan)**

a) $\frac{8}{6} + \frac{2}{6} + \frac{7}{6} = \frac{\quad}{\quad}$

b) $4\frac{3}{10} + 4\frac{5}{10} = \frac{\quad}{\quad}$

c) $4\frac{7}{9} - 2\frac{1}{9} = \frac{\quad}{\quad}$

7. Ayşe Hanım'ın 720 ₺ parası vardı. Ayşe Hanım parasının $\frac{3}{4}$ 'ü ile elektrik süpürgesi aldı. Ayşe Hanım'ın geriye kaç TL parası kalmıştır? (6 puan)

8. Kumbaramda çıkan paranın $\frac{2}{7}$ 'si 32 ₺'dir. Buna göre kumbaramdaki paranın tamamı kaç ₺'dir? (6 puan)

9. Simge parasının $\frac{3}{9}$ 'ü ile dondurma, $\frac{2}{9}$ 'si ile de çikolata aldı. Simge'nin geriye parasının kaçta kaç kalmıştır? (6 puan)

10. 20.35'te başlayan bir film 1 saat 45 dakika sürmüştür. Buna göre film saat kaçta bitmiştir? (6 puan)

11. Aşağıdaki zaman ölçüm birimleri arasındaki dönüşümleri yapınız? (6x2=12 puan)

9 dakika=saniye

100 dakika=saat Dakika

210 dakika=.....saat dakika

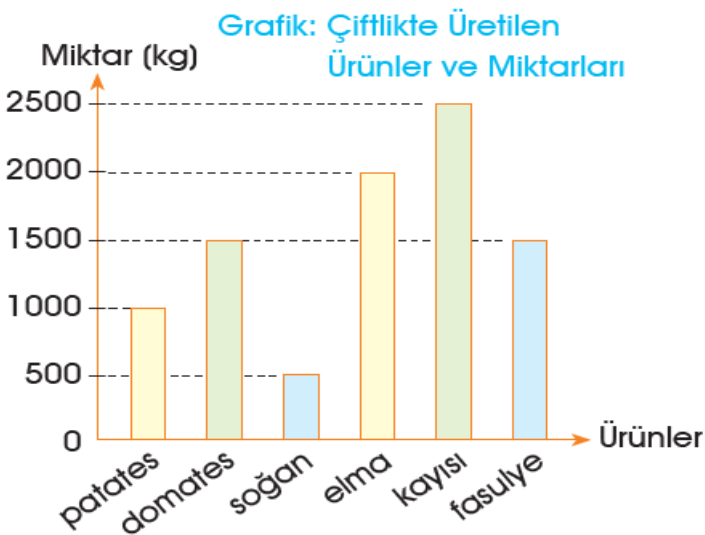
150 saniye=.....dakika saniye

1 yıl=.....ay

1 yıl=.....hafta

12. Akşam saat 21.30'da uyuyan Ezgi saat 8.00'da uyanıyor. Buna göre Ezgi toplam kaç saat uyumuştur? (7 puan)

(3x3=9 puan)



13. Yandaki grafiğe göre en çok satılan ürün hangisidir?.....

14. En çok satılan ürün ile en az satılan ürün arasındaki fark kaçtır?
.....

15. Sebze üretimi meyve üretiminden kaç kg fazladır.

Başarılar Dilerim...