

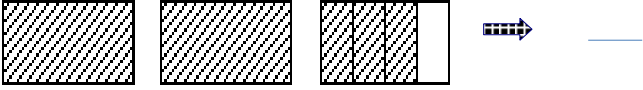

4. SINIF MATEMATİK DERSİ 2. DÖNEM 1. YAZILISI

NOT:

Adı Soyadı :

Numara :

1) Aşağıdaki bütünlerin boyalı kısımlarını gösteren kesri yazınız. (6p)




2) Aşağıda paydaları eşit kesirleri küçükten büyüğe doğru sembol kullanarak sıralayınız. (3p)



3) Aşağıda birim kesirleri, büyükten küçüğe doğru, yanındaki kutucuğa sıralayınız. (3p)




3) Aşağıdaki kesirlerde toplama ve çıkarma işlemlerini yapınız. (8p)



4) Aşağıda verilen dönüşümleri yapınız. (6 puan)

- ✓ 2 saat 30 dakika = dakika
- ✓ 240 saniye = dakika
- ✓ 3 yıl = ay
- ✓ 120 gün = ay
- ✓ 4 hafta = gün
- ✓ 24 ay = yıl



5) Yukarıdaki sayı doğrusuna göre aşağıdaki işlemin sonucu kaçtır? (5p)

B - A = ?



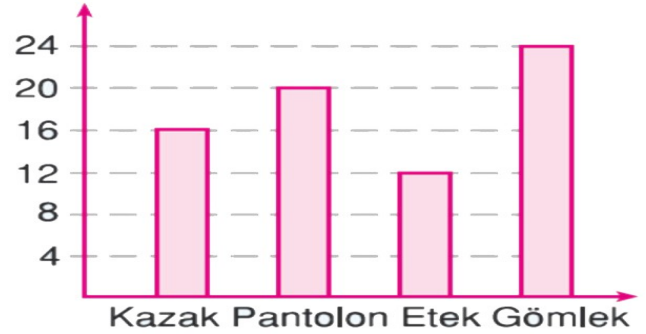
Üretim Tarihi: **23.04.2021**

Son Kullanma Tarihi: **15.05.2021**

6) Yukarıda Üretim tarihi ve son kullanma tarihi verilen süt kaç gün içinde tüketilmelidir? (4p)

Cevap:

Sayısı



7) Yukarıdaki sütun grafiğinde, bir mağazada bir günde satılan ürünlerin sayısı gösterilmiştir. Aşağıdaki soruları grafiğe göre cevaplayınız. (12p)





a) En çok satılan ürün ile en az satılan ürünün farkı kaçtır?

b) Grafiğe göre mağazada bir günde toplam kaç ürün satılmıştır?

c) Bir pantolonun satış fiyatı 98 TL ise, bir günde pantolon satışından elde edilen para kaç TL'dir?

d) Bir haftada kaç kazak satılmıştır?

8) Çiftlikteki toplam hayvan sayısı kaçtır?

Inek	
Ördek	
Tavuk	
Koyun	

Not: Her şekil 3 hayvanı gösterir. (3p)

Cevap:

9) Ayşe, ödevinin önce $\frac{4}{9}$ ' ünü, sonra $\frac{2}{9}$ ' sini yaptı.

Ayşe ödevinin kaçta kaçını yapmıştır? (4p)

10) Emine teyze 63 tane köy yumurtasının $\frac{3}{7}$ 'sini sattı. Emine teyze kaç yumurta satmıştır? (4p)

11) Bir bakkal elindeki 180 paket çikolatanın önce $\frac{3}{9}$ daha sonra $\frac{4}{9}$ 'ünü sattı. Geriye kaç paket çikolata kaldı? (4p)

12) Su deposundaki suyun $\frac{3}{8}$ 'ü kullanılınca depoda 350 L su kalmış, Depo tam dolduğunda kaç L su alır? (4p)

13) $\frac{2}{5}$ 'si 48 kg olan fıncığın tamamı kaç kg'dir? (4p)

14) 120 sayının $\frac{2}{6}$ si ile $\frac{3}{8}$ ünün toplamı kaçtır?(5p)

15) 12.05.1989'da doğan Fatma'nın 26.09.2020 tarihinde yaşını gün, ay ve yıl olarak yazınız. (4p)

16) İrem'in saati 9 dk geri, Tarık'ın saati 6 dk ileridedir. Tarık'ın saati 20.43 iken İrem saati kaç gösterir? (4p)

17) Akşam 21.45'te uyuyan İsmail, 9 sa 25 dk uyumuştur. İsmail sabah kaçta uyanmıştır? (4p)

18) Saat 16.00 da başlayan bir voleybol maçında birinci set 28 dk, ikinci set 25 dk, üçüncü set ise 34 dk sürmüştür. Set aralarında 5'er dk ara verildiğine göre maç saat kaçta bitmiştir? (5p)

19) Saat 13.45'te derse başlayan Zehra, 15.35'çalışmayı bırakmıştır. Zehra kaç dakika ders çalışmıştır. (4p)

20) Sabah saat 06.30'da uyanan Salih 8 sa 30 dk uyuduğuna göre akşam kaçta yatmıştır? (4p)