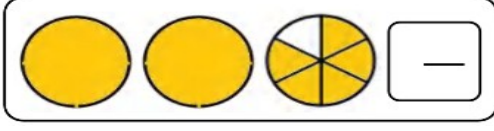


4. Sınıf MATEMATİK Dersi 2.Dönem 1.Yazılı Sınavı


1) Aşağıdaki kesir modellerinin yanlarına kesir

sayılarını ve isimlerini yazınız. 6p.

Basit - bileşik- tam sayılı - birim - ikim



2) 35 sayısının $\frac{2}{5}$ si kaç eder? 4p.

3)  Babamın yaşı, benim yaşıma 5 katı kadardır.

Ali'nin babası 40 yaşında olduğuna göre ikisinin yaşları toplamı kaçtır? 4p.

4) $82 \times A = 82\ 000$

Yukarıdaki işlemde "A" kaçtır? _____ 3p.

5) Bir mesafeyi 2 dakika 58 saniyede koşan bir sporcu, bu mesafeyi toplam kaç saniyede koşmuş olur? 3p.



6) Aşağıdaki boşlukları doğru bir şekilde tamamlayalım.

8p.

TARİH:	/ / 2022
PUANI:	

1

- gün saattir.
- hafta gündür.
- ay gündür.
- ay haftadır
- yıl aydır.
- yıl haftadır.
- yıl mevsimdir.
- yıl gündür.

7) Aşağıda verilen dönüşümleri yapınız. 4p.

- ✓ 2 saat 30 dakika = dakika
- ✓ 240 saniye =dakika
- ✓ 3 dakika 20 saniye =saniye
- ✓ 4 hafta =.....gün

8) Bir bakkal elindeki 280 paket çikolatanın $\frac{3}{7}$ ' ünü sattı. Geriye kaç paket çikolata kaldı ?

9) 36 kişilik sınıfın $\frac{4}{9}$ 'ü kızdır. Erkekler kaç kişidir?

6p.

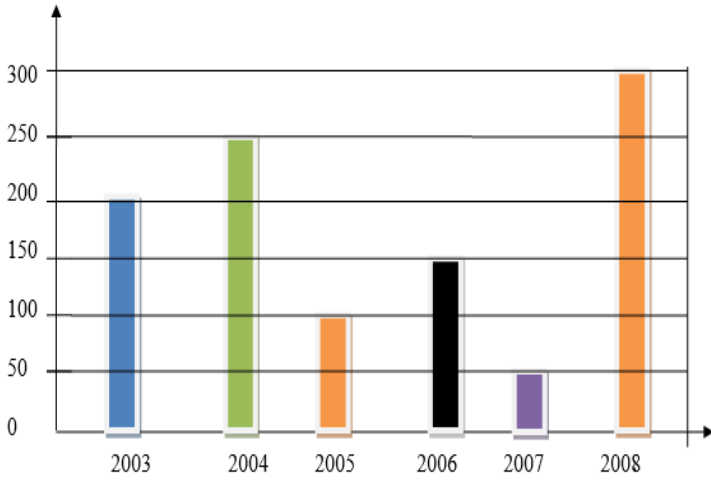
10) Aşağıda verilen kesirleri büyükten küçüğe doğru sembol kullanarak sıralayınız. 4p.

$\frac{3}{9}$, $\frac{4}{9}$, $\frac{5}{9}$, $\frac{9}{9}$
---	-------

11)

Üretilen Fındık Miktarı

(ton)



Yukarıdaki grafiğe göre: (10 p.)

1. En çok fındık hangi yıl üretilmiştir?
.....
2. 2004 ve 2005 yıllarında toplam kaç ton fındık üretilmiştir?
.....
3. En az fındık hangi yıl üretilmiştir?
.....
4. Tüm yılların toplamında kaç ton fındık üretilmiştir?
.....
5. En az fındık üretilen yıl ile en çok fındık üretilen yıl arasında kaç ton fark vardır?
.....

12) Bir günde 974 gazete satan bayii, 8 günde kaç tane gazete satar? 4p.

13) Bir fabrikada üretilen 882 adet fincan, altışarlı (4p.) kutulara konulacaktır. Buna göre kaç kutu gereklidir?

14) Aşağıdaki işlemlerin sonucunu altlarına yazınız. 6p.

$$\frac{3}{8} + \frac{4}{8} = ?$$

$$\frac{9}{16} - \frac{2}{16} = ?$$

$$4\frac{8}{13} + 3\frac{2}{13} = ?$$

15) Bir okulda 21 sınıf vardır. Her sınıfta 24 öğrenci vardır. Bu öğrencilerin 118 tanesi erkektir. Buna göre bu okulda kaç tane kız öğrenci vardır? 6p.

16) Sabah 09.10 'da ders başlıyor. 14.45 'de bitiyor. Acaba kaç saat, kaç dakika okulda kalıyorum? 4p.

17) $A < 58 \div 7$

Yukarıdaki sıralamada A yerine gelebilecek en büyük sayı kaçtır? 4p.

- A-) 82 B-) 83
C-) 84 D-) 85

18) Verilen açıların isimlerini yazınız. 8p.

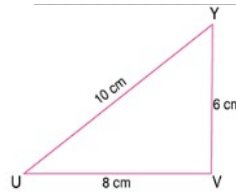
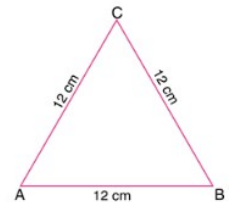
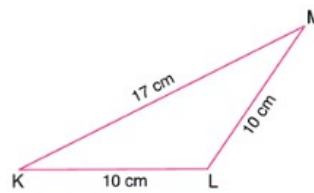
Dik – küçük – büyük – doğru – yanlış – büyük – dar

180 derece açı	
67 derece açı	
90 derece açı	
125 derece açı	

19) Aşağıdaki üçgenlerin kenarlarına göre isimlerini yazalım. 6p.

eşitkenar - çeşitkenar - ikizkenar

eşkenar - çokkenar - üçüzkenar



BAŞARILAR :)))