

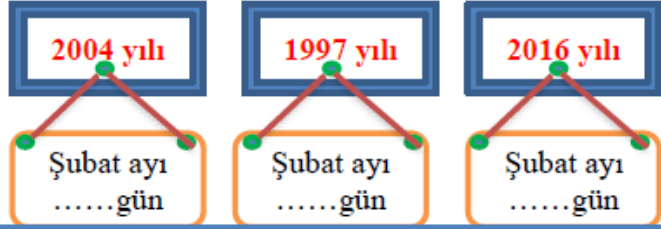
8. Aşağıda verilen zaman ölçülerini istenen birim cinsinden yazınız. (12 Puan)

- * 5 saat:..... dakika
- * 540 saniye:.....dakika
- * 6 ay 2 hafta:.....gün
- * 18 ay :..... yıl ay

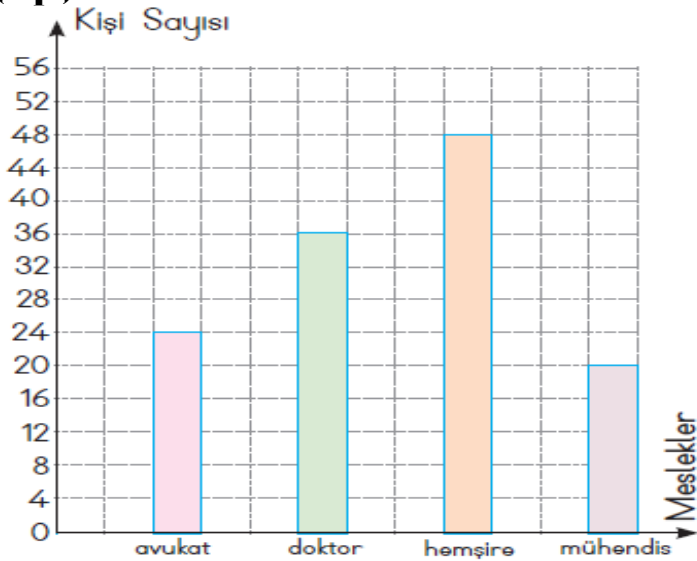
9. Aşağıdaki problemi çözünüz.(6 Puan)

Saat 8.05'te evden çıkan Ali 8.17'de durağa vardı. Ali'nin durağa varması kaç saniye sürdü?

10) Aşağıda verilen yıllarda şubat ayının kaç gün sürdüğünü hesaplayınız. (6 puan)



11) Aşağıdaki grafiğe göre soruyu cevaplayınız (6 p)



En az ve en çok tercih edilen mesleklerin toplamı kaçtır?

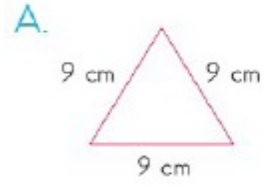
Aşağıdaki soruların cevaplarını seçeneklerin içinden işaretleyiniz. (4 x5 = 20 puan)

12 Yandaki şekil kaç eş küpten oluşmuştur?

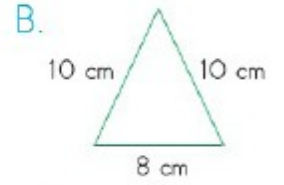


- A. 11 B. 12 C. 13 D. 14

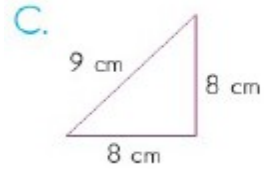
13) Aşağıdaki üçgenlerden hangisi kenar özelliğine göre yanlış adlandırılmıştır?



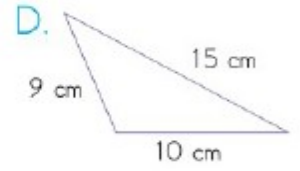
Eşkenar üçgen



İkizkenar üçgen



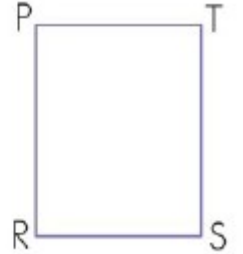
Eşkenar üçgen



Çeşitkenar üçgen

14) Yandaki dikdörtgen hangisinde yanlış adlandırılmıştır?

- A. TPRS B. PSTR
C. PRST D. STPR



15)



Açınımı verilmiş küp katlandığında görselinin karşısına aşağıdakilerden hangisi gelir?

- A) B) C) D)

SINAV BİTTİ. CEVAPLARINIZI KONTROL EDİNİZ.