

Adı Soyadı:..... Numara:..... Puan:.....

1. Aşağıdaki doğal sayıların okunuşlarını yazalım.(10 puan)

Sayı	Okunuşu
5.006	
3.090	
90.050	
78.600	

2. Okunuşları verilen doğal sayıları yazalım.(10 puan)

Okunuşu	Sayı
On yedi bin on sekiz	
Dört bin yirmi altı	
On dokuz bin üç yüz seksen iki	
Altı yüz yetmiş bin yedi yüz üç	





3. Aşağıdaki ifadelerin karşılığı olan sayıları yazalım.(10 puan)

İki basamaklı en büyük tek doğal sayı:.....

Üç basamaklı en küçük tek sayı:.....

Dört basamaklı en büyük çift sayı:.....

Beş basamaklı en büyük çift sayı:.....

4. $4001-5001-$  $-7001-$ 
Yukarıda verilen ritmik saymaya göre  +  işleminin sonucu kaçtır? (10 puan)

A) 14001 B)14002 C) 6001 D) 8002

5. Aşağıda verilen sayının basamak değerlerini yazalım.(10 puan)

