

Paranın Sesi

Nasrettin Hoca, Konya'nın Akşehir ilçesinde kadılık yaparken karşısına iki adam çıkmış. Adamın biri, cimriliğiyle tanınan bir aşçı, diğeri ise çok fakir bir adammış. Aşçı:

- Hocam, ben bu adamdan şikayetçiyim. Dükkanımın önünde fasulye pişirirken tencerenin kenarından buğusu çıkıyordu. Bu adam ekmele geldi. Ekmekleri lokmalayarak buğuya tuttu ve yedi. Ekmeği bitirdi. Buğu parası istedim vermedi. Hoca, fakir adama dönerek:

- Doğru mu bunlar?

Fakir adam:

- Evet

Hoca:

- Öyleyse para kesesini çıkar bakalım.

Fakir olan adam, para kesesini çıkarmış ve Hoca'ya uzatmış.

Hoca keseyi aşçının kulağına yaklaştırarak sallamış ve şingirdatmış. Sonra da:

- Haydi! Aldın işte alacağını.

Aşçı:

- Nasıl olur Hoca, parayı vermediniz.

Hoca:

- Fazla uzatma, yemeğin buğusunu satan paranın sesini alır elbet!

Etkinlik: Aşağıdaki soruları metne göre cevaplayınız.



★ Hoca'nın kadılık yaptığı yer neresidir?

★ Aşçı, fakir adamdan niçin davacı olmuş?

★ Hoca, niçin para kesesini aşçının kulağında şingirdatmış?

★ Bu fıkranın ana fikri nedir?

UÇAK

Uçağa binen Temel, yanındaki yolcuya :
-Buradan bakınca insanlar karınca gibi gözüküyor, demiş.
Adam:
-Beyefendi! O gördüklerinizi gerçekten karınca uçak henüz kalkmadı, demiş.

BENİ UYUTUYOR

Komşu kadın, sokakta oynayan çocuğa sordu:
-Oğlum, annen evde mi?
-Evet, dedi çocuk. Benim yatağında uyuyor.
-Neden kendi yatağında değil de senin yatağında?
-Şeeey! Aslında beni uyutuyor da....

(Aşağıdaki soruları metinlere göre cevaplayınız.)

➤ Yukarıda verilmiş olan kısa metinlerin türü nedir?

.....

➤ Yukarıdaki metinlerde en çok hoşunuza giden ve sizi güldüren ne oldu?

.....

.....



Sizin de bildiğiniz bir fıkra var mı? Aşağıya yazıp sınıfta okuyunuz.

.....

.....

.....

.....

.....


.....

.....

Etkinlik: Aşağıda metinde geçen bazı kelimeler verilmiştir. Bu kelimelerin anlamlarını araştırıp karşısına yazınız. Bu kelimeyle ilgili cümle kurunuz.

Kelime	Anlamı	Cümle
komşu
sokak
yolcu
adam
beyefendi

Etkinlik: Aşağıdaki kahramanların isimlerini yazınız.



Etkinlik: Aşağıda fıkra türünün bazı özellikleri verilmiştir. Doğru olanlara "D", yanlış olanlara "Y" yazınız.

- Fıkralar amaçsız yazılmış yazılardır.
- Fıkraların güldürücü özellikleri son cümlede ortaya çıkar.
- Fıkralar bütün konularda yazılabilir.
- Fıkralar güldürücü özelliği olan kısa hikayelerdir.
- Güldürme amacı dışında düşündürücü yazılardır.



Etkinlik: Verilen görsellere uygun kelimeleri yazıp cümle içinde kullanınız.



kelime

.....

cümle

.....

.....



kelime

.....

cümle

.....

.....




kelime

.....

cümle

.....

.....



kelime

.....

cümle

.....

.....



kelime

.....

cümle

.....

.....

Etkinlik: Aşağıda büyük harflerin kullanıldığı yerler verilmiştir. Bunlarla ilgili örnekler yazınız.

1- Cümleler büyük harfle başlar.



2- İnsan isimleri ve hayvanlara verilen isimler büyük harfle başlar.



3- Kurum adları büyük harfle başlar.



4- Şehir, ülke, sokak, cadde, mahalle adları büyük harfle başlar.



Etkinlik: Aşağıdaki cümlelerdeki altı çizili sözcüklerin yerlerine hangi sözcükler kullanılırsa cümlelerin anlamı değişmez. Karşlarına yazınız.

CÜMLE	SÖZCÜK	CÜMLE	SÖZCÜK
Anılarını yazdı.	Aliler bize <u>misafirlige</u> geldi.
Her <u>koşulda</u> gelirim.	Kardeşim, okuldaki <u>hadiseyi</u> anlattı.
<u>Meshur</u> olmak isterdim.	Geçen <u>yl</u> liseye başladım.
<u>Kanunlara</u> uymalıyız.	Okuldaki <u>rutubet</u> giderildi.
Topluma <u> faydalı</u> olacağım.	Araba çok <u>hız</u> yapmış
Şiirin <u>şairi</u> çok duygusalmış.	<u>Siyah</u> bir elbise almış.

Etkinlik: Aşağıdaki iki gruptan eş anlamlı sözcükleri bulup, alttaki kutulara yazınız.

yetenek kelime özlem güç duyuru yararlı vazife ad fert sonuç
birey görev faydalı netice isim sözcük hasret ilan zor kabiliyet

.....
.....

Etkinlik: Aşağıda verilen sözcüklerin eş anlamlılarını bulup, bulduğunuz eş anlamlı sözcüğü bir cümlede kullanınız.

Çaba →

Küçük →

Irak →

Şahit →

Yürek →

Besin →

Mesut →

Ev →

Hekim →

Lisan →

Etkinlik: Aşağıdaki verilen bilgiler doğrultusunda bir metin yazınız.



- Yer → Ev
- Zaman → Akşam
- Kahramanlar → Ali, Ali'nin kardeşi Öykü, anne, baba
- Olay → Aile dayanışması ile ev işlerinin yapılması.

.....

.....

.....

.....

.....

.....

.....

.....

Etkinlik: Aşağıdaki görsellerden yola çıkarak kısa bir hikaye yazınız.



.....

.....

.....

.....

.....

.....

.....


.....

Metnin Konusu : _____

Metnin Ana Fikri : _____

Etkinlik: Aşağıdaki isimlerin yerine uygun olan adıları bulup bulmacaya yazınız.


- 1- Sevgi ve Mert kitap okuyor. →
- 2- Çantamı getirir misin? →
- 3- Maalesef bugün Gökhan gelemiyor. →
- 4- Annem, babam ve ben haftaya yola çıkıyoruz. →
- 5- Sen ve Güler doğum gününe neden gelmediniz? →
- 6- En sevdiğim kazağımı bulamıyorum. →
- 7- Birçok kişi gelmemişi. →
- 8- Ersin, Selin ve Emre havuza gidiyor. →
- 9- Bu defterlerin sahibi kim? →
- 10- Pikniğe Kaan ve Ceyda gelemedi. →



Etkinlik:

CEVAP ANAHTARI

- 1- Sevgi ve Mert kitap okuyor. → onlar
- 2- Çantamı getirir misin? → onu
- 3- Maalesef bugün Gökhan gelemiyor. → o
- 4- Annem, babam ve ben haftaya yola çıkıyoruz. → biz
- 5- Sen ve Güler doğum gününe neden gelmediniz? → siz
- 6- En sevdiğim kazağımı bulamıyorum. → onu
- 7- Birçok kişi gelmemiştir. → birçoğu
- 8- Ersin, Selin ve Emre havuza gidiyor. → onlar
- 9- Bu defterlerin sahibi kim? → bunların
- 10- Pikniğe Kaan ve Ceyda gelemedi. → onlar



Etkinlik: Aşağıdaki cümlelerin yazımlarına kontrol edip, uygun olanı işaretleyiniz.

DOĞRU


YANLIŞ

- | | | |
|---------------------------------------|--|--|
| ▶ Yarın 12.30'da buluşalım. | | |
| ▶ Babam yarışmada 3.üncü oldu. | | |
| ▶ Bir yıl üçyüzaltmışbeş gündür. | | |
| ▶ Yaş otuz beş, yolun yarısı eder. | | |
| ▶ 123. Sokak'ta oturuyoruz. | | |
| ▶ Müzikte on altılık notayı öğrendik. | | |
| ▶ Arkadaşlarla beş taş oynadık. | | |
| ▶ 2'şer elma yedik. | | |
| ▶ 25 kg un lazım. | | |
| ▶ Daha on bir yaşındayım. | | |



Etkinlik: Sayıların yazımı ile ilgili verilen boşlukları doldurunuz.

- 1- Sayılar cümle içinde rakamla veya yazılabilir.
- 2- Sayılar rakamlarla yazılırken kelimeler yazılır.
- 3- Sayılar rakamla yazılırken sayıya gelen ekler ile ayrılır.
- 4- Para tutarı, ölçü ifade eden sayılar yazılır.
- 5- Saat ve dakika belirten sayıların arasına konur.
- 6- Sıra sayıları ve rakamla gösterilebilir.
- 7- Üleştirme sayıları değil yazıyla yazılır.
- 8- Oyun isimleri yazılır.



Etkinlik: Aşağıdaki cümlelerin doğrusunu altındaki boşluğa yazınız.

★ Yarın 22 mart 2018

★ Annem Ankaraya gitti.

★ Teyzem ellibeş yaşında.

★ Sen okula gidecekmisin

★ Keşke herkez gaste okusa!

★ Öğretmen keloğlanı herkez okusun dedi.

★ Alide kırmızı başlıklı kızı okumadı.

★ Amcam 10 aralık 1965 yılında Çanakkalede doğmuş

★ Okulda ayşeyi gördüm.

★ Orhanın kitabı yırtılmış.

Etkinlik: Aşağıdaki kutucuklarda yazılanları inceleyiniz. Doğru yazılanları maviye, yanlış yazılanları kırmızıya boyayınız.

picama	kiprik	malatyanın	Uludağ'a	Sınıf Başkanı
Erayın defteri	Bende yazarım	Ali'nin kalemi	Efese gidiyoruz.	THY'nin
Kedimiz	İstanbulu	Selim'in memleketi Eskişehirdir.	Saat 08.30'da burada ol.	yaprak
Gel de gidelim.	Pazardan Elma aldık.	Gelirmisin	herkez	Bahçede çiçek var.

Etkinlik: Aşağıda verilen görsellerin konusu ve ana fikrini yazınız.



KONU:

ANA FIKİR:

KONU:

ANA FIKİR:



KONU:

ANA FIKİR:



KONU:

ANA FIKİR:



Etkinlik: Aşağıda verilen kısa yazıları okuyunuz. Bu yazılara uygun resim çizip, başlık ekleyiniz.

"Bahçede arkadaşlarıyla şarkılar söyleyen Kerem, çok mutluydu. Hep bir ağızdan bağıarak şarkı söylüyorlardı."

"Yaptığın temizlik hiç olmadı, diyerek oğlunu tekrar bahçeye gönderdi. Oğuz mutsuzdu; ama daha güzel temizlik yapacağından emindi."

"Merdivenlerden aşağıya indiğinde köpeği Lulu'nun ona doğru sevinçle koştuğunu gördü."


"Okulun bahçesinde sessiz sedasız oturan Mert'in yanına gitti. Ayça, onu ilk kez bu kadar düşünceli görüyordu."

"Sınıfta derin bir sessizlik vardı. Öğretmenleri de çok üzgündü. Emir'in babası trafik kazası geçirmişti. Neyse ki hiçbir sıkıntı olmamıştı."

"Yunus sessiz sessiz televizyon izlerken kardeşi Buket, canı sıkıldığı için ağabeyiyle oyun oynamak istiyordu."

Etkinlik: Aşağıdaki kaplar için uygun olanı işaretleyiniz.

1)



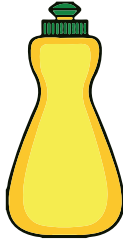
- Yarım litreden az
 Bir litreden fazla

2)



- Yarım litreden az
 Bir litreden fazla

3)



- Yarım litreden az
 Bir litreden fazla

4)



- Yarım litreden az
 Bir litreden fazla

5)



- Yarım litreden az
 Bir litreden fazla

6)




- Yarım litreden az
 Bir litreden fazla

7)



- Yarım litreden az
 Bir litreden fazla

8)




- Yarım litreden az
 Bir litreden fazla

Etkinlik: 1 litreden fazla olan görselleri çok bölümüne, 1 litreden az olan görselleri az bölümüne yapıştırınız.


AZ

ÇOK





AZ

ÇOK



AZ

ÇOK



Etkinlik Kapları 1 litreye göre değerlendiriniz.



=



=




1 litre




ÇOK

AZ



ÇOK

AZ



ÇOK

AZ



ÇOK

AZ




ÇOK

AZ



ÇOK

AZ




ÇOK

AZ



ÇOK













AZ



ÇOK

AZ

Etkinlik: Görsellerin sıvı miktarlarını tahmin edip uygun yerlere yapıştırınız.

 =  1 litre	 =  $\frac{1}{2}$ litre
 =  1 litre	 =  $\frac{1}{2}$ litre
 =  1 litre	 =  $\frac{1}{2}$ litre



Etkinlik: Daha az sıvı alan kabı sarı renge, daha çok sıvı alan kabı turuncu renge boyayınız.



1. 15 litre suyu 3 şişeye boşaltırsak her bir şişeye kaç litre su koyarız?

Çözüm:



2. Bir fincana yarım litre çay koyabiliyoruz. Çaydanlık 8 fincan ile dolduğuna göre çaydanlık kaç litre çay alabilmektedir?

Çözüm:




3. Puding hazırlamak için 3 litre süte ihtiyacım var. Bir bardak yarım litre süt aldığına göre puding için kaç bardak süte ihtiyacım olur?

Çözüm:



4. Su depomuz 850 litre su alabiliyor. 1. kat günde 320 litre 2. kat, günde 285 litre su kullanılırsa depoda ne kadar su kalır?

Çözüm:



5. 1 litresi 8 lira olan zeytinyağından üç buçuk litre aldık. Kaç lira öderiz?

Çözüm:

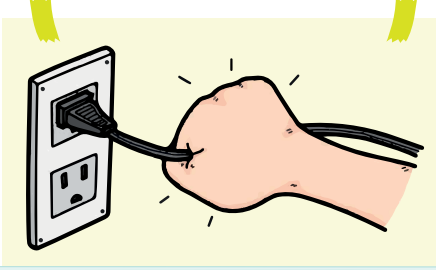


6. Günde 5 litre su tüketen ineklerimiz iki haftada kaç litre su tüketir?

Çözüm:



Etkinlik: Aşağıdaki görsellerde elektriğin kullanımıyla ilgili bazı görseller verilmiştir. Doğru veya yanlış olup olmadığını sebepleriyle altına yazınız.



.....

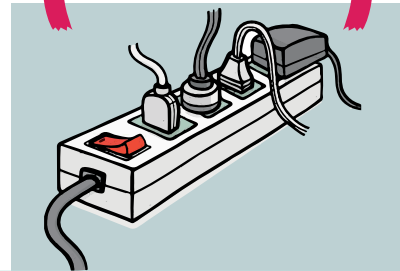
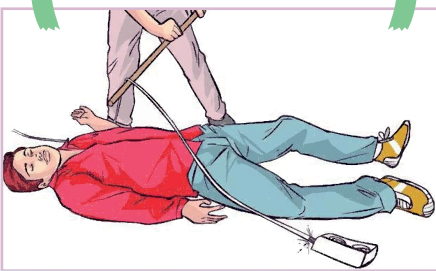
.....

.....

.....

.....

.....



.....

.....

.....

.....

.....

.....



.....

.....

.....

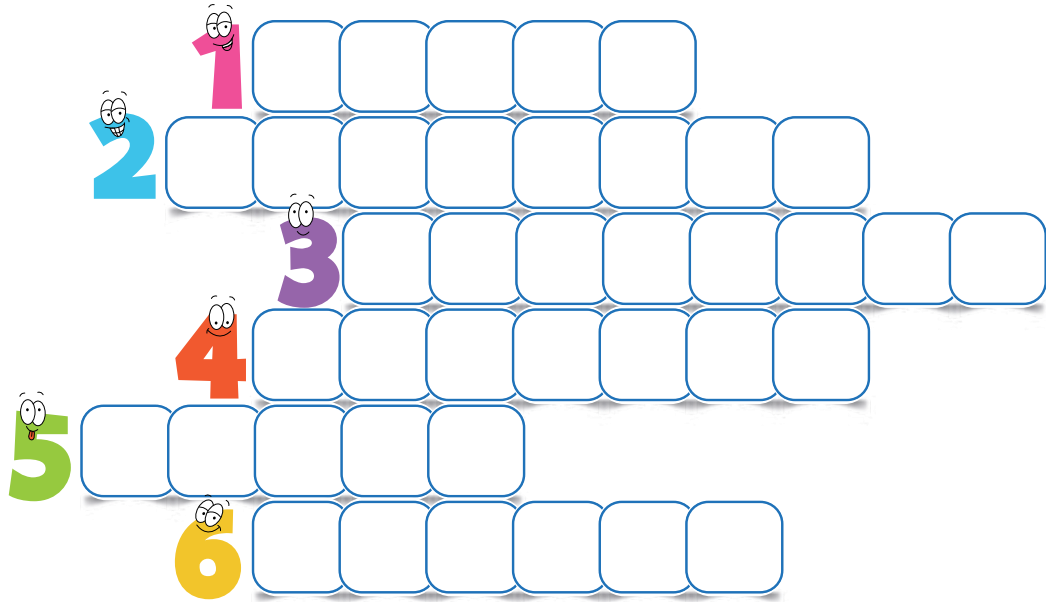
.....

.....

.....

Etkinlik: Aşağıdaki cümleleri uygun kelimelerle tamamlayınız. Kelimeleri bulmacaya yazınız.

- 1-Elektrikle çalışan hiçbir ellerimiz ıslakken kullanmamalıyız.
- 2-Elektrikli aletlerin kablolarını sudan ve uzak tutmalıyız.
- 3-Direklerden sarkan tellerine dokunmamalıyız.
- 4-Uzatma ve prizlere kaldıracağından fazla fiş takmamalıyız.
- 5-..... ampulün yanına bir şey koymamalıyız.
- 6-Uçurtmalarımızı gerilim hatlarının yakınında uçurmamalıyız.



Etkinlik: Su, hava ve toprak kirliliğini önlemek için neler yapılmalıdır? Uygun ağaca numaraları yazınız.

1

Mahallemizdeki uygun alanları ağaçlandırmak.

3

Fabrika bacalarına filtre takmak.

5

Bozuk muslukları tamir ettirmek.

7

Temiz yakıt kullanmak.

9

Suyu tasarruflu kullanmak.

2

Çevreye çöp atmamak.

4

Geri dönüşüme katkı sağlamak.

6

Atık yağları biriktirmek.

8

Atık pilleri, atık pil kutusunda biriktirmek.

10

Denize çöp atmamak.



Etkinlik: Aşağıdaki ifadeleri eşleştiriniz.

Plastik atıkları ve cam atıkları

Kullandığımız yağları

Çevre ile ilgili dernek ve vakıflara

Tıbbi atıkları

Tek kullanımlık poşetler yerine

Suyu tasarruflu kullanalım,

lavaboya dökmeyelim.

doğaya atmayalım.

bez torbalar kullanalım.




su kaynaklarını kirletmeyelim.

destek olalım.

geri dönüşüm kutularına atalım.



Etkinlik: Aşağıda geri dönüşümü yapılan ürünleri işaretleyiniz.



Etkinlik: Aşağıda çevrenin kirlenme sebeplerini balık kılçıklarına yazınız.



Etkinlik: Aşağıdaki ifadeler doğru ise "D", yanlış ise "Y" yazınız.

- Kimyasal ilaçlar, toprak verimini etkilemez.
- Her yerin binalaşması sebebiyle doğal ortam bozulmaz.
- Ağaçlar, bizim ihtiyacımız olan oksijeni üretirler.
- Geri dönüşümün ham maddelere hiçbir etkisi yoktur.
- Nesli tükenmekte olan hayvanları korumalıyız.
- Bisiklet kullanmak, hava kirliliğini azaltmaz.
- Toplu taşıma araçları tercih edilmemelidir.
- Hayvanların doğal yaşam alanları korunmalıdır.
- Deodorant kullanımı hava kirliliğine yol açmaz.
- Ağaçlık alanlar arttırılmalı.
- Tarımda, kimyasal ilaçlar kullanılmalı.
- Biten defterimizi ve kitaplarımızı çöpe atabiliriz.
- Toplu taşıma kullanmak hava kirliliğini azaltır.
- Bozuk olan muslukları tamir ettirmeliyiz.

1. Aşağıdaki cümlelerin hangisinde zamir kullanılmıştır?
- A) Birçok öğrenci, ödevini tamamlamış.
B) Bize geleceğini söylemedi.
C) Şu kalem odana götürür müsün?

2. Aşağıdaki cümlelerin hangisinde yazım yanlışı **yoktur**?
- A) Arkadaşlarımla ikişer elma yedik.
B) Haftaya 14.30'da buluşuyoruz.
C) Beş taş, en sevdiğim oyundur.

3.

İzmirli	Ankara'ya
Kırmızı Başlıklı Kız	Ali'ye
Tavşanımız	Keloğlan'ı

 Yandaki tabloda yazılan kelimelerden kaç tanesi doğru yazılmıştır?

- A) 3 B) 4 C) 5

4. Aşağıdaki cümlelerin hangisinin sonuna farklı bir noktalama işareti getirilir?
- A) Adana'ya yarın gideceğim, dedi()
B) At ölür, meydan kalır; yiğit ölür, şan kalır()
C) Ne mutlu Türk'üm diyene()

5. Havalar ısınınca günde 3 litre su içmeliyiz. Buna göre 132 litrelik suyu kaç günde içeriz?
- A) 42 B) 44 C) 36

6. Baklavanın kilosu 87 liradır. Bir tepsiye 3 kg baklava sığıyor. 4 tepsi baklava alınca kaç TL öderiz?
- A) 3846 B) 3132 C) 1044

7. 36 litre yağ ile kaç yarım litre şişe doldurabiliriz?
- A) 72 B) 36 C) 18

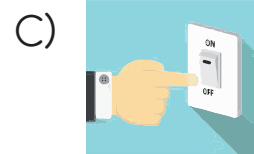
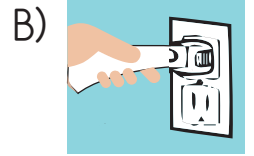

8. 5 litrelik sıvı sabun 35 liradan satılıyor. Bu sıvı sabunlardan 3 tane alırsak kaç lira öderiz?
- A) 50 TL B) 525 TL
C) 105 TL

9. Her biri yarım litre olan şişelere kolonya doldurup satacağız. 50 tane yarım litre şişeyi doldurmak için kaç litre kolonya almalıyız?
- A) 25 B) 35 C) 100

10. Aşağıda verilenlerden hangileri elektriğin güvenli kullanımı için doğru **değildir**?
- A) Fiş ve prizler, sağlam olmalıdır.
B) Elektrik kablolarını halıların altından taşımamız.
C) Prizlere çok fazla fiş takmamamız.

11. Aşağıdaki durumların hangisinin sonucunda elektrik çarpması meydana **gelmez**?
- A) Islak zeminlerde elektrikli aletler kullanılırsa
B) Prizlere metal cisim sokulursa
C) Fiş ve priz sağlam olursa

12. Aşağıdakilerden hangisi yanlış bir davranıştır?



13. Elektrik dikkatsiz kullanılırsa hangi kaza oluşur?
- A) Trafik kazası
B) İş kazası
C) Elektrik çarpması

14. Aşağıdaki ifadelerden hangisi doğal çevreye verilen zararlara örnek **değildir**?

- A) Piknikten sonra mangalların söndürülmemesi.
- B) Denize atılan çöpler.
- C) Ağaç sayısının arttırılması.

15. Aşağıdakilerden hangisi çevre kirliliği türlerinden **değildir**?

- A) Ev kirliliği
- B) Su kirliliği
- C) Toprak kirliliği

16. Aşağıdakilerden hangisi çevreye zarar veren bir olaydır?

- A) Çiçekleri sulamak.
- B) Ağaçları kesmek.
- C) Yaprakların dökümü.

17. Türkiye Erezyonla Mücadele Ağaçlandırma ve Doğal Varlıkları Koruma Vakfının simgesi hangisidir?

- A) GREENPEACE
- B) ÇEKÜL
- C) TEMA

18. Doğal kaynakların bilinçsizce kullanılması sonucu çevrede oluşan sorunlara ne denir?

- A) Çevre sorunu
- B) Çevre temizliği
- C) Çevre değişimi

CEVAP ANAHTARI



- | | | |
|-------|--------|--------|
| 1 - B | 8 - C | 15 - A |
| 2 - B | 9 - A | 16 - B |
| 3 - C | 10 - B | 17 - C |
| 4 - C | 11 - C | 18 - A |
| 5 - B | 12 - A | |
| 6 - C | 13 - C | |
| 7 - A | 14 - C | |

