



**Etkinlik:** Metni okuyalım. Soruları cevaplayınız.



### YAVRU FİL VE BİLGE BAYKUŞ

Yavru filin, ormanın bir köşesine çekilmiş, içli içli ağladığını gören baykuş, ağır adımlarla filin yanına yaklaşmış. Bilge Baykuş sormuş:

-Böyle gözden uzak köşelere çekilmiş neden ağlıyorsun?

- Hep düşüncesizliklerim yüzünden. Öğretmenimin ve arkadaşlarımla gözünden düştüm, dünya başıma yıkıldı, diyerek burnunu çekmiş küçük fil. Bilge Baykuş, olanları anlatırsa ona yardımcı olabileceğini söylemiş.

- Hangi birini anlatsam ki! Okul yemekhanesindeki kahvaltımız sırasında, ağızda yemek varken konuşmaya çalıştığım için yemekleri arkadaşlarımla yüzüne püskürttüğümü mü, derste izinsiz su içmeye gitmeye çalıştığım için öğretmenimi kızdırdığımı mı, yoksa koridorda koşarken tüm okulu salladığımı mı anlatayım? O kadar çok hata yaptım ki artık kimse beni sevmeyecek.

Baykuş, düşünüp taşınmış ve bir çözüm bulduğunu söylemiş. Yavru fili kütüphaneye götürmüştü. Bir kitap seçmiş. File demiş ki:

- Kitaplar, her türlü sorunu çözmeye yardımcıdır. Bu kitabı okursan eminim ki tüm sorunların bitecek.

Bilge Baykuş'un seçtiği kitabın kapağında "Görgü ve Nezaket Kuralları" yazıyormuş.

1 Yavru filin sorunu neymiş?

.....

2 Yavru fil, neden kimsenin onu sevmeyeceğini düşünüyormuş?

.....

3 Bilge Baykuş, yavru filin sorunu için nasıl bir çözüm bulmuş?

.....

4 "Gözden düşmek" deyiminin ne anlama geldiğini açıklayalım.

.....

**Etkinlik:** Aşağıdaki kelimeleri, eş anlamlısıyla eşleştiriniz.

konuk	lider	sonbahar	kanun
önder	ek	ilan	duyuru
yoksul	misafir	yasa	uyarı
ilave	fakir	ikaz	güz

**Etkinlik:** Verilen bilgiye göre aşağıdaki kelimelerin zıt (karşıt) anlamlılarını bularak altlarına yazınız.

zayıf	dost	tavan	başlangıç	ak	alt
tenha	ceza	yukarı	kalkmak	savaş	aydınlık
ucuz	zarar	tembel	unutmak	nazik	geri

**Etkinlik:** Göselleri verilen kelimelerin Türkçe karşılıklarını yazınız.



**Etkinlik:** Aşağıdaki cümlelere ait soruları cevaplayınız.

Arkadaşlarla bahçede dün ip atladık.

Ne?

Nerede?

Ne zaman?

Her sabah yürüyerek fırına ekmeğe almaya gidiyor.

Nasıl?

Nereye?

Ne zaman?

**Etkinlik:** Tablodaki cümlelerde renkli yazılan kelimelerin, varlıkların hangi özeliklerini belirttiğini işaretleyiniz.

CÜMLELER	Renk	Biçim	Sayı	Durum
Her hafta <b>iki</b> kitap okuyorum.				
Bir bardak <b>ılık</b> süt içtim.				
Keşke evimiz <b>yemyeşil</b> ormanda olsaydı.				
İki <b>inatçı</b> keçi varmış.				
Ağaçtan <b>üç</b> elma düşmüş.				
Parktan <b>sarı</b> papatyalar topladık.				
<b>Yaşlı</b> amcaya yardım ettim.				
Üzerimde <b>ince</b> bir kazak vardı.				

**Etkinlik:** Aşağıdaki metinlerde ( ) içlerine uygun noktalama işaretlerini koyunuz.

Cemil ( )  
( ) Acele edin arkadaşlar ( )  
Kamil ( )  
( ) Çantam çok ağır olduğu için hızlı hareket edemiyorum ( )  
Cemil ( )  
( ) Bu kadar ağır ne koydun ki çantana ( )

Karne günüydü ( ) Mu ( )  
rat okuldan döndü ( ) Annesi sordu ( )  
( ) Karnen nerede ( )  
Murat gülererek cevapladı ( )  
( ) Arkadaşıma ödünç verdim ( )  
Benim karnemi kullanarak ba ( )  
basını korkutacak

**Etkinlik:** Aşağıdaki yazım ve noktalama yanlışlarını düzelterek cümleleri tekrar yazınız.

Kedim sarmanı veterinerine götürdüm

cumhuriyet bayramı coşkuyla kutlanacak

pıtırıcık futbolcu kitabını izmirdeki kitapçıdan aldım



**Etkinlik:** Aşağıdaki kelimelerin eş anlamlarını bulmacada bulup işaretleyiniz.  
Kalan harflerden şifreyi bulunuz.



- Kent
- Yaşlı
- Hediye
- Yoksul
- Baş

- Ayakkabı
- Akıl
- Misal
- Ak
- Kanun

- Lider
- Rüya
- Okul
- Kişi
- İmtihan

- İstikbal
- Konut
- Siyah
- Yurt
- Çare
- Anı



İ	H	T	İ	Y	A	R	D	B	K
M	Ö	N	D	E	R	İ	E	E	A
E	S	😊	Y	U	M	L	V	Y	R
K	İ	E	A	K	A	F	A	A	A
T	N	V	S	Z	Ğ	A	K	Z	Ö
E	A	F	A	Ş	A	H	İ	S	R
P	V	A	T	A	N	D	Ü	Ş	N
İ	R	K	P	A	B	U	Ç	A	E
K	U	İ	G	E	L	E	C	E	K
😊	S	R	H	A	T	İ	R	A	😍

ŞİFRE



**Etkinlik:** Aşağıdaki ağaçta yazan kelimelerin eş anlamlarını aşağıdaki boşluğa yazınız.



1 →

.....

6 →

.....

11 →

.....

2 →

.....

7 →

.....

12 →

.....

3 →

.....

8 →

.....

13 →

.....

4 →

.....

9 →

.....

14 →

.....

5 →

.....


10 →

.....

15 →

.....

**Etkinlik:** Aşağıdaki kelimelerin eş anlamlarını üste, zıt anlamlarını alta yazınız.



**Etkinlik:** Aşağıdaki cümlelerde zıt anlamı olan kelimeleri, zıt anlamlarını kullanarak tekrar cümle yazınız.

- İhtiyar, karşıdan karşıya geçemiyordu. ➤ .....
- Sorularıma sessiz kalmamalısın. ➤ .....
- Bunun sebebini merak ediyorum. ➤ .....

**Etkinlik:** Aşağıdaki verilen cümleleri okuyunuz. Cümledeki eş sesli kelimeleri farklı anlamıyla cümlede kullanınız.



Kelime

Cümle

Ocakta  
pişen  
yemeği  
getirdi.

.....

.....  
.....  
.....  
.....



Kelime

Cümle

Dayımın  
üzüm  
bağına  
gittik.

.....

.....  
.....  
.....  
.....



Kelime

Cümle

Daldaki  
kuşu  
gördün  
mü?

.....

.....  
.....  
.....  
.....



Kelime

Cümle

Çay kena-  
rında  
piknik  
yaptık.

.....

.....  
.....  
.....  
.....



Kelime

Cümle

Ben sizinle  
gelmek  
istemiyö-  
rum.

.....

.....  
.....  
.....  
.....



Kelime

Cümle

Yüz lira  
harçlık  
verdi.

.....

.....  
.....  
.....  
.....



Kelime

Cümle

Küçük bir  
kara par-  
çasıymış.

.....

.....  
.....  
.....  
.....



Kelime

Cümle

Kırmızı  
gülü çok  
severim.

.....

.....  
.....  
.....  
.....

**Etkinlik:** Aşağıdaki kelimelerin eş anlamlarını yazınız.

KIRMIZI

  
-----

TARAF

  
-----

DOKTOR

  
-----

BEYAZ

  
-----

YANIT

  
-----

ÖĞRETMEN

  
-----

SİYAH

  
-----

SORU

  
-----

ÖĞRENCİ

  
-----

KELİME

  
-----

GÜÇLÜ

  
-----

VAZİFE

  
-----

**Etkinlik:** Aşağıda verilen kelimelerin eş anlamlarını bulmacada bulunuz.

ihhtiyar yıl misafir  
cevap fakir ad  
vakit yurt sözcük  
ulus zelzele beyaz  
kırmızı isim adet



Y	A	N	I	T	İ
A	Y	M	D	T	S
Ş	O	İ	E	A	İ
L	K	L	P	N	M
I	S	L	R	E	K
S	U	E	E	V	E
E	L	T	M	A	L
N	L	A	D	T	İ
E	K	A	L	A	M
Z	A	M	A	N	E
K	O	N	U	K	T

**Etkinlik:** Aşağıda karışık olarak verilmiş kelimeleri düzelterek bulmacaya yazınız.

1. E - E - M - Ç - R - B

2. N - R - D - E - E

3. T - L - Y - N - A - A - A

4. I - G - Z - R - A - A

5. R - R - G - G - I - I

6. Z - G - G - I - I - L - K - N

7. N - K - O - A - K

8. K - A - L - L - I - I

9. K - R - M - K - I - A

10. S - L - A - A - N

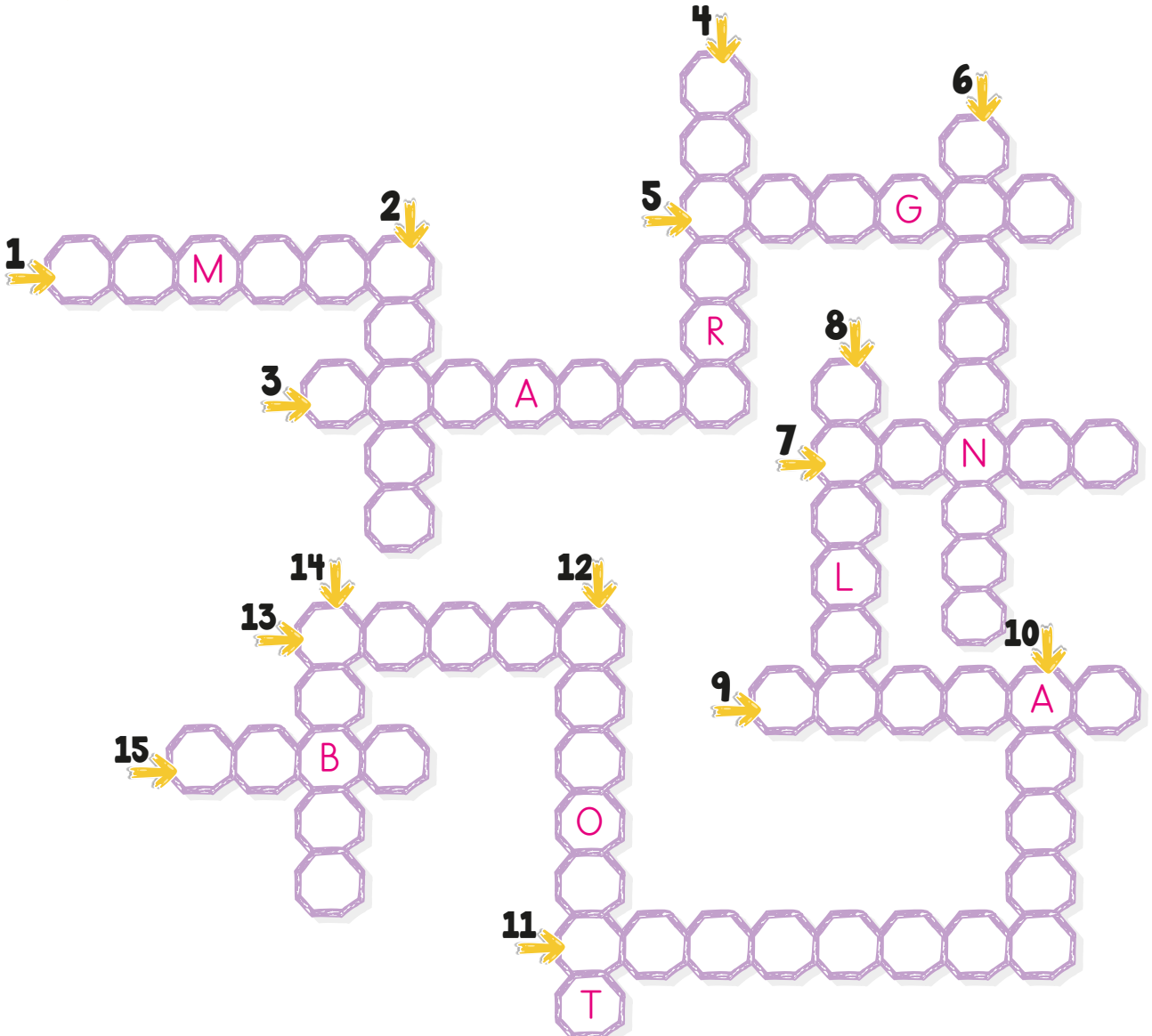
11. A - D - M - A - I - Y - A - N

12. O - T - B - A - A - R - K

13. O - A - S - N - R

14. A - S - B - I - R

15. A - O - B - S






**Etkinlik:** Yukarıdaki kurbağanın gölü geçmesi için Türkçe kelimelerin üstüne basması lazım. Yardım eder misiniz?





**Etkinlik:** Aşağıda verilen kelimeleri, Türkçe karşılıkları ile aynı renge boyayınız.

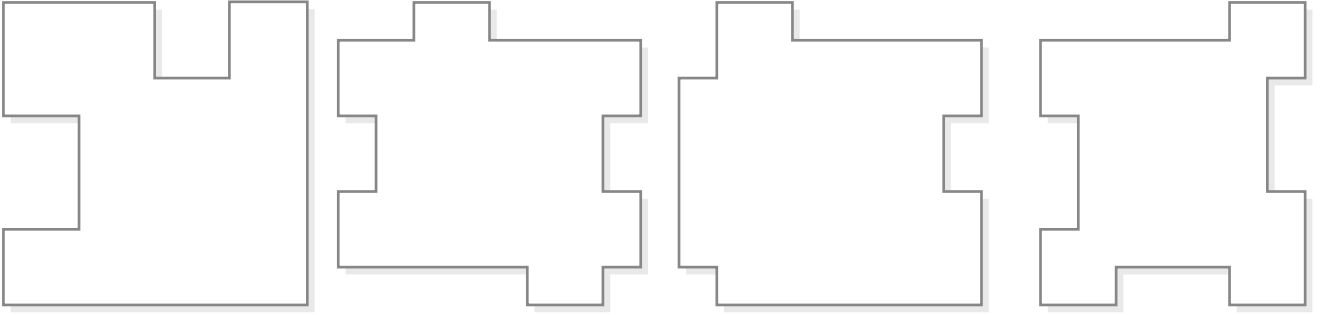




**Etkinlik:** Aşağıdaki sokakta gezintiye çıkan Güneş, tabelalardaki yabancı sözcükleri düzeltmek istemiş. Hangi tabelaları düzeltmesi gerekir? Türkçe karşılıklarını araştırıp yazınız.



**Etkinlik:** Şekillerin alanlarını belirleyip boyayınız.

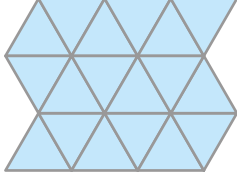


**Etkinlik:** Noktalı kağıtta verilen şekillerin alanlarının kaç birim olduğunu hesaplayınız.

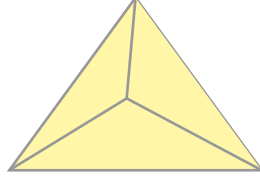
$A = 22$ birim	$A = \dots\dots\dots$ birim	$A = \dots\dots\dots$ birim	$A = \dots\dots\dots$ birim

$A = \dots\dots\dots$ birim	$A = \dots\dots\dots$ birim	$A = \dots\dots\dots$ birim	$A = \dots\dots\dots$ birim

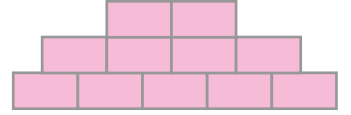
**Etkinlik:** Aşağıdaki şekillerin alanlarını kaplamak için hangi geometrik şekillerden kaçar tane kullanıldığını yazınız.




➤ 18 tane üçgen



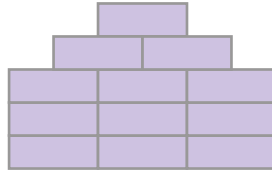
➤ .....




➤ .....



➤ .....



➤ .....

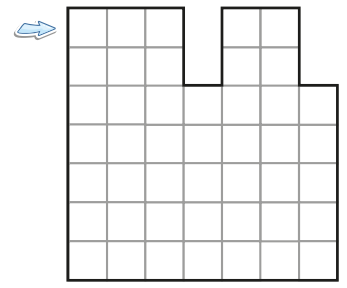
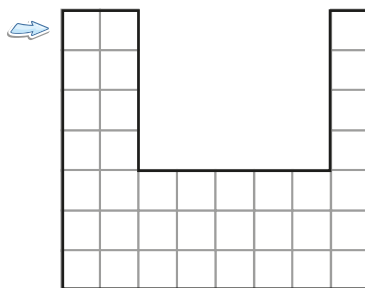
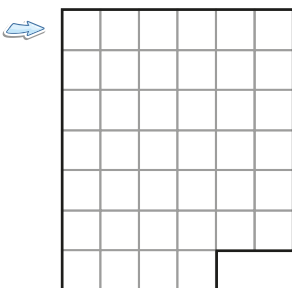
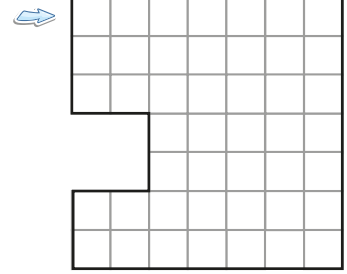

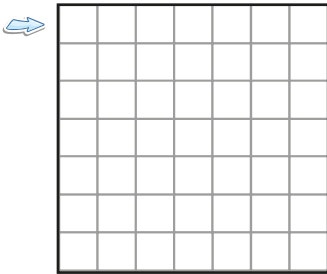


➤ .....

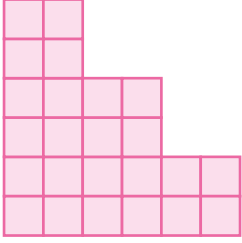
**Etkinlik:** Aşağıdaki şekillerin alanlarını hesaplayarak istenilen renge boyayınız.

49 birim kare ➡ Mor  
58 birim kare ➡ Mavi  
38 birim kare ➡ Sarı

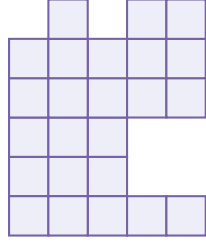
40 birim kare ➡ Kırmızı  
33 birim kare ➡ Yeşil  
45 birim kare ➡ Turuncu



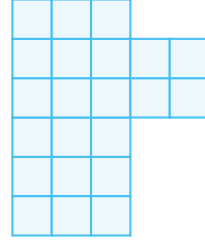
**Etkinlik:** Aşağıdaki şekillerin alanlarının kaç birimkare olduğunu hesaplayınız.



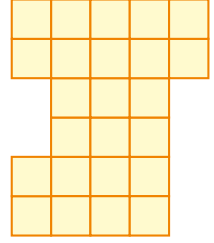
Alan= 24



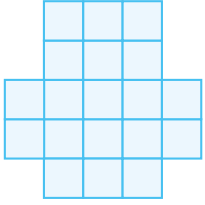
Alan= .....



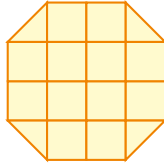
Alan= .....




Alan= .....



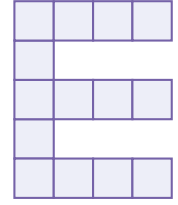
Alan= .....



Alan= .....

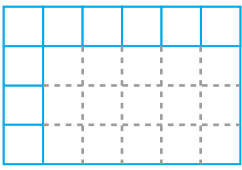


Alan= .....

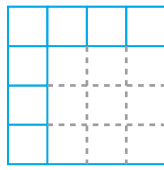


Alan= .....

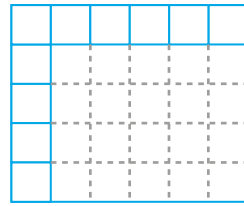
**Etkinlik:** Aşağıdaki geometrik şekilleri tamamlayarak alanlarını bulunuz.



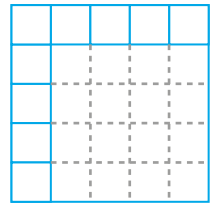
Alan= .....



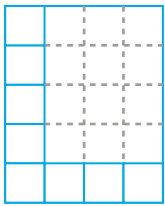
Alan= .....



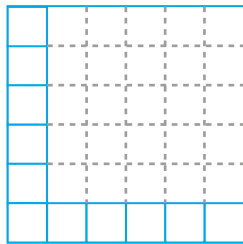
Alan= .....



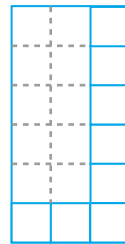
Alan= .....



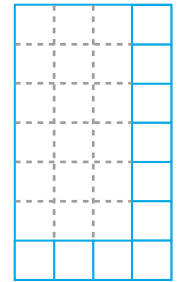
Alan= .....



Alan= .....

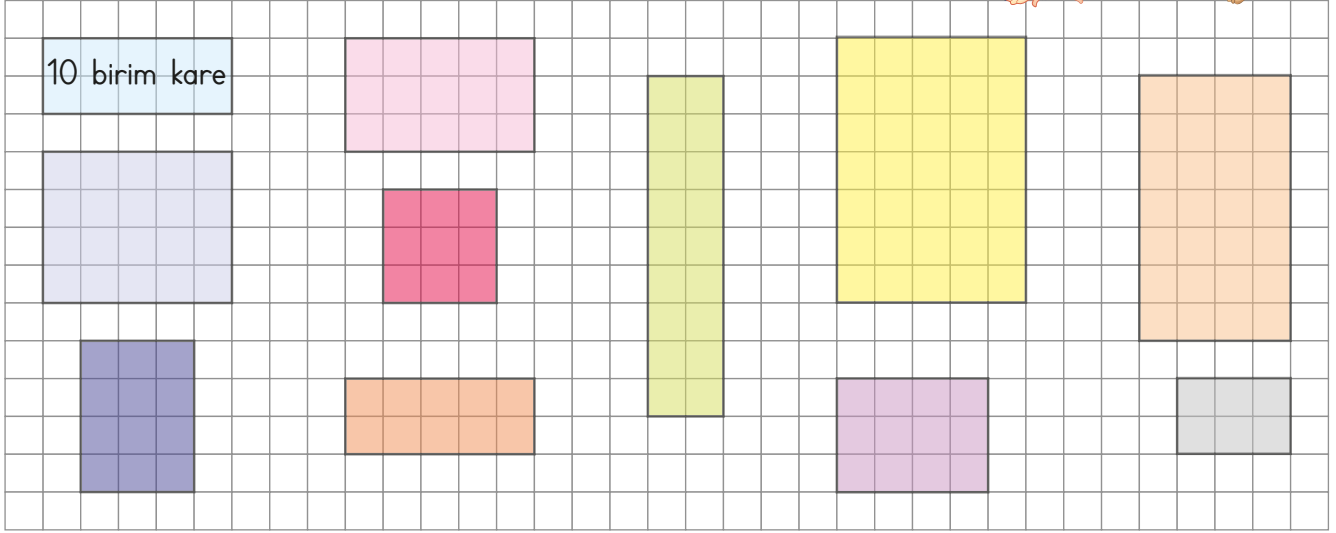



Alan= .....




Alan= .....

**Etkinlik:** Aşağıdaki şekillerin alanlarını hesaplayınız. Kaç birimkare olduklarını içlerine yazınız.




**Etkinlik:** Verilen alan ölçülerine şekiller çiziniz.


Alan: 18 birim kare




Alan: 24 birim kare



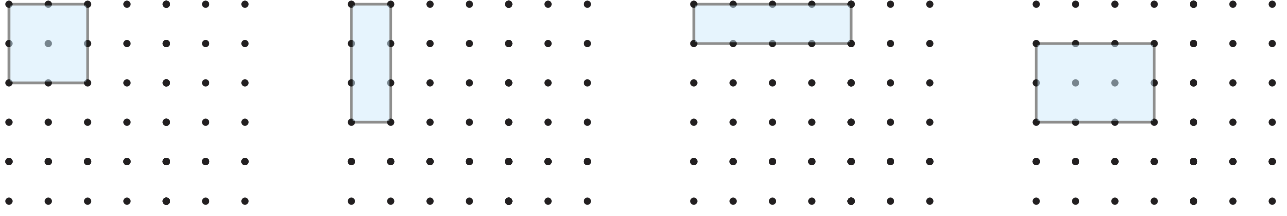
Alan: 32 birim kare



Alan: 16 birim kare



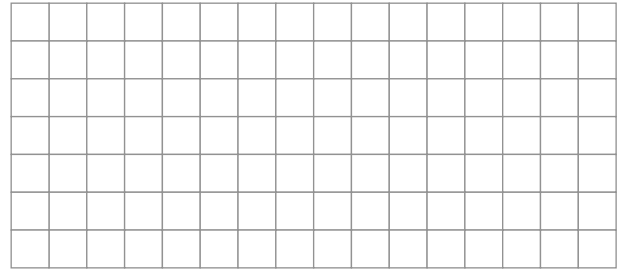
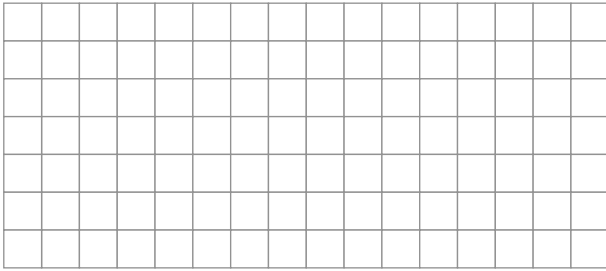
**Etkinlik:** Aşağıdaki şekillerin alanlarını kullanılan birim şekilleri tamamlayarak bulunuz.



**Etkinlik:** Aşağıdaki soruları şekil çizerek cevaplayınız.


• Kare şeklindeki masanın üzerini kare kağıtlarla kapladım. Bir kenarı için 6 kağıt kullandığıma göre toplam kaç kağıt kullanmış olurum?

• Dikdörtgen şeklindeki banyo duvarının kısa kenarına 5 fayans, uzun kenarına 10 fayans döşedik. Bu iş için toplam kaç fayans kullanmış oluruz?




**Etkinlik:** Aşağıya alan ölçüleri verilen şekiller çiziniz.


Alan= 8 birim kare




Alan= 14 birim kare




Alan= 9 birim kare




Alan= 10 birim kare



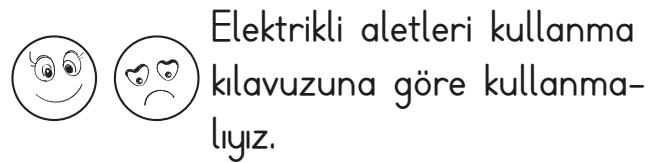
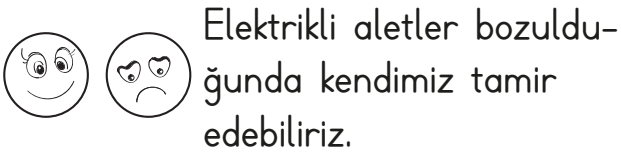
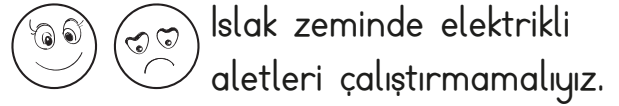
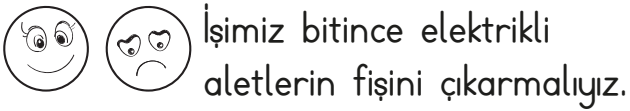
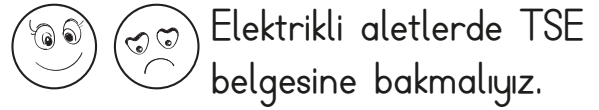
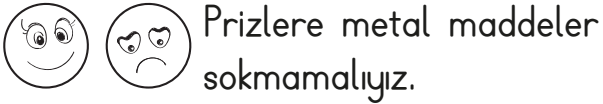
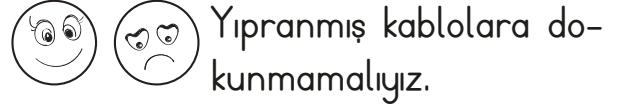
Alan= 20 birim kare




Alan= 12 birim kare



**Etkinlik:** Aşağıdaki durumlara uygun ifadelerde gülen yüzü, uygun olmayan ifadelerde üzgün yüzü boyayınız.



**Etkinlik:** Aşağıdaki görsellerde elektrik çarpmasına neden olabilecek durumları işaretleyiniz.





**Etkinlik:** Aşağıdaki eksik cümleleri doğru şekilde tamamlayınız.

Islak zeminlerde .....

Elektrik çarpan kişinin elektrik kaynağıyla .....

Yıpranmış, eski kablolara .....

Dikkat edilmezse elektrik can ve mal kaybına .....

Elektrik direklerine kesinlikle .....

**Etkinlik:** Aşağıdaki görseli inceleyip boyayınız. Hatalı olan davranışları altına yazınız.



1

2

3

4

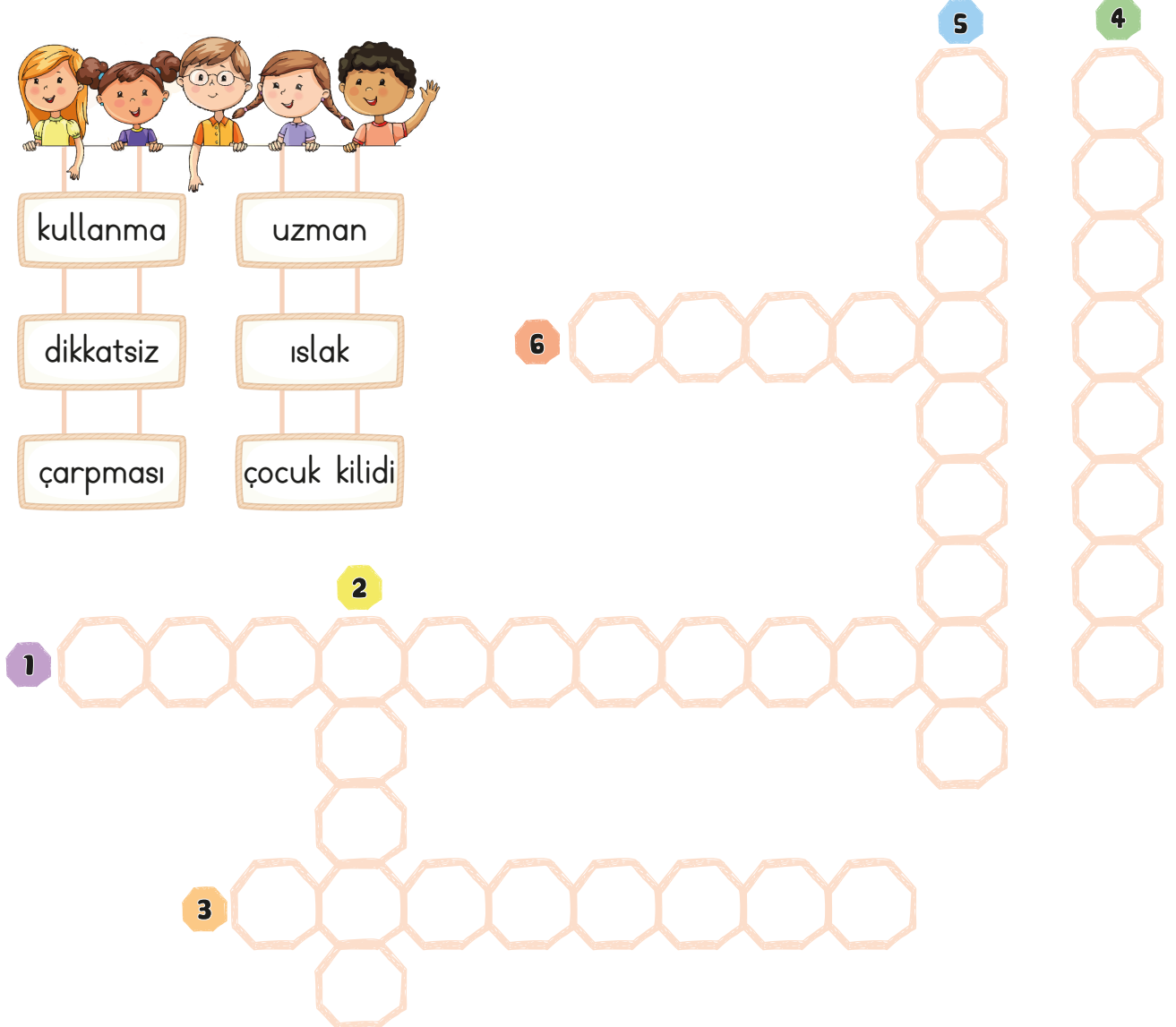
5

**Etkinlik:** Aşağıdaki cümleleri uygun kelimelerle tamamlayıp bulmacaya yazınız.

- 1 Elektrik çarpmasını önlemek için evlerde prizlere ..... takılmalıdır.
- 2 Elektrikli aletlerin bakımı ve tamirini ..... kişilere yaptırmalıyız.
- 3 Elektriğin vücutla temasına "elektrik ..... " denir.
- 4 Elektrikli aletler, kullanılmadan önce ..... kılavuzu okunmalıdır.
- 5 Elektrik çarpması, çoğu zaman elektriğin ..... kullanımından kaynaklanır.
- 6 ..... zeminlerde elektrikli aletleri çalıştırmamalıyız.



kullanma      uzman  
dikkatsiz      ıslak  
çarpması      çocuk kilidi



**Etkinlik:** Aşağıdaki ifadeler doğru ise "D", yanlış ise "Y" yazınız.

Doğaya atılan plastiklerin doğaya zararı yoktur.

Çevre kirliliği hayvan türlerini etkilemez.

Yolculuk yaparken toplu taşıma araçlarını tercih etmeliyiz.

Taşıtların egzoz gazları hava kirliliğine sebep olur.

Nüfus artışının çevreye etkisi yoktur.

Bacalardan çıkan dumanlar çevreyi kirletir.

**Etkinlik:** Hava kirliliğine, ses kirliliğine ve toprak kirliliğine sebep olan olaylara örnekler yazınız.



**Hava Kirliliği**

- .....
- .....
- .....
- .....

**Su Kirliliği**

- .....
- .....
- .....
- .....

**Toprak Kirliliği**

- .....
- .....
- .....
- .....

**Etkinlik:** Aşağıda verilen sivil toplum kuruluşlarının adını ve bu kuruluşların hangi alanlarda çalıştıklarını yazınız.

★ ÇEKÜL

.....

.....

.....

★ TEMA

.....

.....

.....

★ GREENPEACE

.....

.....

.....

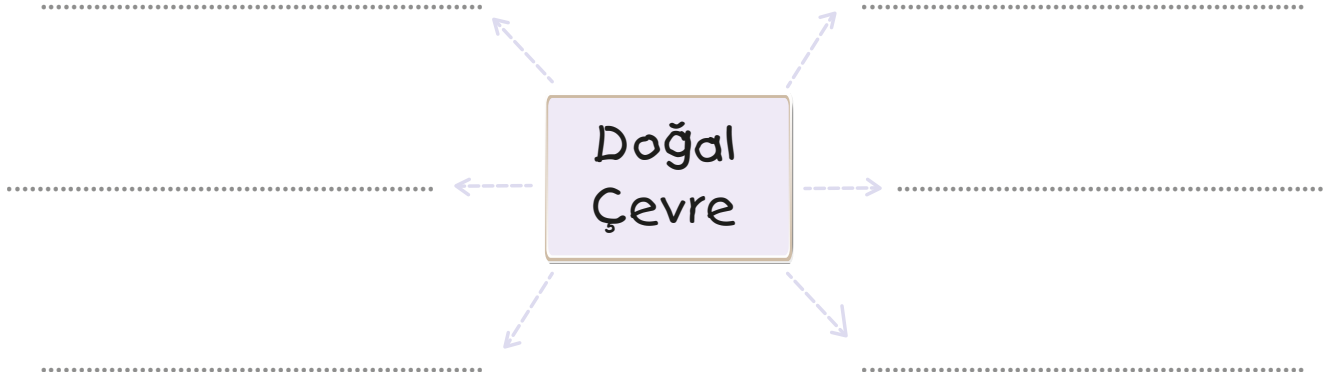
★ ÇEVKO

.....

.....

.....

**Etkinlik:** Aşağıdaki boşluklara "doğal çevre" denilince aklınıza gelenleri yazınız.



**Etkinlik:** Aşağıdaki ifadelerde noktalı yerlere verilen kelimelerden uygun olanları yazınız.



geri dönüşüm

su

çevre

doğal çevre








zehirli gazlar

yiyecek

hava, su ve toprak

- Fabrika bacalarından çıkan ..... tüm canlıları etkiler.
- Kendiliğinden oluşan, insanlar tarafından değişikliğe uğramamış çevreye ..... denir.
- Kullanılan atıkların çeşitli işlemlerle tekrar kullanılabilir hale getirilmesine ..... denir.
- ....., ..... ve ..... kirliliği tüm canlıların yaşamını olumsuz etkiler.
- Sokak hayvanlarına ..... ve ..... vermeliyiz.
- Canlı ve cansız varlıkların bir arada bulunduğu ortama "....." denir.

**Etkinlik:** İnsan etkisi olan elmaları **kırmızı**ya, olmayanları **yeşil**e boyayınız.



**Etkinlik:** Aşağıdaki görseli inceleyiniz. İnsanlar çevreye ne gibi zararlar vermiştir? Görselin yanına yazınız.



.....

.....

.....

.....




.....

.....

1. Aşağıdaki kelimelerden hangisinin eş anlamlısı yoktur?

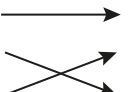


- A) İhtiyar B) Siyah  
C) Kitap

2. Aşağıdaki zıt anlam eşleşmelerinden hangisi yanlıştır?

	büyük	iri
	yaşlı	genç
	şişman	zayıf

- A)  B)  C) 

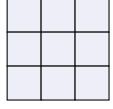
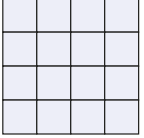
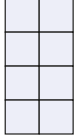
3. Baş Kanun Misal Örnek Yasa Kafa Yanda verilen kelimeleri eş anlamları ile eşleştirdiğimizde ortaya çıkan şekil aşağıdakilerden hangisidir?

- A)  B)  C) 

4. Aşağıdaki kelimelerden hangisinin Türkçe karşılığı vardır?

- A) Yıldız B) Star  
C) Çevrimiçi

5. Hangi şeklin alanı diğerlerinden daha büyüktür?

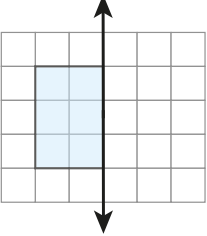
- A)  B)  C) 

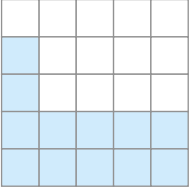
6.

ELA								EFE
								ECE
CAN								

Ela, Efe, Can ve Ece'nin çizdikleri alanlar hangi seçenekte doğru verilmiştir?

- |    | Ela | Efe | Can | Ece |
|----|-----|-----|-----|-----|
| A) | 9   | 7   | 12  | 10  |
| B) | 10  | 12  | 9   | 7   |
| C) | 7   | 9   | 10  | 12  |

7.  Yandaki şekli simetri doğrusuna göre tamamladığımızda oluşan şeklin alanı kaç birim karedir?
- A) 8      B) 12      C) 14

8.  Yandaki duvarın yüzeyini kaplamak için kaç tane mavi fayans kullanılmıştır?
- A) 12      B) 11      C) 10

9. Aşağıdakilerden hangisi elektrik enerjisini kullanırken yapılması gereken doğru davranışlardan biri değildir?
- A) Prizlere sivri cisim sokmamalıyız.  
B) Elektrik kablolarını çekerek çıkarmalıyız.  
C) Islak elle prize dokunmamalıyız.

10. Elektrikli araçların kullanımıyla ilgili aşağıdakilerden hangisi doğrudur?
- A) Islak zeminlerde çalıştırmalıyız.  
B) İlk kez kullanırken kullanım kılavuzuna bakmalıyız.  
C) Bozulduğunda kendimiz tamir edebiliriz.

11. Elektrik çarpması sırasında aşağıdakilerden hangisini yapmak uygun olmaz?
- A) Elimizle çarpılan kişiyi çekmek.  
B) Şalteri kapatmak.  
C) Plastik bir cisimle elektrik çarpan kişiyi elektrikten uzaklaştırmak.

12. Aşağıdakilerden hangisi elektrik çarpmasına sebep olur?
- A) Plastik yıpranmış kablolarla dokunmak.  
B) Klimayı uzaktan kumanda ile kapatmak.  
C) Lambaları düğmesinden açıp kapatmak.






13. Aşağıdakilerden hangisi çevre kirliliğini önlemek için yapılmamalıdır?

- A) Kanalizasyon sularının denize atılmasını önlemek.  
B) Fabrika bacalarına filtre takmak.  
C) Atık yağları lavaboya dökmek.


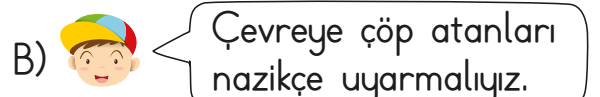
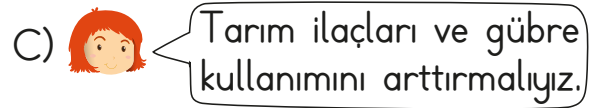
14. Aşağıdakilerden hangisi çevreyi korumak için çalışan kuruluşlardan değildir?

- A) LÖSEV  
B) ÇEKÜL  
C) TEMA

15. Aşağıdakilerden hangisi çevreyi korumaya yönelik bir davranış değildir?

- A)  B) 
- C) 

16. Hangi çocuk çevreyi korumak için yapılması gerekenlere yanlış örnek vermiştir?

- A)  B)  C) 

CEVAP ANAHTARI

1 - C      7 - B      13 - C

2 - A      8 - A      14 - A

3 - C      9 - B      15 - C

4 - B      10 - B      16 - C

5 - B      11 - A

6 - A      12 - A