

ALİ VE KÖYLERİ

Ali, yaz tatilini iple çekiyordu. Çünkü köy hayatını çok seviyordu ve ailesiyle köyelerine gideceklerdi. Her sene dedesi ve babaanne-
siyle hem keyifli vakit geçirir hem de onlara yardım ederdi.

Köye gittikleri gün, dedesi biraz rahatsızlanmıştı. Dedesine:

-Dedeciğim sen bugün dinlen. Ben babaanneme yardım ederim,
dedi.


Dedesi gülümseyerek:

-Tamam çok yorma kendini, dedi.

O gün iş başa düşmüştü. Önce ahıra gitti. Hayvanların yemini, suyunu
verdi. Sonra bahçedeki meyveleri topladı. Ağaçları suladı. Tavukları kümese
koydu. Babaannesine taşınacaklarda yardım etti. Akşam eve döndüklerinde
dedesi hala yatıyordu. Ali de yorgun düştü. Yemeğini yeyip erkenden
uyuyakaldı. Dedesi ertesi gün daha iyiydi, onu öptü ve sonra :

-Canım torunum, çalışkan oğlum... Çok teşekkür ederim, dedi.

Ali o kadar yorulmuştu ki... Uykuya devam etti.



Serap SUNGUR

(İlk beş soruyu metne göre cevaplayınız.)

🍎 Ali, köye gittiği ilk gün nasıl bir olumsuzlukla karşılaşmış?

.....

🍎 Ali, babaannesi ve dedesine nasıl yardım ediyor? Neler yapıyor?

.....

🍎 Köye gittiği ilk gün Ali neden bu kadar yorgun düştü?

.....

🍎 Ali, yaz tatilinin gelmesini neden iple çekiyo?

.....

🍎 Metinde geçen olay nedir? Kahramanları kimlerdir?

.....

Etkinlik: Aşağıdaki bulmacada metinde geçen bazı kelimeler gizlenmiştir. Kelimeleri bulup cümlede kullanınız.



- 1-
- 2-
- 3-
- 4-
- 5-
- 6-

Etkinlik: Yukarıdaki kelimelerden anlamını bilmediğiniz iki tanesinin anlamını yazınız.













KELİME	ANLAMI
.....
.....

Etkinlik: Siz hiç köye gittiniz mi? Başınızdan geçen ilginç bir olayı anlatınız.



-
-
-
-
-

Etkinlik: Aşağıdaki boşlukları sayılarına göre doldurunuz. (Tekil, çoğul ve topluluk)

 Ağac Tekil	 Ağaçlar Çoğul	 Orman Topluluk
		
		
		

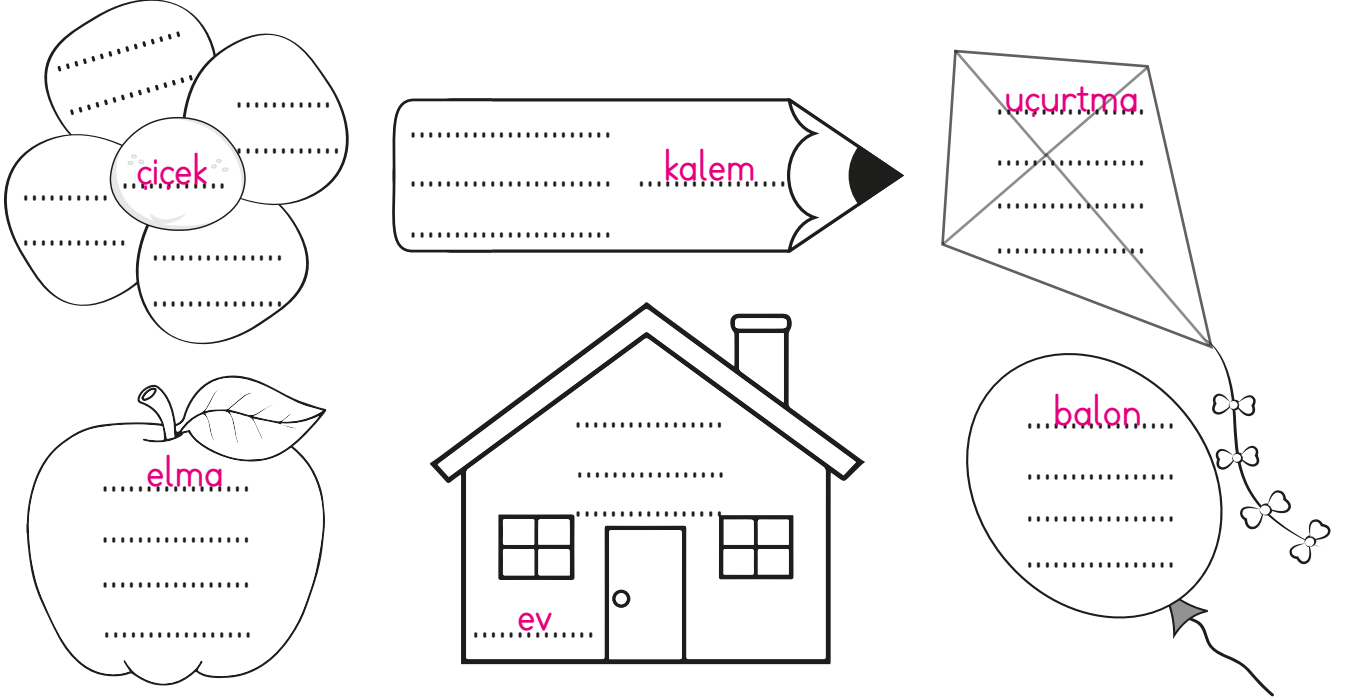
Etkinlik: Aşağıdaki tabloda tekil isimleri kırmızıya, çoğul isimleri maviye, topluluk isimlerini sarıya boyayınız.

Çocuklar	Ordu	Lamba	Camlar
Ağaç	Kalem	Meclis	Orman
Kedi	İnsan	Perdeler	Kazaklar



Etkinlik: Aşağıda verilen çoğul kelimeleri tekile, tekil kelimeleri çoğula çeviriniz.

Kalem	Ağaç	Araba	Adam	Bardaklar
.....
Kuşlar	Topraklar	Kitap	Lambalar	Kuş
.....
Sayılar	Yaprak	Sandalye	Halılar	Saat
.....

Etkinlik: Aşağıdaki görselde verilen kelimelere uygun özelliklerini yazınız, istediğiniz renge boyayınız.



Etkinlik: Aşağıdaki görselleri inceleyiniz. Altındaki boşluğa onları niteleyen kelimeleri yazınız.



★ İsimlerden önce gelerek onların durumlarını, biçimlerini sayılarını, yerlerini niteleyen veya belirten kelimelere denir.

Etkinlik: Aşağıda verilen sıfatları, ismin hangi özelliğini belirttiğini örnekteki gibi işaretleyiniz.

ifadeler	sayısını	rengini	biçimini	durumunu	işaret yoluyla	soru yoluyla
kırmızı kalem		x				
mavi araba						
üç ceviz						
kısa pantolon						
beşinci çocuk						
yuvarlak sehpa						
şu insan						
uzun yol						
bir elma						
hangi çanta						

Etkinlik: Aşağıdaki manzarayı inceleyiniz. İsimleri niteleyen kelimeleri yazınız.



Etkinlik: Aşağıdaki cümlelerde geçen, varlıkların özelliklerini bildiren kelimelerin altını çizerek noktalı yerlere yazınız.

1. Kırmızı kalemin şu dolabın içinde duruyor.



2. Sarı saçlarını savurarak mavi elbiseli kız geliyor.



3. Minik çocuk, tatlı parmaklarını annesinin uzun saçlarına doladı.



4. Kırmızı elma, yeşil salatalık, beyaz peynir, taze soğan, bir ekmek al.



5. Aç gözlü, beyaz tavşan büyük havucu yedi.



6. Beyaz elbiseli, uzun boylu, güzel bir kızdı.



7. O çocuk, bu tarafa doğru geliyordu.



8. Hangi kitabı aldın?



9. Genç kadın, şu kırmızı eve girdi.



10. Yaşlı adam, üç muz, iki ekmek alıp gitti.






11. Zavallı kedi miyavlıyordu.



12. Arabadaki küçük çocuk durmadan ağlıyordu.



Etkinlik: Aşağıdaki görselleri inceleyiniz. Görsellere uygun öykü oluşturunuz. Metni oluştururken varlıkları niteleyen kelimeleri kullanınız.






Large empty box with horizontal dotted lines for writing a story.


Etkinlik: Oluşturduğunuz metinle ilgili üç tane soru hazırlayınız.

Large empty box with horizontal dotted lines for writing three questions.


Etkinlik: Metinde geçen varlıkları niteleyen kelimeleri aşağıya yazınız.




Etkinlik: Aşağıdaki görselleri inceleyiniz. Varlıkları örnekteki gibi niteleyen uygun kelimeler yazınız.




..... büyük..... balık
..... balık
..... balık
..... balık



..... ahtapot
..... ahtapot
..... ahtapot
..... ahtapot



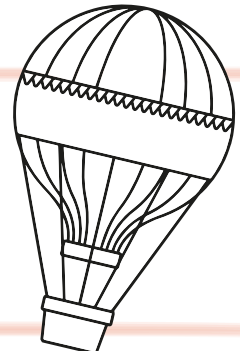
..... kedi
..... kedi
..... kedi
..... kedi



..... yılan
..... yılan
..... yılan
..... yılan




..... kız
..... kız
..... kız
..... kız




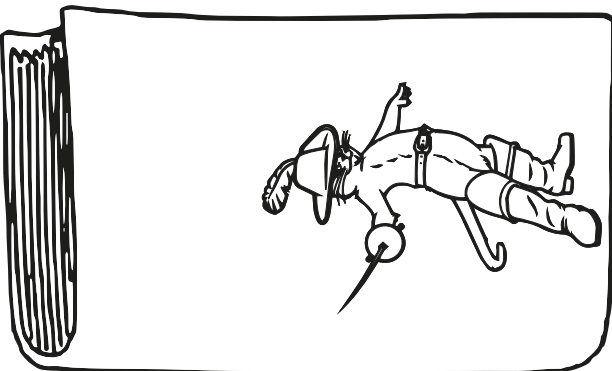




..... balon
..... balon
..... balon
..... balon

Etkinlik: Görselleri verilen masalların isimlerini kesip uygun görselin altına yapıştırınız.



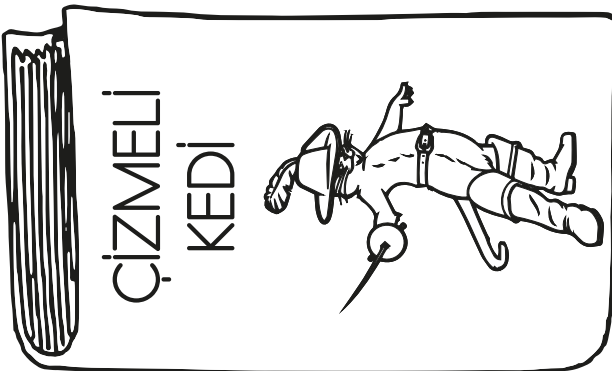

Kibritçi Kız	Kırmızı Başlıklı Kız	Uyuyan Güzel	Kurbağa Prens
Bremen Mızıkacıları	Çizmeli Kedi	Kül Kedisi	Pamuk Prenses
Parmak Çocuk	Sihirli Fasulyeler	Hansel ve Gretel	Rapunzel

Etkinlik: Görseli verilen masalların isimlerini araştırıp üstlerine yazınız. Bu masallardan birini okudunuz mu? Görselleri boyayınız.















Etkinlik:

CEVAP ANAHTARI



Etkinlik: Aşağıdaki çocuklar kumbaralarını açmış. En çok paraya sahip olan çocuğu işaretleyiniz. Kaç para biriktirdiklerini kumbaralara yazınız.

Etkinlik: Aşağıdaki boşlukları yukarıdaki tabloya göre doldurunuz.

- En çok parayı biriktirmiştir.
- En az parayı biriktirmiştir.
- Ersin ve Toprak'ın paraları toplamı TL'dir.
- Eşit miktarda para biriktirenler ve 'dır.
- Duru'nun parası Elif'in parasından TL azdır.
- Ecrin'in parası Sanem'in parasından TL fazladır.
- Arda ile Duru'nun paraları toplamı TL'dir.

Etkinlik: Tabloda verilen paraların, görseli verilen madeni paralardan kaç tanesine eşit olduğunu yazınız.

				
100 kr	2	4	10	20
1 TL				
300 kr				
2 TL				
200 kr				
3 TL				

Etkinlik: Birbirine eşit olan para miktarlarını birbiriyle eşleştiriniz.

3 lira 25 kuruş

4 tane 50 kuruş

456 kuruş

8 lira 75 kuruş

4 lira 56 kuruş

875 kuruş

2 TL

325 kuruş

Etkinlik: Verilen miktarların ifade ettiği para değerlerini yazınız.

⇒ 3 tane 50 kuruş + 4 tane 25 kuruş = kuruş = lira

⇒ 5 tane 20 kuruş + 6 tane 5 kuruş = kuruş = lira

⇒ 7 tane 10 kuruş + 6 tane 5 kuruş = kuruş = lira

⇒ 4 tane 75 kuruş + 2 tane 5 kuruş = kuruş = lira

⇒ 8 tane 25 kuruş + 4 tane 5 kuruş + 3 tane 10 kuruş = kuruş =
..... lira




⇒ 9 tane 5 kuruş + 7 tane 10 kuruş + 1 tane 25 kuruş = kuruş =
..... lira



⇒ 8 tane 25 kuruş + 1 tane 50 kuruş = kuruş = lira




Aşağıdaki tabloda bazı ürünler ve fiyatları verilmiştir.



 10 kuruş	 25 kuruş	 1 TL	 75 kuruş
 1 lira 25 kuruş	 50 kuruş	 2 TL	 1 lira 50 kuruş
 2 lira 15 kuruş	 75 kuruş	 2 lira 25 kuruş	 1 lira 50 kuruş
 1 lira 50 kuruş	 1 lira 25 kuruş	 75 kuruş	 50 kuruş



Etkinlik: Ürünlerin fiyatlarına bakarak aşağıdaki ürünlere kaç lira kaç kuruş ödeyeceğimizi bulunuz.



 +  +  =

 +  =

 +  +  =

 +  =

 +  =

 +  +  =

Etkinlik: Noktalı yerleri tamamlayınız.

▷ 215 kr = TL kr

◁ 720 kr = TL kr

▷ 425 kr = TL kr

◁ 575 kr = TL kr

▷ 840 kr = TL kr

▷ 5 tane 10 TL TL eder.

◁ 7 tane 5 TL TL eder.

▷ 3 tane 100 TL TL eder.

◁ 4 tane 50 TL TL eder.

▷ 6 tane 20 TL TL eder.

1 Tolga, tanesi 4 TL olan kitaplardan 3 tane aldı. Kasaya 20 TL verdi. Tolga, kaç lira para üstü alacaktır?

2 Bir aile, tanesi 80 kuruş olan yumurtalardan günde 4 tane tüketmektedir. Bu aile haftada kaç lira yumurta parası harcar?

3 Tanesi 95 kuruştan 3 balon aldım. Satıcıya 3 lira verdim. Geriye kaç kuruş alırım?

4 2 defter ve 3 kalem 2TL 75 kuruştur. Defterin tanesi 2 TL'dir. 1 kalem kaç kuruştur?

5 Yarım kilogram portakal 2TL 50 kuruştur. Anı portakaldan 38 kg satan bir satıcı, kaç TL kazanır?

6 Benim 8 TL 50 kuruşum, ablamın 20 TL 75 kuruşu var. Paralarımızı birleştirip 25 TL'ye çanta aldık. Geriye kaç paramız kaldı?



→ 45 TL



→ Gömleğin fiyatının 2 katından 10 TL fazla.



→ Gömleğin fiyatından 25 TL pahalı.

Yukarıdaki verilere göre 7. 8. ve 9. soruları yanıtlayınız.

7 Bir gömlek ve bir ayakkabı alan biri kaç lira ödemiştir?

8 Bir gömlek ve iki etek alan biri kaç lira ödemiştir?

9 Bir gömlek ve bir etek alan biri kasaya 150 TL verirse kaç TL para üstü olur?

Etkinlik: Problem yazan yerden yapıştırınız. Problemin yazdığı yeri kapak olarak kullanıp çözümünü altına yapınız.

PROBLEM 1

Ensar, babasından aldığı 8 TL 50 Kr'nin 5 TL 35 Kr'nu harcadı. Geriye kaç lira kaç kuruş kalır?

PROBLEM 2

96 liralık bir ütünün 16 lirası peşin ödenmiştir. Kalan para ise 4 ayda eşit taksitlerle ödenecektir. Bir ayda kaç lira ödeme yapılacaktır?

PROBLEM 3

Kilosu 3 lira olan domatesten 6 kilo alan birisi 20 lira verirse kaç lira para üstü alması gerekir?

PROBLEM 4

85 liralık bir ayakkabının 15 lirası peşin ödenmiştir. Geriye kalan 5 ayda eşit taksitlerle ödenecektir. 1 ayda kaç lira ödeme yapılacaktır?

PROBLEM 5

Mert 13 lira, Buse Mert'ten 2 lira fazla Saltuk ise Buse'den 5 lira fazla harcamıştır. Üçünün harcadıkları paraların toplamı kaçtır?

PROBLEM 6

Esmâ, hafta içi 1 lira hafta sonu 3 lira harçlık alıyor. Esmâ 3 haftada kaç lira harçlık alır?

PROBLEM 7

İrem, annesinin verdiği 20 liranın 1.gün 4 lirasını, 2.gün birinci günden 3 lira fazlasını harcadı. İrem'in kaç lirası kaldı?

PROBLEM 8

Yarım kilosunu 2 lira 25 kuruş olan muzdan 4 kilo aldım. Satıcıya 20 lira verirsem ne kadar para üstü alırım?

4, 0, 5, 9 Sayılarını birer kez kullanarak yazılabilen üç basamaklı

→ Bu bölümü yapıştırınız.

En çok ve en az miktardaki paraların toplamı kaç olur?

En büyük ve en küçük tek sayı miktarındaki paraların toplamı kaç TL olur?

En büyük ve en küçük çiftsayı miktarındaki paraların toplamı kaç TL olur?

Elma:1 TL 50 Kr Çilek:3TL 25Kr Muz:4TL 50 Kr Armut:2TL 75 Kr

→ Bu bölümü yapıştırınız.

20 TL ile markete giden annem dört kilo çilek ile bir kilo muz alırsa ne kadar parası kalır?

Yukarıdaki meyvelerden birer kilo alan Enes ne kadar ödeme yapar?

2 kilo armut ile 4 kilo elma almak isteyen Alta'ya en az kaç TL gerekir?

Zümra Gül'ün cüzdanında 25 TL 80 Kr'si vardır.

→ Bu bölümü yapıştırınız.

Önce kırtasiyeye uğrayıp tanesi 50 Kr'tan 4 tane silgi ve tanesi 75 Kr'tan 6 tane kalem almıştır.

Sonra marketten tanesi 80 Kr olan yumurtalardan 6 tane, kilosunu 2 TL olan patatesten 3 kilo almıştır.

Zümra, Gül'ün cüzdanında ne kadar parası kalmıştır?

234 TL



157 TL



37 TL



990 TL



675 TL



→ Bu bölümü yapıştırınız.

Abimin 130 TL'si vardır. İstedığı gitarı alabilmesi için ne kadar daha para biriktirmesi gerekiyor?

Bilgisayarın fiyatı radyonun fiyatından ne kadar fazladır?

Ablamın kumbarasında 880 lira vardır. Cep telefonu ve çanta alan ablamın ne kadar parası kalır?

★ Aşağıdaki ifadeler doğruysa başına **D**, yanlış ise **Y** yazınız.

- Ülkemizin para birimi Türk lirasıdır.
- 1 liranın içinde 5 tane 25 kuruş vardır.
- 4 tane 25 kuruş 2 TL eder.
- Kuruşun değeri liradan daha fazladır.
- 1 tane 20 TL, 3 tane 10 TL, 2 tane 5 TL, 60 TL eder.

★ Aşağıdaki boşlukları doldurunuz.

- ▶ 2 liranın içinde tane 50 kuruş vardır.
- ▶ 3 liranın içinde tane 25 kuruş vardır.
- ▶ 130 kr = TL kuruş eder.
- ▶ 4 TL 85 kr = kr.
- ▶ 4 tane 50 kr = TL
- ▶ 2 tane 100 TL + 1 tane 50 TL + 3 tane 1 TL TL
- ▶ 3 tane 10 TL + 6 tane 5 TL + 5 tane 50 kr TL kr.
- ▶ 700 kr = TL
- ▶ 2 tane 50 kr + 8 tane 25 kr = TL
- ▶ tane 25 kr 3 TL eder.

★ Aşağıdaki problemleri çözünüz.

1. Umut, 78 lirasının $\frac{1}{6}$ 'i ile kitap alıyor. Umut'un geriye kaç lirası kalmıştır?
2. Annem pazardan 4 kg'ı 20 TL olan elmalardan 2 kg aldı. Annem kaç lira ödemiştir?
3. Özüm'ün 10 TL'si var. Özüm tanesi 1 TL 25 kr olan kalemlerden 3 tane aldı. Özüm'ün kaç TL'si kaldı?
4. Azra, kumbarasına günde 85 kr. para atmaktadır. Azra bir haftada ne kadar para biriktirir?

Etkinlik: Aşağıdaki görselde canlı ve cansız varlıkları bularak uygun olan bölüme yazınız.



CANLI VARLIKLAR

.....

.....

.....

.....

.....

.....

CANSIZ VARLIKLAR

.....

.....



.....

.....


.....

.....

Etkinlik: Aşağıdaki görsellerde canlı varlıkların şeklini boyayınız.



Etkinlik: Aşağıdaki balıklardan canlıların ortak özellikleri olanı kesip akvaryuma yapıştırınız.



CANLILARIN ORTAK
ÖZELLİKLERİ




Etkinlik: Aşağıdaki bulmacada canlıların 8 tane ortak özellikleri gizlenmiştir. Onları bulup boyayınız. Kalan harflerle şifreyi oluşturunuz.



ŞİFRE

1. Kelime: ○ ○ ○ ○ ○ ○ ○ ○ ○ ○

2. Kelime: ○ ○ ○ ○ ○ ○ ○ ○ ○ ○



Etkinlik: Aşağıdaki ifadelerden doğru olanlara gülen yüz "😊", yanlış olanlara üzgün yüz "☹️" yapınız.

Çevremizde canlı ve cansız bir çok varlık bulunur.

Bitkiler kendi besinini üretir, hayvanlar hazır besinleri tüketir.

Hava, su, toprak canlı varlıklara örnektir.

Bütün canlılar hareket eder.

Hayvanların hepsi aynı şekilde hareket eder.

Canlılar, solunum yapmak için oksijene ihtiyaç duyar.

Hayvanlarda ve insanlarda büyüme süreklidir.

Üreme sayesinde canlıların sayısı artar.

Cansız varlıklar ışık, ses, koku gibi uyarılara tepki verir.

Bitkiler solunum yapamazlar.

Etkinlik: Aşağıdaki bulmacada canlıların ortak özelliklerini uygun kelimelerle tamamlayıp bulmacaya yazınız.

- 1) Canlıların besin bulmak, korunmak için yer veya yön değiştirmesine denir.
- 2) Canlılar vücutlarındaki atık maddeleri sayesinde vücutlarından atar.
- 3) Balıklar ve suda yaşayan canlılar ile solunum yaparlar.
- 4) Canlılar tüm yaşamları için gerekli enerjiyi alırlar.
- 5) Canlı varlıkların kendilerine benzer yavrular meydana getirmelerine denir.
- 6) Canlılar, çevrelerinden ışık, ses, koku gibi uyarılar alırlar ve bu uyarılara karşı verirler.

boşaltım


hareket

tepkiler

solungaçları

üreme

besinlerden



Etkinlik: Aşağıdaki bilmecelerin cevaplarını eşleştirin. Canlı varlıklar canlı kutusuna, cansız varlıkları cansız kutusuna yazınız.

Yer altında sakallı dede.



Dışı var içi yok, tekme yer suç yok.

İç i ateş, dış ı taş üstünde bin bir baş.



Daldan dala, kırmızı pala.

Açılır kapanır, ağz ı var, dili yok.



Bilgi verir herkese en güzel dosttur bize.

9 ay zindanda yatar. 6 ay zil çalar oynar.



Dereler tepeler şık şık küpeler.

İki canlı pencere. Bakıp durur her yere.



Ne kan ı var ne can ı, beş tane dir parmağı.

Kuyruğı var at değil. Kanadı var kuş değil.



Bir sap ı var, yüz topu var.

Gökte durur paslanmaz, suya düşer ıslanmaz.



Benim bir hayvanım var. Kuyruğundan uzun burnu var.

Canlı Varlıklar

-
-
-
-

Cansız Varlıklar

-
-
-
-

Etkinlik: Aşağıda verilen cümlelerdeki boşlukları, uygun kelimelerle tamamlayıp bulmayaca yazınız.

1=Acil durumlarda yapmamalıyız.


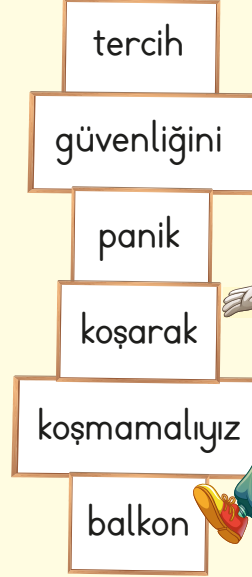
2=Deprem sırasında ve pencerelerden uzak durmalıyız.

3=Oyun alanlarında kendimiz ve başkalarının tehdit eden davranışlardan kaçınmalıyız.

4=Güvenliğimizi tehdit eden bir kişi olduğunda yanından uzaklaşmalıyız.

5=Oyun alanlarında kaçan oyun araçlarının peşinden

6=Oyun oynarken araç trafiğine kapalı yerleri etmeliyiz.



Etkinlik: Verilen bilgilerden doğru olanlara gülen yüz, yanlış olanlara üzgün yüz yapınız.



Parkta güvenliğimizi tehdit eden biriyle karşılaştığımızda hiçbir şey yapmamalıyız.



Okulda tanımadığımız biri bizden para istediğinde istediği parayı vermeliyiz.




Yolda tanımadığımız biri, bizi kolumuzdan tuttuğunda bağırarak yardım istemeliyiz.



İnternette biri, bizden özel bilgilerimizi istediğinde ailemize söylemeliyiz.


Etkinlik: Aşağıda bazı oyun araçları verilmiştir. Bu oyun araçlarını boyayınız. Kullanırken nelere dikkat edilmesi gerektiğini yazınız.




bisiklet




top



salıncak



kaydırak



kaykay

Blank writing area for the bicycle.

Blank writing area for the ball.

Blank writing area for the swing set.

Blank writing area for the slide.

Blank writing area for the skateboard.

Etkinlik: Cümleleri okuyunuz. Verilen bilgiler doğru ise "D", yanlış ise "Y" yazınız.

- Dışarıda oyun oynarken güvenli alanlar seçmeliyiz.
- Merdiven gibi tırmanmalı araçlar varsa dikkatli olmalıyız.
- Salıncağa binmeden önce zincir veya iplerin sağlam olup olmadığını kontrol etmeliyiz.
- Çocuk parklarındaki oyun araçlarını kontrol etmeden kullanmamalıyız.
- Oyun oynarken oyun alanının dışına kaçan top gibi oyuncakların peşinden gitmeliyiz.

Etkinlik: Pinokyo, oyun oynarken dikkat ettiği bazı kuralları anlattı. Siz, bu kuralları numaralandırarak sıraya koyunuz.



Oyun oynamaya başlarız.



Oyun esnasında kurallara uyarız.



Oyunun kazananı kutlarız.



Oynanacak oyuna karar veririz.




Mahalledeki arkadaşlarla bir araya geliriz.



Oyunun kurallarını belirleriz.

Etkinlik: Aşağıdaki görselleri inceleyiniz. Güvenli oyun alanlarının yer aldığı görseli işaretleyiniz.



Etkinlik: Aşağıdaki görselleri inceleyiniz. Oyunların adlarını yazınız.



.....



.....



.....



.....



.....



.....

Etkinlik: Oyun oynarken nelere dikkat etmeliyiz? Aşağıdaki cümleleri tamamlayıp bulmacayı bulunuz.

SORULAR :

1. Araç trafiğine kapalı park, okul bahçesi gibi yerleri
2. Dikkatsiz hareketlerden
3. Kurallara
4. Kaçan topun peşinden
5. Bisiklet,, kaykay gibi araçları kullanırken kask, 6. takmalıyız.
7. Oyun alanlarındaki sırayla
8.
9. Oyun alanı dışına kaçan oyun araçlarının peşinden koşmak



binmeliyiz

paten

uymalıyız

tehlikelidir


koşmamalıyız

oyuncaklara

dizlik

tercih
etmeliyiz

uzak
durmalıyız



1. "Kırmızı elbisemi ablamla pazardan aldık." cümlesinde sıfat olan kelime aşağıdakilerden hangisidir?

- A) Elbise B) Kırmızı
C) Pazardan

2. Aşağıdakilerden hangisi masal türünün bir özelliği değildir?

- A) Olağanüstü kahramanlar vardır.
B) Gerçek dışı olaylar yaşanır.
C) Yeri ve zamanı bellidir.

3. Aşağıdaki cümlelerin hangisinde varlığı işaret yoluyla belirten sözcük kullanılmıştır?

- A) Kırmızı gülü çok severim.
B) Beş ekmek alıp geldim.
C) Şu ev çok güzel.

4. Aşağıdakilerden hangisi masal kahramanı değildir?

- A)  B)  C) 

5. Aşağıdaki cümlelerden hangisinde varlığın farklı bir özelliği nitelenmiştir?

- A) Beyaz kartona ödevimi yaptım.
B) Beş tane kalem aldım.
C) Mavi arabaları çok güzeldi.

6.  40 TL  35 TL

Mağazadan 2 tişört ve 3 etek alan annem, kaç lira ödeme yapmalıdır?

- A) 100 B) 175 C) 185

7. Tanesi, 25 kuruş olan sakızlardan 9 tane aldım. Bakkala kaç para vermeliyim?

- A)   B)  
C)   

8. Selin, 3,95 kuruşa çorap aldı. Satıcıya 10 TL verdi. Selin, ne kadar para üstü almalıdır?
A) 6 TL 15 kuruş
B) 5 TL 5 kuruş
C) 6 TL 5 kuruş

9. Zeynep, 4 tanesi 60 TL olan bluzdan 6 tane alıyor. Zeynep, kaç TL öder?
A) 90 TL
B) 110 TL
C) 75 TL

10. I. 2 TL 55 kr = kuruş
II. 4,75 kr = TL kuruş

Yukarıdaki boşluklara sırasıyla aşağıdakilerden hangisi gelmelidir?

- A) I. 256 kuruş
II. 4 TL 25 kuruş
B) I. 255 kuruş
II. 4 TL 55 kuruş
C) I. 255 kuruş
II. 4 TL 75 kuruş

11.  = 1.50 kr  = 1.75 kr

2 tane kalem, 2 tane silgi alan Büşra ne kadar ödeme yapar?

- A) 4 TL
B) 5 lira 50 kuruş
C) 6 lira 50 kuruş


12. Mehmet, tanesi 16 lira olan toplardan 4 tane alınca geriye 20 lirası kalıyor. Başlangıçta Mehmet'in kaç lirası vardır?
A) 64
B) 80
C) 84

13. ▲ Canlıların büyümesi sınırlıdır.
★ Hayvanlar kendi besinlerini üretirler.
● Canlıların hareket etme şekli farklıdır.

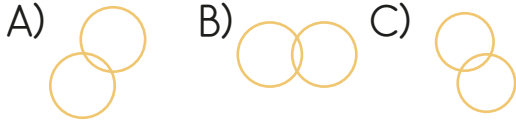

Yukarıdaki bilgilerden hangileri doğrudur?

- A) ▲ ★ B) ▲ ● C) ★ ●

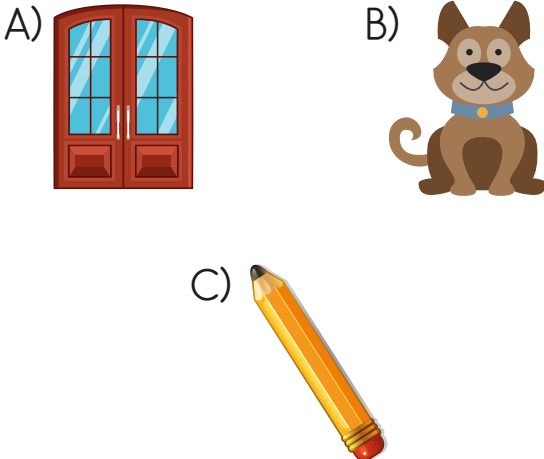
14. Aşağıdakilerden hangisi canlılar grubunda incelenmez?



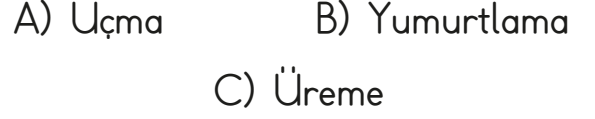
15. Yandaki şekilde canlı varlığı çıkardığımızda hangi şekil oluşur?



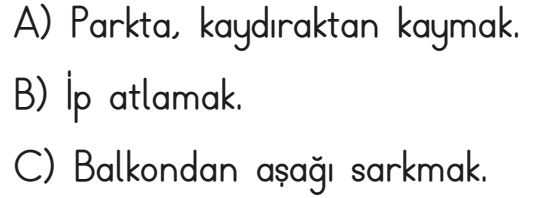
16. Aşağıdakilerden hangisi canlı bir varlıktır?



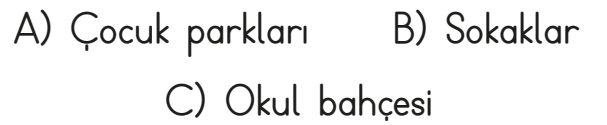
17. Aşağıdakilerden hangisi canlıların ortak özelliğidir?



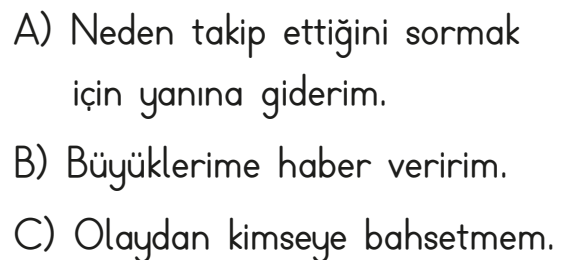
18. Aşağıdakilerden hangisi tehlikeli bir davranıştır?



19. Aşağıdakilerden hangisi güvenli alanlardan değildir?



20. Tanımadığımız biri bizi takip ederse ne yaparsınız?



CEVAP ANAHTARI

1 - B
2 - C
3 - C
4 - C
5 - B
6 - C
7 - C
8 - C
9 - A
10 - C
11 - C
12 - C
13 - B
14 - A
15 - A
16 - B
17 - C
18 - C
19 - B
20 - B