

## İSTİKLAL MARŞI

Korkma, sönmez bu şafaklarda yüzen al sancak,  
Sönmeden yurdumun üstünde tüten en son ocak.  
O benim milletimin yıldızıdır, parlayacak,  
O benimdir, o benim milletimindir ancak



Çatma, kurban olayım, çehreni ey nazlı hilal!  
Kahraman ırkıma bir gül! Ne bu şiddet, bu celal?  
Sana olmaz dökülen kanlarımız sonra helal...  
Hakkıdır, Hakk'a tapan, milletimin istiklal!

(Mehmet Akif ERSOY)



Aşağıdaki soruları metne göre cevaplayınız.

1. İstiklal Marşı'nın şairi kimdir?

.....

2. İstiklal Marşı'nın konusunu ve ana fikrini yazınız.

Konu: .....

.....

Ana Fikri: .....

.....

3. Şair, birinci dörtlükte "Korkma!" diyerek kime sesleniyor?

.....

**Etkinlik:** Aşağıda şiirde geçen bazı kelimeler karışık olarak verilmiştir. Anlamını bilmediğiniz üç tane kelimenin anlamını bularak cümlede kullanınız.

2 E İ M L L T

3 A K R H M N A A

4 Ş E D T İ D

5 Ş A A F K

1 R K İ

6 İ L A H L

7 L L E C A



K	Ş	T	L	Y	Ş	S
A	A	K	H	İ	İ	M
H	F	N	İ	R	D	S
R	A	C	L	K	D	Ş
A	K	E	A	T	E	T
M	İ	L	L	E	T	L
A	R	A	O	Ö	T	R
N	Y	L	M	N	L	M



1-.....: .....

Cümle : .....

2-.....: .....

Cümle : .....

3-.....: .....

Cümle : .....

"Ey kahraman Türk kadını! Sen, yerde sürüklenmeye değil, omuzlar üzerinde göklere yükselmeye layıksın."

(M. K. Atatürk)



"Dünyada her şey kadının eseridir."  
(M. K. Atatürk)

"Daha emin ve daha doğru olarak yürüyeceğimiz bir yol vardır: Büyük Türk kadınına çalışmamıza ortak kılmaktadır."

(M. K. Atatürk)



"Dünyada hiçbir milletin kadını, ben Anadolu kadınından fazla çalıştım. Milletimi kurtuluşa ve zafere götürmekte Anadolu kadını kadar emek verdim, diyemez!"

(M. K. Atatürk)

"Milletimiz güçlü bir millet olmaya azmetmiştir. Bunun gereklerinden biri de kadınlarımızın her konuda yükselmelerini sağlamaktır."

(M. K. Atatürk)



**Etkinlik:** Aşağıda karışık olarak verilen kelimelerin doğrularını yazarak anlamını bulunuz. Bulmacaya yazınız.

1 A K A R N M H A → ○ ○ ○ ○ ○ ○ ○ ○ ○ ○

Anlamı : .....

.....

2 R S E E → ○ ○ ○ ○

Anlamı : .....

.....

3 F Z E R A → ○ ○ ○ ○ ○

Anlamı : .....

.....

4 M E E K → ○ ○ ○ ○

Anlamı : .....

.....

5 L L E T M İ → ○ ○ ○ ○ ○ ○ ○

Anlamı : .....

.....



6 R T L K U U U Ş → ○ ○ ○ ○ ○ ○ ○ ○ ○ ○

Anlamı : .....

.....



**Etkinlik:** Aşağıdaki bulmacayı karışık olarak verilen kelimelerin doğrularını yazarak doldurunuz. Resmi istediğiniz gibi boyayınız.



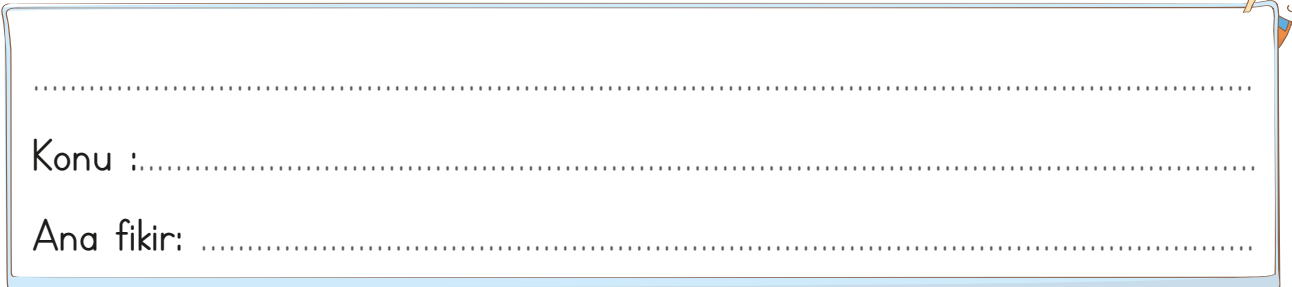
**Etkinlik:** Atatürk'ün kadınlarla ilgili söylediği sözlerden en çok hangisini beğendiniz?



**Etkinlik:** Yazdığınız sözden anladıklarınızı aşağıya yazınız.




**Etkinlik:** Verilen sözlerin ortak özellikleri nedir? Konusunu ve ana fikrini yazınız.



Konu : .....

Ana fikir: .....

**Etkinlik:** Aşağıdaki resmi istediğiniz gibi boyayınız.



**Etkinlik:** Aşağıdaki oyunların isimlerini ve kurallarını araştırıp yazınız.



Adı: .....

Kurallar:

.....

.....

.....

.....

Adı: .....

Kurallar:

.....

.....

.....

.....



Adı: .....

Kurallar:

.....

.....

.....

.....

Adı: .....


Kurallar:

.....

.....

.....

.....



**Etkinlik:** Aşağıdaki görsellerin hangi fabl olduğunu araştırıp kısaca yazınız.



.....

.....

.....

.....

.....


.....

.....

.....

.....

.....



.....

.....

.....

.....

.....



.....

.....

.....

.....

.....



.....

.....

.....

.....

.....

**Etkinlik:** Aşağıdaki boşlukları uygun kelimelerle tamamlayıp bulmacaya yazınız.

- 1 - Fabllar her zaman ..... ve mesaj vericidir.
- 2 - Masallar her zaman ..... sonla biter.
- 3 - Fablların kahramanları hayvanlar ve .....lerdir.
- 4 - Masallar çoğunlukla ..... ile başlar.
- 5 - Fabllar ..... şeklinde de olabilir ama masallar düz yazı biçimindedir.
- 6 - Masalda da fablda da yer ve ..... unsuru belli değildir.

şiiir

mutlu

zaman

öğretici

bitki

tekerleme

6

5

4

3

2

1










**Etkinlik:** Aşağıdaki yazan kelimeleri zıt anlamlarıyla aynı renge boyayıp kelimelerden birini güneşe birini buluta kesip yapıştırınız.

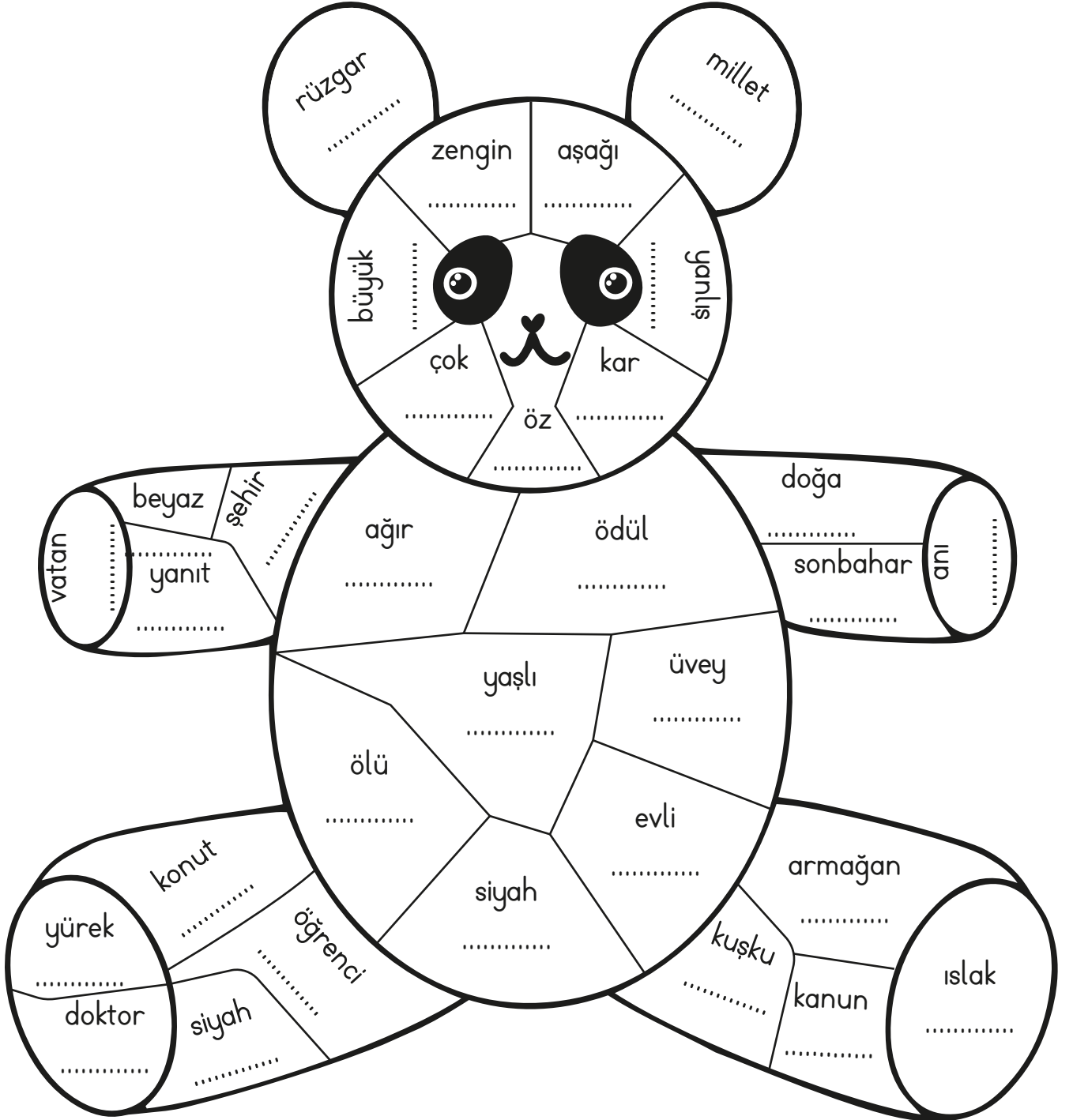
neşeli	gider	üvey
savaş	lisan	ceza
yukarı	düşman	öz
diri	cimri	katı
cömert	ödül	gelir
dost	dil	zor
kolay	ölü	barış
sıvı	aşağı	üzgün



**Etkinlik:** Aşağıdaki çileklerde yazan kelimelerin eş sesli olanlarını kesip sepete yapıştırınız.






**Etkinlik:** Aşağıdaki pandayı verilen yönergeye göre boyayınız.




- 1- Yukarıdaki pandanın kollarında, ayaklarında ve kulaklarında eş anlamı olan kelimeler yazılmıştır. Eş anlamlarını yazarak her kelimeyi ayrı renge boyayınız.
- 2- Pandanın gövdesinde ve kafasında yazan kelimelerin zıt anlamlarını yazıp boyayınız.


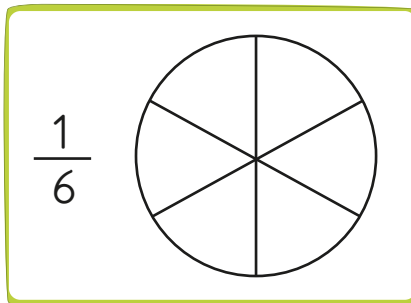
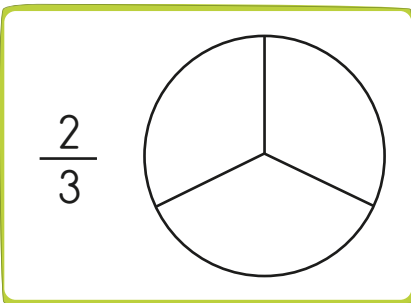
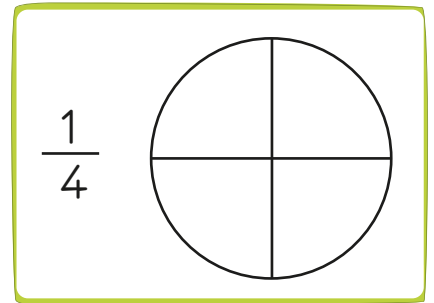
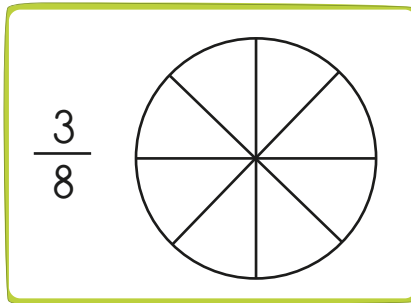
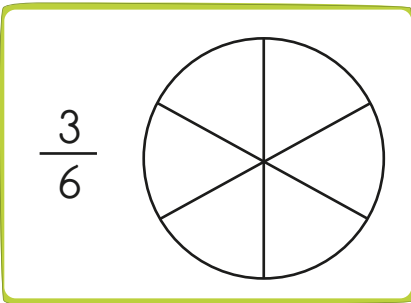


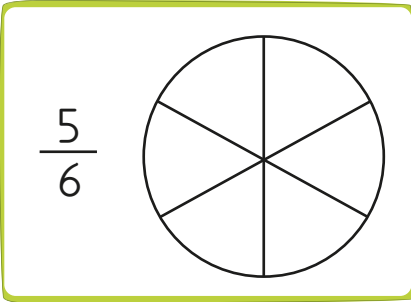
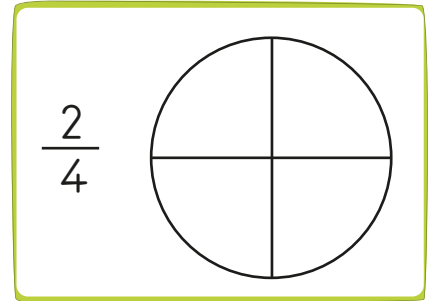

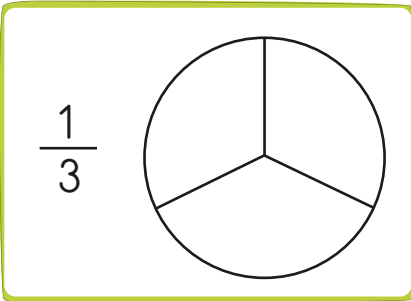
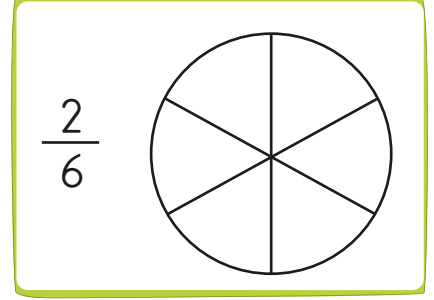
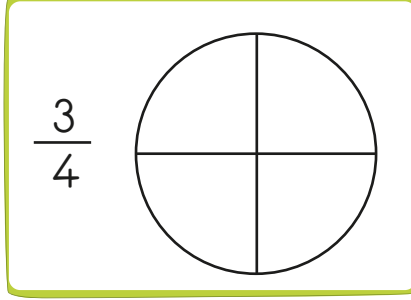
**Etkinlik:** "Güneş girmeyen eve doktor girer." atasözünden yola çıkarak görselleri yorumlayıp yazınız.



**Etkinlik:** Aşağıdaki resimde sıfatları sarıya, isimleri kırmızıya, zamirleri maviye boyayınız.



**Etkinlik:** Aşağıdaki pizzaların belirtilen kesir kadarını istediğiniz malzemeyle doldurunuz. Pizzaların altına kaç birim kesirden oluştuğunu yazınız.





**Etkinlik:** Aşağıdaki sayı doğrularında görsellerin yerine yazılması gereken kesirleri yazınız.

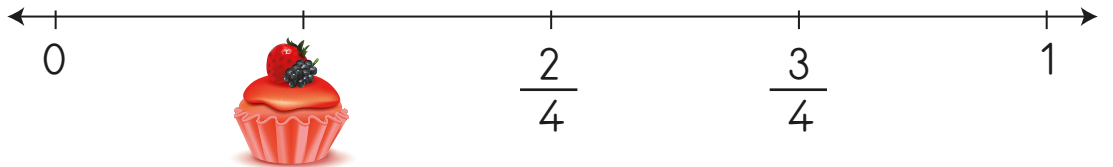
1.

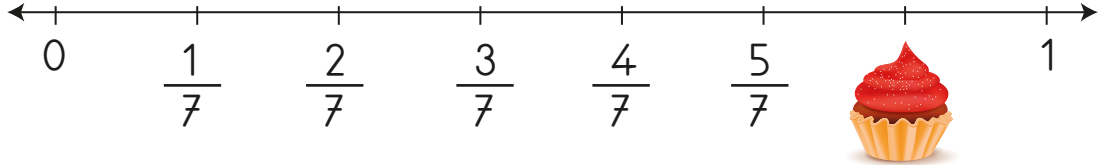

2.

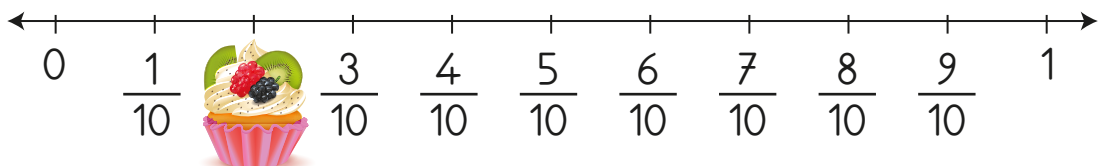

3.

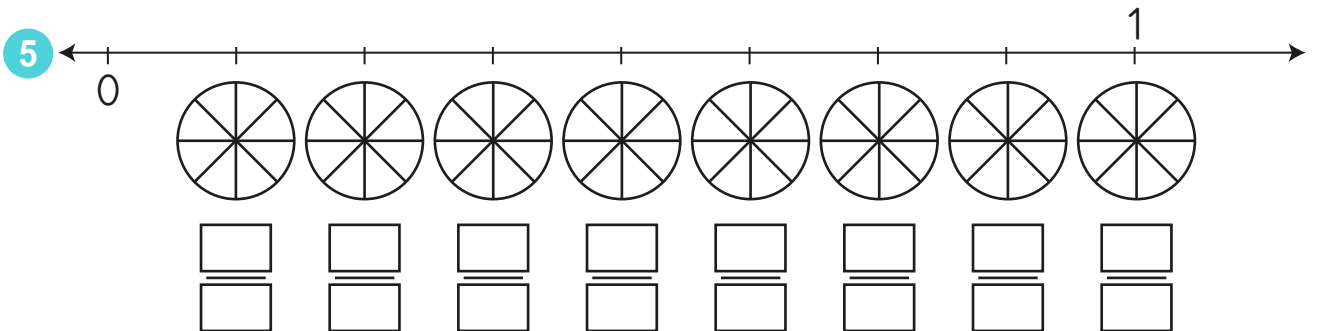
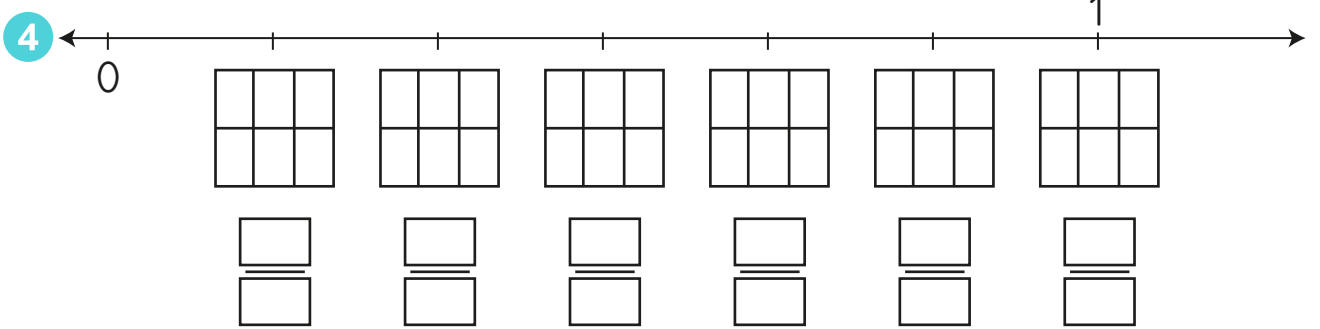
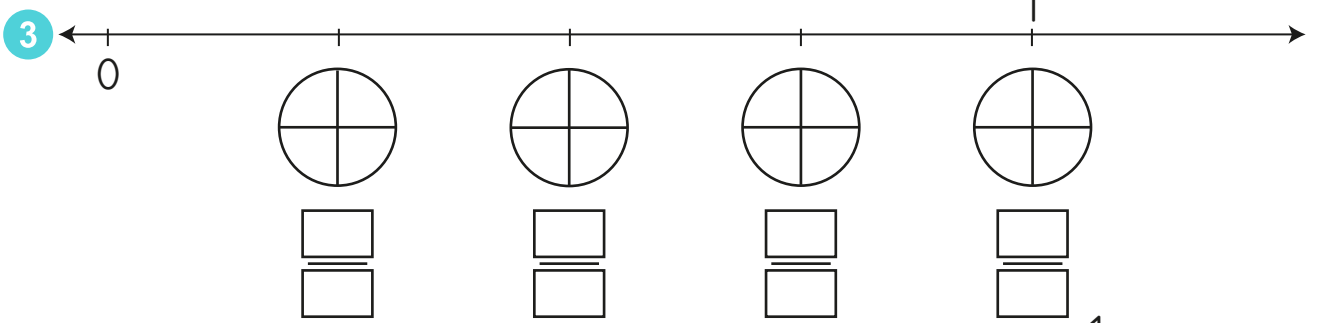
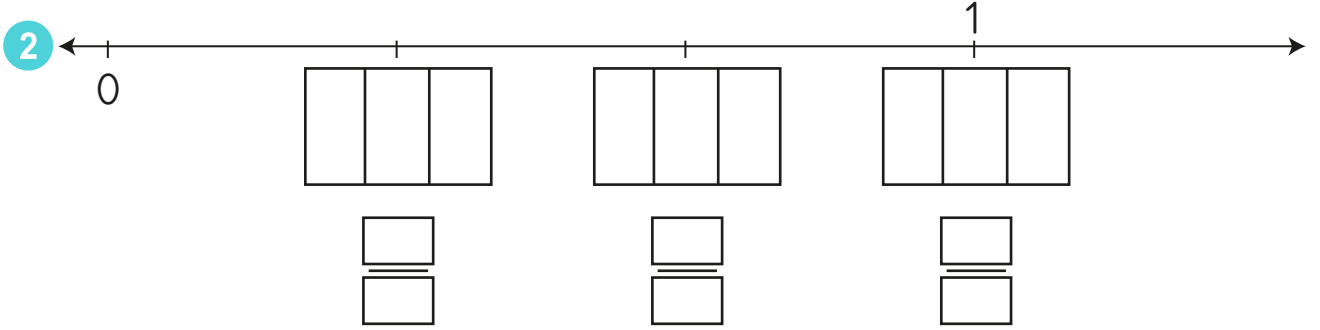
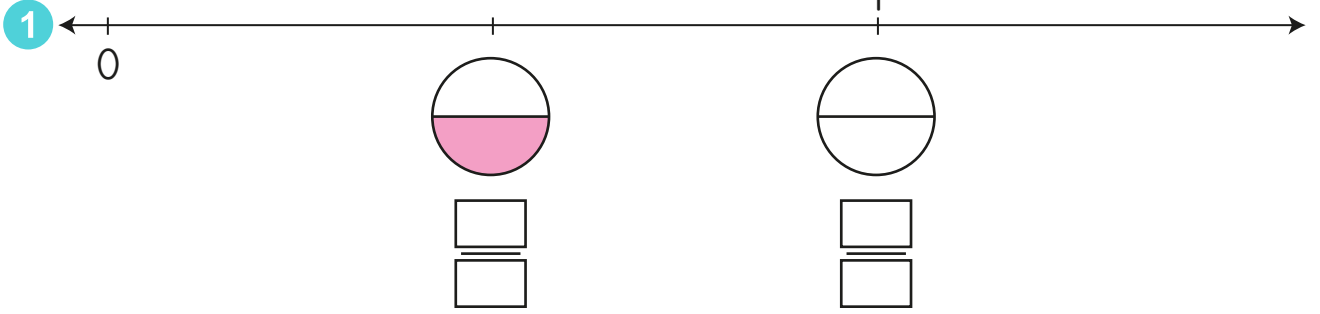
4.

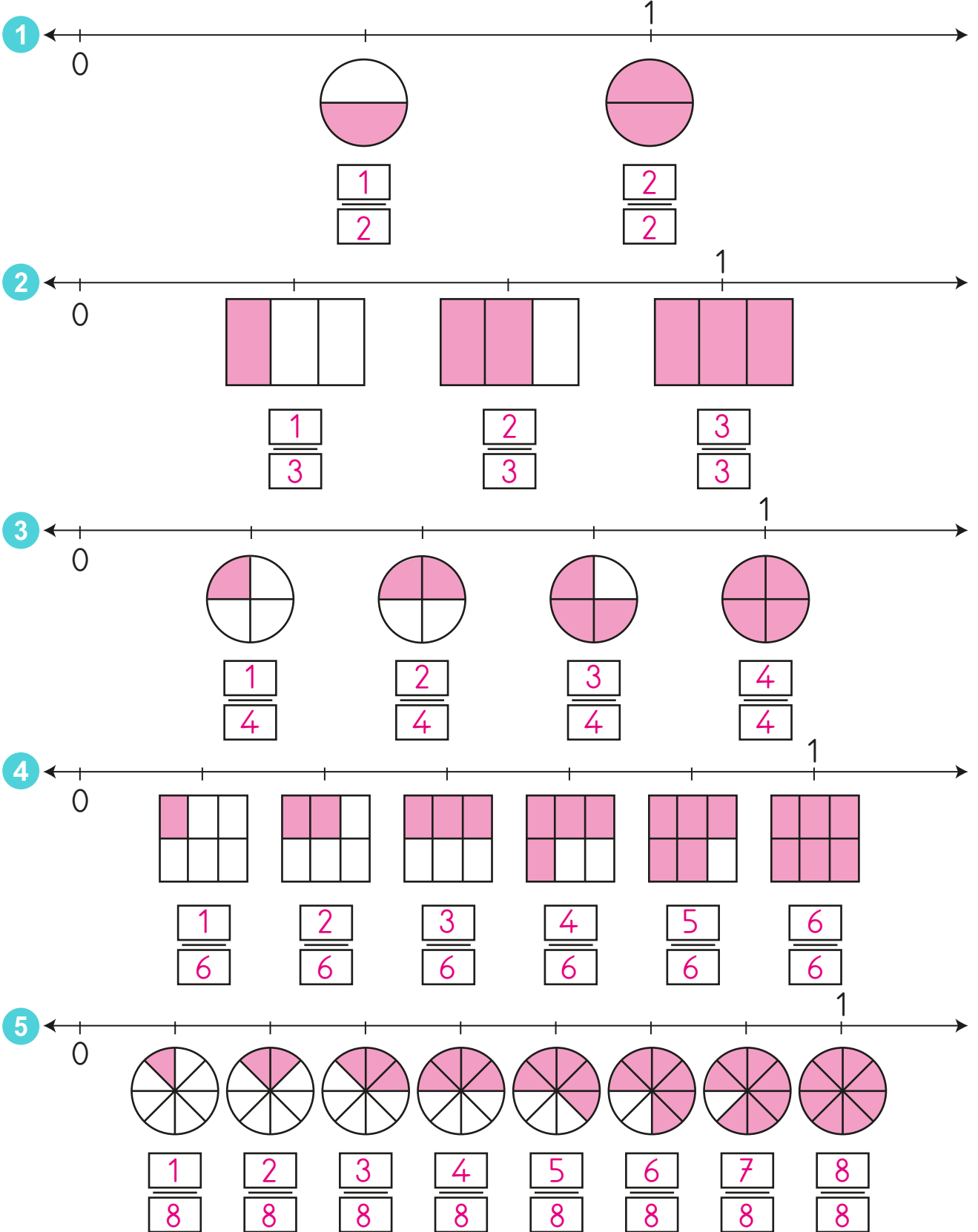
5.

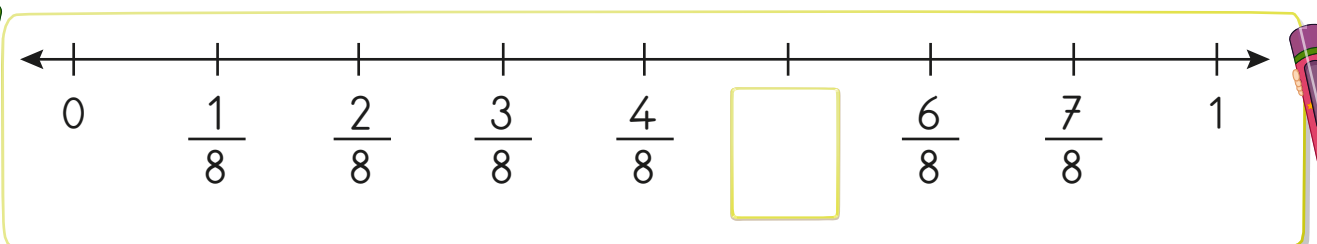
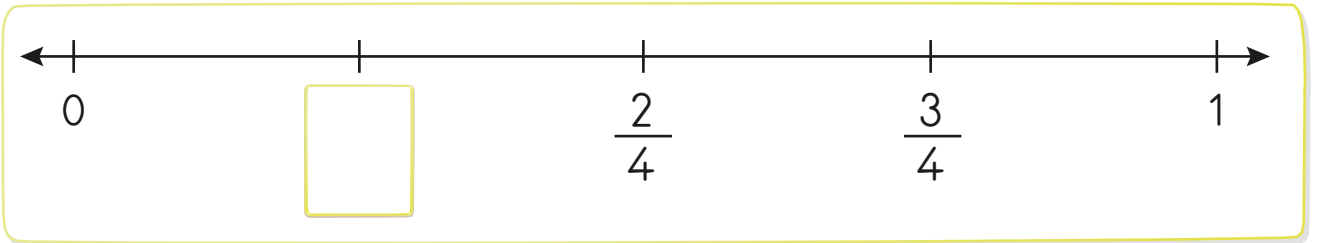
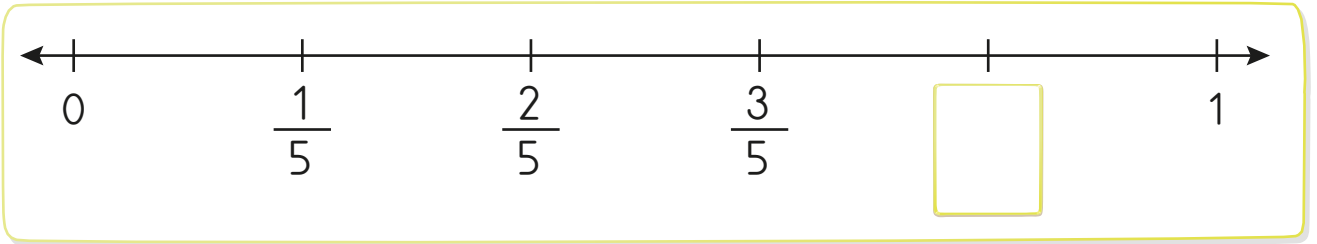
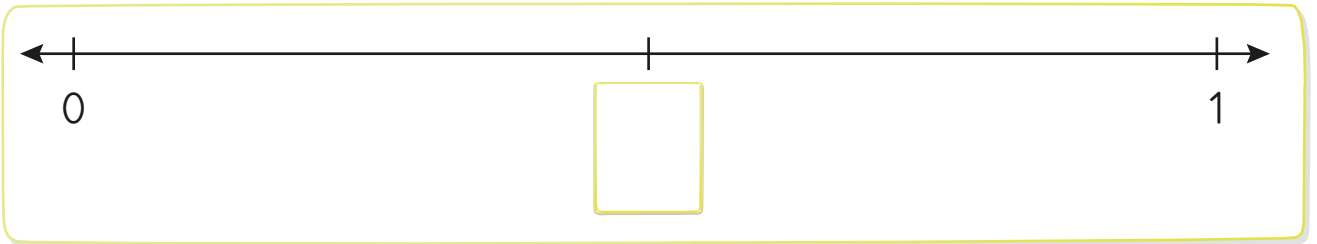
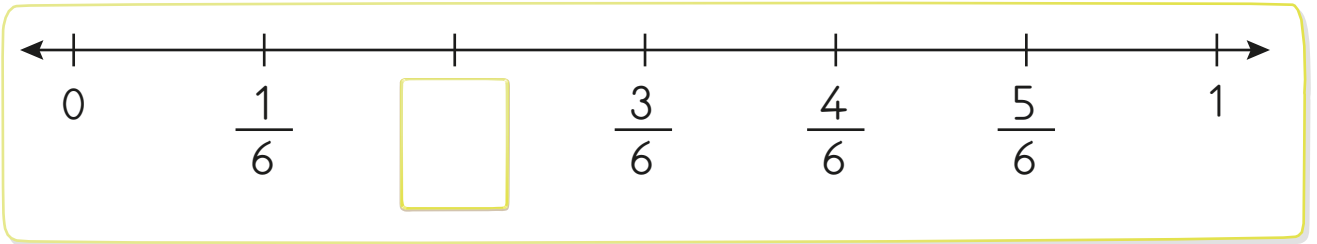

**Etkinlik:** Aşağıdaki sayı doğrularında işaretli yerlere denk gelen kesirleri uygun şekilde örnekteki gibi boyayınız.



CEVAP ANAHTARI



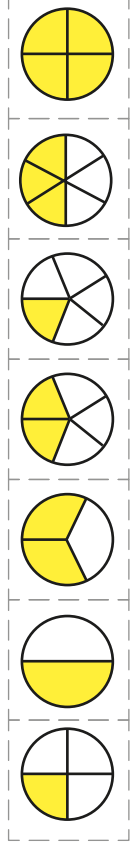
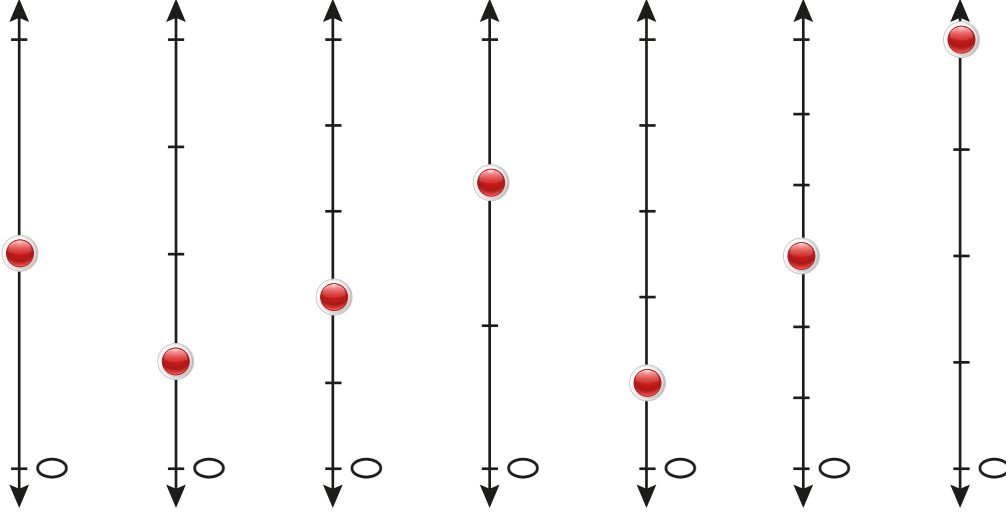
**Etkinlik:** Sayı doğruları üzerindeki kutucukların yerine gelecek olan kesirleri yazınız.



**Etkinlik:** Sayı doğrusundaki kesirleri yazınız. Kesre uygun şekli kesip yapıştırınız.

Şekil

Kesir

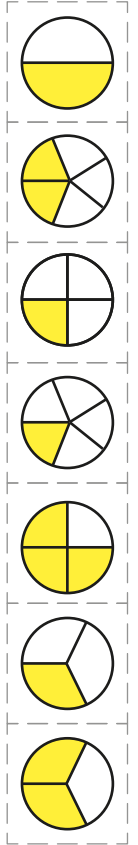
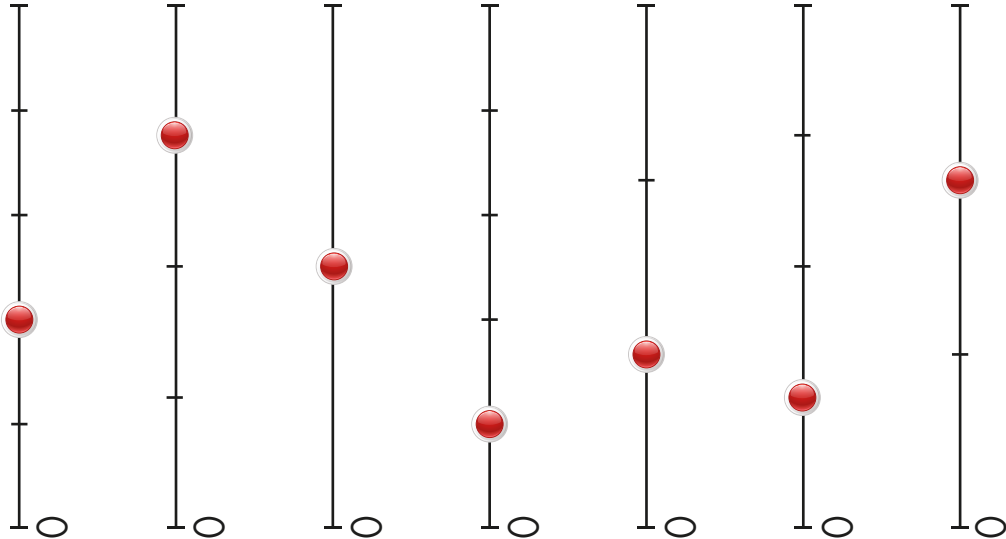


**Etkinlik:** Sayı doğrusundaki kesirleri yazınız. Kesre uygun şekli kesip yapıştırınız.

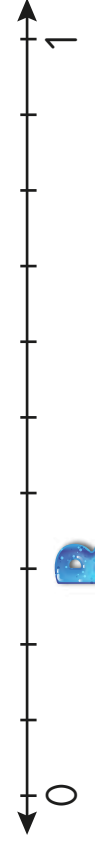

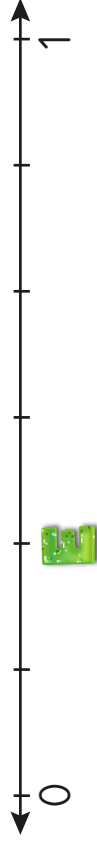
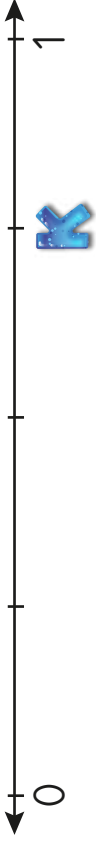
Sayı doğrusu

Şekil

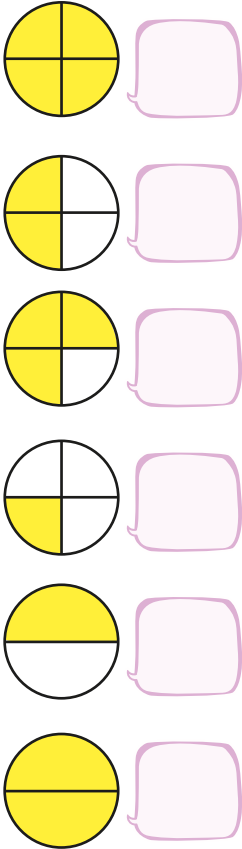
Kesir



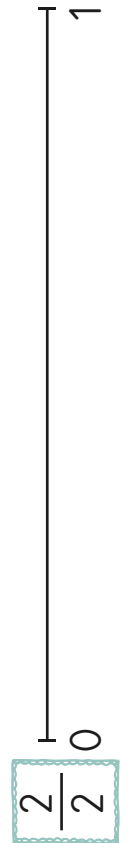
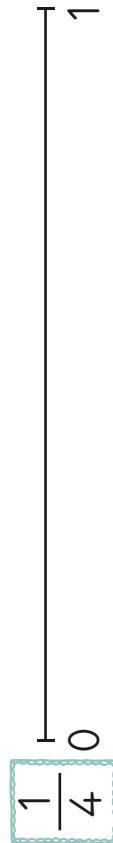


**Etkinlik:** Sayı doğrusundaki harflere denk gelen kesirleri bulup yazınız. Kesre uygun şekil çiziniz.



**Etkinlik:** Aşağıdaki şekillere uygun kesirleri yazınız.



**Etkinlik:** Aşağıda verilen kesirleri sayı doğrusunda gösteriniz.






















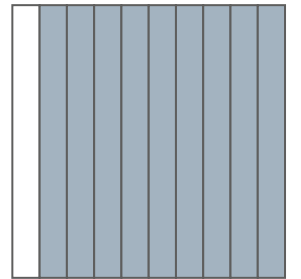

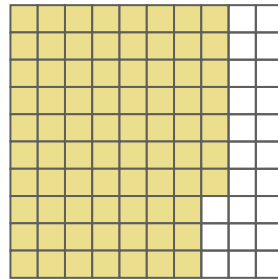

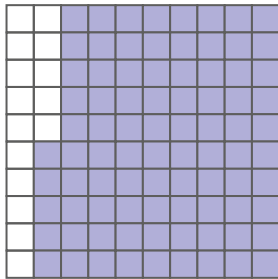



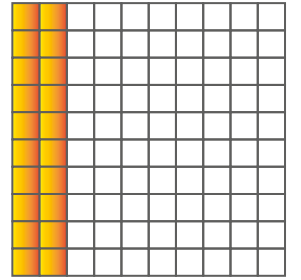



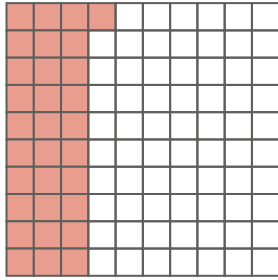

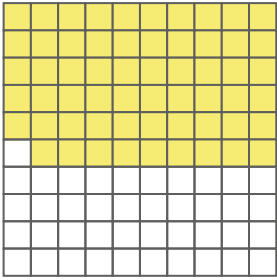



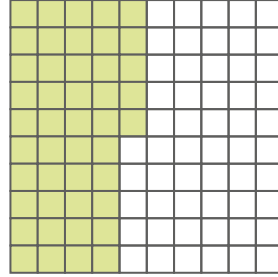




**Etkinlik:** Aşağıdaki belirtilen kesirleri şekil çizerek gösteriniz. Kaç adet birim kesir-  
den oluştuğunu örnekteki gibi yazınız.

	KESİR	ŞEKİLLE GÖSTERİMİ	KAÇ BİRİM KESİRDEN OLUŞTUĞU
	$\frac{4}{6}$		4 tane 6'da 1
	$\frac{6}{8}$		
	$\frac{3}{7}$		
	$\frac{2}{6}$		
	$\frac{2}{4}$		
	$\frac{3}{5}$		
	$\frac{7}{9}$		
	$\frac{6}{10}$		
	$\frac{5}{8}$		
	$\frac{3}{9}$		
	$\frac{2}{2}$		
	$\frac{1}{4}$		

**Etkinlik:** Aşağıdaki kesir modellerinin istenilen kesir kadarını boyayınız. Kesrin birimini ve okunuşunu yazınız.

Kesir	Model	Birim kesir	Kaç birim kesir	Kesir	Model	Birim kesir	Kaç birim kesir
$\frac{12}{100}$		$\frac{1}{100}$	12 tane 100'de 1	$\frac{25}{100}$			
$\frac{24}{100}$				$\frac{50}{100}$			
$\frac{16}{100}$				$\frac{75}{100}$			
$\frac{7}{100}$				$\frac{60}{100}$			
$\frac{35}{100}$				$\frac{40}{100}$			
$\frac{9}{100}$				$\frac{45}{100}$			
$\frac{10}{100}$				$\frac{1}{100}$			
$\frac{100}{100}$				$\frac{67}{100}$			

Etkinlik: Aşağıda modellenen kesirleri yazınız.



**Etkinlik:** Aşağıdaki resimde bulunan ses kaynaklarını bulup altındaki boşluğa yazınız.



SES KAYNAKLARI: .....

.....

.....

.....

.....

.....

**Etkinlik:** Aşağıda verilen bilgilerden doğru olanlara "gülen yüz", yanlış olanlara "üzgün yüz" çiziniz.



Duraktan hareket eden otobüsün sesi yaklaşır.




İniş yapmakta olan uçağın sesi artar.



Gitar çalan biri yaklaştıkça gitar sesi azalır.



Önümüzden geçip giden kamyonun sesi artar.




Radyoya doğru yaklaştıkça ses azalır.



Kulaklığı kulağımızdan çıkardığımızda ses yaklaşır.




Yanımızdan uzaklaşan bir arkadaşımızın sesi artar.



Yanımıza yaklaşan bir arkadaşımızın sesi azalır.








Hopör, mikrofon gibi aletler sesin şiddetini artırır.




Karıncanın çıkardığı sesi duyabiliriz.

**Etkinlik:** Aşağıdaki görsellerden sesini duyabildiğimize "✓" işareti koyunuz.




**Etkinlik:** Aşağıdaki görsellerde sesi en çok hangi çocuk duyar? "✓" işaretiyle gösteriniz.





**Etkinlik:** Aşağıdaki görsellerde karşılaştığımız bir durum olduğunda hangi numaraları aramalıyız? Altındaki boşluğa yazınız.



**Etkinlik:** Yangın esnasında yapmamız gerekenleri yazınız.



**Etkinlik:** Trafik kazası sırasında yapmamız gerekenleri yazınız.



**Etkinlik:** Evde ve okulda karşılaşılabileceğimiz tehlikeli durumları yazınız.



Blank writing area for home safety hazards, featuring a yellow dot at the top and three horizontal dotted lines.

Blank writing area for school safety hazards, featuring a yellow dot at the top and three horizontal dotted lines.

**Etkinlik:** Verilen görselleri inceleyip oluşabilecek tehlikeleri yazınız.



Blank writing area for the stove illustration, featuring three horizontal dotted lines.



Blank writing area for the electrical outlet illustration, featuring three horizontal dotted lines.



Blank writing area for the hot iron illustration, featuring three horizontal dotted lines.

**Etkinlik:** Aşağıdaki boşlukları uygun numaralarla tamamlayınız. Bulmacada bulunuz.

- 1) Ambulansın telefon numarası .....
- 2) İtfaiyenin telefon numarası .....
- 3) Polis imdatın telefon numarası .....
- 4) Orman yangın ihbar numarası .....
- 5) Trafik polisinin telefonu .....
- 6) Jandarmanın numarası .....



110

112

177

156

155

154




**Etkinlik:** Aşağıdaki durumlarda hangi numarayı aramak gerekiyorsa uygun olan bölüme kesip yapıştırınız.




112

110

155



1. Aşağıdaki öğrencilerin söylediği cümlelerin hangisinde zıt anlamlı kelimeler bir arada kullanılmıştır?

- A)  Ağlamak da gülmek de insanlar içindir.
- B)  Acele et, beni bekletme !
- C)  Günde en az iki kez dişlerimizi fırçalamalıyız.

2. Aşağıdaki sözcüklerden hangisi anlamca diğerlerinden farklıdır?

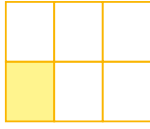
- A) kelime - sözcük  
B) dost - düşman  
C) cümle - tümce

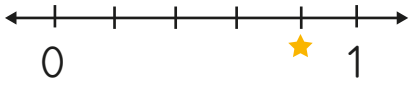
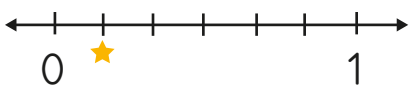
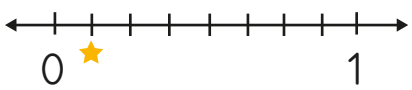
3. "kaz" kelimesi aşağıdaki cümlelerin hangisinde farklı anlamda kullanılmıştır?

- A) Kazmaktan kolların koptu.  
B) Dün bahçeyi kazdık.  
C) Köyde kaz gördük.

4. "Bayat" kelimesinin zıt anlamlısını aşağıdakilerden hangisidir?

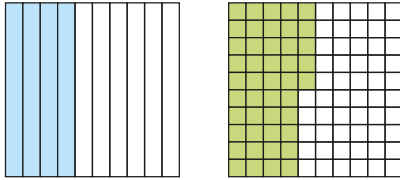
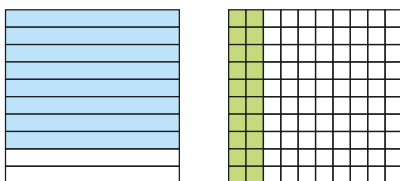
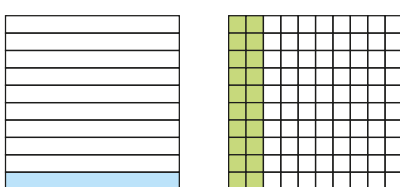
- A) Ağır B) Yeni C) Taze

5.  Model ile gösterilen kesrin sayı doğrusu ile gösterilişi hangisidir?

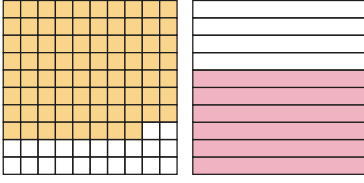
- A) 
- B) 
- C) 

6.  $\frac{8}{10}$ ,  $\frac{20}{100}$

Yukarıdaki kesirlerin modelle gösterilişi aşağıdakilerden hangisidir?

- A) 
- B) 
- C) 

7.



Yukarıdaki şekillerin kesir ile gösterilişi hangi seçenekte doğru verilmiştir?

- A)  $\frac{6}{10}, \frac{22}{100}$       B)  $\frac{22}{10}, \frac{10}{6}$   
C)  $\frac{88}{100}, \frac{6}{10}$

8. Aşağıdakilerden hangisi sesin şiddetini arttıran bir cihazdır?

- A) Hoparlör      B) Steteskop  
C) Zil

9. 1- Şelale doğal ses kaynağıdır.

2- Ambulans aracı yaklaştıkça sesi artar.

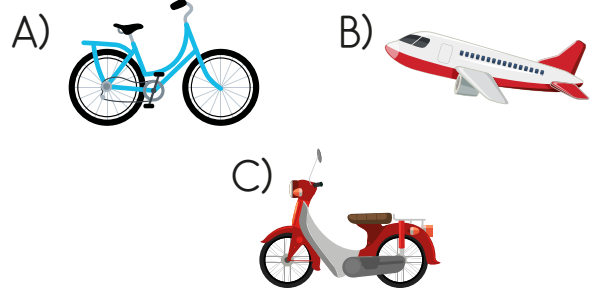
3- Mikrofon sesin şiddetini artırır.

4- Kuş sesi yapay sestir.

Yukarıdaki bilgilerden kaç tanesi doğrudur?

- A) 2      B) 3      C) 4

10. Aşağıdaki taşıtlardan hangisinin ses şiddeti diğerlerine göre yüksektir?



11. Kaza ve yaralanma anında ilk müdahaleye ne denir?

- A) Operasyon      B) İş birliği  
C) İlk yardım

12. Aşağıdakilerden hangisi yapay ses kaynağıdır?

- A) Araba kornası      B) Kuş sesi  
C) Denizin sesi

13. Aşağıdakilerden hangisi ambulansın telefon numarasıdır?

- A) 155      B) 156      C) 112

