

KÜÇÜK ÇOCUK

Güneş ufku kenarından  
Yavaş yavaş yükseliyor.  
Köyün yeşil dağlarında  
Serin nefesler geliyor.

Beyaz, sarı, mavi renk renk  
Çiçekler açmış ovada.  
Kelebekler, benek benek  
Dolaşıyorlar havada.

Gece yorgun akan ırmak  
Tatlı seslerle coşuyor.  
Artık herkes uyanarak  
Kendi işine koşuyor.

Yalnız küçük bir çocuk  
Karşıdaki evde uykuda  
Uyanacak şimdi o da.

Köydeki bütün horozlar  
Diyorlar ki: "Uyan uyan!"  
Tembel olur çok uyuyan.  
Orhan Seyfi ORHON



(Aşağıdaki ilk beş soruyu metne göre cevaplayınız.)

Şiire göre kimler tembel olurmuş?

.....

Hangi renk çiçekler açmış?

.....

Köydeki bütün horozlar ne diyormuş?

.....

Şiirdeki ana duygu nedir?

.....

**Etkinlik:** Aşağıdaki bulmacada şiirde geçen bazı kelimeler gizlenmiştir. Kelimeleri bulup cümlede kullanınız.

Y	E	Ş	İ	L	N
U	K	O	T	S	E
F	Ö	V	L	A	F
U	Y	A	N	R	E
K	S	E	S	İ	S
H	O	R	O	Z	E
S	E	R	İ	N	V

- 1- .....
- 2- .....
- 3- .....
- 4- .....
- 5- .....
- 6- .....
- 7- .....
- 8- .....
- 9- .....
- 10- .....

**Etkinlik:** Aşağıdaki soruları metne göre cevaplayınız.



Şiirin konusunu yazınız.



Sabahları kaçta kalkarsınız?



Siz olsaydınız başlığı ne koyardınız?



**Etkinlik:** Yandaki görselden anladıklarınızı yazınız.

.....

.....

.....

.....

.....


**Etkinlik:** Aşağıdaki cümleleri okuyunuz. Cümlelerle ilgili verilen soruları cevaplayınız.



Ankara'da geçen hafta tipi şeklinde kar vardı.




Nerede? : .....  
Ne zaman? : .....  
Ne? : .....  
Nasıl? : .....



Ercan ve Mehmet, dün sinemaya gittiler.



Kim? : .....  
Ne zaman? : .....  
Nereye? : .....



Onlar yaz tatilinde Çeşme'ye gittiler.



Kim? : .....  
Ne zaman? : .....  
Nereye? : .....



Babam geçen ay ameliyat oldu.



Kim? : .....  
Ne zaman? : .....  
Ne? : .....



**Etkinlik:** Aşağıda verilen tarihlerin hangisi doğru, hangisi yanlış yazılmıştır? Karşısına yazınız.

13.Ocak.2000 .....

17/05/2010 .....

20.Mart.1990 .....

23 Nisan 1920 .....

01.01.2011 .....

19.05.1919 .....

**Etkinlik:** Aşağıdaki cümleleri kesip önceki sayfanın üzerindeki cümlelere kareler açığa kalacak şekilde yapıştırınız. Noktalama işaretlerinden uygun olanları kesip cümledeki boş karelere yerleştiriniz.

Bugün parkta oyun oynadım

Hava kararmaya başladı

Ali bugün mü gelecekti

Dr Cem 5 katta oturuyor

Baban bugün mü gelecek yarın mı

Ben İzmir deyim

Evet onu dinleyeceğim

Of başım ağrıyor

O çalışkan saygılı iyi bir çocuktur

Pelin in konuşmasını doğru bulmadım

• • • • • •

• • • • • •

• • • • • • •



**Etkinlik:** Aşağıdaki görselleri inceleyerek verilen soruları cevaplayınız.



Kim? .....

Nerede? .....

Neden? .....

Ne zaman? .....



Kim? .....

Nerede? .....

Neden? .....

Ne zaman? .....



Kim? .....

Nerede? .....

Neden? .....

Ne zaman? .....

**Etkinlik:** Aşağıdaki cümleler öznel ise "Ö", nesnel ise "N" yazınız.

- ★ Türkiye'nin başkenti Ankara'dır.
- ★ Arı gibi çalışkan bir çocuksun.
- ★ Siyah rengini çok severim.
- ★ Ülkemizin en kalabalık şehri İstanbul'dur.
- ★ O, çok iyi bir şairdir.
- ★ Dünya, kendi eksenini etrafında döner.
- ★ Ayakkabı numaram 37'dir.
- ★ Türkçe dersini çok severim.
- ★ Yazar, harika bir kitap yazmış.
- ★ Şu an kullanmış olduğumuz alfabe, Latin alfabesidir.
- ★ Kot pantolon giymek daha rahat.



**Etkinlik:** Aşağıda verilen görsellerle ilgili bir tane nesnel cümle, bir tane öznel cümle yazınız.



→ Nesnel →

→ Öznel →

..... ← Nesnel ←

..... ← Öznel ←



→ Nesnel →

→ Öznel →

..... ← Nesnel ←

..... ← Öznel ←










**Etkinlik:** Aşağıda verilen kelimelerle ilgili öznel ve nesnel cümle yazınız.

kitap	Öznel →	
	Nesnel →	
televizyon	Öznel →	
	Nesnel →	
şür	Öznel →	
	Nesnel →	
öğretmen	Öznel →	
	Nesnel →	
kedi	Öznel →	
	Nesnel →	

**Etkinlik:** Aşağıda verilen öznel cümleleri nesnel cümle, nesnel cümleleri öznel cümleye çeviriniz.

★ ÖZNEL CÜMLELER	NESNEL CÜMLELER ★
En sevdiğim ders matematik.	.....
.....	Ankara, Türkiye'nin başkentidir.
.....	Dilimizde 8 sesli harf vardır.
Herkes, tatili çok sever.	.....
En sağlıklı yemek, patatestir.	.....
.....	Mehmet Akif Ersoy, İstiklal Marşının şairidir.
.....	Ay, Dünya'nın uydusudur.

**Etkinlik:** Aşağıdaki resimleri genel ve özel olarak ayırıp genel olanlara "G", özel olanlara ise "Ö" yazınız.

 (Kadın) <input type="text"/>	 (İnsanlar) <input type="text"/>	 (Bitki) <input type="text"/>	 (Gül) <input type="text"/>
 (Türkiye Haritası) <input type="text"/>	 (Ankara Haritası) <input type="text"/>	 (Hayvan) <input type="text"/>	 (Köpek) <input type="text"/>



**Etkinlik:** Aşağıdaki cümlelerde genel ve özel durum bildiren kelimelerin altını çizip bulmacaya yazınız.

- 1- Sabah kahvaltısında genelde yumurta yerim.
- 2- Ben, yalnız anneme güveniyorum.
- 3- Aldığı kitapların hepsi çok güzel.
- 4- O soruyu sadece ben doğru yaptım.
- 5- Arkadaşımdan biri gelmedi.
- 6- Seni anlamak bazen çok zor.
- 7- Doğum günüme sadece Ceylin gelmedi.
- 8- Oyuncaklarının birkaçı kaybolmuş.



1					
2					
3					
4					
5					
6					
7					
8					

**Etkinlik:** Aşağıdaki görselleri boyayınız. Bu görsellerin olduğu birer cümle yazınız.



**Etkinlik:** Aşağıda cevapları verilen cümlelere uygun sorular yazınız.

.....? .....

En çok elma ve muz seviyorum.

Atatürk, 1881 yılında doğdu.

.....? .....

Çocuklar parkta oyun oynuyorlar.

Arkadaşıyla sinemaya gitti.

.....? .....

Hayatta en çok ailemi seviyorum.

İzmir Karşıyaka'da oturuyor.

**Etkinlik:** Aşağıdaki cümlelerin sonuna noktalama işaretlerinden uygun olanlarını yazınız.

★Aaaa ( ) merdivenden düştük ( )

★Bunu kim yaptı ( )

★Sen çok başarılı bir çocuksun ( )

★Elma ( ) armut ( ) muz en sevdiğim meyveler ( )

★Ben anlamadım ki ( )


**Etkinlik:** Aşağıdaki boş alana Sevgiye mektup yazacak olsaydınız ne yazardınız? Kurallara uygun yazınız.




adres yazılmalıdır.

sağ üst köşede yer ve tarih yazılmalıdır.  
ad - soyad  
imza


Eş Anımlı - Zıt Anımlı - Eş Sesli Kelimeler




1  
sonbahar




2  
sene



3  
kalem



4  
kağıt



1  
siyah



2  
yaz



3  
gece



4  
kitap



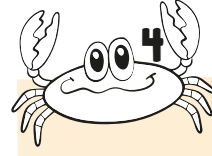
1  
yüz



2  
bin



3  
ses



4  
at



1  
Nasıl?



2  
Ne zaman?




3  
Nerede?



4  
Hangisi?

★ Akvaryumu istediğiniz gibi boyayınız.

★ Balıklardan kaç numaralı olanlarının eş anlamlısı vardır? Akvaryuma yazınız.



★ Ahtapotlardan kaç numaralı olanlarının zıt anlamlısı vardır? Akvaryuma yazınız.

★ Yengeçlerden eş sesli olanlarının numaralarını akvaryuma yazınız.



★ Yıldızlardan kaç numara olanı 5N 1K sorusu değildir? Akvaryuma yazınız.







**Etkinlik:** Aşağıdaki kurabiyeleri uygun kavanozlara yapıştırınız.



**Etkinlik:** Verilen kesirleri uygun çiçeklerin yapraklarına yapıştırınız.

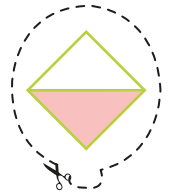
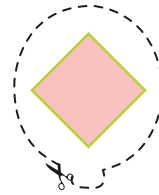
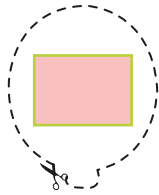
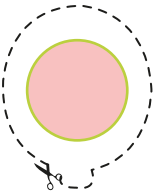
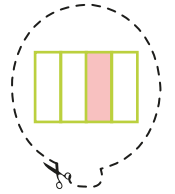
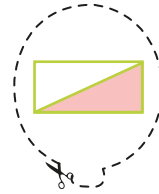
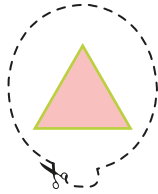
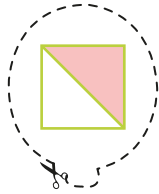
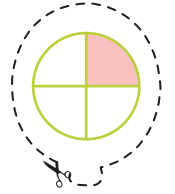
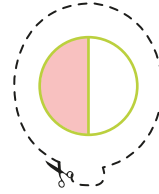
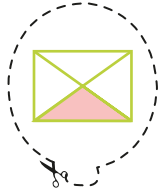

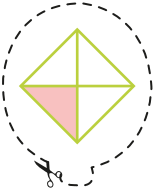
Çeyrek



Yarım



Bütün




**Etkinlik:** Aşağıdaki tabloyu görsellere göre tamamlayınız.


A	B	C	D	E
				
Şekiller	Pay	Payda	Kesir olarak yazılışı	Kesrin okunuşu
A				
B				
C				
D				
E				

**Etkinlik:** Kesir değerlerine uygun görseli bulup yanına yapıştırınız.


$$\frac{3}{9}$$



$$\frac{3}{6}$$



$$\frac{8}{9}$$



$$\frac{4}{5}$$



$$\frac{3}{4}$$



$$\frac{1}{10}$$



$$\frac{1}{3}$$



$$\frac{4}{8}$$



$$\frac{5}{7}$$



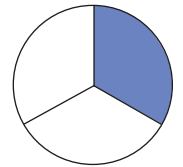
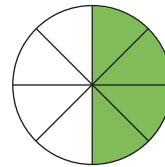
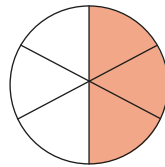
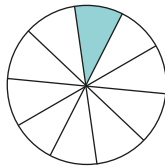
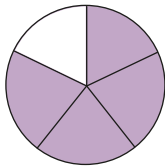
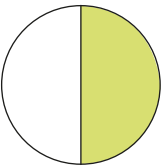
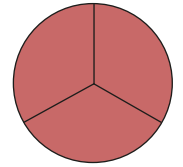
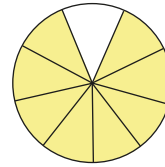
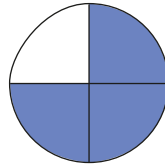
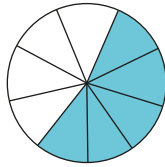
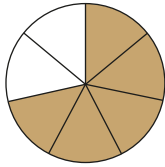
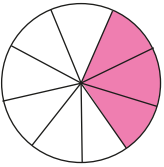
$$\frac{5}{9}$$



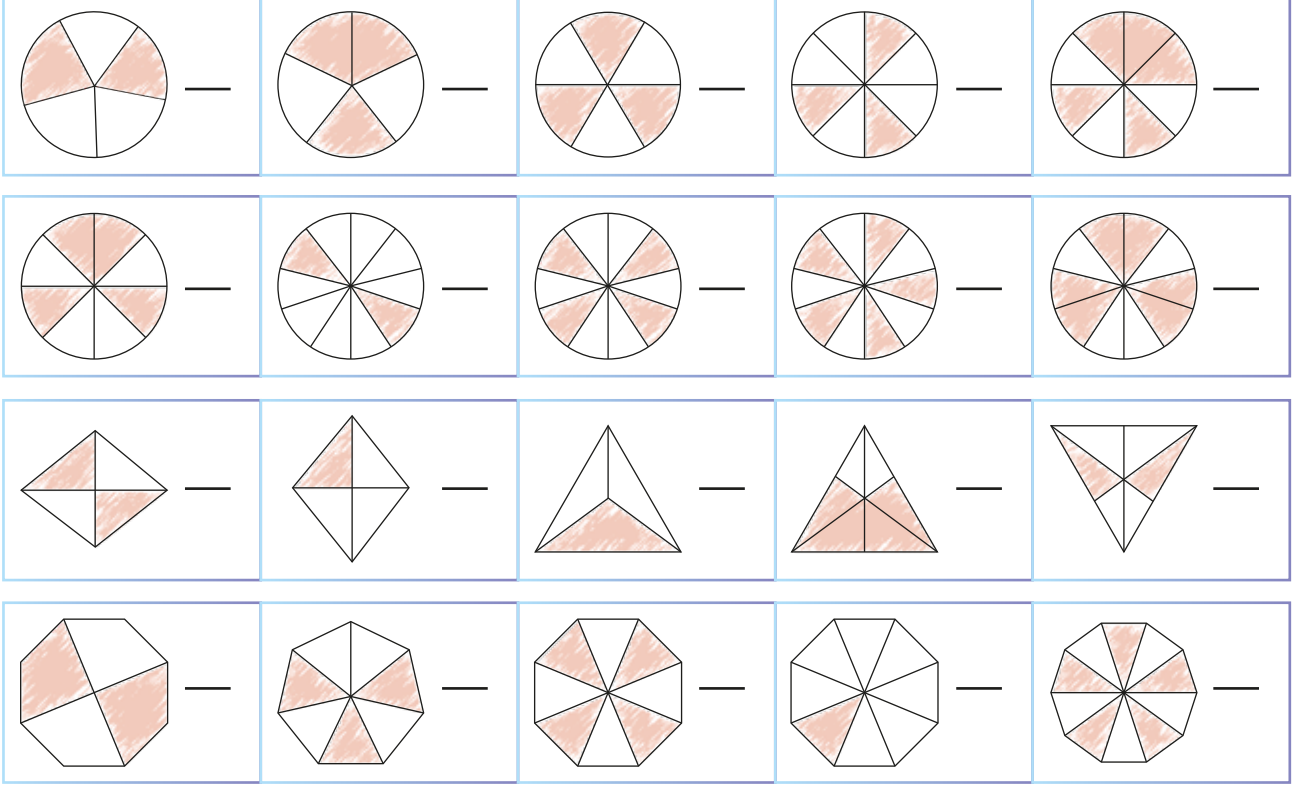
$$\frac{3}{3}$$



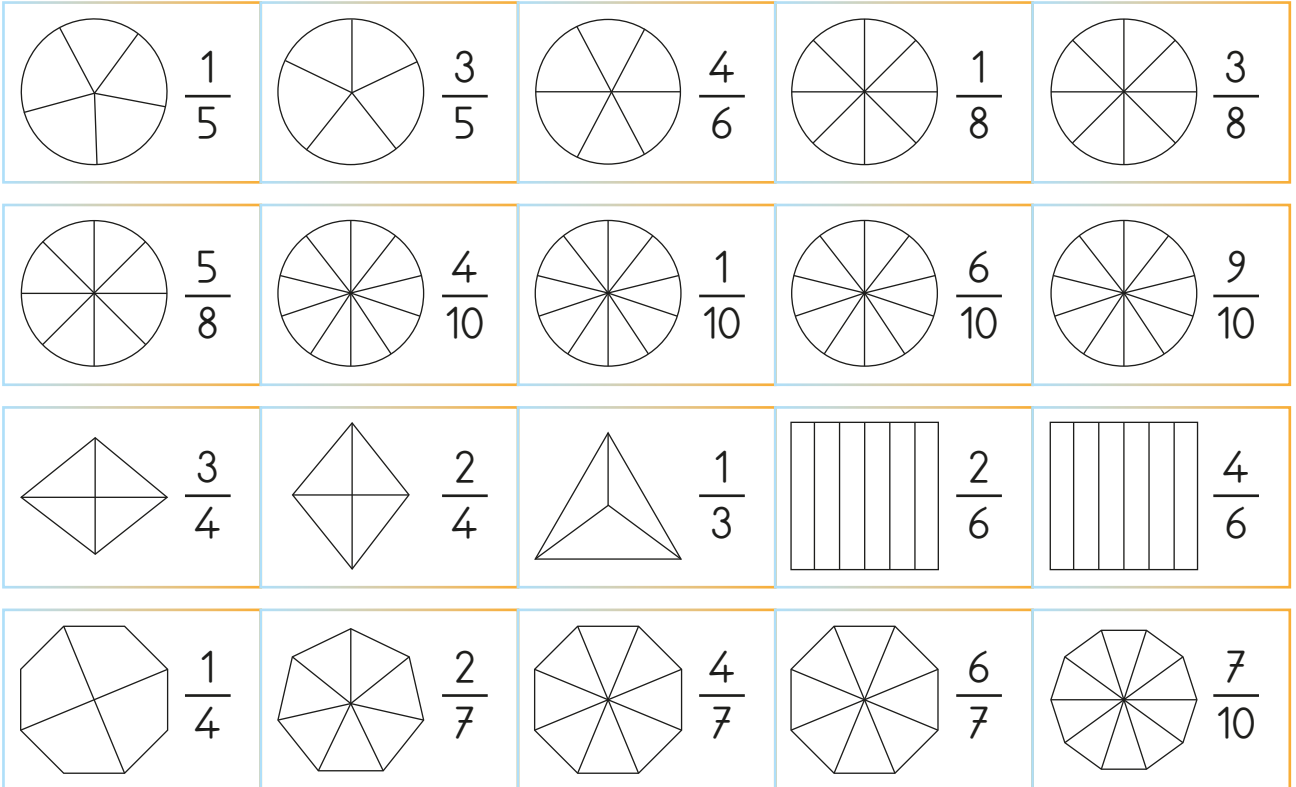
$$\frac{1}{2}$$



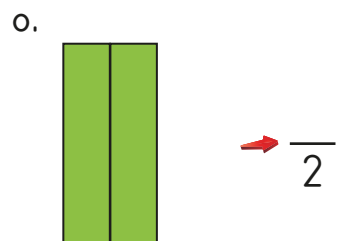
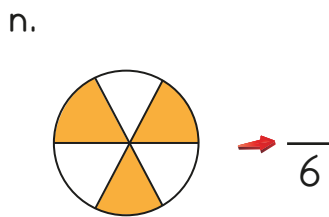
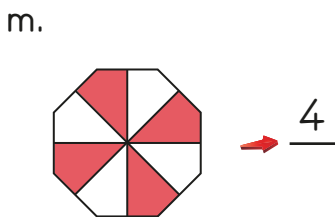
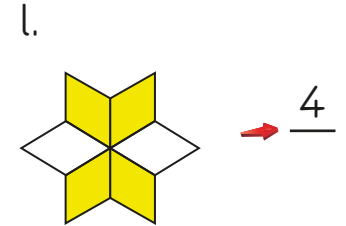
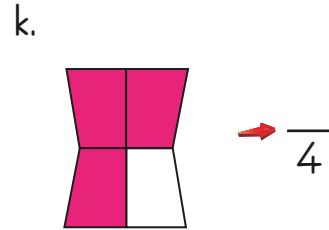
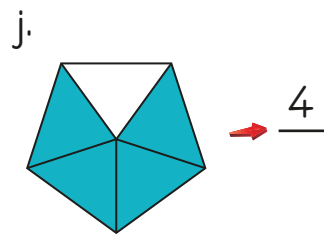
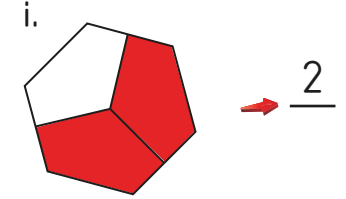
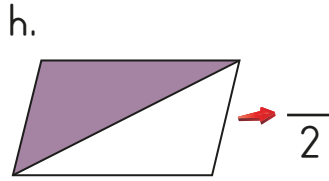
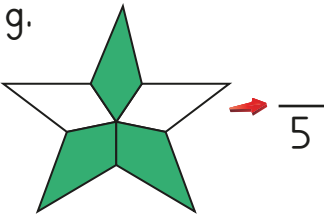
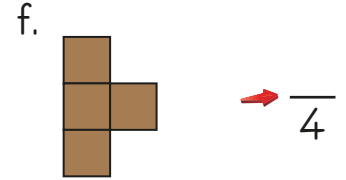
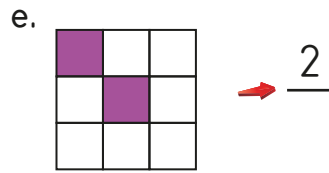
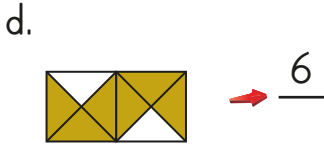
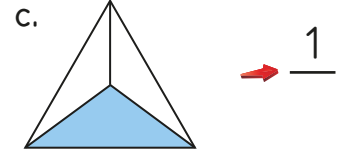
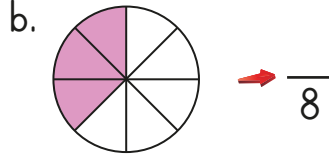
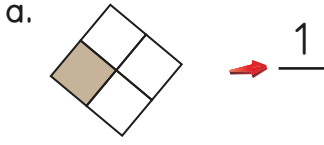
**Etkinlik:** Şekillerin boyalı kısımlarının belirttiği kesir sayılarını yazınız.



**Etkinlik:** Şekillerin belirtilen kesir kadarını boyayınız.



**Etkinlik:** Şekillere ait kesir yazımlarındaki eksikleri tamamlayınız.


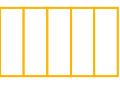



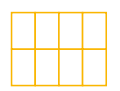




**Etkinlik:** Aşağıdaki kesirlerin belirtilen kesir kadarını boyayınız.

1.  $\frac{4}{7} =$	2.  $\frac{2}{8} =$	3.  $\frac{3}{7} =$
4.  $\frac{5}{8} =$	5.  $\frac{4}{4} =$	6.  $\frac{1}{3} =$
7.  $\frac{2}{5} =$	8.  $\frac{2}{3} =$	9.  $\frac{1}{5} =$
10.  $\frac{1}{2} =$	11.  $\frac{5}{6} =$	12.  $\frac{3}{4} =$
13.  $\frac{3}{6} =$	14.  $\frac{3}{8} =$	15.  $\frac{6}{6} =$

**Etkinlik:** Şekillerde boyalı kısma karşılık gelen kesirleri yazınız.


**Etkinlik:** Okunuşu verilen kesirleri şekillere çiziniz, kesrin değerini yazınız.

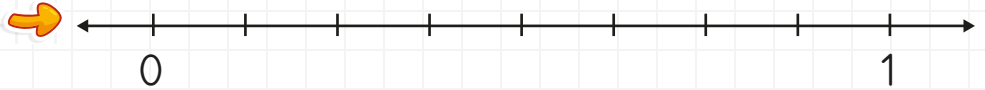
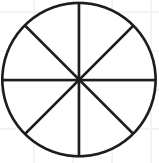
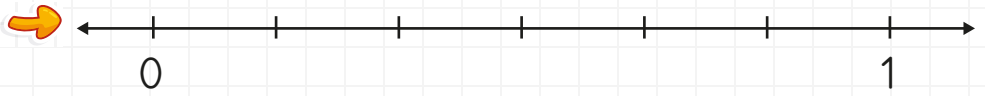

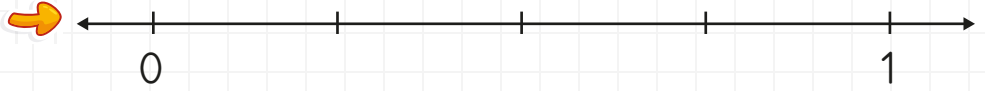
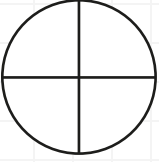

İkide bir. 	Üç bölü beş. 	İki bölü dört. 	Beşte bir. 
Dört bölü sekiz. 	Sekizde yedi. 	Altıda beş. 	Beş bölü altı. 

**Etkinlik:** Aşağıdaki kesirlerin okunuşlarında yanlış olanları kırmızı renge boyayınız.

 $\frac{3}{5}$ → Üçte beş.	 $\frac{2}{8}$ → İki bölü sekiz.	 $\frac{1}{2}$ → Bir bölü iki. (yarım)
 $\frac{2}{6}$ → Altıda iki.	 $\frac{7}{9}$ → Yedide dokuz.	 $\frac{1}{4}$ → Dörtte bir. (çeyrek)
 $\frac{1}{4}$ → Dörtte bir.	 $\frac{4}{6}$ → Dörtte altı.	 $\frac{3}{7}$ → Üçte yedi.
 $\frac{1}{7}$ → Birde yedi.	 $\frac{3}{10}$ → Onda üç.	 $\frac{2}{9}$ → Dokuz bölü iki.
 $\frac{1}{10}$ → On bölü bir.	 $\frac{10}{20}$ → Yirmi bölü on.	 $\frac{1}{100}$ → Yüzde bir.










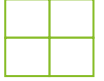
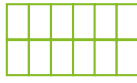

**Etkinlik:** Aşağıdaki şekillerde kesrin birimi kadarını boyayınız ve sayı doğrusunda gösteriniz.



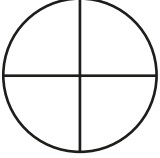





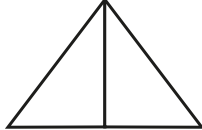

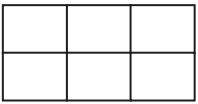



**Etkinlik:** Aşağıdaki kesirlerde, kesrin birimi kadarını gösteriniz, şeklini çiziniz.

Kesir	Kesrin Birimi	Şekil	Kesir	Kesrin Birimi	Şekil
$\frac{3}{5}$	$\frac{1}{5}$		$\frac{2}{4}$		
$\frac{2}{2}$			$\frac{2}{3}$		
$\frac{4}{6}$			$\frac{5}{7}$		
$\frac{3}{8}$			$\frac{2}{9}$		
$\frac{4}{10}$			$\frac{10}{12}$		

**Etkinlik:** Aşağıda verilen şekillerin birim kesir kadarını boyayınız. Kesirlerin okunuşlarını yazınız.

$\frac{1}{2}$  Okunuşu :.....	$\frac{1}{10}$  Okunuşu :.....	$\frac{1}{3}$  Okunuşu :.....	$\frac{1}{7}$  Okunuşu :.....
$\frac{1}{5}$  Okunuşu :.....	$\frac{1}{6}$  Okunuşu :.....	$\frac{1}{8}$  Okunuşu :.....	$\frac{1}{4}$  Okunuşu :.....
$\frac{1}{12}$  Okunuşu :.....	$\frac{1}{9}$  Okunuşu :.....		

**Etkinlik:** Şekillerdeki kesrin birimini boyayınız, sayı doğrusunda gösteriniz.

**Etkinlik:** Aşağıdaki cümleleri okuyunuz. Doğru ise gülen yüzü, yanlış ise üzgün yüzü boyayınız.

😊 😞 Ses kaynağına yakınsak yüksek ses duyarız.

😊 😞 Ses, her yöne dalgalar halinde yayılır.

😊 😞 Ses üretebilen varlıklara "ses kaynağı" denir.

😊 😞 İtfaiye, ambulans gibi araçlar ses şiddetlerini arttırarak trafikte ilerler.

😊 😞 Kulağımızın belli bir duyma sınırı vardır.

😊 😞 Ses kaynağına uzaksak düşük şiddetli ses duyarız.

😊 😞 Sesleri duymamıza yardımcı olan organımız burundur.

😊 😞 Kulağımız, her türlü sesi duyabilir.

😊 😞 Mikrofon, hoparlör sesi daha iyi duymamızı sağlar.


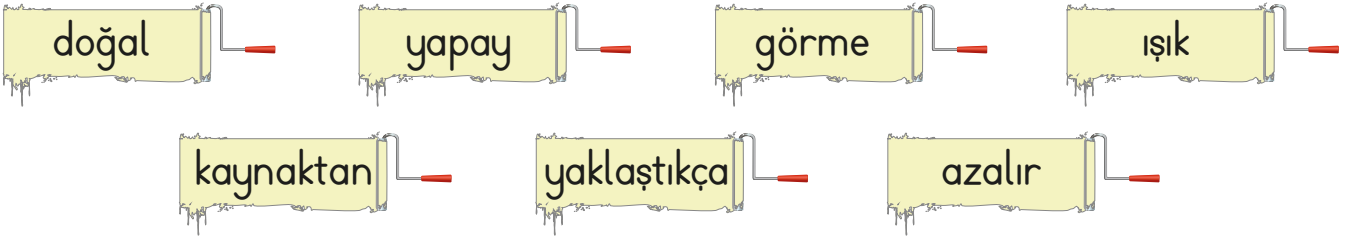
😊 😞 Sesleri duymamıza yardımcı olan organımız kulaktır.

**Etkinlik:** Aşağıdaki görseli inceleyiniz. Ceren'i en net duyan ve zor duyan kimdir? Yazınız.



**Etkinlik:** Aşağıdaki cümleleri uygun kelimelerle tamamlayıp kelimeleri bulmacaya yazınız.

- 1 Işığın olmadığı yerde ..... olayı yetersizdir.
- 2 En büyük ..... kaynağı Güneş'tir.
- 3 Yıldız ..... ışık kaynağıdır.
- 4 Her ses bir ..... çıkar.
- 5 Televizyon ..... ses kaynağıdır.
- 6 Ses kaynağına ..... sesi daha iyi duyarız.
- 7 Ses kaynağından uzaklaşınca sesin şiddeti .....



**Etkinlik:** Aşağıdaki görsellerdeki durumlarla karşılaşmamak nasıl önlemler almalıyız?

Empty speech bubble for writing answers.





Empty speech bubble for writing answers.

Empty speech bubble for writing answers.



Empty speech bubble for writing answers.

**Etkinlik:** Aşağıdaki durumlarda acil müdahale edilmesi gerekenleri "✓" ile gösteriniz.

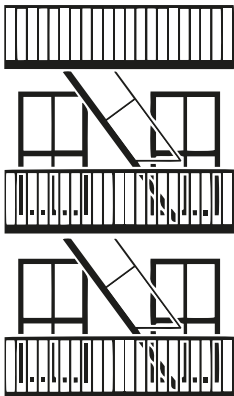


**Etkinlik:** Acil bir durum olduğunda kimleri aramalıyız?

.....

.....

.....



**Etkinlik:** Yandaki görselin acil durumlar için önemi nedir?

.....

.....

.....



1. Aşağıdaki verilen kelimelerden hangisi çoğuldur?

- A) Sınıf B) Okul  
C) Ağaçlar

2. Aşağıda verilen kelimelerden hangisi tekildir?

- A) Tavuklar B) Sandalye  
C) Evler

3. Aşağıdakilerden hangisi cümle ile ilgili yanlış bilgidir?

- A) İlk harf küçük yazılır.  
B) İlk harfi büyük yazılır.  
C) Tek kelimedenden oluşabilir.

4. Öğrenci - talebe  
Beyaz - ak  
Düzen - Tertip

Yanda verilen tabloda kelime eşleştirmeleri neye göre yapılmıştır?

- A) Eş sesli olmaları  
B) Eş anlam olmaları  
C) Zıt anlam olmaları

5. "Ağlamak" kelimesinin zıt anlamlısı hangisidir?

- A) Gülmek  
B) Ağlamamak  
C) Konuşmak

6. 1. Ali ve Ahmet ödevlerini yapmaya başladılar.  
2. Ali önce bitirdi.  
3. İki arkadaş ödev yarışına girdi.  
4. Ahmet ikinci bitirdi.

Yukarıdaki cümleleri oluş sırasına koyarsak sıralama nasıl olur?

- A) 3 - 1 - 2 - 4  
B) 3 - 1 - 4 - 2  
C) 1 - 2 - 3 - 4

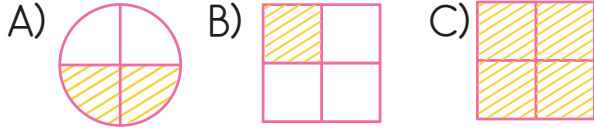
7. "Vatan" kelimesinin eş anlamlısı hangisidir?

- A) Yurt B) Millet C) İnsan

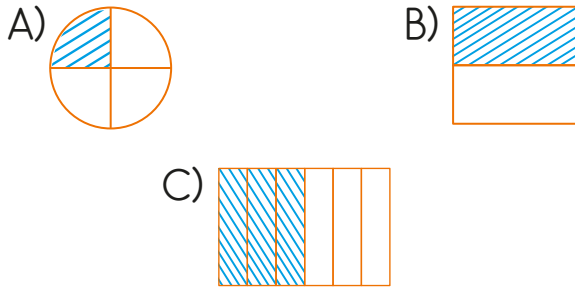
8. Aşağıdaki eklerden hangisi çoğul eki değildir?

- A) -cı B) -ler C) -lar

9. Aşağıdaki şekillerden hangisi çeyreği göstermektedir?



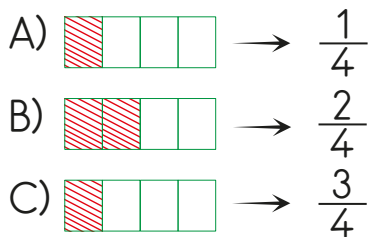
10. Aşağıdaki kesirlerden hangisi birim kesir değildir?



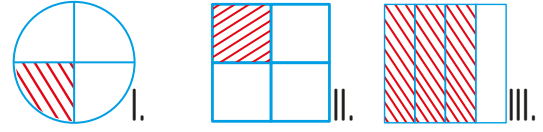
11. Aşağıdaki kesirlerden hangisi yarım olarak ifade edilir?

A)  $\frac{1}{3}$  B)  $\frac{1}{4}$  C)  $\frac{1}{2}$

12. Aşağıdaki eşleştirmelerden hangisi yanlıştır?



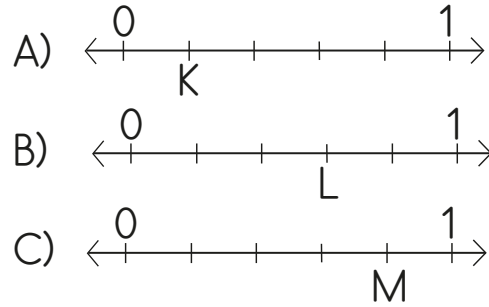
13.



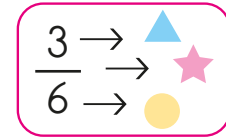
Yukarıdaki modellenen kesirlerden hangisi birbirine eşittir?

A) I ve II B) II ve III C) I ve III

14. Aşağıdaki sayı doğrusundaki harflerden hangisi, birim kesri ifade eder?



15.



Yukarıdaki kesirde verilen şekillerin isimleri, hangi seçenekte doğru verilmiştir?

A)  payda  kesir çizgisi  pay  
B) pay payda kesir çizgisi  
C) pay kesir çizgisi payda



16.  Yandaki şeklin birim kesri hangisi olur?

A)  $\frac{1}{8}$  B)  $\frac{3}{8}$  C)  $\frac{1}{6}$




17. Aşağıdaki şekillerden hangisi bir kesri ifade **etmez**?

A)  B)  C) 

18. Aşağıdakilerden hangisi doğal ses kaynağıdır?

A)  B)  C) 

19. Ses kaynağını hangi duyu organımızla anlarız?

A)  B)  C) 




20. Aşağıdakilerden hangisi doğal ses kaynağıdır?

A) Televizyon  
B) Cep telefonu sesi  
C) Kedi sesi

21. Aşağıdakilerden hangisi doğal ses kaynağı değildir?

A) Radyo B) Hayvan C) Deniz

22. Aşağıdaki görsellerden hangisi kazaya sebep olabilir?

A)  B)  C) 

23. Aşağıdakilerden hangisi, okulda tehlike oluşturabilecek bir davranış değildir?

A) Okul koridorlarında koşmak.  
B) Okulda makasla oynamak.  
C) Arkadaşlarımızla bahçede oyun oynamak.

CEVAP ANAHTARI



1 - C

2 - B

3 - A

4 - B

5 - A

6 - A

7 - A

8 - A

9 - B

10 - C

11 - C

12 - C

13 - A

14 - A

15 - C

16 - A

17 - C

18 - B

19 - B

20 - C

21 - A

22 - A

23 - C

