

SALINCAKTA UNUTULAN ZAMAN

O gün park çok sessizdi. Okullar henüz dağılmıştı. Çocukların birçoğu evlerinde yemeklerini yiyordu. Melih, yemeğini erkenden bitirmiş, salıncağın birini seçip sallanmaya başlamıştı bile. Etraf boş olduğu için gönlünce eğleniyordu. Gözlerini kapatıp şarkılar söylüyordu sallanırken. Aklında 29 Ekim provalarında çalınan şu şarkı vardı:

"Cumhuriyet hürriyet demek,
Cumhuriyet özgürce yaşamak.
Uygarlığa, çağdaşlığa
Durmadan, yılmadan koşmak
demek."

Bir yandan şarkıyı söylüyor, bir yandan da hareketlerini düşünüyordu. İki sağ, bir sol; üç ileri, bir geri. Tüm hareketler film şeridi gibi gözünün önünden geçiyordu Melih'in. Şarkısını bitirip gözlerini açtığı anda biraz önce bomboş olan parkın bir anda dolduğunu görünce oldukça şaşırdı.

Biraz da utandı. Çünkü küçük bir kız çocuğu sessizce salıncak sırasının kendisine gelmesini bekliyordu. Melih gözlerini kapattığı için onu fark etmemişti. Kendisini biraz kötü hissetti. Hemen yavaşladı. Küçük kıza "Umarım seni çok bekletmedim, şarkımı mırıldanırken zamanın nasıl geçtiğini anlayamadım." dedi. Küçük kız "Hayır" anlamında başını salladı ve gülümsedi. Melih, ona el sallarken bir yandan da şarkısını mırıldanmaya devam ediyordu.



(Ayça BAYRAM)

Etkinlik: Aşağıdaki boşlukları metne göre doldurunuz..

- ➔ O gün park sessizdi çünkü çocuklardan henüz çıkmışlardı.
- ➔ Melih binmiş ve sallanmaya başlamıştı.
- ➔ Melih sallanırken söylüyordu.
- ➔ Aklında Bayramı ile ilgili şarkılar vardı.
- ➔ Melih gözlerini açınca biraz utandı çünkü
- ➔ Küçük kız çok beklemediğini ifade etmek için başını ve gülümsedi.
- ➔ Melih, küçük kıza el salladı ve şarkısını devam etti.
- ➔ Başka bir duyguya yoğunlaştığımızda günlük hayatta yaptığımız işleri bir süreliğine unutup dalgınlaşabiliriz. Bunların sonucunda da küçük hatalar yapabiliriz. Dalgın olduğunuzda yaptığınız hatalar hakkında arkadaşlarınızla konuşunuz.



Etkinlik: Aşağıdaki görseli boyayınız.



Etkinlik: Kelime gruplarını inceleyiniz. Eş anlamlı olanları sarıya, zıt anlamlı olanları pembeyle boyayınız.





Etkinlik: Aşağıdaki kelimelerin eş anlamlılarını ve zıt anlamlılarını yazınız.



KELİME	EŞ ANLAMLISI	ZIT ANLAMLISI
KÜÇÜK		
SİYAH		
YAŞLI		
HIZLI		
ISLAK		
TEMİZ		
BEYAZ		
SAVAŞ		
CEVAP		

Etkinlik: Cümleleri okuyunuz. Cümlelerin sonuna hangi noktalama işaretinin geleceğini belirleyip doğru alana yapıştırınız.



Eve gidebilir
miyiz

Bu sabah erken
uyandım

Oyunu kim
kazandı

Ayla okula ser-
visle gidiyor

Adın ne

Küçük kedi
ağaca çıkmış

Kaç yaşındasın

Kitap okumayı
severim

Etkinlik: Aşağıdaki cümleleri okuyunuz. Cümlelerin sonuna gelecek olan noktalama işaretini seçip boyayınız.

➔ Kırmızı çantam nerede



➔ Bahçemize çiçek diktik



➔ Sağlıklı ve düzenli beslenirim



➔ Noktalama işaretlerini öğrendin mi



➔ Alışverişe çıkarken ihtiyaç listesi hazırlamalıyız



➔ Yağmur ne zaman yağacak



➔ Odanı kim topluyor



➔ Parkta oynamaya gidiyorum



➔ Sütlü kahveyi severim



➔ Bu akşam sinemaya gidelim mi



➔ Bisiklet sürmeyi biliyor musun



Etkinlik: Aşağıdaki cümleleri okuyunuz. Cümlelerin sonlarına uygun noktalama işareti yapınız.

→ Pizzayı severim



→ Kim oyun oynamak ister



→ Hayvanları korumalıyız



→ Yağmuru izledik



→ Saat kaç



→ Annen uçağa bindi mi



→ Annenin adı ne



→ Neden ağlıyorsun



→ Bir yılda kaç mevsim var



→ Saat kaçta uyanıyorsun



→ Eve gitme zamanı geldi mi



→ Lunaparka gitmek istiyorum



→ Hangi kitabı okuyorsun



→ Nihan çantamı taşı



→ Pasta yiyelim



→ Nerelisin



→ Kırmızı kalemimi gördün mü



→ Müzik dinlemeyi severim



→ Bugün hava soğuk mu



→ Soğuk su içme



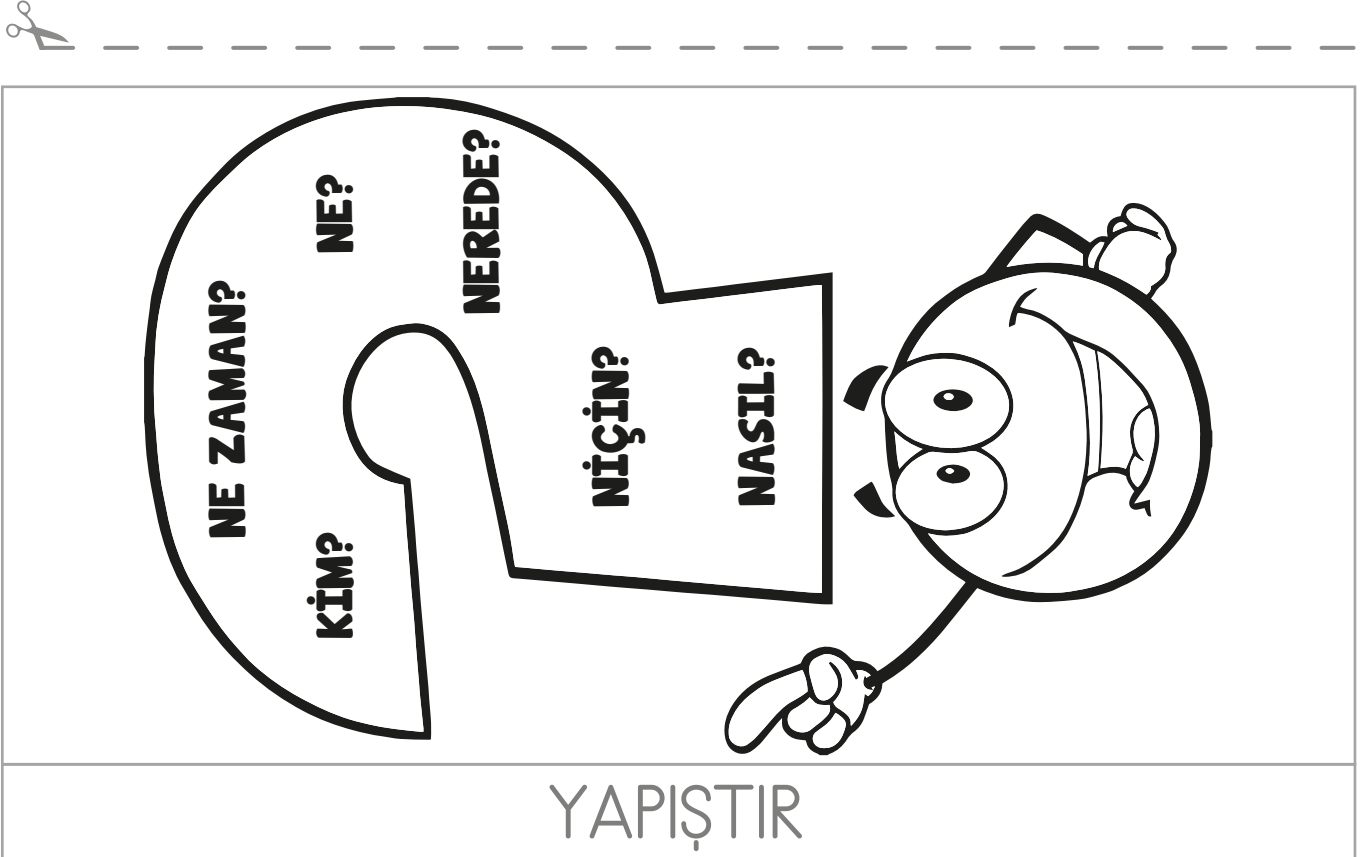
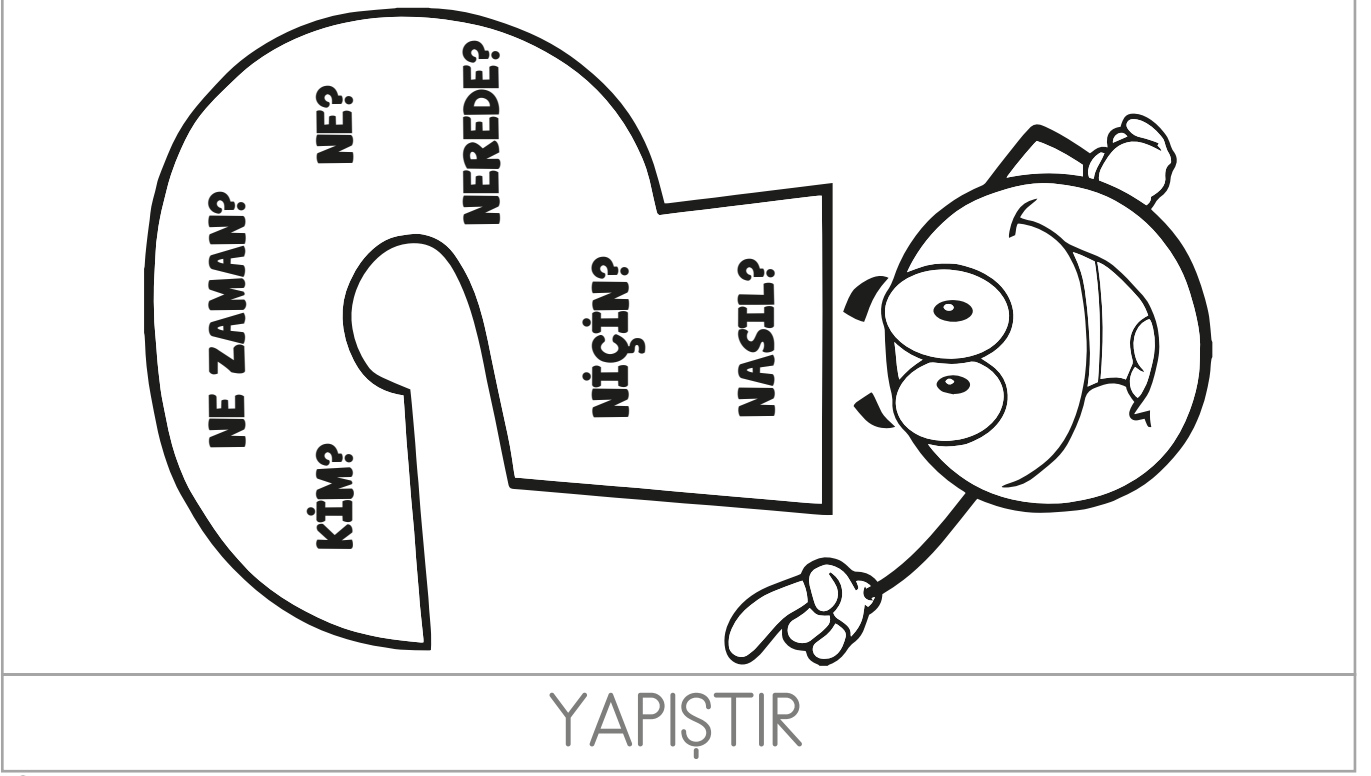
→ Kahvaltıda sütüm dö-küldü



→ Sonbaharda yapraklar dökülür




Etkinlik: Yapıştır alanını defterinize yapıştırınız. Açılır pencereye her soru kalıbını kullanarak soru cümleleri yazınız.



Etkinlik: Aşağıdaki işlemleri çözüp şifreyi bulunuz.


$$\begin{array}{r} 10 \\ +24 \\ \hline \end{array}$$

.....




$$\begin{array}{r} 56 \\ +32 \\ \hline \end{array}$$

.....




$$\begin{array}{r} 23 \\ +21 \\ \hline \end{array}$$

.....




$$\begin{array}{r} 34 \\ +55 \\ \hline \end{array}$$

.....




$$\begin{array}{r} 62 \\ +35 \\ \hline \end{array}$$

.....




$$\begin{array}{r} 45 \\ +40 \\ \hline \end{array}$$

.....




$$\begin{array}{r} 81 \\ +18 \\ \hline \end{array}$$

.....




$$\begin{array}{r} 43 \\ +32 \\ \hline \end{array}$$

.....




$$\begin{array}{r} 21 \\ +36 \\ \hline \end{array}$$

.....




$$\begin{array}{r} 27 \\ +10 \\ \hline \end{array}$$

.....




$$\begin{array}{r} 52 \\ +16 \\ \hline \end{array}$$

.....




$$\begin{array}{r} 13 \\ +64 \\ \hline \end{array}$$

.....




$$\begin{array}{r} 47 \\ +11 \\ \hline \end{array}$$

.....




$$\begin{array}{r} 17 \\ +12 \\ \hline \end{array}$$

.....




$$\begin{array}{r} 69 \\ +10 \\ \hline \end{array}$$

.....
















$$\begin{array}{r} 13 \\ +33 \\ \hline \end{array}$$




.....



ŞİFRE 

      
97 77 89 79 29 57 85

     
88 68 37 75 34 44

  
99 46 58

Etkinlik: Aşağıdaki toplama işlemlerini yapınız sonucunu bulduğunuz hazine sandığını boyayınız.



$$\begin{array}{r} 31 \\ +53 \\ \hline \end{array}$$

.....

$$\begin{array}{r} 14 \\ +12 \\ \hline \end{array}$$

.....

$$\begin{array}{r} 35 \\ +24 \\ \hline \end{array}$$

.....

$$\begin{array}{r} 12 \\ +53 \\ \hline \end{array}$$

.....

$$\begin{array}{r} 23 \\ +24 \\ \hline \end{array}$$

.....

$$\begin{array}{r} 63 \\ +11 \\ \hline \end{array}$$

.....

$$\begin{array}{r} 30 \\ +65 \\ \hline \end{array}$$

.....

$$\begin{array}{r} 71 \\ +28 \\ \hline \end{array}$$

.....

$$\begin{array}{r} 26 \\ +12 \\ \hline \end{array}$$

.....

$$\begin{array}{r} 41 \\ +52 \\ \hline \end{array}$$

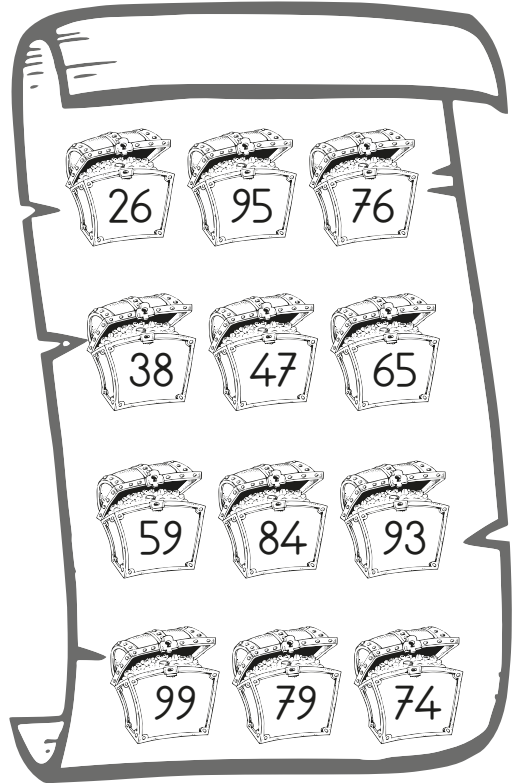
.....

$$\begin{array}{r} 25 \\ +51 \\ \hline \end{array}$$

.....

$$\begin{array}{r} 59 \\ +20 \\ \hline \end{array}$$

.....



Etkinlik: Okula gitmek isteyen kurbağalar toplama işlemlerini yaptıkları nilüferlere basacaklar. Acele edin okula geç kalmasınlar.



Haydi okula...

$$\begin{array}{r} 14 \\ +23 \\ \hline \end{array}$$

.....

$$\begin{array}{r} 17 \\ +30 \\ \hline \end{array}$$

.....

$$\begin{array}{r} 24 \\ +14 \\ \hline \end{array}$$

.....

$$\begin{array}{r} 20 \\ +40 \\ \hline \end{array}$$

.....

$$\begin{array}{r} 36 \\ +21 \\ \hline \end{array}$$

.....

$$\begin{array}{r} 47 \\ +12 \\ \hline \end{array}$$

.....

$$\begin{array}{r} 13 \\ +11 \\ \hline \end{array}$$

.....

$$\begin{array}{r} 61 \\ +18 \\ \hline \end{array}$$

.....

$$\begin{array}{r} 58 \\ +11 \\ \hline \end{array}$$

.....

$$\begin{array}{r} 32 \\ +10 \\ \hline \end{array}$$

.....

$$\begin{array}{r} 25 \\ +23 \\ \hline \end{array}$$

.....

$$\begin{array}{r} 54 \\ +31 \\ \hline \end{array}$$

.....

$$\begin{array}{r} 74 \\ +13 \\ \hline \end{array}$$

.....

$$\begin{array}{r} 13 \\ +22 \\ \hline \end{array}$$

.....



Etkinlik: Yan yana verilmiş olan toplama işlemlerinin sayılarını uygun basamaklara yazıp çözüünüz.

$44 + 23 =$

O	B

$31 + 7 =$

O	B

$27 + 12 =$

O	B

$38 + 20 =$

O	B

$52 + 34 =$

O	B

$19 + 10 =$

O	B

$65 + 32 =$

O	B

$76 + 21 =$

O	B

$42 + 26 =$

O	B

$84 + 12 =$

O	B

$25 + 22 =$

O	B

$31 + 27 =$

O	B

Etkinlik: Aşağıdaki işlemleri yapıp sonuçlarınızı kontrol ediniz.

21 + 5

O B

+

.....

33 + 40

O B

+

.....

16 + 22

O B

+

.....

55 + 12

O B

+

.....

44 + 25

O B

+

.....

38 + 21

O B

+

.....

Etkinlik: Aşağıdaki işlemleri yapınız.

16
+30
.....

16
+23
.....

31
+30
.....

10
+19
.....


42
+80
.....

53
+12
.....


24
+25
.....

10
+38
.....


Etkinlik: Aşağıdaki toplama işlemlerini yaparken ellerin içine eldeleri yazınız.




	5	8
	2	9
+		




	4	5
	1	6
+		




	6	8
	2	5
+		




	1	9
	6	8
+		




	4	8
	3	6
+		




	5	4
	3	8
+		




	3	6
	5	7
+		




	5	2
	2	8
+		




	5	5
	3	5
+		




	5	3
	2	8
+		




	6	6
	1	6
+		




	4	3
	4	7
+		




	2	8
	2	6
+		




	1	4
	6	6
+		




	2	9
	4	6
+		




	7	5
	1	9
+		




	6	6
	2	6
+		



	1	5
	5	6
+		






	1	9
	1	1
+		



	3	9
	5	3
+		

Etkinlik: Toplama işlemlerini yapınız. Sonucunu bulduğunuz resmi boyayınız.

$\begin{array}{r} 35 \\ +49 \\ \hline \end{array}$ <p>.....</p>	$\begin{array}{r} 58 \\ +33 \\ \hline \end{array}$ <p>.....</p>	$\begin{array}{r} 78 \\ +14 \\ \hline \end{array}$ <p>.....</p>	$\begin{array}{r} 39 \\ +35 \\ \hline \end{array}$ <p>.....</p>
$\begin{array}{r} 67 \\ +28 \\ \hline \end{array}$ <p>.....</p>	$\begin{array}{r} 36 \\ +26 \\ \hline \end{array}$ <p>.....</p>	$\begin{array}{r} 44 \\ +39 \\ \hline \end{array}$ <p>.....</p>	$\begin{array}{r} 55 \\ +35 \\ \hline \end{array}$ <p>.....</p>



Etkinlik: Verilen toplamaları bulabilmek için balonun üzerindeki işlemleri kullanınız. Sonuçlarınıza göre boyayınız.

$$\begin{array}{r} \square \\ \square \\ \hline 9 \quad 1 \end{array}$$

$$\begin{array}{r} \square \\ \square \\ \hline 9 \quad 1 \end{array}$$

$$\begin{array}{r} \square \\ \square \\ \hline 9 \quad 1 \end{array}$$

- 91 = pembeye
- 48 = turuncuya
- 72 = maviye
- 55 = yeşile
- 97 = sarıya

boyayınız.

$$\begin{array}{r} \square \\ \square \\ \hline 9 \quad 1 \end{array}$$

$$\begin{array}{r} \square \\ \square \\ \hline 9 \quad 1 \end{array}$$

$$\begin{array}{r} \square \\ \square \\ \hline 9 \quad 1 \end{array}$$

$$\begin{array}{r} \square \\ \square \\ \hline 4 \quad 8 \end{array}$$


$$\begin{array}{r} \square \\ \square \\ \hline 9 \quad 7 \end{array}$$

$$\begin{array}{r} \square \\ \square \\ \hline 7 \quad 2 \end{array}$$

$$\begin{array}{r} \square \\ \square \\ \hline 7 \quad 2 \end{array}$$

$$\begin{array}{r} \square \\ \square \\ \hline 7 \quad 2 \end{array}$$

$$\begin{array}{r} \square \\ \square \\ \hline 5 \quad 5 \end{array}$$



Etkinlik: Aşağıdaki toplama işlemlerini yapıp sonuçlarınızı kontrol ediniz.

$$\begin{array}{r} 50 \\ +25 \\ \hline \end{array}$$

$$\begin{array}{r} 42 \\ +14 \\ \hline \end{array}$$

$$\begin{array}{r} 30 \\ +20 \\ \hline \end{array}$$

$$\begin{array}{r} 61 \\ +17 \\ \hline \end{array}$$

$$\begin{array}{r} 13 \\ +54 \\ \hline \end{array}$$

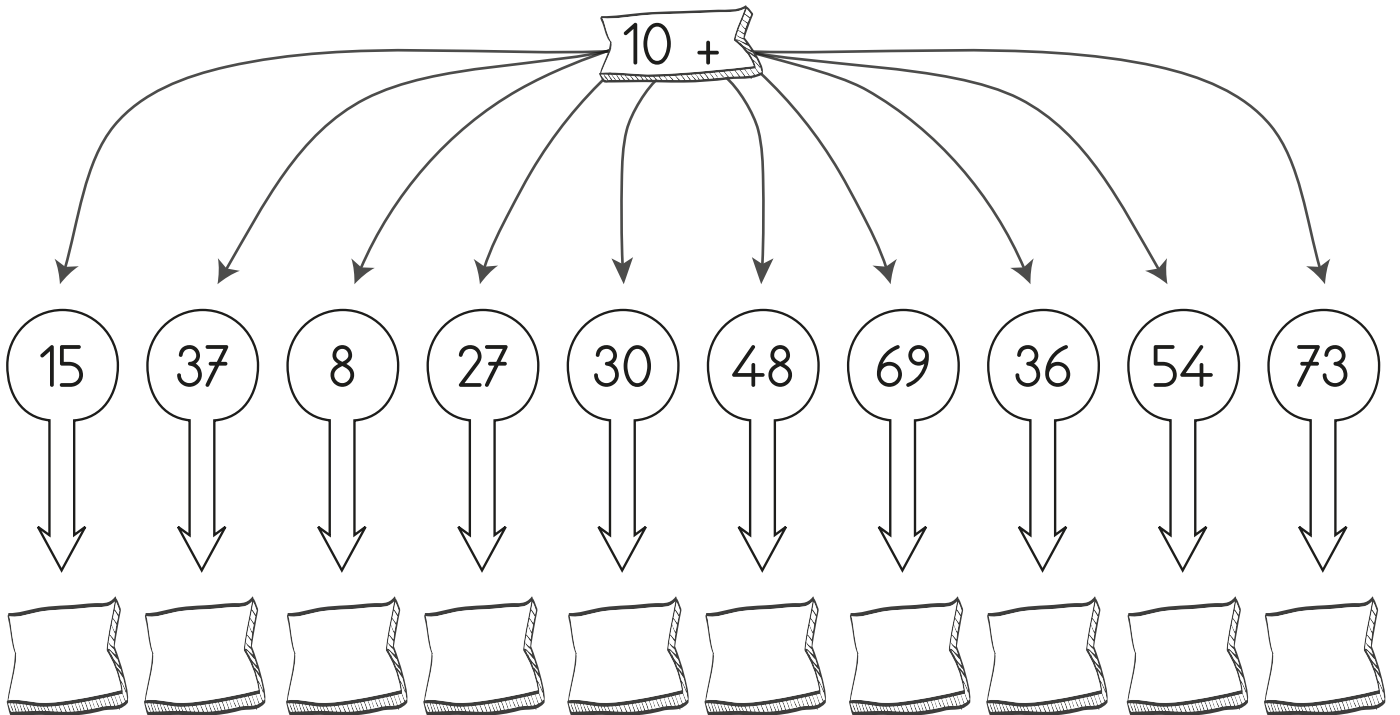
$$\begin{array}{r} 11 \\ 26 \\ + 3 \\ \hline \end{array}$$

$$\begin{array}{r} 13 \\ 44 \\ +12 \\ \hline \end{array}$$

$$\begin{array}{r} 24 \\ 30 \\ +15 \\ \hline \end{array}$$

$$\begin{array}{r} 10 \\ 23 \\ +36 \\ \hline \end{array}$$

$$\begin{array}{r} 20 \\ 13 \\ +35 \\ \hline \end{array}$$



Etkinlik: Uçurtmanın üzerindeki toplama işlemlerini yapınız. Sonuçlarını kuyruğundan bulup boyayınız.

36
+28
.....

71
+19
.....

45
+16
.....

29
+42
.....

48
+33
.....

27
+28
.....

68
+24
.....

84
+ 7
.....

13
+69
.....

47
+37
.....

38
+59
.....

26
+17
.....

18
+33
.....

45
+28
.....

64
92

43
71

90
73


81
84

55
97


51
61

82
91


Etkinlik: Toplamı 50 olan koyunlar çiftliğe girebilecekler işlemleri yapıp toplamı 50 olan koyunları boyayınız.




$15 + 35$




$25 + 41$




$39 + 11$




$85 + 3$




$25 + 25$




$11 + 28$




$21 + 29$




$20 + 11 + 19$




$35 + 17$




$12 + 38$




$41 + 9$




$35 + 15$




$12 + 18 + 20$




$61 + 12$




$23 + 27$




$34 + 16$



$42 + 8$



$21 + 29$



Etkinlik: Toplama işlemlerini yapınız. Sonuçlarınızı kontrol edip görseli boyayabilirsiniz.

$$\begin{array}{r} 25 \\ +36 \\ \hline \end{array}$$

.....

$$\begin{array}{r} 32 \\ +49 \\ \hline \end{array}$$

.....

$$\begin{array}{r} 47 \\ +18 \\ \hline \end{array}$$

.....

$$\begin{array}{r} 18 \\ +26 \\ \hline \end{array}$$

.....

$$\begin{array}{r} 29 \\ +13 \\ \hline \end{array}$$

.....

$$\begin{array}{r} 38 \\ +24 \\ \hline \end{array}$$

.....

$$\begin{array}{r} 27 \\ +27 \\ \hline \end{array}$$

.....

$$\begin{array}{r} 38 \\ +38 \\ \hline \end{array}$$

.....

$$\begin{array}{r} 14 \\ + 9 \\ \hline \end{array}$$

.....

$$\begin{array}{r} 22 \\ +55 \\ \hline \end{array}$$

.....

$$\begin{array}{r} 25 \\ +25 \\ \hline \end{array}$$

.....

$$\begin{array}{r} 28 \\ +34 \\ \hline \end{array}$$

.....

$$\begin{array}{r} 39 \\ +22 \\ \hline \end{array}$$

.....

$$\begin{array}{r} 18 \\ + 5 \\ \hline \end{array}$$


.....

$$\begin{array}{r} 49 \\ +32 \\ \hline \end{array}$$

.....

$$\begin{array}{r} 63 \\ +18 \\ \hline \end{array}$$

.....



Etkinlik: Aşağıdaki işlemleri dikkatlice yapınız.

$$\begin{array}{r} 49 \\ +17 \\ \hline \end{array}$$

.....

$$\begin{array}{r} 44 \\ +37 \\ \hline \end{array}$$

.....



$$\begin{array}{r} 67 \\ +23 \\ \hline \end{array}$$

.....

$$\begin{array}{r} 39 \\ +16 \\ \hline \end{array}$$

.....



$$\begin{array}{r} 44 \\ +48 \\ \hline \end{array}$$

.....



$$\begin{array}{r} 75 \\ +15 \\ \hline \end{array}$$

.....

$$\begin{array}{r} 33 \\ +55 \\ \hline \end{array}$$

.....

$$\begin{array}{r} 25 \\ +17 \\ \hline \end{array}$$

.....



$$\begin{array}{r} 38 \\ +66 \\ \hline \end{array}$$

.....



$$\begin{array}{r} 24 \\ +58 \\ \hline \end{array}$$

.....

$$\begin{array}{r} 27 \\ +66 \\ \hline \end{array}$$

.....

$$\begin{array}{r} 27 \\ +57 \\ \hline \end{array}$$


.....

$$\begin{array}{r} 34 \\ +27 \\ \hline \end{array}$$

.....

$$\begin{array}{r} 29 \\ +36 \\ \hline \end{array}$$

.....



$$\begin{array}{r} 23 \\ +49 \\ \hline \end{array}$$

.....



$$\begin{array}{r} 19 \\ +56 \\ \hline \end{array}$$


.....

$$\begin{array}{r} 74 \\ +17 \\ \hline \end{array}$$

.....

Etkinlik: Toplama işlemleri yazan alanı yapıştırınız. İşlemleri yaptıktan sonra sonucunuzla aynı olan baykuşları bulup işlemin altına yapıştırınız.

$$\begin{array}{r} 21 \\ + 36 \\ \hline \end{array}$$



$$\begin{array}{r} 52 \\ + 16 \\ \hline \end{array}$$


$$\begin{array}{r} 41 \\ + 56 \\ \hline \end{array}$$

$$\begin{array}{r} 50 \\ + 26 \\ \hline \end{array}$$

$$\begin{array}{r} 25 \\ + 13 \\ \hline \end{array}$$

$$\begin{array}{r} 60 \\ + 31 \\ \hline \end{array}$$





$$\begin{array}{r} 65 \\ + 22 \\ \hline \end{array}$$



$$\begin{array}{r} 37 \\ + 26 \\ \hline \end{array}$$

TOPLAMA İŞLEMİ

Etkinlik: Toplama işlemleri yazan alanı yapıştırınız. İşlemleri yaptıktan sonra sonucunuzla aynı olan baykuşları bulup işlemin altına yapıştırınız.



Etkinlik: Bu sayfayı poşet dosyaya koyup üzerine tahta kalemle toplama işlemleri yazıp silebilirsiniz.

Birler Basamağı		
Onlar Basamağı		
		+

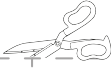
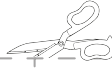
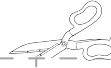

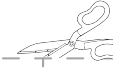
Birler Basamağı		
Onlar Basamağı		
		+

Not: Bu sayfa 2 öğrenci içindir.

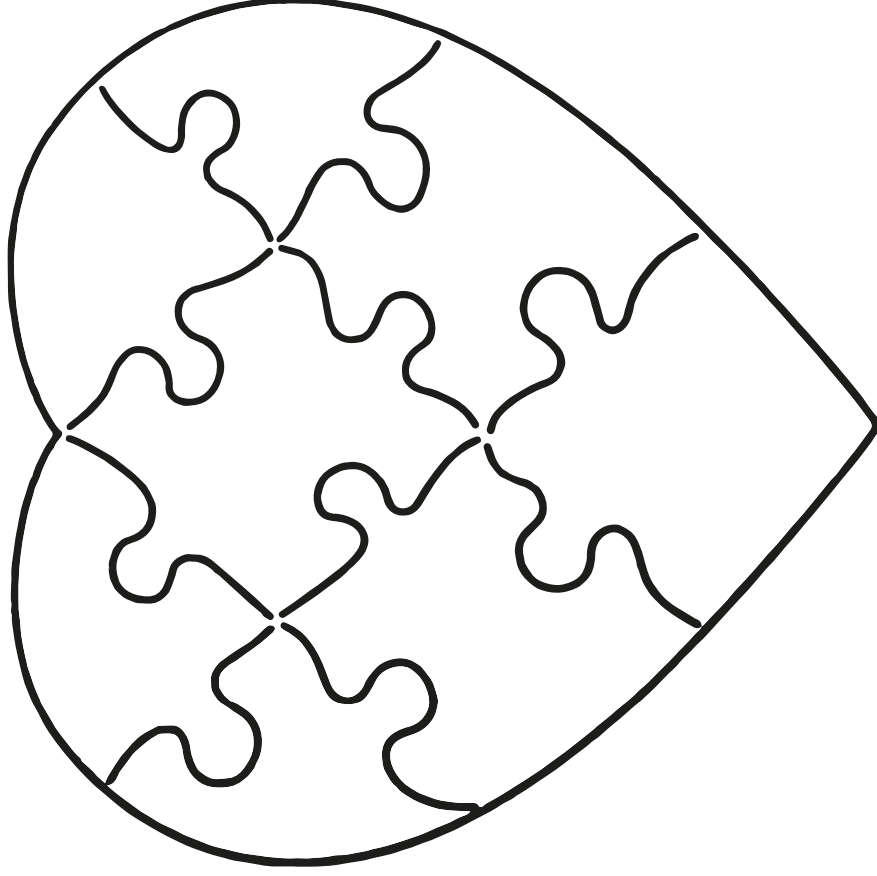
Etkinlik: Çevremizdeki insanlarla konuşurken kibar ifadeler kullanmalıyız. Aşağıdaki ifadeleri okuyup uygun alanlara yapıştırınız.

KIBAR İFADELER	

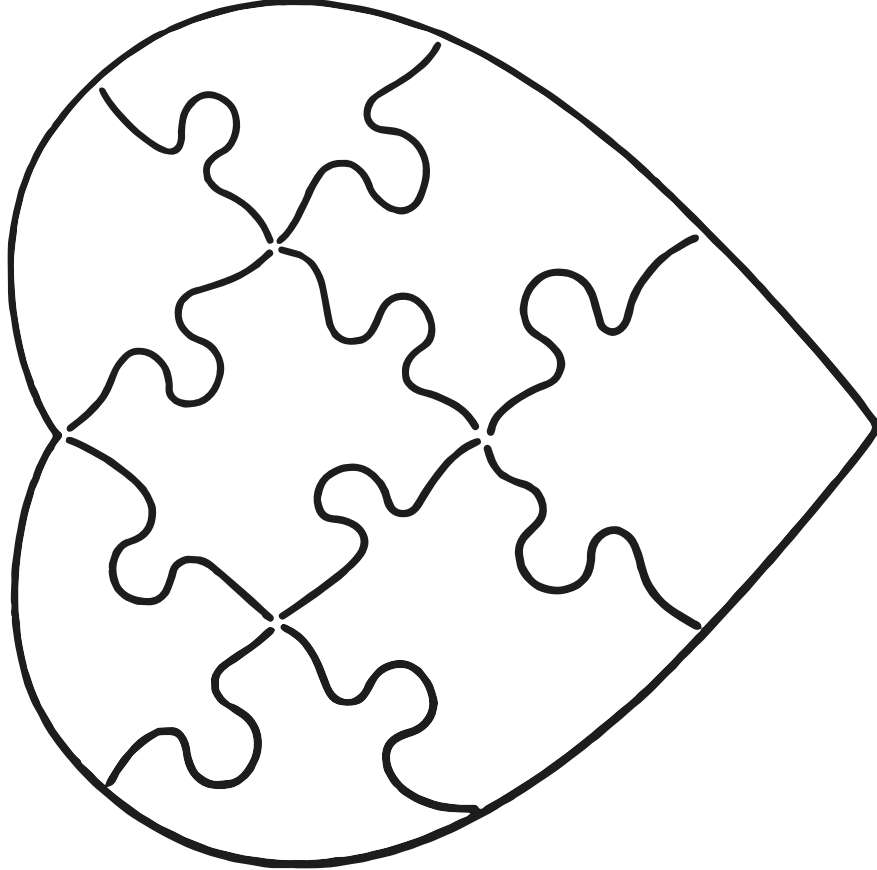
KABA İFADELER	

					
Benim arkadaşım değil-sin.	Teşekkür ederim.	Bizimle oynayamaz-sın.	Bana yardım eder misin?	Sen çok iyi arkadaş-sın.	Git burdan.
Beraber oynayalım.	Seninle paylaşmak istemiyorum.	Hiç kibar değilsin.	Sen iyi misin?	Bana vursa bende vururum.	Harika fikirlerin var. Tebrikler

Etkinlik: Yap - boz parçalarına nezaket sözcükleri yazıp boyayınız.



Etkinlik: Yap - boz parçalarına nezaket sözcükleri yazıp boyayınız.




Not: Bu sayfa 2 öğrenci içindir.

Etkinlik: İstek ve ihtiyaçlarımızı anlatırken nezaket kurallarına dikkat etmeliyiz. Aşağıdaki kutulara nezaket sözcükleri yazınız. Ve onları cümlede kullanınız.



**NEZAKET
SÖZCÜKLERİ**




Not: Bu sayfa 2 öğrenci içindir.

Etkinlik: İstek ve ihtiyaçlarımızı anlatırken nezaket kurallarına dikkat etmeliyiz. Aşağıdaki kutulara nezaket sözcükleri yazınız. Ve onları cümlede kullanınız.



**NEZAKET
SÖZCÜKLERİ**



1. Aşağıdaki sözcük çiftlerinden hangisi zıt anlamlıdır?

- A) kara - siyah
B) kirli - temiz
C) sonbahar - güz

2. "Doğa yürüyüşü yapmayı çok seviyorum." altı çizili olan kelimenin eş anlamlısı hangisidir?

- A) tabiat
B) mevsim
C) ağaç

3. Aşağıdaki cümlelerden hangisinin sonuna farklı bir noktalama işareti konur?

- A) Sabırlı olmayı öğrenmelisin
B) Koştum ama sana yetişemedim
C) Kapıyı kim açık unuttu




4. "Soru" kelimesinin zıt anlamlısı hangisidir?

- A) neden B) cevap C) sual

5. "Ceren ile parkta oynadık." cümlesinde altılı çizili yanıtı bulabilmek için hangi soruyu sorulur?

- A) nerede? B) kim?
C) ne?

6. "Ağaçtaki kuşu gördün mü ()" cümlesinin sonuna hangi noktalama işareti gelmelidir?

- A)  B)  C) 

7. 34 sayısının 1 onluk 5 birlik fazlası kaç eder?


- A) 85 B) 49 C) 51

8.



Aşağıdaki işlemlerden hangisinin sonucu yukarıdaki kutuda yazılı değildir?




- A) $28 + 14$ B) $44 + 26$
C) $17 + 17$

9.  7 onluk + 5 birlik

Cem'in söylediği sayının 19 fazlası kaç eder?

- A) 76 B) 94 C) 87

10.

 45 + 45 -----	 36 + 44 -----	 63 + 17 -----
--	--	--

Anıl

Yiğit

Selin

Yukarıdaki çocuklardan hangilerinin işlem sonuçları birbirine eşittir?

- A) Selin ve Yiğit
B) Anıl ve Selin
C) Anıl ve Yiğit

11. Aşağıdaki toplama işlemlerinden hangisinin sonucu diğerlerinden küçüktür?

A)

$$\begin{array}{r} 32 \\ + 38 \\ \hline \end{array}$$

B)

$$\begin{array}{r} 25 \\ + 28 \\ \hline \end{array}$$

C)

$$\begin{array}{r} 34 \\ + 17 \\ \hline \end{array}$$

12. Aşağıdakilerden hangisi nezaket ifadesi değildir?

- A) Lütfen
B) Teşekkür ederim
C) Çabuk ol

13. Aşağıdaki davranışlardan hangisi doğrudur?

- A) Arkadaşıma tekme atıp kaçarım.
B) Düşen birine yardım ederim.
C) Bana bağırان birine vururum.

14.

Öğretmenimiz konuşurken onu dinlemeliyiz.

Yukarıdaki boşluğu hangi kelimeyi yazarsak cümleyi tamamlayabiliriz?

- A) konuşarak B) özen
C) dikkatli