

2/B SINIFINA GELEN SÜRPRİZ MİSAFİRLER

O sabah her zamankinden farklıydı sanki. Mustafa Kemal Atatürk İlkokulu'nun koridorlarında çocuk sesleri biraz değişik yankılanıyordu. Tam sınıfına girecekken Çağan, ikiz misafir öğrencileri fark etti. Evet evet yanlış duymuyordu, misafir öğrenciler İngilizce konuşuyorlardı. Sınıf arkadaşları da onlarla sohbet ediyordu. Misafirlerden biri Aylin'e adını sordu: "What is your name?" Aylin adını söyledi. Aylin de onlara yaşlarını sordu. "I am eight years old." diye cevap verdi ikisi de. Ne de olsa ikizlerdi, aynı cevabın gelmesi çok normaldi. Daha sonra en sevdikleri renkler, hayvanlar ve meyveler hakkında sohbete başladılar. Misafir öğrencilerin isimleri Linda ve Tim'di. Tim: "I like blue." dedi. Linda ise: "I like yellow." dedi. Mehmet onlara renkli kalemlerinden hediye etmek istedi. Linda ve Tim'in sevdikleri renkteki kalemleri gülümseyerek onlara uzattı. Çocuklar: "Thank you Mehmet." diyerek teşekkür ettiler. Tam o sırada İngilizce öğretmenleri kapıdan görüldü. Çocukların birbirleriyle anlaşıp kaynaşabildiklerini gördüğü için mutlulukla gülümsedi.

"Good morning children, let's play a game!" diyerek onları içeri aldı. Acaba hangi oyunu oynayacaklardı?



Ayça BAYRAM

Etkinlik: Aşağıdaki soruları metne göre cevaplayınız.

➔ Çağan, tam sınıfına gireceken kimleri fark etti?

.....

➔ Mehmet'in Linda ve Tim'e verdiği kalemler hangi renkteydi?

.....

➔ İki kız kaç yaşındaydı?

.....

➔ İki kızlerin adları neydi?

.....



➔ İngilizce öğretmenleri, neden mutlu olmuştu?

.....

➔ Sen hiç yabancı bir kişiyle İngilizce konuştun mu? Onunla ne hakkında sohbet etmek isterdin?

.....

➔ Aşağıdaki görselleri boyayınız.



Etkinlik: Aşağıdaki görsellerle cümle oluşturunuz. Görsellerin cevaplarını hangi soruyu sorarak bulabiliriz. Örneği inceleyip tamamlayınız.

1



Kim?



Ne?



Nerede?

Cümlem: ...Panda ..ormanda.....

..bambu ..bulmuş.....

2



Cümlem:

.....

3



Cümlem:

.....

4



Cümlem:

.....

5



Cümlem:

.....

Etkinlik: Aşağıdaki cümlelerin düz cümle mi, soru cümlesi mi olduğunu belirleyip uygun noktalama işaretini ekleyerek kesip yapıştırınız.

SORU CÜMLESİ

DÜZ CÜMLE

Koşu yarışması yapalım mı

Kitabımın sayfaları kopmuş

Kim benimle geliyor

Köpeğimi gezdireceğim

Ağaçtaki meyveleri toplayalım

Umarım canın acımamıştır

Eğlenmek için neler yaparsın

Ne kadar büyük olsun

Etkinlik: Aşağıdaki soruları görsele göre yanıtlayınız. Görseli boyayınız.



1 Dükkânın camında neler var?

.....

2 Görseldeki çocuk ne yapıyor?

.....

3 Çocuk ordan geçerken neler olmuş olabilir?

.....

4 Görseldeki kedi nerededir?

.....


5 Bu dükkânda ne satılıyor?

.....

6 Dükkânın girişinde asılı olan nedir?

.....

Etkinlik: Aşağıdaki metni okuyunuz. Metinde anlatılanların görsellerini çizip boyayınız.



Çiftçi Remzi, saman yığınına topladı. Çiftçi Remzi, saman yığınının yanında durup ineği çağırdı. İnek çağırıldığı yere giderken önüne yavru kedi çıktı. Yavru kediyi ezmek için duraksadı. Tam saman yığınına yaklaştığında iki tane koyun yolunu kesti. Koyunlar da geçip gidince inek samanlara ulaşmıştı. Samanları afiyetle yerken kırmızı çatılı ahırını inceledi. Ahıra bakarken ahırın önündeki mavi traktörü gördü. Traktörün sağındaki su birikintisinde ördekler keyifle yüzüyorlardı.

Etkinlik: Aşağıdaki problemleri çözünüz.

- 1 Sınıfımızın eni 3 metredir. Sınıfımızın boyu eninden 2 kat daha uzundur. Buna göre sınıfımızın boyu ile eninin toplamı kaç metredir?

ÇÖZÜM:



- 2 Aysel'in bir kulacı 20 cm, bir karışı ise 5 cm'dir. Aysel masasını 2 kulaç 3 karış bulduğuna göre Aysel'in masasının boyu kaç cm'dir?

ÇÖZÜM:



- 3 Yarısı 8 metre olan bir kumaştan 4 metre kullandık. Geriye kaç metre kumaşımız kalmıştır?

ÇÖZÜM:



- 4 Defterimizin eni 10 cm'dir. Boyu eninin 3 katından 6 cm daha uzun olduğuna göre defterimin boyu kaç cm'dir?

ÇÖZÜM:



- 5 Aydın, bir etkinlik için sınıfa 36 cm'lik kırmızı ip getirmiştir. Kırmızı ipten 8 cm daha kısa beyaz ip getirmiştir. Aydın toplam kaç cm ip getirmiştir?

ÇÖZÜM:



- 6 Cetvelin boyu 7 cm'dir. Tırtıl bu cetvelde gidip gelirse kaç cm yol almış olur?

ÇÖZÜM:



- 7 Bir kalemin boyu 12 cm'dir. Bir kutuda aynı uzunlukta 3 kalem varsa bu kalemlerin toplam uzunluğu kaç cm olur?

ÇÖZÜM:



Etkinlik: Aşağıdaki problemleri çözünüz.

- 1 20 metrelik kumaşı 4 eşit parçaya ayırdığımızda her bir parçanın uzunluğu kaç metre olur?

ÇÖZÜM:

- 2 Aylin'in bir karışı 5 cm'dir. Aylin, masanın boyunu 10 karış ölçmüştür. Buna göre masanın boyu kaç cm'dir?

ÇÖZÜM:

- 3 Bir şeritin uzunluğu 3 cm'dir. Cetvelimin boyu 10 şerit uzunluğunda olduğuna göre cetvelim kaç cm uzunluğundadır?

ÇÖZÜM:

- 4 Zeynep'in bir adımı 12 cm'dir. Sınıfın boyunu 4 adım olarak ölçtüğüne göre sınıfın boyu kaç cm'dir?

ÇÖZÜM:

- 5 İki top kumaşın toplam uzunluğu 90 metredir. Birinci top kumaşın uzunluğu 37 metre ise diğer top kumaş kaç metredir?

ÇÖZÜM:

- 6 Biri diğerinden 7 cm fazla olan iki kalemin boylarının uzunluğu toplamı 35 cm ise kısa olan kalemin boyu kaç cm'dir?

ÇÖZÜM:

- 7 Bir terzinin elinde 28 metre beyaz-kumaşı vardır. Bu kumaştan 12 metre fazla kırmızı kumaş vardır. Bu kumaşların tamamını kullanıp dev bir Türk bayrağı yapmak isteyen terzi bu bayrak için toplam kaç metre kumaş kullanmıştır?

ÇÖZÜM:

Etkinlik: Aşağıdaki problemleri çözünüz.

- 1 Sinan'ın bir karış uzunluğu 10 cm'dir. Sinan masanın uzunluğunu karışıyla ölçtüğünde 7 karış buluyor. Buna göre Sinan'ın masasının boyu kaç cm'dir?

ÇÖZÜM:

- 2 Yemek masamızın uzun kenarı 98 cm kısa kenarı ise uzun kenarından 34 cm daha kısadır. Buna göre yemek masamızın kısa kenarı kaç cm'dir?

ÇÖZÜM:

- 3 36 metre kumaşın çeyreğini kullanırsak geriye kaç metre kumaşımız kalır?

ÇÖZÜM:

- 4 22 cm kumaşın yarısının 9 fazlası kaç cm'dir?

ÇÖZÜM:

- 5 Ela 12 cm daha uzun olursa boyu tam 1 metre olacaktır. Buna göre Ela'nın şimdiki boyu kaç cm'dir?

ÇÖZÜM:

- 6 50 metre daha yürürsek başlangıç noktasından tam 95 metre uzaklaşmış olacağız. Şu an kaç metre yol yürümüşüzdür?

ÇÖZÜM:

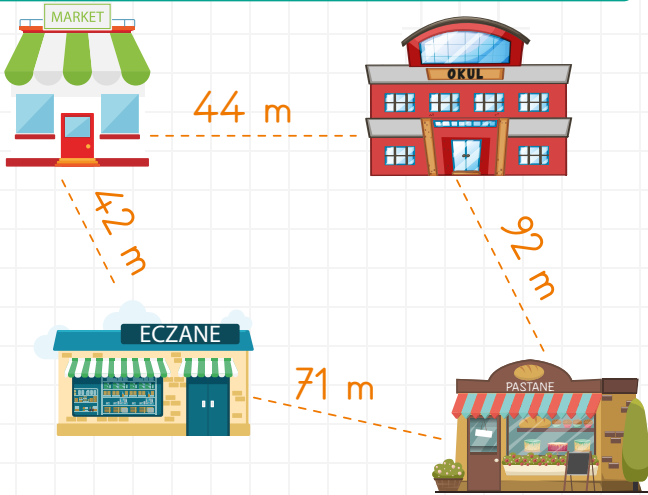
- 7 Eymen, yatağının örtüsünün ölçüsünü tahmin ederek uzunluğunun 78 cm olduğunu söylüyor. Ölçüm yaptıktan sonra yatak örtüsünün gerçek uzunluğu 90 cm çıkıyor. Buna göre Eymen'in tahmini ile gerçek sonucu arasındaki fark kaç cm'dir?

ÇÖZÜM:

Etkinlik: Aşağıdaki problemleri çözünüz.

- 1 Merve kulacının uzunluğunu 68 cm olarak ölçüyor. Eymen'in kulacının uzunluğu ise Merve'nin kulacının uzunluğundan 8 cm daha fazla. Buna göre Eymen'in kulacının uzunluğu kaç cm'dir?

ÇÖZÜM:



2, 3, 4, 5, 6 ve 7. soruları görsele göre cevaplandırınız.

- 2 Marketten okula gidip gelen Ömer, kaç metre yol yürümüştür?

ÇÖZÜM:

- 3 Market ile eczane arasındaki mesafe, eczane ile pastane arasındaki mesafeden ne kadar kısadır?

ÇÖZÜM:

- 4 Özlem, okuldan sonra markete uğrayıp bir şeyler aldıktan sonra eczanede çalışan babasını ziyaret edecektir. Buna göre Özlem kaç m yol yürümüştür?

ÇÖZÜM:

- 5 Eczaneden okula gitmek isteyen birisi en kısa yolu kullandığına göre kaç m yol gitmiştir?

ÇÖZÜM:


- 6 Pastane eczane arasındaki mesafe, okul - market arasındaki mesafeden kaç m daha fazladır?

ÇÖZÜM:

- 7 Okul ile market arasındaki yolun yarısı kaç metredir?

ÇÖZÜM:

Etkinlik: Aşağıdaki görselde yönleri yazınız.



Etkinlik: Aşağıdaki boşlukları uygun kelimelerle tamamlayınız.

batı

kuzey

güney

dört

doğru

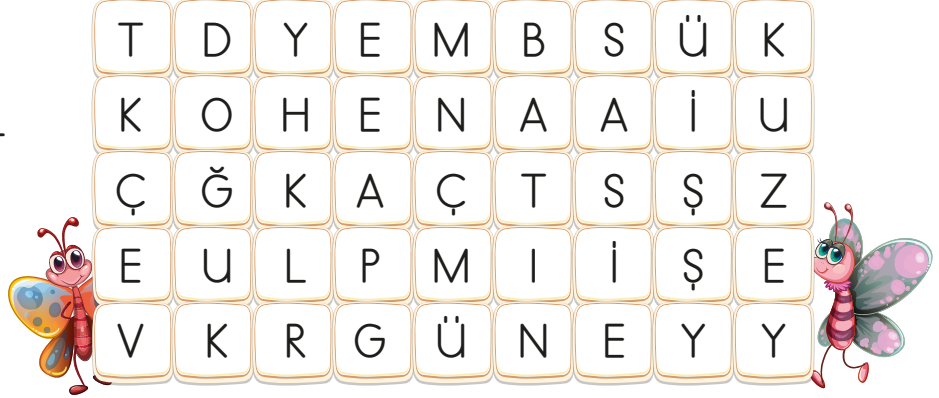
yönler

- Ana yönlerimiz tanedir.
- Güneş'in doğduğu yön'dur.
- Güneş yönünden batar.
- Güneş'in doğuş ve batışına göre belirlenir.
- Sağ kolumuzu Güneş'in doğduğu yöne çevirirsek önümüz yönünü, arkamız yönünü gösterir.

Etkinlik: Aşağıdaki haritada ana yönleri uygun yerlere yazınız.



Etkinlik: Yandaki bulmacadan yönlerin isimlerini bulup boyayınız.



Etkinlik: Görseldeki kutucuklara yönlerin isimlerini yazınız. Aşağıdaki boşlukları görsele uygun olarak yanıtlayınız.




.....



.....



.....



.....



SİPARİŞ

Salgın hastalık sürecinde internet alışverişi yoğunluğu arttı. Geçenlerde annem internetten bize bayramlık kıyafetler aldı. Heyecanla beklediğimiz kargo gelmişti. Hemen açıp görmek istiyordum. Ama annem sağlığımız için paketi balkonda bekletmemiz gerektiğini söyledi. Kıyafetlerim balkonda üç saat bekleyecekti. Ya rüzgar çok eser de uçurursa ya da yağmur yağıp paketi ıslatırsa, diye endişelerimle gözüm paketimin üzerindeydi.

Meral Çubuk YILMAZ

→ Aşağıdaki ilk üç soruyu metne göre yanıtlayınız.


1. İnternet alışverişi neden artmıştır?

- A) Yağmur yağdığı için
 B) Salgın hastalık olduğu için
 C) Çok sıcak olduğu için

2. Annem internetten bize ne almıştır?

- A)  B)  C) 

3. Kargodan gelen paket ne kadar süre balkonda durmalıymış?
 A) üç saat B) beş saat
 C) yedi saat

4.  İstanbul' da yoğun trafik var.

Yukarıdaki cümleye "nerede?" sorusunu sorduğumuzda hangi cevabı alırsınız?

- A) trafik B) yoğun
 C) İstanbul'da

5.



Aşağıdaki tümcelerden hangisi yukarıdaki görselle ilgilidir?

- A) Akşam yürüyüş yapacağım.
 B) Resim yapmakta yetenekliyim.
 C) Odamı temizlemek benim görevimdir.

7. 68 cm boyunda olan çiçeğim kaç cm daha uzarsa 1 m boyunda olur?
 A) 32 B) 42 C) 22

8. 18 metrelik kumaşın yarısı ile etek dikildi. Kalan kumaşın 4 metresi ile gömlek dikildi. Geriye kalan kumaş kaç metredir?
 A) 4 B) 5 C) 9

9. Bir karışım 14 santimetredir. Çalışma masamı 3 karış ölçtüm. Çalışma masamın boyu kaç santimetredir?
 A) 42 cm B) 17 cm C) 42 m

10. Bir tuhafiyeci her biri 7 m olan kurdelerden dört renk satıyor. Bu tuhafiyeci toplam kaç metre kurdela satmıştır?
 A) 36 B) 30 C) 28



→ Aşağıdaki soruları yukarıdaki görsele göre yanıtlayınız.

10. Evimden piknik alanına gitmek için hangi yöne gitmeliyim?
 A) kuzey B) batı C) güney
11. Okuldan çıkıp önce eve sonra markete gittim. Marketten aldıklarımı eve götürdüm. Sırasıyla hangi yönlere doğru hareket etmişimdir?
 A) batı - kuzey - güney
 B) doğu - batı - kuzey
 C) güney - kuzey - batı
12. Park evimin hangi yönündedir?
 A) güney B) batı C) doğu

Derin hafta sonu tatilinde oyun parkında oynadıktan sonra eve gelmiş ve dinlenmeden iki bardak soğuk su içmişti. O gece Derin çok rahatsızlanmış, ateşi yükselmişti. Babası sabah erkenden Derin'i hastaneye götürerek muayene ettirdi.

Doktor Derin'e terli terli su içmenin çok yanlış bir davranış olduğunu anlatmış.



Aşağıdaki ilk beş soruyu parçaya göre cevaplandırınız.

1. Derin ne zaman oyun parkına gidiyor?

- A) Hafta sonu tatilinde
- B) Sabah erkenden
- C) Okuldan geldikten sonra

2. Derin hastaneye kiminle gidiyor?

- A) Ablası ile
- B) Babası ile
- C) Dedesi ile

3. Derin niçin hastalanmış olabilir?

- A) Dişlerini fırçalamadığı için
- B) Dengeli beslenmediği için
- C) Terli terli soğuk su içtiği için

4. Doktor Derin'e nasıl öğüt veriyor?

- A) Anne ve babasının sözünü dinlemesi gerektiği
- B) Terli terli su içmemesi gerektiğini
- C) Parkta fazla oynamamasını

5. Bu parçadan nasıl bir sonuç çıkarılabilir?

- A) Sağlığımızı korumak için dikkatli davranmalıyız.
- B) Ödevimizi zamanında yapmalıyız.
- C) Arkadaşlarımıza yardımcı olmalıyız.

6. Onlar basamağı 7, birler basamağı 3 olan sayının 19 eksiği kaçtır?
A) 64 B) 61 C) 54

7. 3 düzine kağıdın 1 destesini kullandım. Geriye ne kadar kağıt kalmıştır?
A) 26 B) 24 C) 13

8. Aşağıdaki çarpma işlemlerinden hangisi **yanlış** yapılmıştır?
A) $5 \times 6 = 30$
B) $4 \times 4 = 16$
C) $2 \times 7 = 21$

9. Şimdi saat 16.15'tir. 3 saat sonra saat kaç gösterir?
A) 18.15
B) 19.15
C) 20.15

10. 10 tane 5 lira, 2 tane 20 liradan kaç fazladır?
A) 10 B) 25 C) 20

11.



Dünya'nın kendi etrafında dönmesi sonucu oluşur.

Yukarıdaki açıklamanın sonucu aşağıdakilerden hangisidir?

- A) Mevsimler oluşur.
B) Gece - gündüz oluşur.
C) Yağmurlar oluşur.

12. Aşağıdakilerden hangisi Dünya'nın, Güneş etrafında dolanması sonucu **değildir**?
A) Mevsimler oluşur.
B) Deprem oluşur.
C) Bir yıl oluşur.

13. Okullar hangi mevsimde açılır?

A)



B)



C)



14. Aşağıdakilerden hangisi geceleri görünmez?

A)



B)



C)



CEVAP ANAHTARI

1 - A

6 - C

11 - B

2 - B

7 - A

12 - B

3 - C

8 - C

13 - C

4 - B

9 - B

14 - B

5 - A

10 - A