


## ARAŞTIRMA ÖDEVİ

Öğretmenim Sinem, araştırma ödevi verdi. Penguenleri araştıracaktık. Bu konu beni çok heyecanlandırdı. Eve gider gitmez araştırmama başladım. Biliyor musunuz? Penguenler bir zamanlar insan boyundalarmış. Bu bilgi beni çok şaşırttı. Bulunan fosillere göre dinazorlar döneminde penguenler yaşıyormuş ve boyları insan boyu kadarmış.

Penguenler yumurta ile çoğalıyormuş. Yumurta ku-  
luçka süresi boyunca babanın kesesinde duruyormuş.  
Anne penguen ise avlanmaya gidiyormuş.

Ben, penguenlerin kutuplarda yaşadığını bilirdim. Ama yanlışmışım. Bütün penguenler Güney Yarımküre'de yaşarlarmış. Yaşam alanları Güney Kutbu, Yeni Zelanda, Avustralya, Güney Amerika, Güney Afrika'ymış.

Araştırmamda üzücü bir bölümle karşılaştım. Penguenlerin nesillerinin tükenme tehlikesinde olduğunu öğrendim. İnsanlar, bu sevimli ve zararsız hayvanları neden öldürür ki?




**Etkinlik:** Aşağıdaki soruları metne göre cevaplayınız.

Yazarı  
en çok şaşırtan bilgi nedir?

Araştırma sırasında yazarı  
üzzen hangi bilgidir?

Penguenler, nasıl çoğalı-  
lıyormuş?


Penguenler, hangi ya-  
rım kürede yaşıyorlarmış?



**Etkinlik:** Penguenler hakkında araştırma yapınız. Elde ettiğiniz bilgileri kullanarak akrostiş çalışması yapınız.

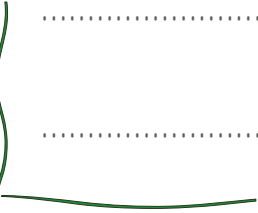


**Etkinlik:** Sevimli pengueni boyayınız.






**Etkinlik:** Evinde bir kuşa bakmak ister misin? Cevabınız evet veya hayır ise nedenlerini yazınız.



**Etkinlik:** Resmi boyayınız.



**Etkinlik:** Bir kuş resmi çiziniz.

**Etkinlik:** Aşağıdaki cümlelerin sonuna gelecek noktalama işaretlerini bulup boyayınız.

Erzurum'da toplantı yapıldı mı



Ey, Türk gençliği



Atatürk, Bandırma vapuru ile Samsuna gitti



Bandırma Vapuru'nun rengini biliyor musun



Eyvah, servisi kaçırdım



Kurtuluş Savaşı ne zaman başlamıştır



Orada kal, sakın buraya gelme



**Etkinlik:** Aşağıdaki görsellere uygun, yanındaki noktalama işaretlerini kullanarak cümleler yazınız.



.....

.....



.....

.....



.....

.....



.....

.....



.....

.....



.....

.....



.....

.....




.....

.....



**Etkinlik:** Aşağıdaki kelimeleri alfabetik sıralamaya uygun olarak yapıştırınız.  
Görseli boyayınız.



- 1
- 2
- 3
- 4
- 5
- 6
- 7
- 8
- 9
- 10
- 11
- 12

mayıs

bahar

doğa

saksı

cümle

bitki

doğal

anne

grafik

zebra

anahtar

uzak












**Etkinlik:** Aşağıdaki görselleri tekil ve çoğul olma durumlarına göre uygun yerlere yapıştırınız.

TEKİL KELİMELER

ÇOĞUL KELİMELER
















**Etkinlik:** Tabloda verilen fiyatlara göre siparişlerin kaç lira tuttuğunu hesaplayınız.


 <p>Sıcak çikolata 7 TL</p>	 <p>Çorba 12 TL</p>	 <p>Patates kızartması 6 TL</p>
 <p>Süt 5 TL</p>	 <p>Hamburger 18 TL</p>	 <p>Kurabiye 2 TL</p>
 <p>Meyve suyu 4 TL</p>	 <p>Tost 3 TL</p>	 <p>Pasta 8 TL 25 Kr</p>




Siparişler



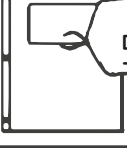



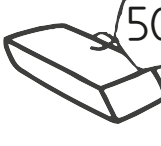


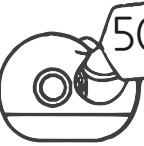
Fiyatlar






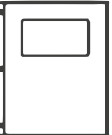













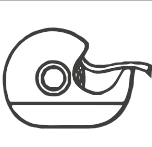






 	..... + ..... = .....
 	..... + ..... = .....
  	..... + ..... + ..... = .....
  	..... + ..... + ..... = .....
  	..... + ..... + ..... = .....




**Etkinlik:** Tabloda yazan fiyatlara göre aldığım ürünlerin fiyatlarını hesaplayınız. Görselleri boyayınız.



 60 Kr	 1TL 50Kr	 2TL 50Kr	 50 Kr	 3TL 50Kr
 50 Kr	 50 Kr	 4TL 50Kr	 50 Kr	 50 Kr

  =	   =
  =	  =
  =	 =
  =	  =
  =	  =
   =	   =

**Etkinlik:** Aşağıdaki soruları görsele göre yanıtlayınız.



✓ 2 kg + 3 kg =

✓ 3 kg + 4 kg =

✓ 1 kg + 2 kg =

✓ 5 kg + 2 kg =

✓ 3 kg + 2 kg =

✓ 4 kg + 2 kg =

✓ 2 kg + 2 kg + 2 kg =

✓ 4 kg + 5 kg =

✓ 8 kg + 5 kg + 4 kg =

✓ 7 kg + 2 kg =

✓ 1 kg + 1 kg + 7 kg =

**Etkinlik:** Aşağıdaki problemleri çözünüz.



**1** Eda, saat ve ayakkabı için kaç TL ödemiştir?

Grid area for solving problem 1.

**2** Ayakkabı alan Osman, satıcıya 1 adet 50 TL 1 adet 10 TL verdiği göre satıcı, Osman'a kaç TL para üstü vermiştir?

Grid area for solving problem 2.

**3** 100 lira paranız olsaydı hangi ürünleri satın alırdınız?

Grid area for solving problem 3.

**4** Sinan, kumbarasında 85 TL biriktirdi. Biriktirdiği paranın 35 lirası ile kitap aldı. Sinan'ın kumbarasında kaç TL kalmıştır?

Grid area for solving problem 4.

**5** Haftalık kumbarasına 10 lira para atan Özlem'in 50 liralık elbiseyi alabilmesi için kaç hafta para biriktirmesi gerekmektedir?

Grid area for solving problem 5.

**6** Cem, kumbarasını açtığında 4 tane 10 TL, 6 tane 5 TL, 12 tane 1 TL para çıkmıştır. Cem, kumbarasında kaç TL para biriktirmiştir?

Grid area for solving problem 6.

**Etkinlik:** Aşağıdaki problemleri çözünüz.



Bayramda 55 lira topladım. Her ay bu paranın üzerine 15 lira ekliyorum.

Faruk, 2. ayın sonunda kaç lira biriktirmiştir?

**Çözüm :**



Cüzdanımda 80 lira param var.

Mine Hanım, bir çanta ve iki şapka alırsa kaç lirası kalır?

**Çözüm :**



₺ 28



₺ 12



Kumbaramda 32 lira var. Kumbarama bir miktar para koyunca 50 liram oldu.

Buna göre Seray, kumbarasına kaç lira koymuştur?

**Çözüm :**



İstedğim kazağı alabilmek için biriktirdiğim 18 lira yetmedi.

Babası, Selvi'ye 14 lira daha verince kazağı alabiliyor. Buna göre kazak kaç liradır?

**Çözüm :**



Kumbaramda 36 lira birikmiş. Defne, Çağatay'dan 7 lira daha az para biriktirdiğine göre ikisi toplam kaç lira biriktirmiştir?

**Çözüm :**



Tanesi 8 lira olan kitaplardan 3 tane aldım.

Satıcıya 50 lira ödeyen Duru, kaç lira para üstü alır?

**Çözüm :**

**Etkinlik:** Aşağıdaki problemleri çözünüz. Çözdüğünüz soruların uçurtmalarını işaretleyiniz.

**1** Serap, kumbarasındaki 24 liranın yarısı ile kitap alınıyor. Serap'ın geriye kaç lirası kalmıştır?



**2** Hasan'ın 30 lirası vardır. Tanesi 5 lira olan kurabiyelerden kaç tane alabilir?



**3** 45 liralık bir ürüne 15 liralık bir indirim uygulayan bir satıcı ürünü kaç ₺'ye satmıştır?



**4** Bir düzinesi 24 TL olan kalemlerden 3 deste alırsam kaç TL para ödemiş olurum?



**5** Pazartesi günü, kumbarasında 22 TL olan Meral, cuma günü kumbarasını açtığına 50 TL para çıkıyor. Meral, bu süre içerisinde kumbarasına kaç TL para atmıştır?



**6** Tanesi 25 kuruş olan sakızlardan 4 tane, tanesi 10 kuruş olan şekerlerden 10 tane alan Tülin satıcıya kaç TL vermiştir?




**7** Tanesi, 1 lira olan çikolatadan 3 tane, tanesi 50 kuruş olan şekerden ise 6 tane alan Şule, satıcıya 10 lira vermiştir. Satıcı Şule'ye kaç lira para üstü vermiştir?



**Etkinlik:** Çetele tablosu verilen kuru pastaların şekil grafiğini, görselleri kesip yapıştırarak oluşturunuz.

Sevilen kuru pastaların çetele tablosu











	
	
	
	












**Etkinlik:** Aşağıdaki şekil grafiklerine göre soruları yanıtlayınız.

➤ Hangisi daha azdır? İşaretleyiniz.

Zürafa						
Timsah						





➤ Hangisi daha fazladır? İşaretleyiniz.

Fil						
Kedi						


➤ Hangisi daha fazladır? İşaretleyiniz.

At						
Arı						





➤ Hangisi daha azdır? İşaretleyiniz.

Horoz						
Penguen						

**Etkinlik:** Çocukların resmini yapmayı sevdiği görsellere göre boşlukları ya-  
nıtlayınız.




Çetele Tablosu


	
	
	
	

10  
9  
8  
7  
6  
5  
4  
3  
2  
1




Fazla olanı boyayınız.



Az olanı boyayınız.













2. sırada beğenileni  
boyayınız.



**Etkinlik:** Çocukların en sevdiği etkinliklere göre boşlukları tamamlayınız.



### Şekil Grafiği

Çetele Tablosu		7					
		6					
		5					
		4					
		3					
		2					
		1					
							

**Etkinlik:** En sevilen köpek cinslerine göre boşlukları doldurunuz.



**Etkinlik:**  
Sayılarını  
yazınız.



Şekil grafiği


$$\text{White dog with brown spots} + \text{Brown dog} =$$

$$\text{Brown dog} + \text{Small brown dog with large ears} =$$


$$\text{White dog with brown spots} + \text{Brown dog} + \text{Small brown dog with large ears} =$$

Köpek türleri	Sayıları

**Etkinlik:** En çok beğenileni yuvarlak içine alınız.



**Etkinlik:** Hayvan barınağındaki hayvanların görsellerinden yararlanarak çetele tablosunu, sıklık tablosunu ve şekil grafiğini doldurunuz.



Hayvan Barınağındaki Hayvanların Sıklık Tablosu

Böcek	4
Balık	
Kuş	
Kedi	
Köpek	


Hayvan Barınağındaki Hayvanların Çetele Tablosu




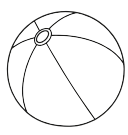

Böcek	
Balık	
Kuş	
Kedi	
Köpek	

Hayvan Barınağındaki Hayvanların Nesne Grafiği


Böcek	
Balık	
Kuş	
Kedi	
Köpek	

**Etkinlik:** Görseldeki nesnelere sayıp sıklık tablosunu ve şekil grafiğini tamamlayınız.



Şekil Grafiği



**Etkinlik:** En sevilen evcil hayvanların çetele tablosunu, sıklık tablosunu ve şekil grafiğini tamamlayınız.



Çetele Tablosu Sıklık Tablosu

	Çetele Tablosu	Sıklık Tablosu
Kedi		
Köpek		
Balık		
Papağan		

► En fazla sevilen evcil hayvan hangisidir?

.....

► En az sevilen evcil hayvan hangisidir?

.....

► Toplam kaç tane evcil hayvan vardır?

.....

► Köpekler kedilerden kaç fazladır?

.....

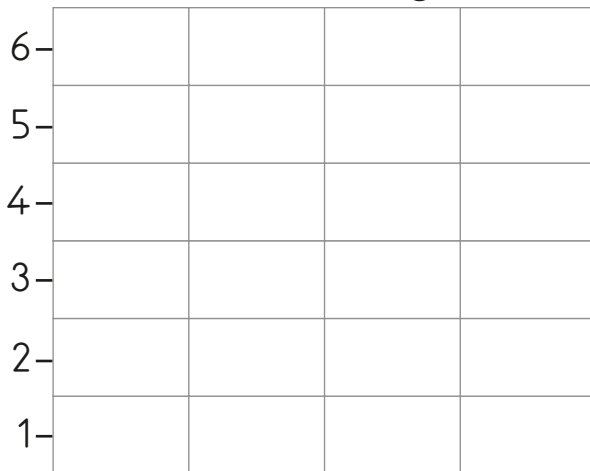
► Hangi hayvanların sayısı birbirine eşittir?

.....


► Hayvanların toplam sayısı kaçtır?

.....

Şekil Grafiği



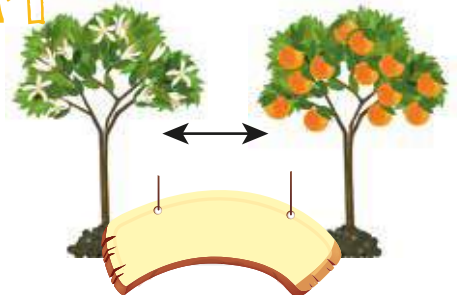
**Etkinlik:** Görsellerin altlarına isimlerini yazınız.



**Etkinlik:** Aşağıdaki görsellerin altlarına isimlerini yazınız.



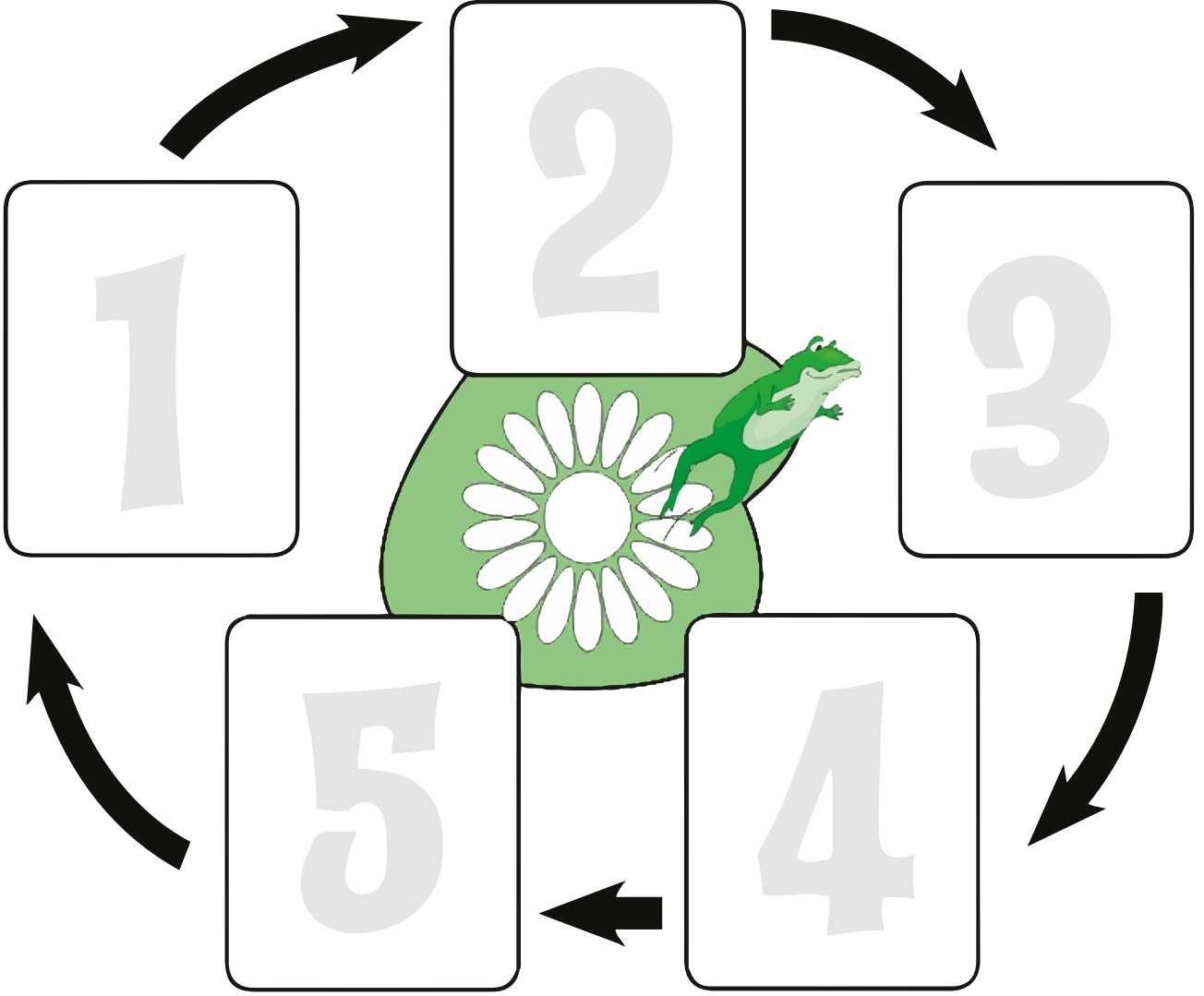
bitkilerin  
ihtiyaçları





**Etkinlik:** Kurbağanın oluşum aşamalarını sırasıyla kesip yapıştırınız.

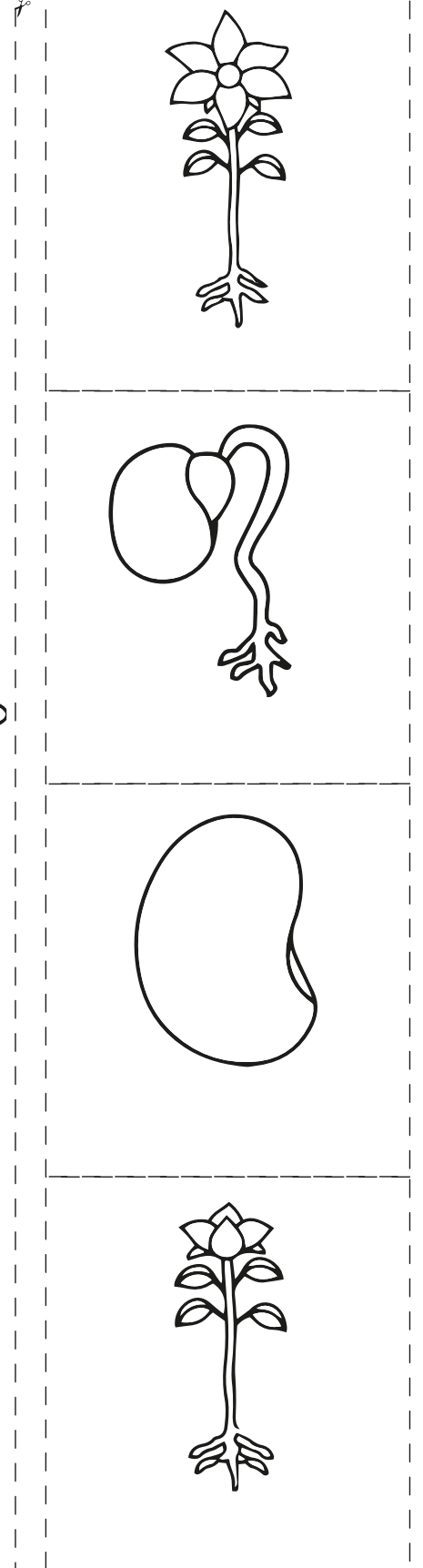
## KURBAĞANIN GELİŞİMİ



**Etkinlik:** Bitkinin oluşum aşamalarını kesip uygun yerlere yapıştırınız.

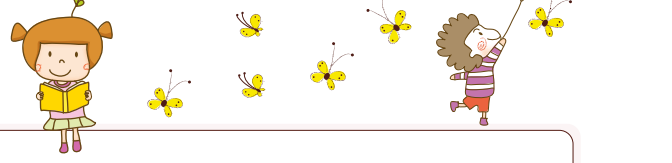


1	2
3	4

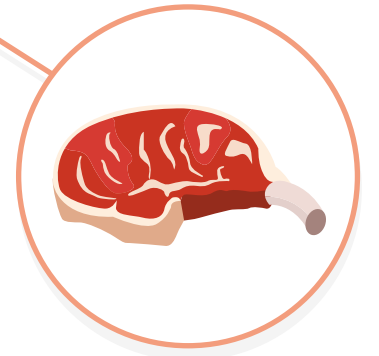



Bitki ve Hayvanların İhtiyaçları


**Etkinlik:** Bitkilerin gelişimini aşağıdaki alana yazarak anlatınız.



**Etkinlik:** Hayvanların ihtiyaçlarını belirleyiniz. Görsellerin altına isimlerini yazınız.



**Etkinlik:** Noktalı yerlerden kesip orta alanı çıkarınız. Görselin arkasına ağzı açık kalacak şekilde poşet yapıştırınız. İçine ince tabaka halinde pamuk, pamuğun içine de tohum yerleştiriniz. Gelişimini ve bakımını takip ediniz.



### Güvercin ile Karınca

Bir gün karınca dereye düşmüştür. Kurtulmak için çırpınırken oradan geçen bir güvercin karıncaya acımış. Gagasına aldığı çöpü uzatıp onu sudan kurtarmış.

Başka bir gün ormana bir avcı gelmiş. Güvercini vurmak istiyormuş. Bunu gören karınca, avcının ayağını ısırılmış. Tüfek, avcının elinden düşmüş.

Böylece karınca da güvercinin hayatını kurtarmış.

Aşağıdaki ilk dört soruyu okuma parçasına göre cevaplayınız.

1. Metninde geçen kahramanlar hangileridir?

- A) Avcı, geyik, dere  
B) Güvercin, küçük kız, çöp  
C) Karınca, güvercin, avcı

2. Avcının elinden düşen nedir?

- A) Tüfek  
B) Olta  
C) Matara

3. Metnin kurgusuna göre güvercin ile karınca yerine aşağıdaki hayvanlardan hangileri yazılabilirdi?

- A) Su aygırı ile zürafa  
B) Martı ile sinek  
C) Fil ile tavuk

4. Karınca dereye nasıl kurtulmuş?

- A) Yüzerek taşın üstüne çıkmış.  
B) Avcının yardımıyla  
C) Güvercinin uzattığı çöpe tutunarak.

5. Aşağıdaki kelimelerden hangisinin eş anlamlısı yoktur?

- A) Giysi B) Senin C) Kırmızı

6. havalara haberi uçtum duyunca



Yukarıdaki kelimelerden anlamlı ve kurallı cümle oluşturulursa sıralama nasıl olur?

- A) B)   
C)

7.



Aldığım Türkçe kitabı hikâye kitabından 4 lira pahalı, Matematik kitabından 2 lira ucuzdur.

Cemre Matematik kitabını 24 liraya aldığına göre; bütün kitaplar için kaç lira ödemiştir?

- A) 64 lira                      B) 72 lira  
C) 74 lira

8. Emre'nin 5 tane 5 lirası, 3 tane 10 lirası vardır. Emre'nin toplam kaç lirası vardır?

- A)                      B)                      C)



9. Ayça'nın 1 tane 20 TL'si ve 7 tane 1 TL'si vardır. Ayça bu paranın bir kısmını harcıyınca geriye 19 TL'si kalıyor. Acaba Ayça kaç TL harcamıştır?

- A)                      B)                      C)



Gül	
Karanfil	
Lale	

Yukarıda 2-H sınıfındaki öğrencilerin sevdiği çiçeklere ait çetele tablosu verilmiştir.

10 ve 11. soruları çetele tablosuna göre cevaplayınız.

10. 2-H sınıfında laleyi sevenlerin sayısı, gül ve karanfil sevenleri toplam sayısından kaç eksiktir?

- A) 8                      B) 10                      C) 12

11. ● 2-H sınıfındaki kızların sayısı  
▲ 2-H sınıfındaki öğrenci sayısı  
★ 2-H sınıfında karanfil seven erkeklerin sayısı

Çetele tablosundan yararlanarak yukarıdaki bilgilerden hangilerine ulaşamayız?

- A) ● ★                      B) ● ▲                      C) ▲ ★

12. "Bir bakkalda gün içinde 14 şişe süt, 7 şişe gazoz, 13 şişe su satılmıştır."

Yukarıdaki bilgileri kullanarak oluşturulacak çetele tablosu hangi seçenekteki gibidir?

A)

İçecekler	Sayısı
Süt	
Gazoz	
Su	

B)

İçecekler	Sayısı
Süt	
Gazoz	
Su	

C)

İçecekler	Sayısı
Süt	
Gazoz	
Su	

13. Bitkiler uzun süre ..... kalırsa kurur.

Yukarıdaki cümleyi hangi kelimeyle tamamlayabiliriz?

A) şekersiz B) susuz C) kuşsuz

14. Aşağıdaki ifadelerden hangisi yanlıştır?

- A) Toprağın içinde hava vardır.  
B) Hayvanların bazıları doğurarak bazıları yumurtlayarak çoğalır.  
C) Doğadaki canlıların yaşamları birbirine bağlı değildir.

15.



Yukarıdakilerden hangileri hayvanların yaşamlarını sürdürebilmeleri için gereklidir?

- A)   
B)   
C)