

Etkinlik: "19 Mayıs" şiirini güzel bir şekilde okuyup güzel bir şekilde defterinize yazınız.

19 MAYIS

Yurdu düşmanlar sardı,
Güneşimiz karardı.
Ninelerin gözleri
Birer kanlı pınardı.



Serin bahar meltemi,
Gibi beyaz bir gemi,
Samsun'a demir attı.
Göklerimiz ağardı.



Bu gemide inanan,
Yurda şan, millete şan;
Büyük, eşsiz kahraman
Mustafa Kemal vardı.



M. Necati ÖNGAY



Etkinlik: Aşağıdaki soruları "19 Mayıs" şiirine göre cevaplayınız.

➔ Ninelerin gözleri nasılmış?

.....

➔ Beyaz bir gemi nereye demir atmış?

.....

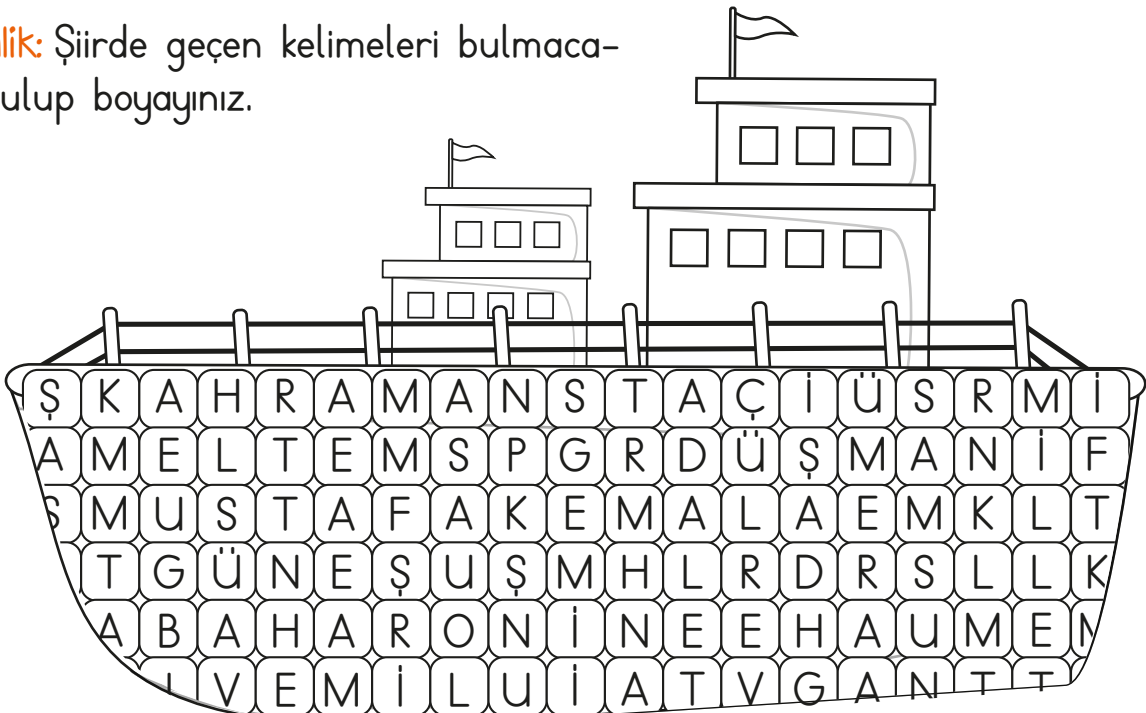
➔ Bu gemide kim varmış?


.....

➔ 19 Mayıs tarihi, milletimiz için neden önemlidir? Araştırıp yazınız.

.....
.....
.....

Etkinlik: Şiirde geçen kelimeleri bulmacada bulup boyayınız.





Bugün On
Dokuz Mayıs
Atatürkü Anma
Gençlik ve Spor
Bayramı


Atatürk'ün
Doğum
Günü

Kurtuluş
Şavaşı'nı
Başlattı.


Atatürk
Samsun'a
Çıktı.

On
Dokuz Mayıs
Bin Dokuz Yüz
On Dokuz


Etkinlik: Görselle ilgili olan uygun cümleyi bulup boyayınız.




Bazı insanlar sebzelerini kendi bahçelerinde yetiştirirler.




Manavlar çeşitli sebzeler satar.




Bahçelerde bolca suya ihtiyaç vardır.




Uçakların iki tane büyük kanadı vardır.




Her uçakta bir pilot iki hostes bulunur.




Uçaklar çok fazla yolcu taşıyabilir.




Sağlıklı yaşam için spor yapmalıyız.




Yeni bir yere giderken haritalardan yararlanırız.




Çocuklar parkta çok eğlenirler.



Bal kabakların çok çeşitli büyüklükleri vardır.




Çocuklar sonbaharda bal kabağı toplar.



Bal kabakları ağaçlarda yetişir.

Etkinlik:

Resmi
inceleyiniz.
Resme
uygun
olarak
hikaye
yazınız.
Boyayınız.



.....

.....

.....

.....

.....

.....

.....

.....

.....

.....



Özel isimleri yazarken
dikkat ettim.



Hikayemi yazarken oluş
sirasına dikkat ettim.



Özel isimleri dikkatli
yazmadım.



Hikayemi yazarken oluş
sirasına dikkat etmedim.

Etkinlik: Karışık olarak verilen kelimelerle cümle oluşturup yazınız.

| | | | |
|---|---------------------------|---|-------------------------|
| <p>1</p>  <p>var kanatlarımın beneklerim</p> | <p>siyah üzerinde</p> | <p>4</p>  <p>musun? tanıyor Beni</p> | |
| <p>2</p>  <p>öğreniyorum yetiştirmeyi</p> | <p>bitki</p> | <p>5</p>  <p>çizgileri zebraların beyaz</p> | <p>siyah vardır</p> |
| <p>3</p>  <p>yarışını kazandı kedi</p> | <p>mor koşu</p> | <p>6</p>  <p>öğrenebilir miyim yüzmeyi</p> | <p>acaba ben</p> |

1

2

3

4

5

6

Etkinlik: Cümlelerdeki kelimelerden yanlış yazılanın altını çizip doğrusunu karşısına yazınız.


Evimiz kalorfer ile ısınıyor.



Hayat bilgisi konularını gurup ile paylaştık.



Kardeşim cimnastik kursuna başladı.



Kalemtıraşımı kaybettim.



Otobüzle seyahat etmek istiyorum.



Babam ünüversiteden mezunmuş.



Telefizyonda bilgi yarışması izledik.



Kabalalık yerlerde dolaşmamalıyız.



Pilanımıza göre hareket edelim.



Müzük kulağımın iyi olduğunu söyledi.



Dün gece tolu yağdı.



Herkeşler bize geldi.



Pazardan şefteli aldık.



Köyde dıraktörün kasasına bindim.



Etkinlik: 1 liraya eşit olacak şekilde madeni paraları uygun yere yapıştırınız.

|  1 lira |  Yarısı 50 kuruş |  Çeyreği 25 kuruş |  10 kuruş |  5 kuruş |
|---|---|--|---|--|
| | | | | |



Etkinlik: Aşağıdaki paraları inceleyiniz. Uygun yerlere yapıştırınız.


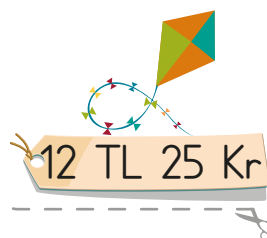
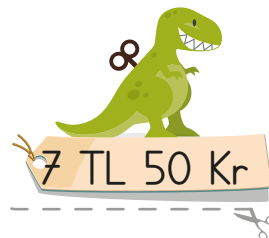

Kağıt Paralarımız



Madeni Paralarımız



Etkinlik: Paraları sayınız. Saydığınız paralarla aşağıdakilerden hangisini alabiliyorsanız kesip paranın karşısına yapıştırınız.



Etkinlik: Cüzdanlardaki paraları hesaplayıp altlarına yazınız.



1 TL



Etkinlik: Kumbaralarda kaç para olduğunu hesaplayıp doğru miktarı boyayınız.



25 Kr 30 Kr 40 Kr



1 Kr 50 Kr 10 Kr



75 Kr 1 TL 50 Kr



2 TL 1 TL 3 TL
50 Kr 70 Kr 50 Kr



3 TL 2 TL 5 TL



75 Kr 1 TL 2 TL
50 Kr



1 TL 1 TL 80 Kr
25 Kr








25 Kr 15 Kr 30 Kr



95 Kr 1 TL 1 TL
15 Kr 40 Kr

Etkinlik: Aşağıdaki çocukların, kaç paraları olduğunu hesaplayınız.



Etkinlik: Aşağıdaki paraları hesaplayınız. Hangi ürünü bu parayla alabiliyorsanız boyayınız.





 8 TL

 12 TL





 3 TL 50 Kr

 7 TL





 5 TL 50 Kr

 2 TL 50 Kr





 8 TL

 2 TL 25 Kr










 9 TL

 3 TL 75 Kr

Etkinlik: Verilen paraları hesaplayınız. Paraları karşılaştırarak aralarına uygun işareti koyunuz.



- $>$ → büyüktür
- $<$ → küçüktür
- $=$ → eşittir



Etkinlik: Hediye paketlerini alan kişilere ne kadar para üstü verileceğini hesaplayınız.



15 TL



27 TL




58 TL



65 TL



99 TL



82 TL




46 TL



Etkinlik: Aşağıda çocukların paraları ile almak istedikleri ürünler verilmiştir. İstediklerini alabilmek için ne kadar paraya ihtiyacı olduğunu hesaplayınız.



..... liraya ihtiyacı var.



..... liraya ihtiyacı var.



..... liraya ihtiyacı var.



..... liraya ihtiyacı var.

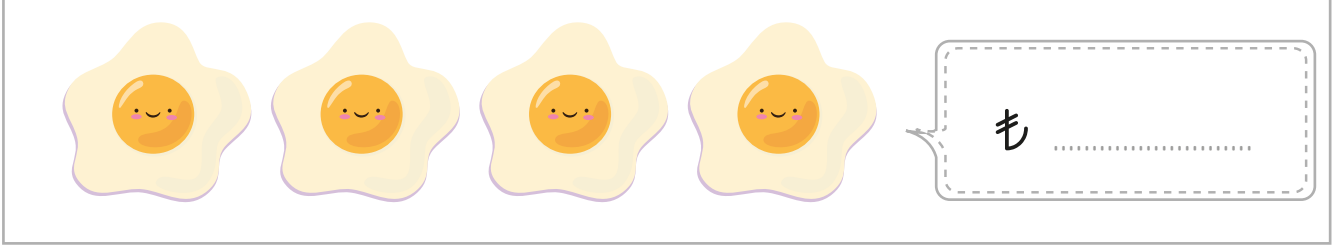



..... liraya ihtiyacı var.



..... liraya ihtiyacı var.

Etkinlik: Tabloda verilen fiyat listesine göre ürünlerin toplam fiyatını hesaplayınız.




Etkinlik: Aşağıdaki görselleri inceleyiniz. Uygun olduğu üretim bölümüne yapıştırınız.

tarım

hayvancılık

sanayi



Etkinlik: Aşağıdaki ifadelerden doğru olanların başına "D" yanlış olanların başına "Y" yazınız.

- İnsanlar, bazı ihtiyaçlarını gidermek için üretim yaparlar.
- İsteddiğimiz her ürünü tüm bölgelerimizde yetiştirebiliriz.
- Portakal ılık hava koşullarını sevdiği için Doğu Anadolu Bölgesi'nde yetiştirilebilir.
- Arı yetiştiriciliği hayvancılığın bir koludur.
- Ülkemizde üretim çeşitliliğinin sebeplerinden birisi de farklı bölgelerde farklı iklim şartlarının yaşanmasıdır.
- Turizm yönünden ülkemiz çok uygun bir yer değildir.
- Çay tarımı Rize ilimizin simgesi haline gelmiştir.

Etkinlik: Aşağıdaki ürünleri yetiştirildikleri illerle eşleştiriniz. Sayılara karşılık gelen harfleri yazarak şifreyi çözünüz.

1. Şeftali
2. Çay
3. Karpuz
4. Fındık
5. Elma
6. Portakal

- M Antalya
- R Rize
- E Diyarbakır
- T Giresun
- i Amasya
- Ü Mersin

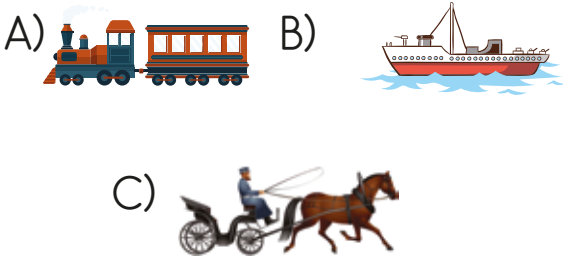
ŞİFRE  1 2 3 4 5 6

19 MAYIS

Bugün milli bayramlarımızdan birini kutluyoruz. Düşmanların ülkemizi ele geçirdiklerinde Atatürk, Bandırma Vapuru ile İstanbul'dan Samsun'a gitmiş. Böylece Kurtuluş Savaşı başlamış. Kurtuluş Savaşı'nın başladığı 19 Mayıs tarihini "Atatürk'ü Anma Gençlik ve Spor Bayramı" olarak kutluyoruz.

İlk üç soruyu okuma metnine göre cevaplayınız.

1. Atatürk hangi taşıt ile seyahat etmiş?



2. Atatürk'ün Samsun'a gitmesiyle hangi savaş başlamış?

- A) Deniz Savaşı
B) Ankara Savaşı
C) Kurtuluş Savaşı

3. Atatürk, İstanbul'dan nereye gitmiş?

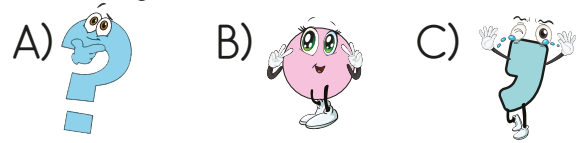
- A) Samsun B) Erzurum
C) Ankara

4. Aşağıdakilerden hangisinde kelimelerin tamamı tekil isimdir?

- A) kalem, kiler, çanta
B) çiçekler, kapı, rujlar
C) kağıtlar, yaprak, sepet

5. Arkadaşlarım Ayten () Özlem ve Beril ile gezmeye gideceğiz.

Yukarıdaki cümlede () parantezin yerine hangi noktalama işareti gelmelidir?

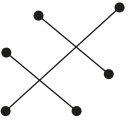





6. Aşağıdaki cümlelerden hangisinin sonuna "?" gelmez?


- A) Akşam sahile gidecek miyiz
B) Spor yapınca mutlu oluyorum
C) Beğendiğin sarı eteği aldın mı

7. 
- 30 TL
 - 70 TL
 - 4 TL

Yukarıdaki eşleştirmeleri yaptığımızda aşağıdakilerden hangi şekil oluşur?

- A)  B)  C) 

8.  Yandaki kumbarada kaç liram vardır?
- A) 74TL B) 85TL C) 87TL

9.  Cüzdanımda kaç liram vardır?
- A) 1TL 25Kr B) 1TL 75Kr
C) 1TL 50Kr


10. 100 TL'nin içinde kaç tane 5 TL vardır?
- A) 50 tane B) 25 tane
C) 20 tane

11. 

Yukarıdakilerden hangileri ülkemizde yapılan üretim faaliyetlerindendir?

- A)  B) 
C) 

12. Aşağıdakilerden hangisi hayvancılıkla uğraşan bir kişinin elde ettiği ürün olamaz?
- A) Bal B) Yumurta
C) Pancar

13.  Ülkemizin batı bölgesinde zeytincilik gelişmiştir.

Yukarıdaki bilgiye göre aşağıdakilerden hangisini söyleyebiliriz?

- A) Batı bölgemizde zeytinyağı üretimi vardır.
B) Batı bölgemizde üzüm de yetişir.
C) Demir - çelik fabrikaları iyi çalışır.



