


2020-2021

2. Sınıf

2020-2021

5N 1K

Okuma - Anlama



15 TL

**OKUMA-ANLAMA
KİTABI**



**80
Sayfa**

YAKINDA!!

2. Sınıf

**SORU
BANKASI**



30 TL

2. Sınıf

**HAFTASONU
ÇALIŞMALARI**



17,5 TL

2. Sınıf

**İNGİLİZCE
Worksheets
Test Book**



20 TL



Destek Hattı
0(543) 724 96 90



Sosyal Medya Hesaplarımızı
ziyaret ettiniz mi?

SİPARİŞ ve İncelemek için | www.ogretmenevdesatis.com

ACI BİBER İLE TATLI BİBER

Bir zamanlar sebzeler diyarında yaşayan iki biber kardeş vardı. Acı biber ile tatlı biberdi. Tatlı biber, bütün sebzeler tarafından çok sevilirdi. Dili de pek tatlıydı. Fakat kardeşi acı biber, tatlı biber gibi değildi. Aramızda kalsın acı biberin hiç arkadaşı da yoktu.

Acı biber ile tatlı biberin doğum günü 5 Nisan'dı. Anneleri dolma biber çocuklarına doğum günü partisi yapmaya karar verdi. Doğum gününe şımarık havucu, küskün patlıcanı, kendini beğenmiş brokoliyi, çok bilmiş domatesi ve en yakın arkadaşı kabağı çağırdı. Sebzeler çok mutluydular. Hepsi dolma biberin evine gittiler. Kapıyı acı biber açtı. Acı biber, kapıyı açar açmaz havuca: "Neden geldiniz?" diye çıkıştı. Tatlı biber, acı biberi uyardı: "Evimize gelen misafirlere: "Hoş geldiniz demeliyiz", dedi. Bütün sebzeler, acı biberin bu sözüne üzüldüler. En çok havuç üzüldü. Sebzeler, tatlı biberin en mutlu gününde yanında oldukları için yine de eğlendiler. Sebzeler kocaman, pembe pastayı kestiler ve afiyetle yediler. Sıra, hediyeleri vermeye geldi. Bütün sebzeler, tatlı bibere hediye almışlar ama acı bibere kimse hediye almamış. Acı biber, hatasını anladı. O günden sonra sebzeler diyarında asla hiçbir sebzeyle acı konuşmadı.



Handan SABAN

Etkinlik: Aşağıdaki soruları metne göre cevaplayınız.

○ Acı biber ile tatlı biberin anneleri kimdir?

.....

○ Sebzeler nerede yaşıyorlar?

.....

○ Acı biber ile tatlı biberin doğum gününe kimler katıldı?

.....

○ Sebzeler, neden acı bibere hediye almamışlar?

.....

○ Acı biber, evine gelen misafirlere nasıl davranmış?

.....

○ Tatlı biberin kişiliği nasıldır?

.....

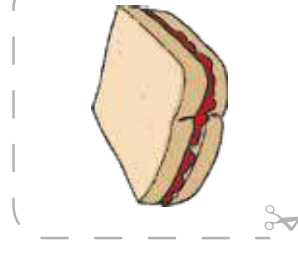
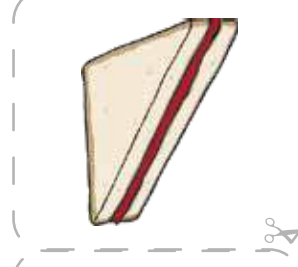


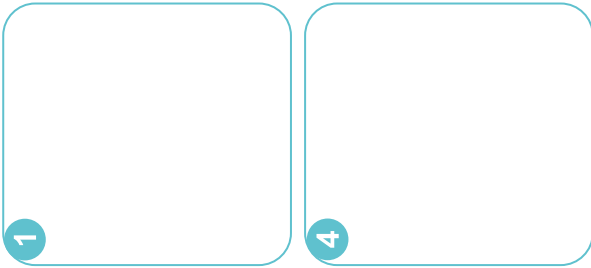



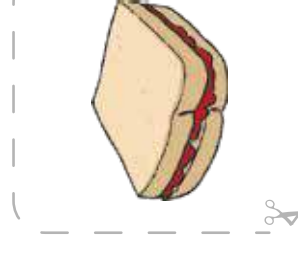






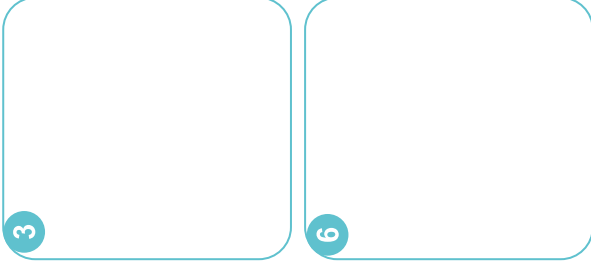
○ Pasta hangi renktir?

.....

○ Misafirperver ne demektir? Örnek veriniz.

.....
.....

Etkinlik: Aşağıdaki görselleri oluş sırasına göre sıralayıp yapıştırınız.




Etkinlik: Görsellere uygun olarak tost yapma aşamalarını sırasıyla yazınız.

TOST YAPALIM

Malzemeler:







Kütüphaneye gitmek ister misin?
Neden?

Etkinlik: Resmi boyayınız.

Etkinlik: Kitaplarla ilgili resim çiziniz.



Etkinlik: En sevdiğin tostü nasıl yaptığını tarif eder misin? Görselleri boyayınız.



önce

sonra

en sonunda

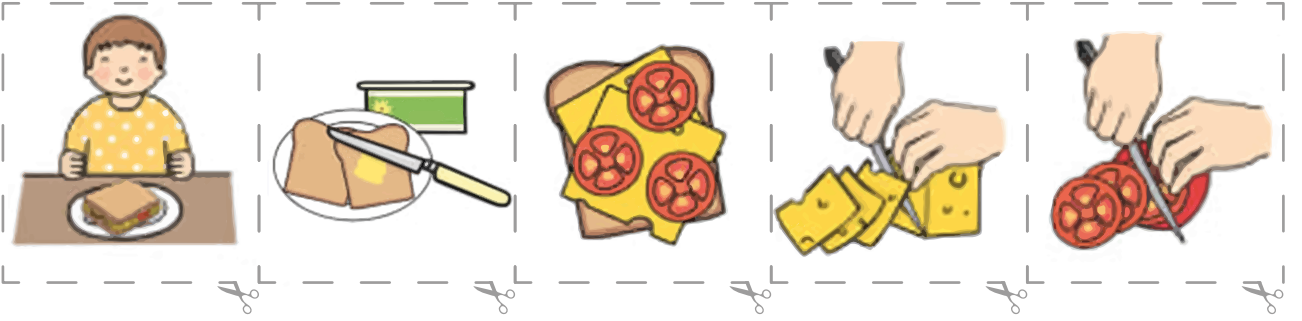
Etkinlik: Tostun yapılış aşamalarına uygun olarak görselleri yapıştırınız.

Peynirli tost nasıl yapılır?

Öncelikle iki tane tost ekmeği alıyoruz. Sonra herbirinin içine tereyağ sürüyoruz. Daha sonra ekmeğin arasına ince dilimlenmiş domates ve peynir koyuyoruz. En sonun da afiyetle yiyoruz.



--	--	--	--	--



Etkinlik: Tost yapma aşamasını şimdi de siz yazınız.

<p>.....</p> <p>.....</p> <p>.....</p> <p>.....</p> <p>.....</p>
--

Etkinlik: 1. bölüme başlıklara uygun olarak siz şekil çizersiniz. 1 numaranın üstüne 2'yi, 2'nin üstüne 3 numarayı yapıştırıp açılır pencereler açınız.

3

BÜTÜN

YARIM

ÇEYREK


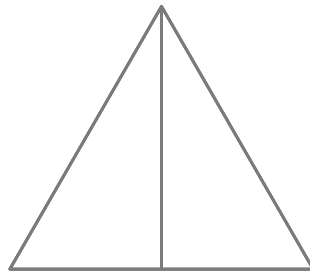

1

yapıştırınız.

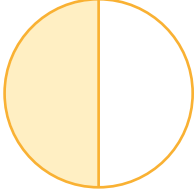


2


yapıştırınız.




Etkinlik: Aşağıdaki şekillerin boyalı kısımlarına göre bütün, yarım ve çeyrek yazılarını kesip yapıştırınız.



yapıştırınız.




yapıştırınız.




yapıştırınız.



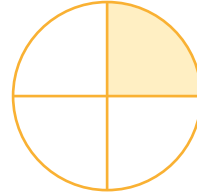
yapıştırınız.



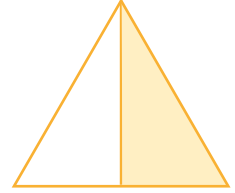
yapıştırınız.




yapıştırınız.



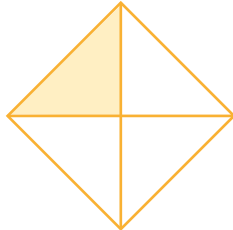
yapıştırınız.



yapıştırınız.




yapıştırınız.



yapıştırınız.



yapıştırınız.



yapıştırınız.



bütün

bütün

bütün

bütün

yarım

yarım

yarım

yarım

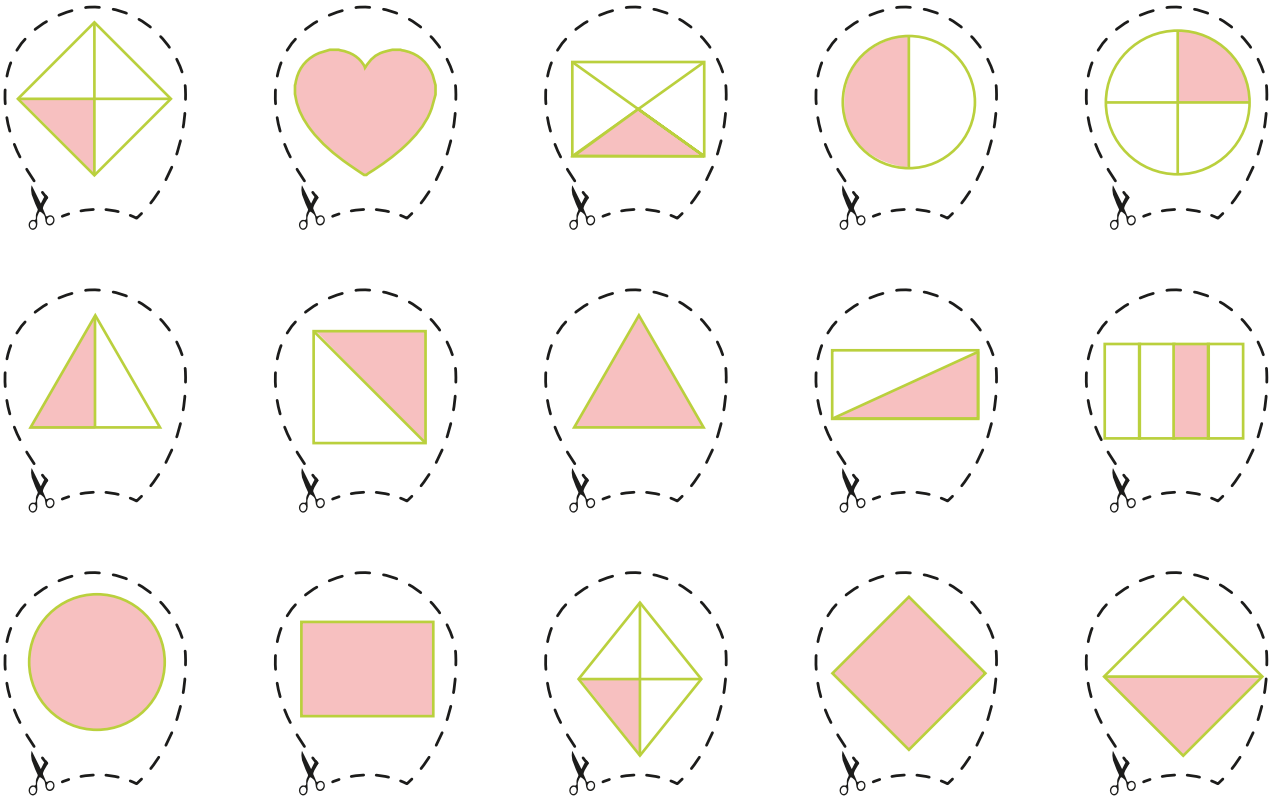
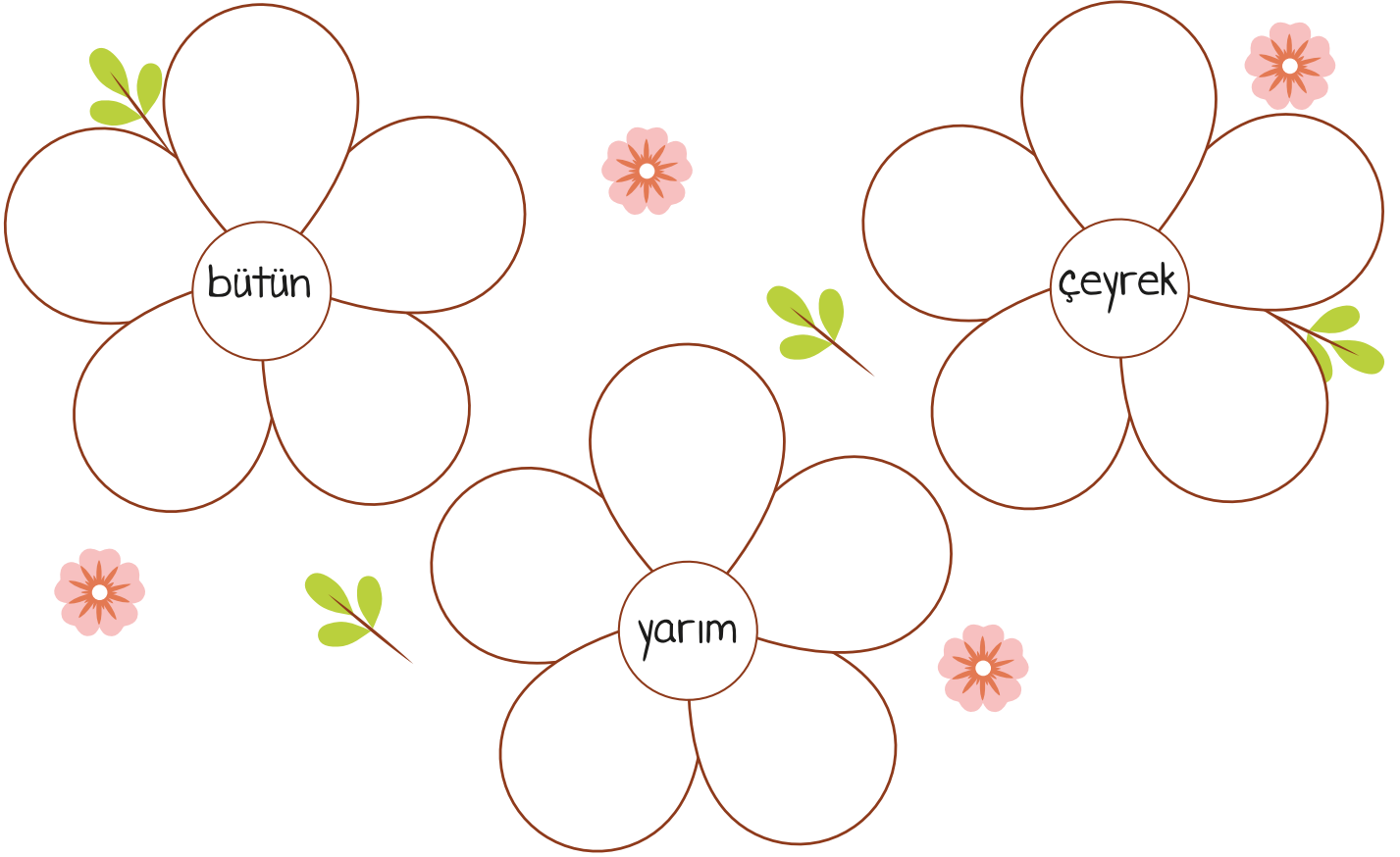
çeyrek

çeyrek

çeyrek

çeyrek


Etkinlik: Verilen kesirleri uygun çiçeklerin yapraklarına yapıştırınız.



Etkinlik: Aşağıdaki görselleri kesip uygun alanlara yapıştırınız.


BÜTÜN

YARIM




YARIM

ÇEYREK

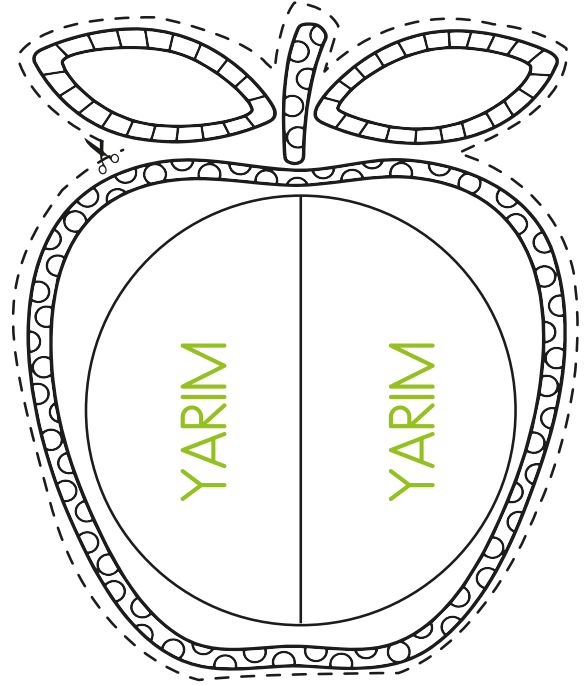


Etkinlik: Elmaları yaprak bölümlerinden sırasıyla çeyrek üstüne yarım, yarım üstüne bütünü yapıştırınız. Açılır pencereyi açarak bir bütünün kaç yarım ve kaç çeyrekten oluştuğunu çalışınız.

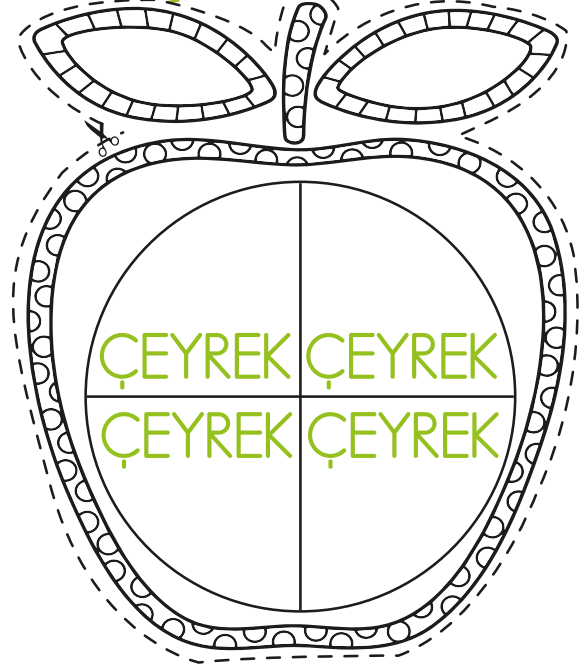
BÜTÜN



YARIM




ÇEYREK

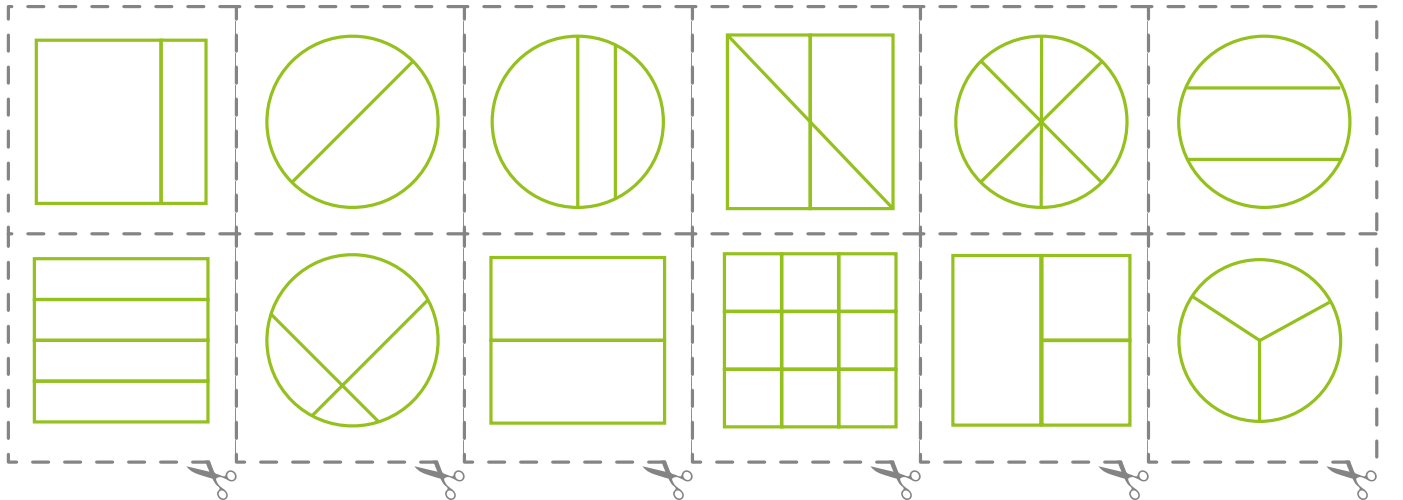



Etkinlik: Aşağıdaki şekilleri inceleyiniz. Uygun alanlara yapıştırınız.


Eşit bölünmüş şekiller




Eşit bölünmemiş şekiller




Etkinlik: Aşağıdaki bütünlerden kaç yarım elde ederiz? Yazınız.



..... bütün yarım eder.



..... bütün yarım eder.




..... bütün yarım eder.



..... bütün yarım eder.



..... bütün yarım eder.




..... bütün yarım eder.


Etkinlik: Aşağıdaki yarımlardan kaç bütün elde ederiz? Yazınız.




..... yarım bütün eder.




..... yarım bütün eder.



..... yarım bütün eder.



..... yarım bütün eder.




..... yarım bütün eder.




..... yarım bütün eder.

Etkinlik: Aşağıdaki çeyreklerden kaç yarım elde ederiz? Yazınız.




..... çeyrek yarım eder.



..... çeyrek yarım eder.



..... çeyrek yarım eder.



..... çeyrek yarım eder.



..... çeyrek yarım eder.



..... çeyrek yarım eder.

👉 Aşağıdaki çeyreklerden kaç bütün elde ederiz? Yazınız.



..... çeyrek bütün eder.



..... çeyrek bütün eder.




..... çeyrek bütün eder.



..... çeyrek bütün eder.




..... çeyrek bütün eder.




..... çeyrek bütün eder.


Etkinlik: Noktalı yerleri görsellere uygun olarak tamamlayınız.




..... bütün elma eder.




..... bütün elma eder.




..... yarım elma eder.




..... yarım elma eder.




..... bütün elma eder.




..... çeyrek elma eder.




..... yarım elma eder.



..... bütün elma eder.




..... bütün elma eder.




..... bütün elma eder.




..... yarım elma eder.




..... bütün elma eder.



..... çeyrek elma eder.





..... çeyrek elma eder.



..... bütün elma eder.

Etkinlik: Aşağıdaki kurabiyeleri uygun kavanozlara yapıştırınız.



Etkinlik: Çarkları üst üste getirip maşa raptiye ile birleştiriniz. Çarkı çevirip kesirleri eğlenceli öğrenebilirsiniz.

ÇEYREK

YARIM

BÜTÜN

burayı kesiniz.


$\frac{1}{4} + \frac{1}{4} = \frac{2}{4}$

çeyrek + çeyrek = yarım

$\frac{2}{4} + \frac{2}{4} = \frac{4}{4}$

yarım + yarım = bütün

Etkinlik: Çarkları üst üste getirip maşa raptiye ile birleştiriniz. Çarkı çevirip kesirleri eğlenceli öğrenebilirsiniz.



Etkinlik: Aşağıda verilen kodlara uygun olarak boyayınız

1	2	3	4	5	6	7	8	9	10
11	12	13	14	15	16	17	18	19	20
21	22	23	24	25	26	27	28	29	30
31	32	33	34	35	36	37	38	39	40
41	42	43	44	45	46	47	48	49	50
51	52	53	54	55	56	57	58	59	60
61	62	63	64	65	66	67	68	69	70
71	72	73	74	75	76	77	78	79	80
81	82	83	84	85	86	87	88	89	90
91	92	93	94	95	96	97	98	99	100

KODLAMA 1

• **KAHVERENGİ** : 5, 6, 15, 16

• **YEŞİL** : 7, 17, 18

• **KIRMIZI** : 22, 23, 24, 25, 26, 27, 28, 29, 31, 32, 33, 34, 35, 36, 37, 38, 39, 40, 41, 42, 43, 44, 45, 46, 47, 48, 49, 50, 51, 52, 53, 54, 55, 56, 57, 58, 59, 60, 61, 62, 63, 64, 65, 66, 67, 68, 69, 70, 71, 72, 73, 74, 75, 76, 77, 78, 79, 80, 82, 83, 84, 85, 86, 87, 88, 89, 93, 94, 95, 96, 97, 98

Etkinlik: Aşağıda verilen kodlara uygun olarak boyayınız

1	2	3	4	5	6	7	8	9	10
11	12	13	14	15	16	17	18	19	20
21	22	23	24	25	26	27	28	29	30
31	32	33	34	35	36	37	38	39	40
41	42	43	44	45	46	47	48	49	50
51	52	53	54	55	56	57	58	59	60
61	62	63	64	65	66	67	68	69	70
71	72	73	74	75	76	77	78	79	80
81	82	83	84	85	86	87	88	89	90
91	92	93	94	95	96	97	98	99	100

KODLAMA 2 • **KAHVERENGİ** : 75, 76, 85, 86, 95, 96

• **YEŞİL** : 3, 4, 5, 6, 7, 8, 12, 13, 15, 16, 18, 19, 22, 23, 24, 25, 26, 27, 28, 29, 33, 34, 36, 37, 39, 42, 43, 44, 45, 46, 47, 48, 49, 52, 54, 55, 57, 58, 63, 64, 65, 66, 67, 68,

• **KIRMIZI** : 14, 17, 32, 35, 38, 53, 56, 59

KODLAMA CEVAP ANAHTARI


KODLAMA 2

1	2	3	4	5	6	7	8	9	10
11	12	13	14	15	16	17	18	19	20
21	22	23	24	25	26	27	28	29	30
31	32	33	34	35	36	37	38	39	40
41	42	43	44	45	46	47	48	49	50
51	52	53	54	55	56	57	58	59	60
61	62	63	64	65	66	67	68	69	70
71	72	73	74	75	76	77	78	79	80
81	82	83	84	85	86	87	88	89	90
91	92	93	94	95	96	97	98	99	100

KODLAMA 1

1	2	3	4	5	6	7	8	9	10
11	12	13	14	15	16	17	18	19	20
21	22	23	24	25	26	27	28	29	30
31	32	33	34	35	36	37	38	39	40
41	42	43	44	45	46	47	48	49	50
51	52	53	54	55	56	57	58	59	60
61	62	63	64	65	66	67	68	69	70
71	72	73	74	75	76	77	78	79	80
81	82	83	84	85	86	87	88	89	90
91	92	93	94	95	96	97	98	99	100


Etkinlik: Örnek görsele bakarak dini bayram etkinliğini tamamlayınız.



Dini bayramlarımızdan biri de Kurban Bayramı'dır. Kurban Bayramı sosyalleşmeyi, yardımlaşmayı ve fedakarlığı amaçlar.



Etkinlik: Örnek görsele bakarak dini bayram etkinliğini tamamlayınız.



Ramazan ayında tutulan orucun ardından gelen dini bayramımızın adı Ramazan Bayramı'dır. Dini bayramlarımız dayanışma ve paylaşmanın yaşandığı özel günlerdir.



MİLLİ BAYRAMLARIMIZ



Mustafa Kemal Samsun'a çıkarak Kurtuluş Savaşını başlattı.



Türkiye Büyük Millet Meclisi açıldı.



Cumhuriyet ilan edildi.



Kurtuluş mücadelesi zaferle kazanıldı.

Etkinlik: Milli bayramlarımızın isimlerini ilgili görsellerin altına yapıştırınız.

CUMHURİYET BAYRAMI
(29 EKİM 1923)

ATATÜRKÜ ANMA
GENÇLİK VE SPOR
BAYRAMI
(19 MAYIS 1919)

ZAFER BAYRAMI
(30 AĞUSTOS 1922)

ULUSAL EGEMENLİK
VE ÇOCUK BAYRAMI
(23 NİSAN 1920)

23 NİSAN

Bugünün küçükleri,
Yarının büyükleri.
Okuyup öğrenerek,
Koşacağız ileri.


Topraktan biter gibi,
Göklerden yağar gibi.
Dağılıcağız yurda.
Tohum serpilir gibi

İlk üç soruyu şiire göre yanıtlayınız.

1. Şiir, kaç satırdan oluşmaktadır?
A) 6 B) 8 C) 2
2. Şiirdeki çocuklar, yurda nasıl dağılacaklarmış?
A) Yağmur yağar gibi
B) Dağa çıkar gibi
C) Tohum serpilir gibi
3. Şiire göre nasıl ileri koşacaklar?
A) Okuyup öğrenerek.
B) Kutlamalara katılarak
C) Yarışa katılarak

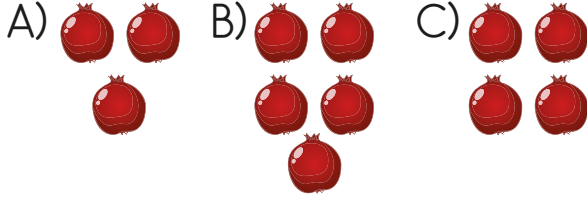
4. "Evdeki sorumluluklarımı yerine getirdim." cümlesinin olumsuz hali aşağıdakilerden hangisidir?
A) Evdeki sorumluluklarımı yerine getirmeyi düşünmüyorum.
B) Evdeki sorumluluklarımı yerine getirmediğim.
C) Evdeki sorumluluklarımı yerine getirdim mi?

5. Aşağıdakilerden hangisi cümledir?
A) Bardaktaki çayı
B) Bozulan kalemi
C) Kitaplarımı raflara dizdim.

6. 
Üç bütün pizzadan kaç tane çeyrek pizza elde ederiz?
A) 12 B) 6 C) 9



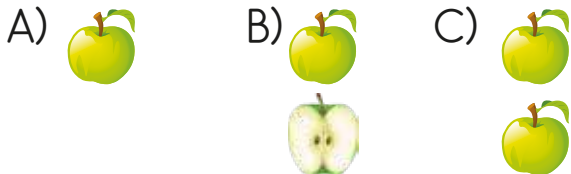
Yukarıdaki narlardan kaç tane bütün nar elde ederiz?



8. Aşağıdaki ifadelerden hangisi yanlıştır?

- A) 4 bütün 9 yarım eder.
B) 6 bütün 24 çeyrek eder.
C) 16 çeyrek 8 yarım eder.

9. Yandaki elmalar-
dan aşağıdakiler-
den hangisini oluş-
turabiliriz?



10. Aşağıdakilerden hangisi milli bayramlarımızdandır?

- A) Zafer Bayramı
B) Kurban Bayramı
C) Ramazan Bayramı

11. ".....'nın başladığı tarihi Atatürk'ü Anma ve Gençlik Spor Bayramı olarak kutlarız."

Yukarıdaki ifadede boşluğa aşağıdakilerden hangisi gelmelidir?

- A) İzmir'in kurtuluşu
B) TBMM açılışı
C) Kurtuluş Savaşı

12. Aşağıdaki bilgilerden hangisi yanlıştır?

- A) İki tane dini bayramımız vardır.
B) Dini bayramlarımız yardımlaşmayı ve dayanışmayı güçlendirir.
C) Dini bayramlarımızı okullarda törenlerle kutlarız.

23 NİSAN ULUSAL EGEMENLİK VE ÇOCUK BAYRAMI'NIN 100. YILI KUTLU OLSUN





23 NİSAN


ULUSAL EGEMENLİK

VE

ÇOCUK BAYRAMI'NIN

101. YILI

KUTLU OLSUN



Ümit

1 kırmızı
2 gri
3 pembe
4 mavimsiyah
5 ağıl
6 sarı
7 koyu yeşil
8 kahverengi

Etkinlik: Şiiri okuyunuz. Defterinize en güzel yazınızla yazınız.

BULUTLAR DA ÇOCUK OLSUN

Yine sevginle uyandım Atam,
Zıpladım, bağırdım kocaman
Bayram bugün bayram
23 Nisan'da herkes çocuk olsa bir an.

Ne olur gökyüzü,
Yağmur yağmasın bugün.
Söyle bütün bulutlara
Hepsi bizimle gülsün.

Saçım, giysilerim tamam
Şiirimi de ezberledim çoktan.
Ha bir şey kaldı unutmadan
Bir isteğim var bulutlardan.

Elbisem ıslanacak diye değil,
Pabuçlarım kirlenecek diye değil.
23 Nisan ya bugün.
Bulutlar da çocuk olsun, gülsün.

TÜLİN AYGÜL ÇINAR



BULUTLAR DA ÇOCUK OLSUN

Yine sevginle uyandım Atam,
Zıpladım, bağırdım kocaman
Bayram bugün bayram
23 Nisan'da herkes çocuk olsa bir an.

Ne olur gökyüzü,
Yağmur yağmasın bugün.
Söyle bütün bulutlara
Hepsi bizimle gülsün.

Saçım, giysilerim tamam
Şiirimi de ezberledim çoktan.
Ha bir şey kaldı unutmadan
Bir isteğim var bulutlardan.

Elbisem ıslanacak diye değil,
Pabuçlarım kirlenecek diye değil.
23 Nisan ya bugün.
Bulutlar da çocuk olsun, gülsün.

TÜLİN AYGÜL ÇINAR

Etkinlik: Şiiri okuyunuz. Defterinize en güzel yazınızla yazıp görseli boyayınız.

