

KAMP ATEŞİ

O gece gözüme uyku girmedi. Sanki sabah hiç olmayacaktı. Tan, tan, tan haydi kampçı uyan. Tan, tan, tan...

Gözlerimi açtım. Babam yatağımın başında kaşıkla tencereye vuruyordu. Babam: "Hadi Adacığım doğa uyuşukları sevmez." dedi. O gün erkenden yola çıktık. Kamp alanına geldiğimizde büyüledim. Ağaçların arasına çadırımızı kurduk. Deniz çadırımızın dibindeydi.

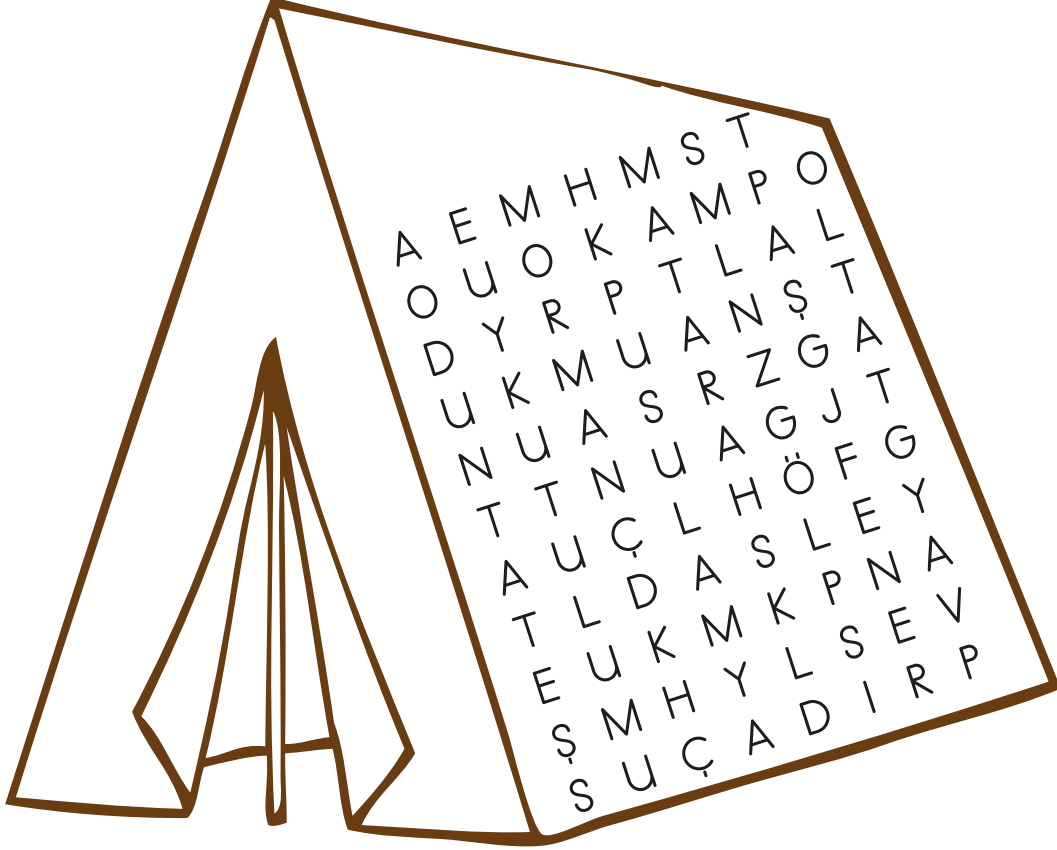
Saatlerce yüzdüm. Kumdan kaleler yaptım. Hayatımda ilk defa balık tuttum. Kamp ateşi için babamla odun topladık. Ateşin etrafında yemeğimizi yedik. Şarkılar söyledik. Ateşten çıkan sesler ninni gibi geldi. Yıldızları seyrederken uyuyakalmışım.

Başta telefon kullanamayacağım için kampta sıkılırim diye düşünmüştüm. Ama hafta sonu çok eğlenceli ve çabuk geçmişti. Kamp ateşi hayatımın en güzel anılarından biriydi.

Nihan Melek İlter



Etkinlik: Kamp ile ilgili aşağıdaki kelimeleri bulup boyayınız.



Etkinlik: Aşağıdaki soruları metne göre cevaplayınız.

➔ Çadırları kurdukları alan nasıldı?

➔ Ada, kamp alanında gün içerisinde neler yapmıştır?

➔ Ada, nasıl uykuya dalmıştır?

Etkinlik: Kamp ile ilgili görsel ve yazıları oluş sırasına göre yapıştırıp, okuyunuz.


1	2
3	4
5	6



Oltamızı alıp göle balık tutmaya gittik.



Uyandığımız zaman çadırımızı topladık.




Gece ateşin etrafında oturup şarkılar söyledik.



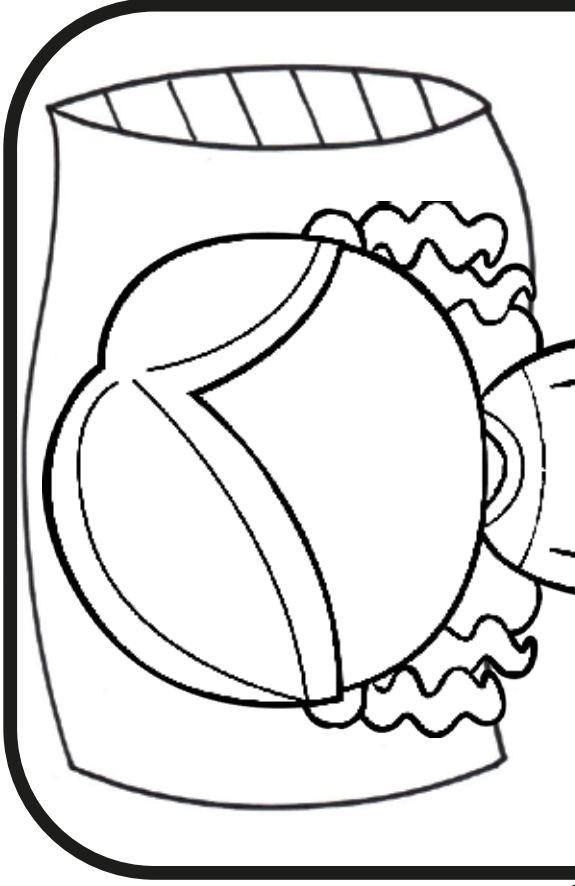
Ateşi söndürüp, çadırlarımızda uyku tulumlarımızda yattık.




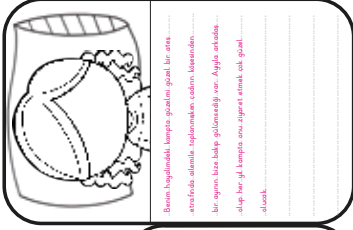
Sabah uyanınca eşyalarımızı arabaya yükleyip kamp yerine doğru yola çıktık.



Gölden gelince öğlen yemek için tost hazırladık.




Handwriting practice area with ten vertical dotted lines for writing.



Etkinlik: Uyku tulumunuza yatıp yıldızları seyrettiğinizi hayal edin. Hayallarınızda neler olduğunu yazınız.

Hayalinizin resmini çiziniz.



.....

.....

.....

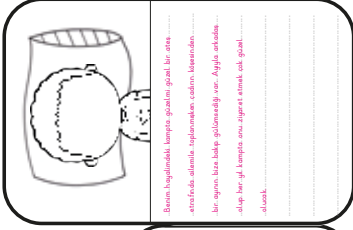
.....

.....


.....

.....

.....



Bir tane hayalinizi hayal ettiğinizi düşünün. Bu hayal için bir resim çizin. Hayalinizi yazın. Hayalinizi yazarken hayalinizi anlatın. Hayalinizi yazarken hayalinizi anlatın. Hayalinizi yazarken hayalinizi anlatın.





Hayalinizi resmin altına

Etkinlik: Uyku tulumunuza yatıp yıldızları seyrettığınızı hayal edin. Hayallarınızda neler olduğunu yazınız.





Hayalinizin resmini çizin.

Etkinlik: Çadırlarda yazan kelimeler fiil ise mora, isim ise sarıya boyayınız.

yürü	şapkalar	oyna
boyayalım	takip et	çadır
rüya	uyku tulumu	uyu
kardeş	yazsana	köpekler
yaprak	yak	çiz

Etkinlik: Görsellerdeki iş - oluş - hareket bildiren kelimeleri kesip uygun yere yapıştırınız.



süpürüyorum

atlamak

oynamak

tuttum

uyumuş

dikiyor

şarkı söylemek

konuş


yemek

emeklemek

boyadım

yüzdüm

Etkinlik: Görsellerdeki iş - oluş - hareket bildiren kelimeleri bulup görsellerin altına yazınız.



Etkinlik: Anahtar kelimeleri kullanarak kısa hikaye yazınız.

Anahtar kelimeler

çadır

aile

doğa

pişirmek

macera



Anahtar kelimeler

uyumak

orman

çanta

ateş

kamp

Cümleme
büyük harfle
başladım.



Yazımı güzel
yazdım.



Noktalama işa-
retlerini uygun
yerde kullandım.



Giriş, gelişme,
sonuç bölümleri-
ne göre yazdım.





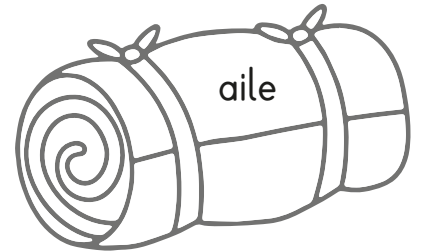
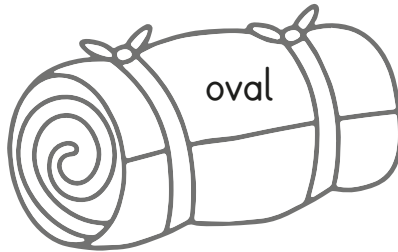
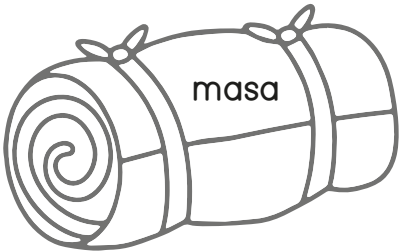

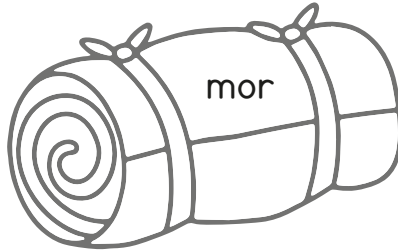
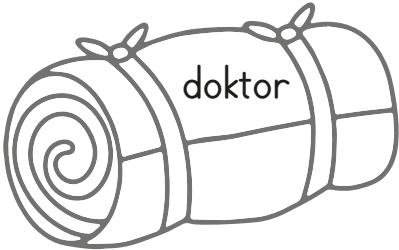
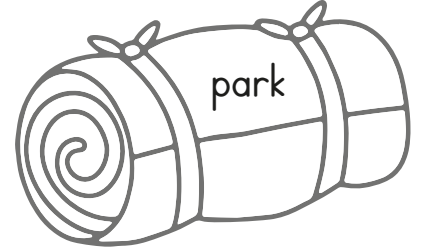


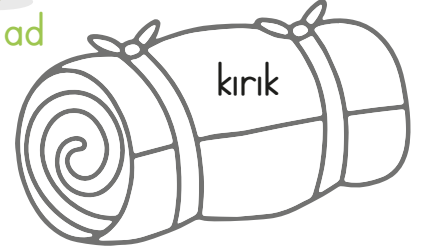
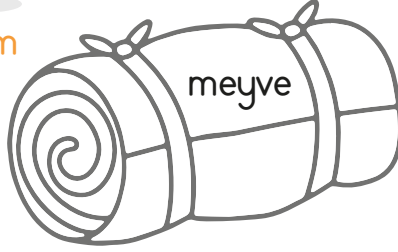
Etkinlik: Aşağıdaki kelimelerden ad olanları turuncuya, ön ad olanları yeşile boyayınız.





isim



ön ad



Etkinlik: Kelimeleri okuyunuz. Kelimeleri kesip uygun alana yapıştırınız.

	
--	---

Etkinlik: Fiil ve ön adları kullanarak 3 cümle yazınız.


.....

.....

.....

zıpla	izlemek	güzel	uzun	birinci
zor	mutlu	koş	oyynamak	başla
takip et	cesur	sarı	uyumak	uzak

Etkinlik: Ailenizle beraber kampa gittiğinizi hayal edin. Kampta neler yaşadınız? Yazınız.



Large blank area with horizontal dotted lines for writing a story.

Cümleme
büyük harfle
başladım.



Yazımı güzel
yazdım.



Noktalama işa-
retlerini uygun
yerde kullandım.



Giriş, gelişme,
sonuç bölümleri-
ne göre yazdım.



Etkinlik: Aşağıdaki sıvıları "az" ve "çok" olarak belirtip yazınız.



.....

.....



.....

.....



.....

.....



.....

.....



.....

.....



.....

.....



.....

.....



.....

.....

Etkinlik: Aşağıdaki kapların sıvı alma miktarlarını işaretleyiniz.



→ az
→ çok



→ az
→ çok



→ az
→ çok



→ az
→ çok



→ az
→ çok



→ az
→ çok



→ az
→ çok



→ az
→ çok



→ az
→ çok



→ az
→ çok



→ az
→ çok



→ az
→ çok



→ az
→ çok



→ az
→ çok



→ az
→ çok


Etkinlik: Aşağıdaki problemleri çözünüz.

1



Bir şişe limonata ile 5 bardak doldurabiliyoruz. 3 şişe limonata ile kaç bardak doldurabiliriz?

2




1 kova 2 tas geldiğine göre 5 kova ile kaç tas doldurabiliriz?

3

Annem öğlen yemeği için tarhana çorbası yaptı. Sofradaki herkese 3 kepçe çorba koyunca tenceredeki çorba bitti. Sofrada 4 kişi olduğuna göre 1 tencere çorba kaç kepçe gelmiştir?

4



Yukarıdaki bilgilere göre 2 sürahi ve 2 şişe toplam kaç bardak ile dolar?

5

Marketten aldığımız 1 şişe süt ile 5 bardak doldurduk. 15 bardak süt için kaç şişe gereklidir?

6



Bir şişe meyve suyu 3 bardak dolduruyor. 4 şişe kaç bardak doldurur?

Etkinlik: Aşağıdaki problemleri çözünüz.

➔ Minelerin evinde su yoktur. Sularını köy meydanındaki çeşmeden taşıyorlar. Mine 8 bidon, Ayşe 17 bidon, Güler 26 bidon su taşımıştır. Üç kardeş toplam kaç bidon su taşımıştır?

➔ Pekmez yapmak için 2 kazan sıra kaynattık. 2 kazandan 7 bidon sıra elde edilirse 4 kazandanda kaç bidon sıra elde edilir?

➔ Portakal şenliğinde 15 tane portakaldan 2 bardak portakal suyu elde ettim. 30 portakaldan kaç bardak portakal suyu elde ederim?

➔ Kendi yaptığım limonataları pazara gidip satıyorum. Cumartesi 13 litre, pazar günü cumartesi gününden 37 litre fazla satış yaptım. İki günde toplam kaç litre limonata satmış olurum?

➔ Doğum günümde 37 bardak meyve suyu, 26 bardak asitli içecek tüketildi. Doğum günümde toplam kaç bardak içecek tüketilmiştir?

➔ Evimizde bir haftada 2 damacana su tüketiliyor. 3 haftada kaç damacana su tüketmiş oluruz?

Etkinlik: Aşağıdaki görselleri kesip problem çözümlerinde kullanınız.

➔ Bir damacana 4 sürahi su alıyorsa, 2 damacana kaç sürahi su alır?

➔ Bir sürahi 5 bardak su alıyor. 1 damacana da 2 sürahi ile dolduğuna göre, 1 damacana kaç bardak su ile dolar?

➔ 2 damacana ile 3 sürahi su kaç litre eder? (Damacana = 19 litre, sürahi = 1 litre)





Etkinlik: Aşağıdaki soruları görsellere göre cevaplayınız.

1) 3 paket süt ile kaç biberon doldurabiliriz?

çözüm

4) 21 cezve su ile kaç kova doldurabiliriz?

çözüm

2) 5 bardak kahve için kaç fincan gereklidir?

çözüm

5) 20 tane biberon kaç paket süt doldurur?

çözüm

3) 9 şişe ile kaç sulama kabı doldurabiliriz?

çözüm

6) 6 tane sulama kabıyla kaç şişe doldurabiliriz?

çözüm


Etkinlik: Aşağıdaki cümleleri okuyunuz. Doğru ise gülümseyen çocuk, yanlış ise üzgün çocuk çiziniz.



Yemeklerden önce banyo yapmalıyız.



Arkadaşlarımızla konuşurken ağızımız kokabilir.



Açıktaki satılan yiyecekleri yememeliyiz.



Sebze ve meyve yemeye özen göstermeliyiz.



Banyomuzu yapıp temiz kıyafetler giymeliyiz.



Gündüzleri uyuyup geceleri oturabiliriz.



Dişlerimizi haftada bir fırçalamalıyız.



Temiz ve bakımlı olmak için yaptığımız davranışlara "kişisel bakım" denir.

Etkinlik: Aşağıdaki cümleleri uygun kelimelerle tamamlayınız.



1- Erken yatıp günde saat uyumalıyız.

2- Düzenli olarak yaparsak bedenimiz sağlıklı olur.


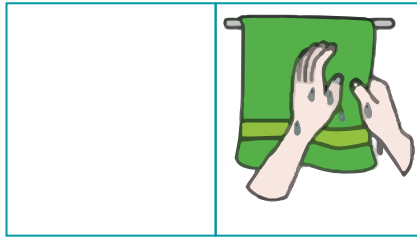



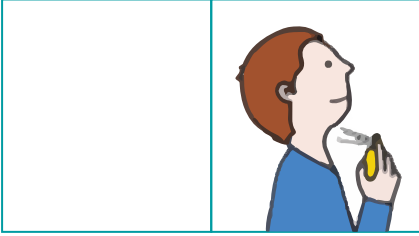



3- Mevsiminde yetişen ve tüketmeliyiz.

4- Sağlıklı olmak için günlük özen göstermeliyiz.

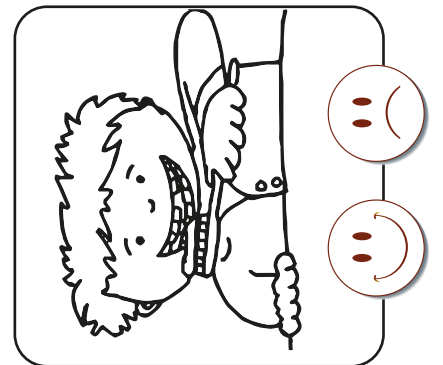
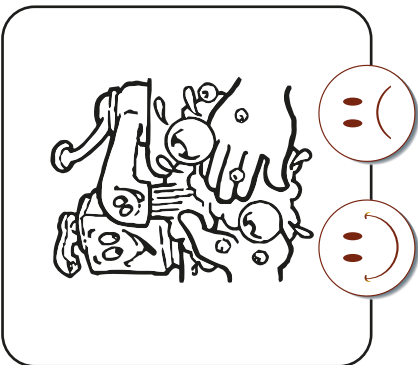
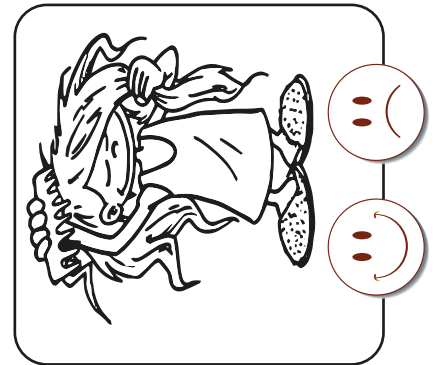
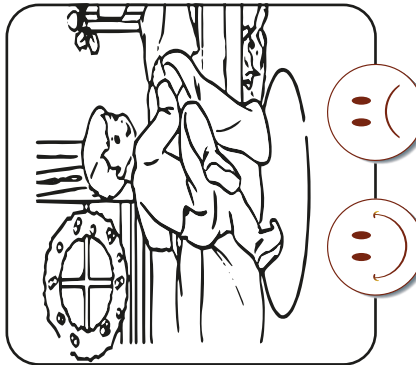
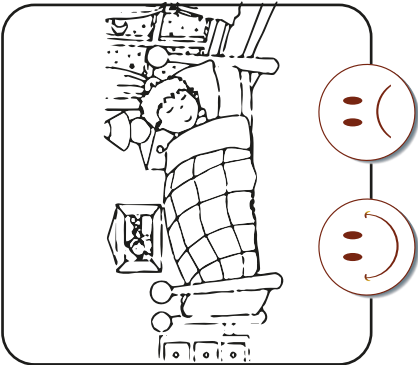
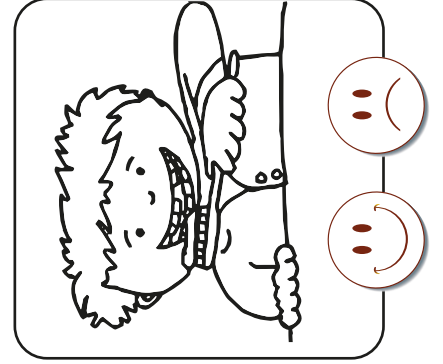
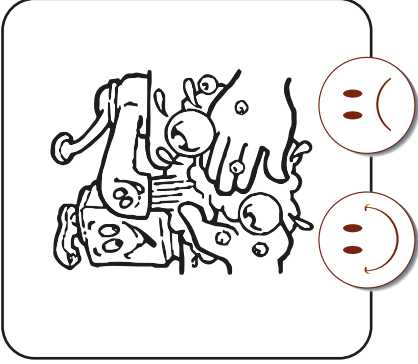
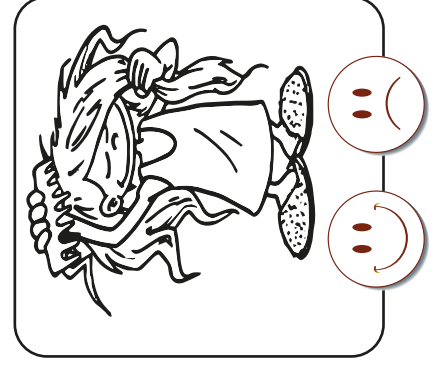
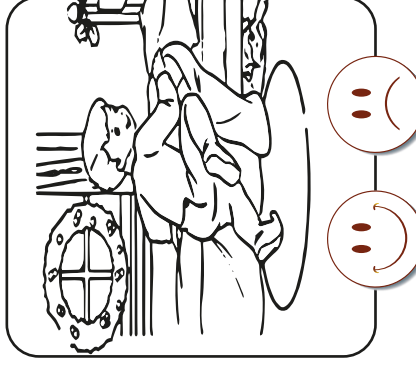
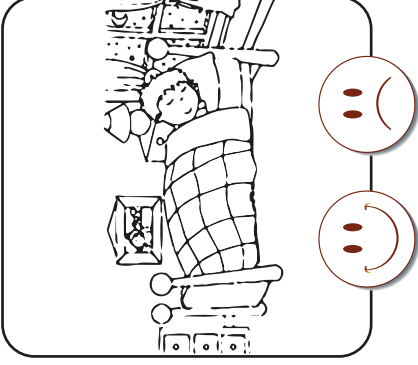
5- Yemeklerden önce ve sonra yıkamalıyız.

6- Dişlerimizi en az dakika fırçalamalıyız.

Etkinlik: Kişisel bakımımızı yaparken kullandığımız ürünleri kesip uygun alana yapıştırınız.



Etkinlik: Sağlıklı yaşam için yapılması gereken görsellerde gülen yüzü, yapılmaması gereken görsellerde üzgün yüzü boyayınız.



SAĞLIKLI OLALIM



Haftada iki kere banyo yapalım.



Günde iki kere dişlerimizi fırçalayalım.



Ellerimizi yıkayalım.



Sağlıklı yiyecekler tüketelim.





Erken yatıp, düzenli uyuyalım.



Düzenli olarak spor yapalım.

Etkinlik: Kişisel bakımımızı yaparken kullanılan malzemelere ulaşınız.



Yaşlı Kadın ve Şişman Tavuğu

Yaşlı bir kadının her sabah yumurtlayan bir tavuğu varmış. Bu tavuğun yumurtaları öyle lezzetliymiş ki, iki kat fazla fiyata satılıyormuş. Bir gün yaşlı kadın kendi kendine şöyle düşünmüş: "Tavuğun arpasını artırırsam, günde iki kez yumurtlar."



İlk üç soruyu metne göre yanıtlayınız.


1. Metnin devamında ne yaşanmış olabilir? İşaretleyiniz.
A) Tavuk çok yiyince günde 3 yumurta yumurtlamıştır.
B) Tavuk çok şişmanladığı için hiç yumurtlayamamıştır.
C) Tavuk şişmanlayınca kesilmiştir.
2. Tavuk ne zaman yumurtlamış?
A) her sabah B) iki günde bir
C) ikindi vakti

3. Yaşlı kadın tavuğun yiyeceğini neden iki katına çıkarmıştır?
A) Tavuğunu şişmanlatıp satmayı düşünmüştür.
B) Tavuğun yumurtalarının daha lezzetli olacağını düşünmüş.
C) Tavuğun günde iki kez yumurtlayacağını düşünmüştür.
4. "Kumsal, beyaz elbise giymiş." cümlesinde ismi niteleyen sözcük hangisidir?
A) gömlek B) elbise
C) beyaz
5. Aşağıdaki cümlelerin hangisi olumsuz cümledir?
A) Sağlıklı olmak için spor yaparım.
B) Yemeklerden önce ellerimi yıkamam.
C) Günde iki kere dişlerimi fırçalarım.

6. Aşağıdaki cümlelerin hangisinde varlığın özelliğini belirten sözcük bir yönü ile diğerlerinden farklıdır?

- A) Beşinci katta oturuyoruz.
B) Koşuda yedinci oldum.
C) Sarı elbisem yırtıldı.

7. Aşağıdaki kaplardan hangisi diğerlerinden fazla sıvı alır?



8. 
1 2 3 4

Kaplardaki sıvı miktarları fazla olandan az olana doğru sıralanırsa hangi şık ortaya çıkar?

- A) 4 - 3 - 2 - 1
B) 4 - 1 - 3 - 2
C) 1 - 4 - 2 - 3

9. Bir tencere 10 çay bardağı su alıyor. 3 tencere kaç çay bardağı su alır?

- A) 30 B) 13 C) 23

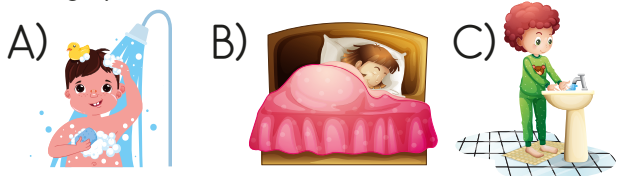
10. 2 tane narı sıkığımızda 4 bardak nar suyu elde ettiğimize göre 4 tane nar ile kaç bardak nar suyu elde ederiz?

- A) 10 B) 8 C) 4

11. Aşağıdakilerden hangisini sağlıklı olmak isteyen kişi yapmaz?

- A) Her gece yatmadan önce yemek yer.
B) Doğal ve sağlıklı yiyecekler tüketir.
C) Düzenli spor yapar.

12. Aşağıdakilerden hangisini daha sık yaparız?

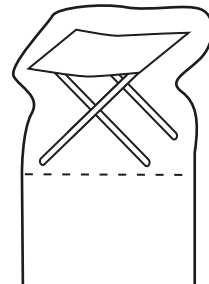
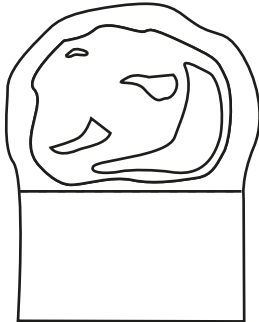
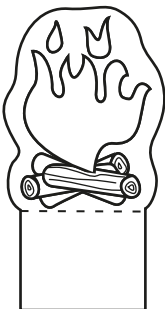
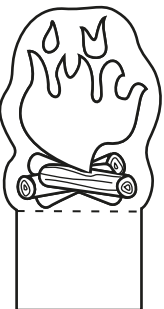
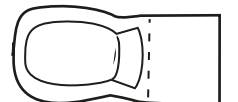
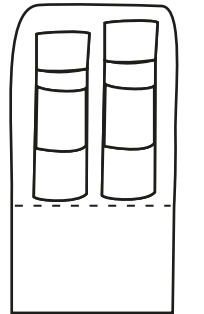
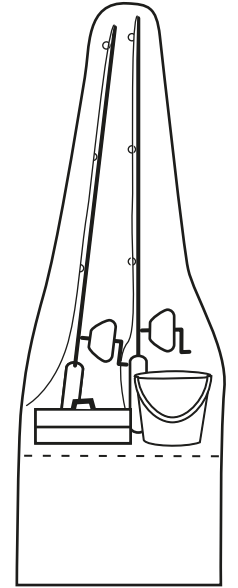
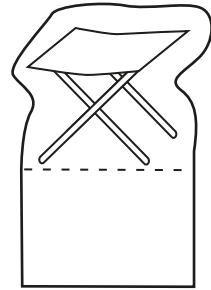
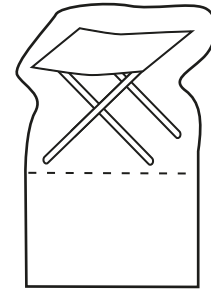


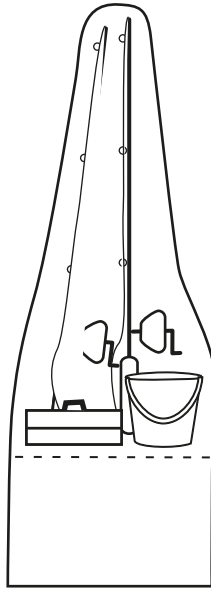
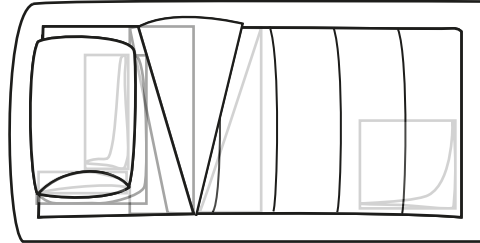
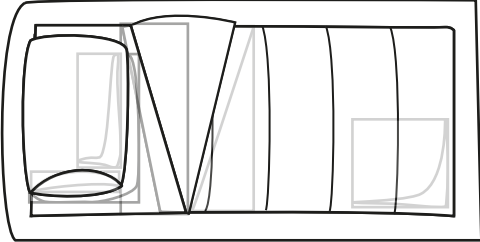

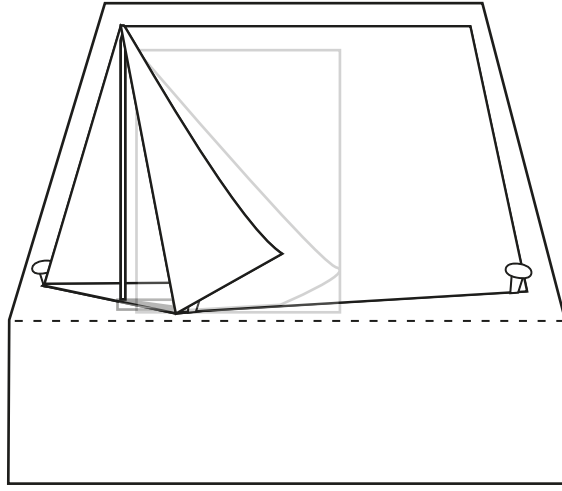
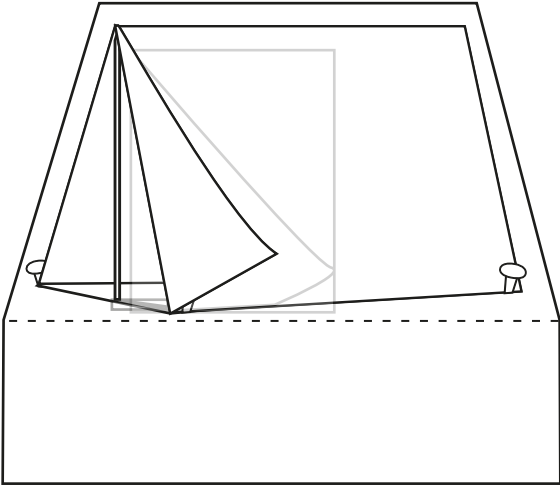
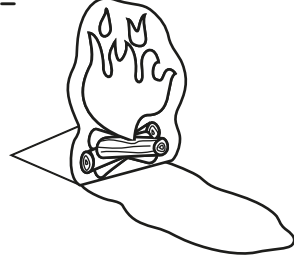



Etkinlik: Tüm kamp malzemelerinden dikkatlice kesiniz.

Etkinlik: Diğer sayfadaki kamp alanına öncelikli olarak çadırları yerleştiriniz.

Etkinlik: Çadırların etrafına kamp malzemelerini yapıştırınız.

Etkinlik: Görselleri boyayınız.



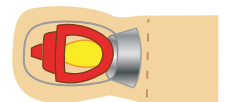
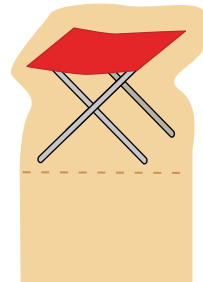



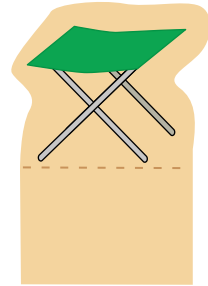
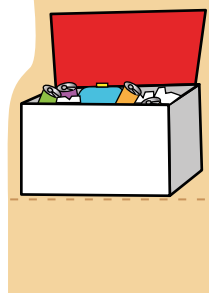
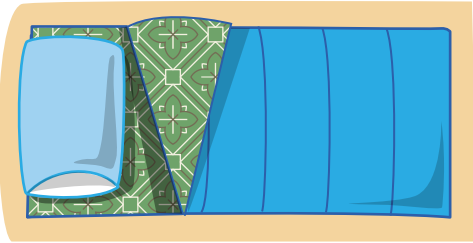
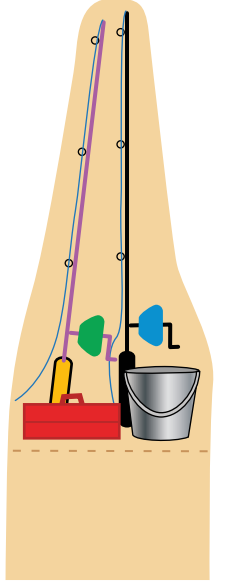
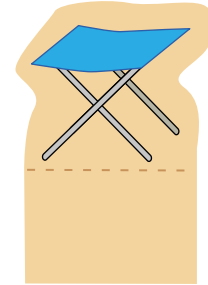
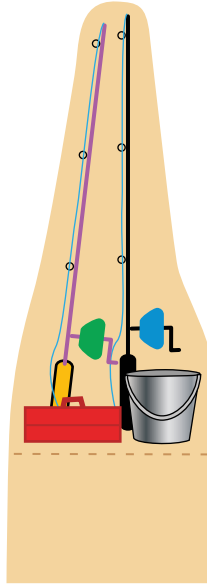


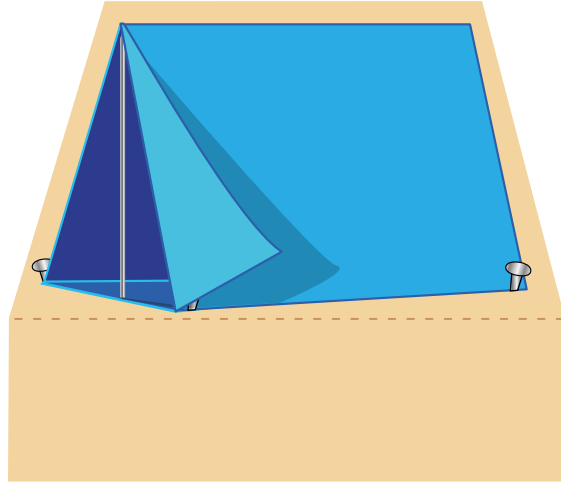
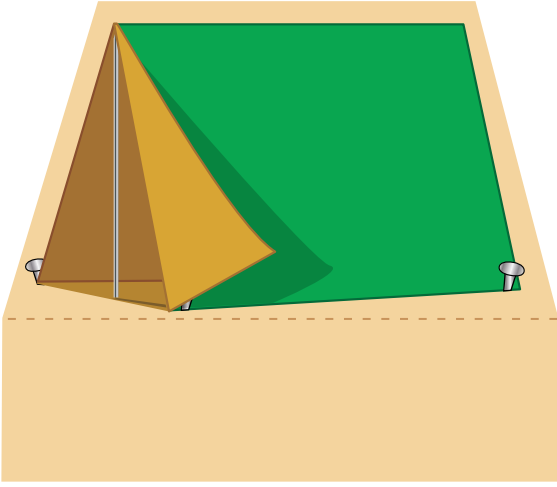



Etkinlik: Tüm kamp malzemelerinden dikkatlice kesiniz.

Etkinlik: Diğer sayfadaki kamp alanına öncelikli olarak çadırları yerleştiriniz.

Etkinlik: Çadırların etrafına kamp malzemelerini yapıştırınız.

Etkinlik: Görselleri boyayınız.



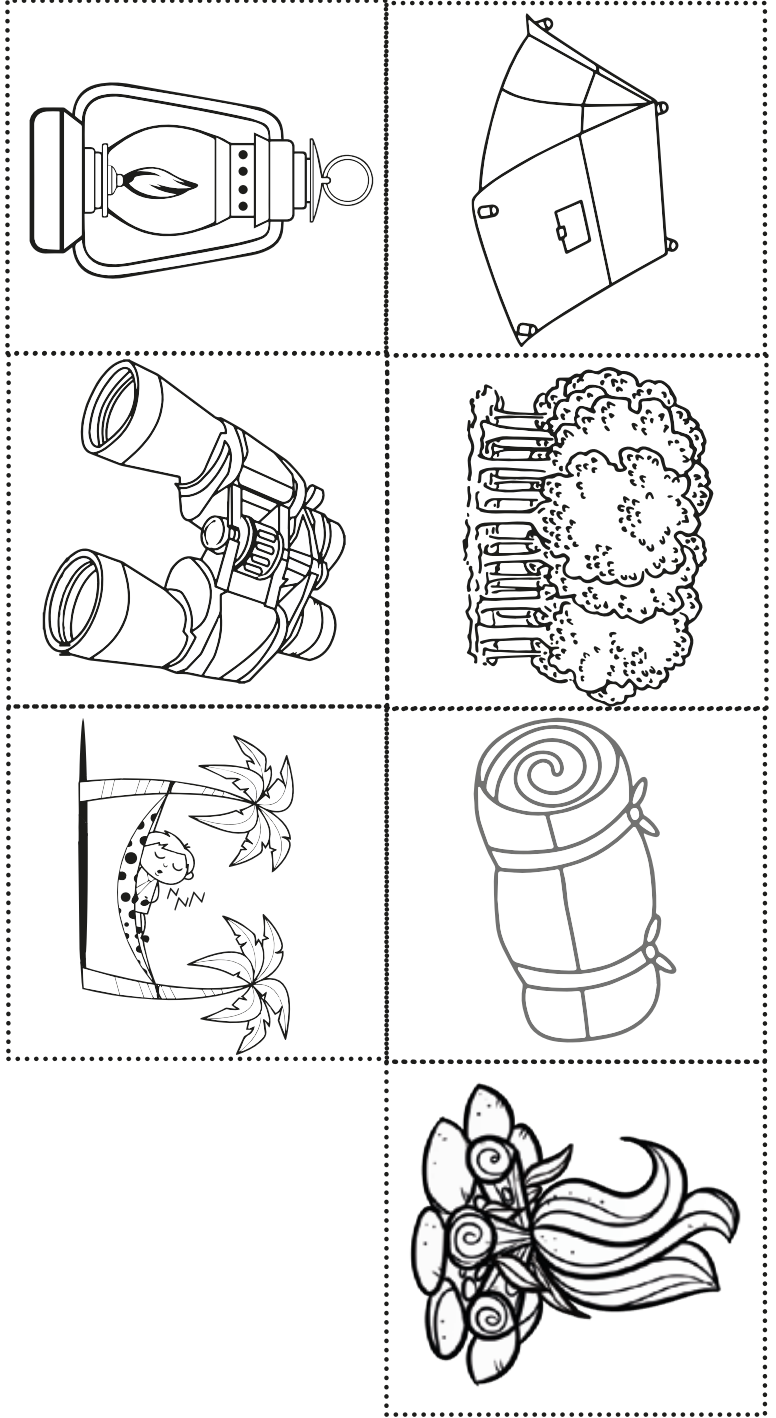




Etkinlik: Sayfa 7'deki görselleri boş alana yapıştırarak kamp başlığını tamamlayabilirsiniz.

Çocuk görseli yapıştırınız.

--	--	--	--	--	--	--	--	--	--



Etkinlik: İki tane tuvalet kağıdı rulosunu yanyana yapıştırınız.

Etkinlik: Üzerini boyayabilir veya çeşitli malzemelerle kaplayabilirsiniz.



DÜRBÜN YAPALIM

