

DENİZ VE KAHVALTISI

Deniz, okulda çok hastalanmıştı. Ne olduğunu anlamadan bir anda halsiz düştü. Başı dönmeye başladı. Arkadaşları ve öğretmen, Deniz'e ne olduğunu anlamaya çalışıyordu.

Teneffüste arkadaşlarıyla oynarken bir anda yere yığılıvermişti.

Uyandığında başında çok sevdiği öğretmeni vardı. Öğretmen:

- Deniz, sabah kahvaltı yaptın mı?

Deniz, mahcup bir şekilde:

- Hayır öğretmenim, dedi. Akşam çok geç yattım ve hemen uyuyamadım. Bu yüzden de geç uyandım. Servisi kaçırmamak için de sabah hemen giyinip çıktım.

- Sabah kahvaltı yapmadan okula gelersen böyle halsiz düşer ve hasta olursun.

Derslerden hiçbir şey anlamazsın. Sabahları mutlaka düzenli olarak kahvaltını yapmalısın. Kahvaltını yapmak için de biraz erken yatmalısın. Anlaştık mı Deniz?

- Anlaştık öğretmenim, kahvaltı yapmadan okula gelmek yok, söz veriyorum, dedi ve öğretmenine sarıldı.

(Serap SUNGUR)

Etkinlik: Aşağıdaki soruları metne göre cevaplayınız.

➔ Deniz'in okulda halsiz düşme sebebi neymiş?

.....

.....

.....

➔ Deniz, neden kahvaltısını yapmamış?

.....

.....

.....



➔ Deniz, öğretmenine neden söz veriyor?

.....

.....

.....

Etkinlik: Aşağıdaki cümleleri metne göre tamamlayınız.

📌 Tenefüste arkadaşlarıyla oynarken bir anda

📌 Sabah kahvaltı yapmadan okula gelersen böyle halsiz düşer ve

📌 Sabahları mutlaka düzenli olarak

📌 Anlaştık öğretmenim, okula gelmek yok.

Etkinlik: Aşağıdaki soruları metne göre cevaplayınız.

➔ Metinde geçen olay nedir?

.....
.....
.....

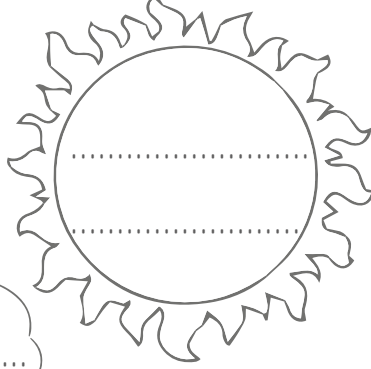
➔ Metinde olayı yaşayan kişiler kimlerdir?

.....
.....
.....

➔ Metnin olay nerede geçmektedir?

.....
.....
.....

➔ Metnin başlığı nedir?



➔ Olayın geçtiği zaman nedir?

.....
.....
.....

Etkinlik: Aşağıdaki boşlukları uygun kelimelerle tamamlayarak hikayelerin özelliklerini oluşturunuz.

yer

olay

zaman

kısa

hikaye

Yaşanmış ya da yaşanabilecek olayları yer, zaman belirterek anlatan yazı türüne "....." denir.

Hikayede anlatım ve sadedir.



Olayın yaşandığı bellidir.

Kahramanların başından geçen olayların yaşandığı bellidir.

İç içe girmiş örgüsü yoktur

Etkinlik: Aşağıdaki eksik bırakılmış kelime gruplarını tamamlayarak cümle oluşturunuz.

- 1 Pantolonumun paçalarını yaptırmak için terziye
- 2 Sınıf arkadaşlarımla beraber mavi kapak
- 3 Bahçedeki çiçekleri
- 4 Dalgıç deniz canlılarını izlemek için
- 5 Ağaca tırmanan dedem, ağaçtan

Etkinlik: Aşağıdaki kelime gruplarını inceleyiniz. Cümle olanların  işaretini boyayınız. Cümle olmayanların  işaretini boyayınız.



	Cümledir 	Cümle değildir. 
Kaptan gemiyi kıyıya yaklaştırmaya.		
Annemle beraber kurabiye yaptık.		
Annem eteğimin fermuarını düzeltti.		
Kalemimin kapağını.		
Her gün otuz dakika yürüyüş.		
Odamın kapısını mavi renge boyadık.		
Kar yağdığında kardan adam.		
Babam gömleklerini.		
Otobüs, durağa yaklaşınca.		

Etkinlik: Aşağıdaki ifadeleri kesiniz. Cümle olup olmamasına göre uygun kutucuğa yapıştırınız.

CÜMLE	CÜMLE DEĞİL

1 Arkadaşıma ıspanağın faydalarını

7 Matematik dersini çok seviyorum

2 Hayal gücümü iyi kullanabilirim

8 Masa örtüsünü yıkaması için

3 Fırından ekmek

9 Yol çalışması yüzünen trafik

4 Papağanın sesini duydum

10 Öğretmenim yazımı beğendi

5 Çantamın içindekilerini dikkatle

11 Yeşil tişörtüm bana

6 Doğum günüme az kaldı

12 Derslerimde çok başarılı

Etkinlik: Karışık olarak verilen kelimeleri düzenleyip anlamlı ve kurallı cümleler oluşturup yazınız.

severim - oynamayı - saklambaç

düzenli - gerekir - ve - beslenmemiz - dengeli

zamanında - ödevlerimi - yaparım

taşmış - yemek - ocaktaki

Etkinlik: Aşağıdaki kelimelerle istenilen kelime sayısına dikkat ederek cümleler oluşturunuz.

Yaz



⇒ 1 kelimeli cümle ⇒

⇒ 2 kelimeli cümle ⇒ Deftere yaz.

⇒ 3 kelimeli cümle ⇒

⇒ 4 kelimeli cümle ⇒

bak



⇒ 1 kelimeli cümle ⇒

⇒ 2 kelimeli cümle ⇒

⇒ 3 kelimeli cümle ⇒ Penceredeki kuşa bak.

⇒ 4 kelimeli cümle ⇒

Etkinlik: Aşağıdaki görselleri iyi inceleyiniz. Görseli anlatan kısa hikaye yazınız.



A large rectangular area with a decorative border, containing several horizontal dotted lines for writing a short story.

Etkinlik: Pizza yapımı için görselleri sırasıyla yapıştırınız. Ve görsellerin karşısına açıklamalarını yazıp, arkadaşlarınıza okuyunuz.


PİZZA YAPALIM

1

2

3

4









Etkinlik: Görselleri anlamlı ve kurallı cümle oluşturacak şekilde sıralayıp yapıştırınız. Oluşan cümlelerinizi yazınız. İkinci boşluğa görsele uygun kendi cümlelerinizi yazınız.


6
5
4
3
2
1

--	--

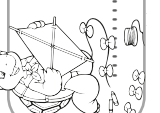
Etkinlik: Görselleri anlamlı ve kurallı cümle oluşturacak şekilde sıralayıp yapıştırınız. Oluşan cümlelerinizi yazınız. İkinci boşluğa görsele uygun kendi cümlelerinizi yazınız.

	elmalar
	topaldık.
	ağaçlardan
	Arkadaş- larımla
	beraber
	bahçedeki

.....



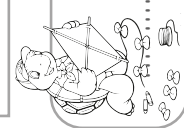
.....



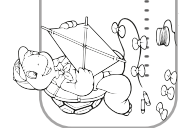
Etkinlik: Görselleri anlamlı ve kurallı cümle oluşturacak şekilde sıralayıp yapıştırınız. Oluşan cümlelerinizi yazınız. İkinci boşluğa görsele uygun kendi cümlelerinizi yazınız.

5
4
3
2
1






.....



.....



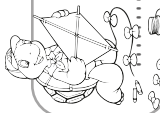
Etkinlik: Görselleri anlamlı ve kurallı cümle oluşturacak şekilde sıralayıp yaptırınız. Oluşan cümlelerinizi yazınız. İkinci boşluğa görsele uygun kendi cümlelerinizi yazınız.

	Biz
	kocaman
	güzel
	bir
	aileyiz

.....



.....



Etkinlik: Aşağıdaki problemleri çözünüz.

1 Şahin, pazarda birinci gün 27 çorap satmıştır. İkinci gün 47 çorap satan Şahin, iki günde toplam kaç çorap satmıştır?

çözüm:

2 62 sayısının 23 fazlası kaç eder?

çözüm:

3 Bahçemize 25 tane lale, laleden 18 fazla menekşe diktik. Bahçemize kaç tane menekşe dikmişizdir?

çözüm:

4 Ceviz ağacının ilk dalında 44 tane ceviz vardır. İkinci dalında ilk daldan 26 fazla ceviz olduğuna göre ikinci dalda kaç ceviz vardır?

çözüm:

5 Özlem, 35 tane taş boyamıştır. Beril ise Özlem'den 24 fazla taş boyamıştır. Beril kaç tane taş boyamıştır?

çözüm:

6 Öğretmenin sorduğu soruya 13 erkek öğrenci parmak kaldırmıştır. Aynı soruya erkeklerden 19 fazla kız öğrenci parmak kaldırmıştır. Kaç kız öğrenci parmak kaldırmıştır?

çözüm:

Etkinlik: Aşağıdaki problemleri çözünüz.

1 Yüzme kursunda 18 kız, kızlardan 12 fazla erkek vardır. Yüzme kursunda kaç erkek vardır?

çözüm:

2 Rüzgar, 18 yaşındadır. Babası Rüzgar'dan 34 yaş büyüktür. Rüzgar'ın babası kaç yaşındadır?

çözüm:

3 Lunaparkta dönme dolaba birinci turda 39 kişi, ikinci turda birinci turdan 16 fazla kişi binmiştir. İkinci turda dönme dolaba kaç kişi binmiştir?

çözüm:

4 Yüzme kursunda 18 kız, kızlardan 12 fazla erkek vardır. Yüzme kursunda toplam kaç kişi vardır?

çözüm:

5 Rüzgar, 18 yaşındadır. Babası Rüzgar'dan 34 yaş büyüktür. Rüzgar ile babasının yaşları toplamı kaçtır?

çözüm:

6 Lunaparkta dönme dolaba birinci turda 39 kişi, ikinci turda birinci turdan 16 fazla kişi binmiştir. Birinci ve ikinci turda dönme dolaba kaç kişi binmiştir?

çözüm:

Etkinlik: Aşağıdaki problemleri çözünüz.

1 Rüya, kolye yapmak için 22 tane kırmızı boncuk, kırmızılardan 49 fazla siyah boncuk almıştır. Rüya kaç siyah boncuk almıştır?

çözüm:

2 Benim yaşı 15' tir. Kuzenim benden 9 yaş büyük olduğuna göre kuzenimin yaşı kaçtır?

çözüm:

3 Dev akvaryumda 8 tane köpekbalığı, köpekbalıklarından 15 fazla vatoz, vatozlardan 22 fazla kelebek balığı vardı. Dev akvaryumda kaç tane kelebek balığı vardır?

çözüm:

4 Rüya, kolye yapmak için 22 tane kırmızı boncuk, kırmızılardan 49 fazla siyah boncuk almıştır. Rüya kolye yapmak için toplam kaç boncuk almıştır?

çözüm:

5 Benim yaşı 15' tir. Kuzenim benden 9 yaş büyüktür. İkimizin yaşları toplamı kaç olur?

çözüm:

6 Dev akvaryumda 8 tane köpekbalığı, köpekbalıklarından 15 fazla vatoz, vatozlardan 22 fazla kelebek balığı vardı. Dev akvaryumdaki canlıların sayısı kaçtır?

çözüm:

Etkinlik: Aşağıdaki problemleri çözünüz.

1 Bir oyuncak fabrikasında 37 tane tren, trenlerden 25 tane fazla uçak üretilmiştir. Bu fabrikada kaç uçak üretilmiştir?

çözüm:

2 Huzurevi ziyaretimiz için 19 tane karanfil, karanfillerden 35 fazla gül aldık. Huzurevi ziyaretimiz için kaç gül almış oluruz?

çözüm:

3 Ben 15 yaşındayım. Ablam benden 6 yaş büyüktür. Üç yıl sonra ablamın yaşı kaç olur?

çözüm:

4 Bir oyuncak fabrikasında 37 tane tren, trenlerden 25 tane fazla uçak üretilmiştir. Bu fabrikada toplam kaç oyuncak üretilmiştir?

çözüm:

5 Huzurevi ziyaretimiz için 19 tane karanfil, karanfillerden 35 fazla gül aldık. Huzurevi ziyaretimiz için toplam kaç çiçek almış oluruz?

çözüm:

6 Ben 15 yaşındayım. Ablam, benden 6 yaş büyüktür. Üç yıl sonra ikimizin yaşları toplamı kaç olur?

çözüm:

Etkinlik: Problem yazan yerlerden yapıştırıp açılır pencerelerin altına problemlerin çözümlerini yapınız.

Problem 1	Problem 2	Problem 3
Bir mağazada 64 tişört, 18 pantolon satılmıştır. Bu mağazada toplam kaç kıyafet satılmıştır?	Kaldırım döşeyen ustalar 48 tane gri taş, 36 tane beyaz taş kullanmıştır. Ustalar toplam kaç taş kullanmıştır?	Ali, 27 tane kurabiye almıştır. Ayşe 16 tane kurabiye almıştır. Ali ve Ayşe'nin toplam kaç kurabiyesi vardır?

Problem 4	Problem 5	Problem 6
İki basamaklı en küçük sayının 87 fazlası kaç eder?	Ahmet, birinci gün 33 soru, ikinci gün 58 soru çözmüştür. Ahmet, toplam kaç soru çözmüştür?	Şefik amcanın çiftliğinde 44 ördek, 52 kaz vardır. Şefik amcanın çiftliğindeki ördek ve kazların toplamı kaçtır?

Problem 7	Problem 8	Problem 9
Nurten, oğlundan 39 yaş büyüktür. Oğlu Egehan, 3 yaşında olduğuna göre Nurten ile Egehan'ın yaşları toplamı kaçtır?	Resim çerçevesi almak için alışverişe çıkan Cansu önce 25 tane, daha sonra 17 tane daha almıştır. Cansu toplam kaç çerçeve almıştır?	Şermin, ilk gün yaptığı 66 kurdelenin yetmediğini görünce 26 tane daha yapmıştır. Sermin toplam kaç kurdele yapmıştır?

Cevaplar:

43

96

84

91

91

92

82

42

97

Etkinlik: Aşağıdaki problemleri iyi okuyarak verilenler, istenenler ve çözüm bölümlerini yapınız.

Problemler	Verilen	İstenen	Çözüm
<p>► Bahçedeki ağaçlarda 24 serçe, 16 tane karga vardır. Bahçedeki ağaçlarda toplam kaç kuş vardır?</p>	<p>24 serçe 16 karga</p>	<p>Toplam kuş sayısı?</p>	$\begin{array}{r} 24 \\ + 16 \\ \hline 40 \end{array}$ <p>40 kuş vardır.</p>
<p>► Yiğit, hikaye kitabının 36 sayfasını dün okumuştur. Bugün de kitabından 47 sayfa okuyup bitirmiştir. Yiğit'in kitabı kaç sayfadır?</p>			
<p>► 2 düzine beyaz gül ile 3 deste kırmızı gülün toplamı kaç gül eder?</p>			
<p>► Deniz kenarından 46 tane kırılmış deniz kabuğu ile 19 tane sağlam deniz kabuğu topladım. Toplam kaç deniz kabuğu toplamış olurum?</p>			
<p>► Birinci gün 18 patik satan Özlem, ikinci gün 35 patik satmıştır. Özlem iki günde toplam kaç patik satmıştır?</p>			

Etkinlik: Aşağıdaki görsellerde aile içindeki bazı görev paylaşımları verilmiştir. Size uygun olanlara gülen yüz, olmayanlara üzgün yüz yapınız.



Etkinlik: Aile bireylerinin sorumluluklarının neler olabileceğini kendi ailenizden yola çıkarak görsellerin altına yazınız.

1)	1)	1)
2)	2)	2)
3)	3)	3)

Etkinlik: Aşağıda evdeki ve okuldaki bazı sorumluluklarımız yazılmıştır. Eksik olan kelimeleri yazarak cümleleri uygun şekilde tamamlayıp bulmacaya yazınız.

1) Odamızı ve temiz tutmalıyız.

zamanında

2) Kıyafetlerimizi tutmalıyız.

yardım

3) Ailemize karşı ve sevgi dolu olmalıyız.

temiz

4) Aile büyüklerimize ve kardeşimize etmeliyiz.

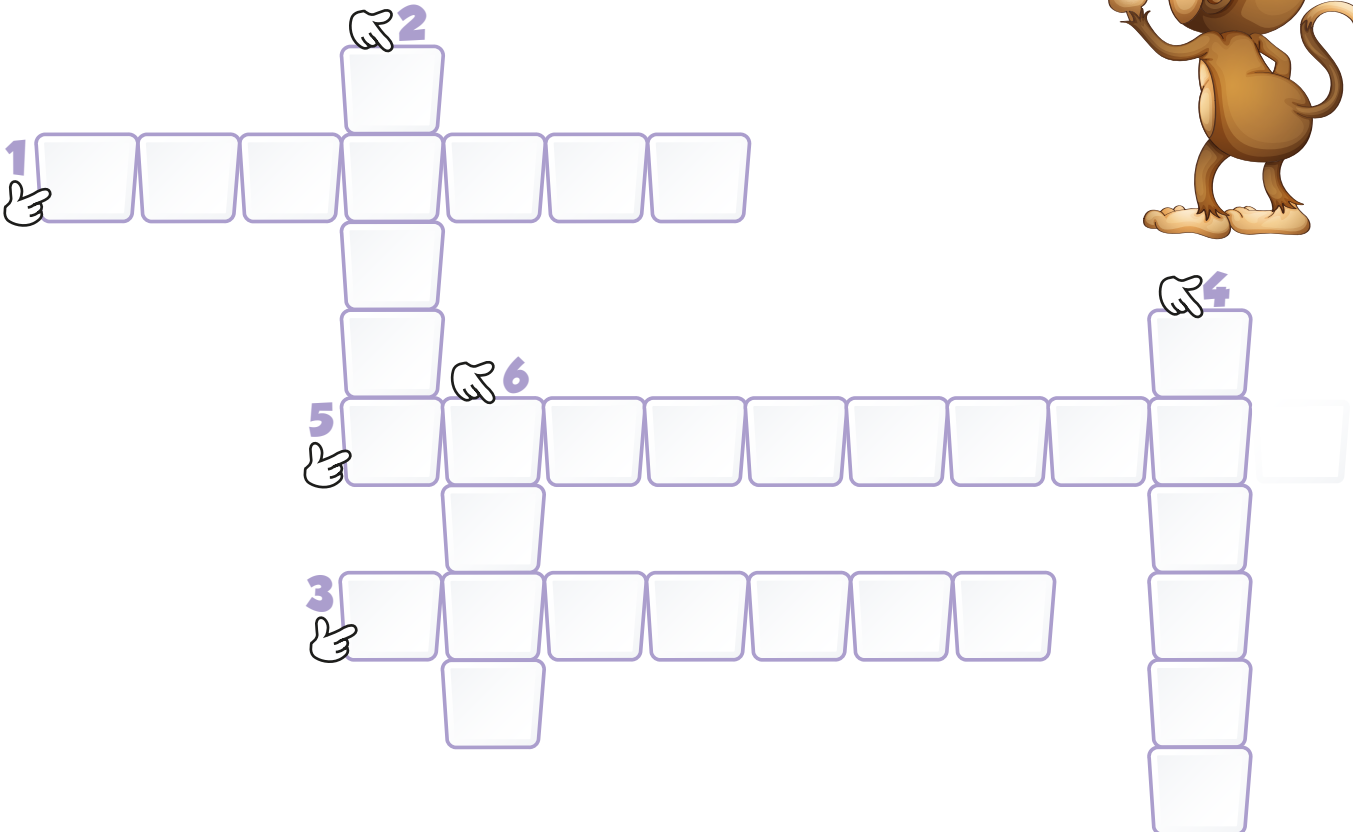
saygılı

araç


5) Ödevlerimizi yapmalıyız.

düzenli

6) Okul ve gereçlerine zarar vermemeliyiz.



Etkinlik: Sabah ve akşam için verilmiş olan sorumluluklarınızı yerine getirdiğinizde kutuya gülen yüz çiziniz. Bu sayfayı çoğaltıp haftalık olarak kullanabilirsiniz.



Yatağımı düzeltirim.



Oyuncaklarımı toplarım.



Kıyafetlerimi katlarım.



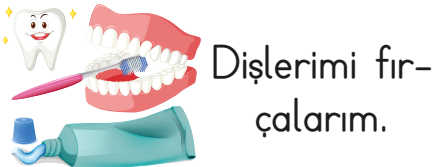
Sofra kurmaya yardım ederim.



Kahvaltımı yaparım.



Kişisel bakımımı yaparım.



Dişlerimi fırçalarım.



Pijamalarımı giyerim.



Saçlarımı tararım.



Dişlerimi fırçalarım.



Okul çantamı hazırlarım.



20 dakika kitap okurum.



Ayakkabılarımı kendim giyerim.



Kendi yatağım-
da uyurum.

SORUMLULUK ÇİZELGESİ

PAZARTESİ

SABAH



SABAH



AKŞAM



SALI

SABAH




AKŞAM



ÇARŞAMBA

SABAH



AKŞAM



PERŞEMBE

SABAH



AKŞAM



CUMA

SABAH



AKŞAM



1.

1) gitmiş	3) Ankara'ya
2) Onur	4) uçakla


Numaralanmış sözcüklerle anlamlı ve kurallı bir cümle oluşturulduğunda sıralama aşağıdakilerden hangisi olur?

- A) 3 - 2 - 4 - 1
B) 4 - 2 - 3 - 1
C) 2 - 3 - 4 - 1










2. Aşağıdakilerden hangisi cümle değildir?
- A) Oyunum bitince oyuncaklarımı
B) Türkçe kitabımı bulamıyorum
C) Kapının önünde düştüm

3. Sanem, ilkokula başladı. Buna göre Sanem, aşağıdakilerden hangisini ilk önce yapmıştır?
- A) Resim yapmayı öğrenmiştir.
B) Yürümeyi öğrenmiştir.
C) Saçlarını örmeyi öğrenmiştir.

4. Aşağıdakilerden hangisi olumlu cümleye örnektir?
- A) Diş ağrım yüzünden uyuyamadım.
B) Çarpım tablosunu öğrenemedim.
C) Bisiklet sürmeyi seviyorum.



Yukarıdaki görselleri oluş sırasına koyduğumuzda hangisi oluşur?

- A)  -  -  B)  -  - 
C)  -  - 


6. **Meral:** Yarışmacı arkadaşlara başarı diledik.
Nihan: Son soruyu yanıtlayamadık.
Serap: Bilgi yarışmasını izlemek için salona gittik.
Yukarıdaki cümleler oluş sırasına göre sıralanınca en sonda kimin sözü olur?
- A) Meral B) Nihan
C) Serap

7. Onlar basamağı 6 olan en büyük doğal sayıya, 25 eklersek kaç olur?
A) 87 B) 94 C) 85
8. Bir günde 17 orkide, 28 papatya satan çiçekçi toplam kaç çiçek satmış olur?
A) 45 B) 36 C) 49
9. Bir havuzda 46 kişi yüzüyordu. Bir saat sonra 42 kişi daha geldiğine göre, havuzda toplam kaç kişi olmuştur?
A) 66 B) 98 C) 88
10. Bir kovanda 34 tane işçi arı, işçi arılardan 26 fazla bal arısı vardır. Bu kovanda toplam kaç arı vardır?
A) 60 B) 94 C) 99
11. Melih 37 yaşında, annesi Melih'ten 43 yaş fazla olduğuna göre annesi kaç yaşındadır?
A) 80 B) 77 C) 84
12. 16'dan başlayarak dörder ileri ritmik sayma yaparken 4. ve 5. sırada söylediğimiz sayıların toplamı kaçtır?
A) 52 B) 58 C) 60
13. Aşağıdakilerden hangisi evde yapabileceğimiz işlerin arasında yer almaz?
A) Sofra kurmaya yardım etmek.
B) Camları silmek.
C) Odamızı toplamak.
14. Aşağıdaki ifadelerden hangisi doğrudur?
A) Bize ait sorumluluklarımızı yerine getirmeliyiz.
B) Odamı babam toplar.
C) Ev işlerini sadece annem yapar.

Etkinlik: Aşağıdaki görseli istediğiniz renklere boyayınız.



Etkinlik: Pizza malzemelerini kesip pizza dilimlerine yapıştırınız. Boyayınız.



Etkinlik: Aşağıdaki görseli istediğiniz renklere boyayınız.



Etkinlik: Etrafından dikkatlice kesip yapıştırınız.

