

BALIKLI BİR YAZ

Toprak ve Rüzgâr, iki erkek kardeşti. Rüzgâr altıncı sınıfa, Toprak birinci sınıfa gidiyordu. Okulun kapanmasına çok az kalmıştı. İkisi de çok heyecanlıydı. Çünkü tatilde dedelerinin köyüne gideceklerdi. İlk kez gidecekleri için içleri içlerine sığmıyordu. Dedeleri onlara bir mektup yazmıştı:

"Sevgili torunlarım, tatile az kaldı. Sizleri çok özledim. Buralar çok güzel. Yemyeşil çayırlar, hayvanlar ve dereler var. Sizlerle balık tutmak çok eğlenceli olacak. İkinizi de sevgiyle kucaklıyorum.. Dedeniz Şefik."

Toprak ve Rüzgâr, mektubu aldıklarından beri başka şey düşünemez olmuşlardı. Hep akıllarında geçirecekleri muhteşem yaz tatili vardı. Toprak çiçeklerin, Rüzgâr hayvanların hayalini kuruyordu. Sonunda haziran ayı geldi. Her ikisi de karnelerini aldılar. Karneleri çok iyiydi. Artık huzurlu bir şekilde eşyalarını toplayıp yola çıkabilirlerdi. Ertesi sabah erkenden kalktılar. Yolculuk zamanı gelmişti. Ailece arabalarına binip köyün yolunu tuttular. Köye vardıklarında mis kokulu çiçekler ve tertemiz hava onları büyülemişti. Her yer yemyeşildi. Dedeleri ilerideki dereyi göstererek:

-İşte, sizinle şurada balık tutacağız, dedi.

Çocuklar, sevinçle dedelerinin kendileri için hazırladığı kamışları alıp dereye koştular. Tüm gün boyunca balık avladılar. Akşam evlerine dönerken taşıdıkları kovadaki balıklar o kadar fazlaydı ki her gören şaşırıp kalıyordu. Toprak ve Rüzgâr çok yorgun ama çok mutluydu. Hayatlarının en güzel günü bu balıklı yaz günü olmuştu.




Etkinlik: Aşağıdaki soruları metne göre cevaplayınız.

 Toprak ve Rüzgâr, neden heyecanlıydılar?


.....

 Dedeleri onlara ne yazmıştı?

.....

 Dedeleri, mektupta birlikte ne yapacaklarından bahsediyordu?

.....

 Toprak, neyin hayalini kuruyordu?

.....

 Köye vardıklarında onları büyüleyen neydi?

.....

 Dedeleri, ilerideki dereyi göstererek ne dedi?

.....

 Dedeleri, onlara ne hazırlamıştı?

.....

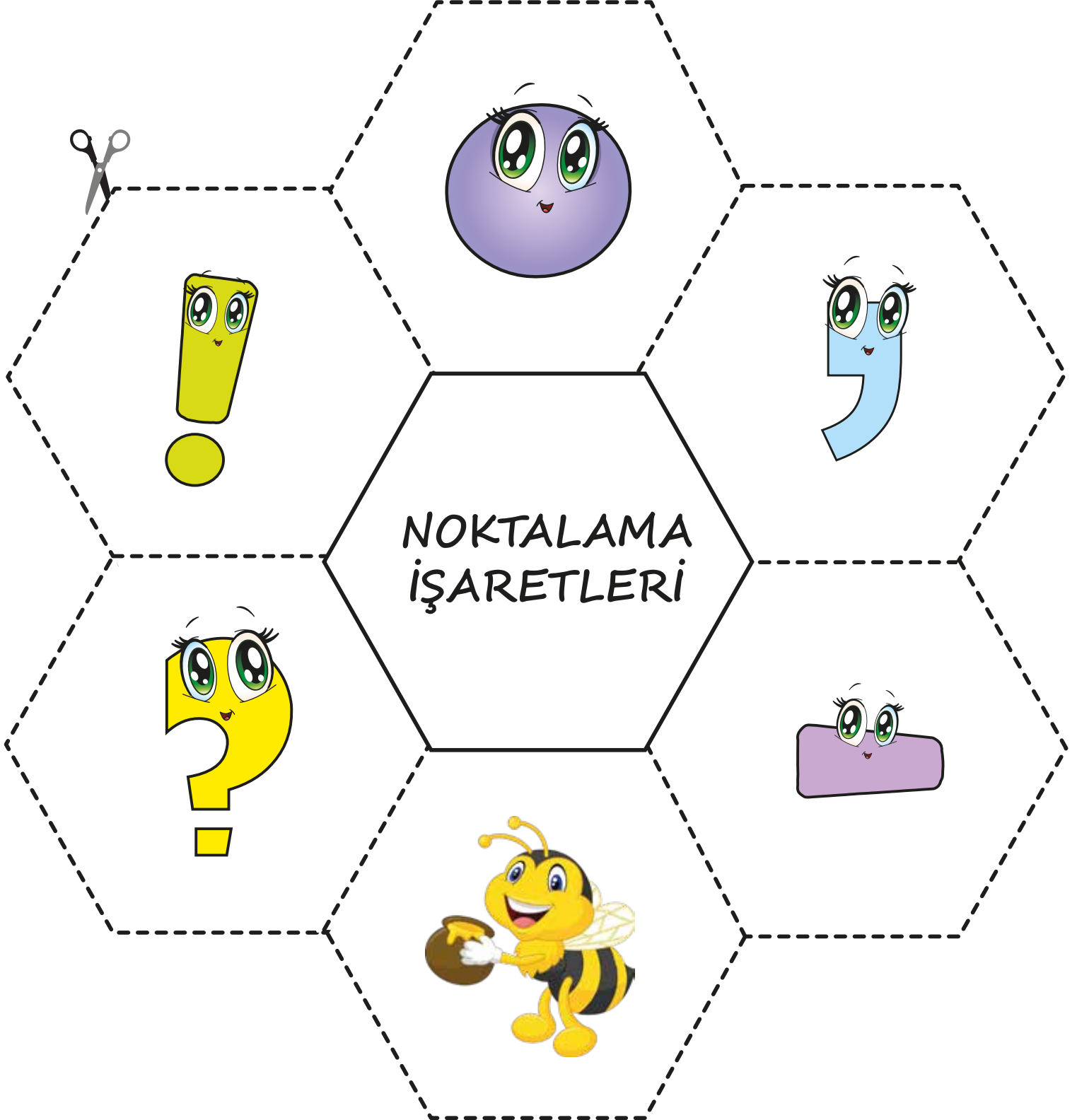
 Akşam evlerine dönerken çocukları görenler neden şaşırıyorlardı?

.....

 Rüzgâr ve Toprak'ın en mutlu günü ne zamandı?

.....

Etkinlik: Sayfa 3 ve 4'ü kenarlarından dikkatlice kesiniz. Sadece noktalama işaretleri yazan yerleri üst üste yapıştırıp kulakçıkları açınız.



NOKTALAMA İŞARETLERİ


NOKTA
Benim adım nokta.
Her zaman yerim var cümle sonunda.
Sıra bildiren sayı ve kısaltmalarda.
Sakin beni unutma.

ÜNLEM İŞARETİ
Beni görünce şaşırırsın,
Korkup, heyecanlanırsın.
Cümlenin sonuna gelince
Duygumu belli eder, anlarsın.

VİRGÜL
Adım virgüldür benim,
Sıralanan kelimeler arasında yerim.
Mesela dersin,
"Bugün elma, armut, erik yedim."
Görürsün ben neredeyim.

SORU İŞARETİ
Aslında bilirsin beni,
Tüm işaretlerin en güzeli,
Sorulan her sorunun sonuna
Koymayı unutma sakın beni!

KISA ÇİZGİ
Diyelim ki bir cümle yazdın,
Satırın en sonunda vardın.
Sığmadıysa kelimen,
Kısa bir çizgi çekip heceden,
Devam et, cümlene kaldığın
yerden.



Etkinlik: Okuma metnindeki noktalama işaretlerinden uygun olanını seçip boyayınız.

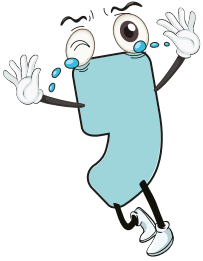
Salyangozları bilir misiniz . ! ? Onlarda tıpkı kaplumbağalar gibi evlerini sırtlarında taşırlar . ! ?

Bir zamanlar . ! , evini sırtında taşımaktan hoşlanmayan bir salyangoz varmış . ! ? Üstelik evinin rengini de hiç beğenmez

miş . ! ? Bir gün uyandığında sırtındaki evini görememiş . ! ?

"İmdat . ! ? Hırsız var . ! ? " diye bağırmış . ! ?

Etkinlik: Aşağıdaki cümlelerin sonuna gelecek olan noktalama işaretlerini seçip boyayınız.



→ Çiftlikte inek . ! ? tavşan vardı

→ Masanın ayağı kırıldı

→ Yarışmayı kim kazandı

→ Annem bize masal okudu

→ Pazardan elma . ! ? armut aldım

→ Elektrikler kesildi mi

→ Kurbağa çayırdaki yiyecek bulmak için dolaşıyordu








→ Süt içmeyi çok severim

→ Okula neden gelmedin

→ Sabah çok erken kalkıyoruz

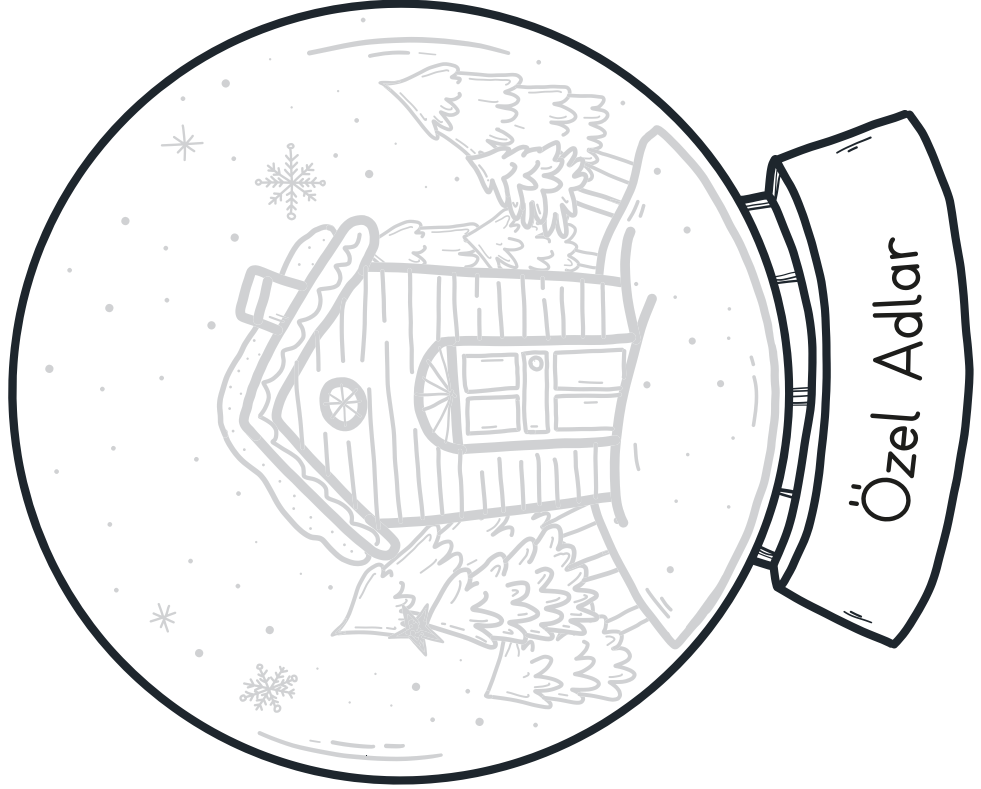


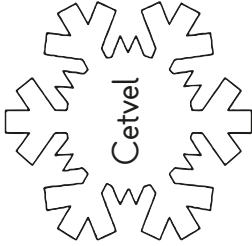

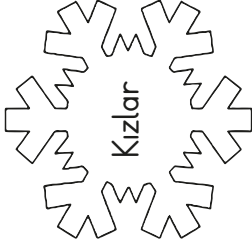







Etkinlik: Şekli kenarlarından yapıştırıp kulakçıklar açınız. Aşağıdaki yazımlardan uygun olanları kulakçıkların altına yapıştırınız.

| | | | |
|---------------------------------------|---|-----------------|---|
| Özel İsimler Baş Harfi Büyük |  | İNSAN İSİMLERİ |  |
| Özel İsimler Baş Harfi Büyük |  | YER İSİMLERİ | |
| Tür (Cins) İsimler Baş Harfi Küçük |  | EŞYA İSİMLERİ |  |
| Tür (Cins) İsimler Baş Harfi Küçük |  | HAYVAN İSİMLERİ |  |

| | | | |
|-----------|------------|----------|------------|
| Ayşe | Çatal | İzmir | Köpek |
| ayşe | çatal | izmir | köpek |
| Ağrı Dağı | Televizyon | Aslan | Aslı |
| ağrı dağı | televizyon | aslan | aslı |
| Tavşan | Ahmet | Tuz Gölü | Bilgisayar |
| tavşan | ahmet | tuz gölü | bilgisayar |

Etkinlik: Kar tanelerinin içindeki kelimeleri türlerine göre ayırıp uygun kar küresine yapıştırınız.



Etkinlik: Yanardağlar yerine yazılacak sayıyı bulup o sayının yazdığı dinozoru yanardağın üzerine yapıştırınız.

$30 + \text{yanardağ} = 67$



$\text{yanardağ} + 40 = 82$



$45 + \text{yanardağ} = 79$



$\text{yanardağ} + 23 = 24$



$27 + \text{yanardağ} = 99$



$\text{yanardağ} + 35 = 70$



$40 + \text{yanardağ} = 60$



$\text{yanardağ} + 73 = 96$



$46 + \text{yanardağ} = 74$



$\text{yanardağ} + 29 = 54$



$38 + \text{yanardağ} = 93$



$\text{yanardağ} + 43 = 49$



Etkinlik: Verilmeyen toplananları bulup yazınız. Resmi boyayınız.

$41 + \text{☁} = 65$

$12 + \text{☁} = 33$

$11 + \text{☁} = 50$

$\text{☁} + 25 = 74$

$\text{☁} + 39 = 75$

$\text{☁} + 73 = 92$

$44 + \text{☁} = 82$

$80 + \text{☁} = 97$

$45 + \text{☁} = 90$

$\text{☁} + 57 = 75$

$\text{☁} + 35 = 80$

$\text{☁} + 81 = 98$

$13 + \text{☁} = 63$

$84 + \text{☁} = 93$

$29 + \text{☁} = 58$

$\text{☁} + 62 = 86$

$47 + \text{☁} = 57$

$\text{☁} + 78 = 92$

$90 + \text{☁} = 99$

$\text{☁} + 15 = 24$

$\text{☁} + 36 = 49$



Etkinlik: Verilmeyen toplananları bulup yazınız.

$$\begin{array}{r} 25 \\ + \square \\ \hline 51 \end{array}$$

$$\begin{array}{r} 34 \\ + \square \\ \hline 72 \end{array}$$

$$\begin{array}{r} 58 \\ + \square \\ \hline 87 \end{array}$$

$$\begin{array}{r} 28 \\ + \square \\ \hline 70 \end{array}$$

$$\begin{array}{r} 52 \\ + \square \\ \hline 79 \end{array}$$

$$\begin{array}{r} 46 \\ + \square \\ \hline 83 \end{array}$$

$$\begin{array}{r} 17 \\ + \square \\ \hline 42 \end{array}$$

$$\begin{array}{r} 54 \\ + \square \\ \hline 90 \end{array}$$

$$\begin{array}{r} 26 \\ + \square \\ \hline 64 \end{array}$$

$$\begin{array}{r} 29 \\ + \square \\ \hline 77 \end{array}$$

$$\begin{array}{r} 33 \\ + \square \\ \hline 99 \end{array}$$

$$\begin{array}{r} 37 \\ + \square \\ \hline 80 \end{array}$$

$$\begin{array}{r} 16 \\ + \square \\ \hline 43 \end{array}$$

$$\begin{array}{r} 16 \\ + \square \\ \hline 65 \end{array}$$

$$\begin{array}{r} 48 \\ + \square \\ \hline 93 \end{array}$$

$$\begin{array}{r} 43 \\ + \square \\ \hline 90 \end{array}$$

$$\begin{array}{r} 41 \\ + \square \\ \hline 85 \end{array}$$

$$\begin{array}{r} 35 \\ + \square \\ \hline 93 \end{array}$$

$$\begin{array}{r} 36 \\ + \square \\ \hline 81 \end{array}$$

$$\begin{array}{r} 36 \\ + \square \\ \hline 74 \end{array}$$

$$\begin{array}{r} 19 \\ + \square \\ \hline 72 \end{array}$$

$$\begin{array}{r} 34 \\ + \square \\ \hline 54 \end{array}$$

$$\begin{array}{r} 27 \\ + \square \\ \hline 92 \end{array}$$

$$\begin{array}{r} 65 \\ + \square \\ \hline 83 \end{array}$$

Etkinlik: Aşağıdaki işlemleri dikkatlice yapıp verilmeyen toplanı bulunuz.

$$\begin{array}{r} 25 \\ + 41 \\ \hline 66 \end{array}$$

$$\begin{array}{r} \square \\ + \square \\ \hline 79 \end{array}$$

$$\begin{array}{r} 39 \\ + \square \\ \hline 87 \end{array}$$

$$\begin{array}{r} \square \\ + \square \\ \hline 90 \end{array}$$

$$\begin{array}{r} \square \\ + \square \\ \hline 73 \end{array}$$

$$\begin{array}{r} \square \\ + \square \\ \hline 48 \end{array}$$

$$\begin{array}{r} \square \\ + \square \\ \hline 26 \end{array}$$

$$\begin{array}{r} 38 \\ + \square \\ \hline 76 \end{array}$$

$$\begin{array}{r} 21 \\ + \square \\ \hline 49 \end{array}$$

$$\begin{array}{r} \square \\ + \square \\ \hline 79 \end{array}$$

$$\begin{array}{r} 27 \\ + \square \\ \hline 54 \end{array}$$

$$\begin{array}{r} \square \\ + \square \\ \hline 66 \end{array}$$

$$\begin{array}{r} 17 \\ + \square \\ \hline 60 \end{array}$$

$$\begin{array}{r} \square \\ + \square \\ \hline 50 \end{array}$$

$$\begin{array}{r} 59 \\ + \square \\ \hline 70 \end{array}$$

Etkinlik: Toplama işlemindeki toplananları en yakın onluğa yuvarlayarak sonucu tahmin ediniz. Daha sonra gerçek sonuç ile tahmini sonucunuzun farkını bulunuz.

| Tahmin | İşlem | Fark |
|--------|-------|------|
| 40 | 36 | 60 |
| + 20 | + 21 | - 57 |
| 60 | 57 | 03 |



| Tahmin | İşlem | Fark |
|---------|-------|---------|
| | 46 | |
| + _____ | + 32 | - _____ |



| Tahmin | İşlem | Fark |
|---------|-------|---------|
| | 28 | |
| + _____ | + 47 | - _____ |



| Tahmin | İşlem | Fark |
|---------|-------|---------|
| | 35 | |
| + _____ | + 48 | - _____ |



| Tahmin | İşlem | Fark |
|---------|-------|---------|
| | 24 | |
| + _____ | + 18 | - _____ |



| Tahmin | İşlem | Fark |
|---------|-------|---------|
| | 64 | |
| + _____ | + 19 | - _____ |




| Tahmin | İşlem | Fark |
|---------|-------|---------|
| | 46 | |
| + _____ | + 33 | - _____ |




| Tahmin | İşlem | Fark |
|---------|-------|---------|
| | 55 | |
| + _____ | + 28 | - _____ |




Etkinlik: Aşağıdaki işlemlerin tahmini sonuçlarını bulunuz. Gerçek sonuç ile tahmini sonuçlarını karşılaştırınız.




| Tahmin | İşlem | Fark |
|---------|---|---------|
| + _____ | $\begin{array}{r} 34 \\ + 52 \\ \hline \end{array}$ | - _____ |




| Tahmin | İşlem | Fark |
|---------|---|---------|
| + _____ | $\begin{array}{r} 73 \\ + 22 \\ \hline \end{array}$ | - _____ |




| Tahmin | İşlem | Fark |
|---------|---|---------|
| + _____ | $\begin{array}{r} 39 \\ + 46 \\ \hline \end{array}$ | - _____ |




| Tahmin | İşlem | Fark |
|---------|---|---------|
| + _____ | $\begin{array}{r} 61 \\ + 34 \\ \hline \end{array}$ | - _____ |




| Tahmin | İşlem | Fark |
|---------|---|---------|
| + _____ | $\begin{array}{r} 48 \\ + 36 \\ \hline \end{array}$ | - _____ |




| Tahmin | İşlem | Fark |
|---------|---|---------|
| + _____ | $\begin{array}{r} 24 \\ + 54 \\ \hline \end{array}$ | - _____ |




| Tahmin | İşlem | Fark |
|---------|---|---------|
| + _____ | $\begin{array}{r} 27 \\ + 28 \\ \hline \end{array}$ | - _____ |



| Tahmin | İşlem | Fark |
|---------|---|---------|
| + _____ | $\begin{array}{r} 35 \\ + 32 \\ \hline \end{array}$ | - _____ |



| Tahmin | İşlem | Fark |
|---------|---|---------|
| + _____ | $\begin{array}{r} 14 \\ + 75 \\ \hline \end{array}$ | - _____ |



| Tahmin | İşlem | Fark |
|---------|---|---------|
| + _____ | $\begin{array}{r} 38 \\ + 43 \\ \hline \end{array}$ | - _____ |

Etkinlik: Aşağıdaki sorunlara çözüm yolları üretip yazınız.

1. Evin tüm temizliğini annem yapar.

Önerin :

.....

.....



2. Bayramlarda otele tatile gideriz.

Önerin :

.....

.....




3. Babaannem ile annem birbirleriyle konuşmuyorlar.

Önerin :

.....

.....




4. Akrabalarımızı sadece düğünlerde görürüm.

Önerin :

.....

.....




5. Ailemizde her zaman babam karar verir.


Önerin :

.....

.....



Etkinlik: Aşağıdaki cümleleri uygun kelimelerle tamamlayınız.



Yaşlı akrabalarımıza olmalıyız.

Akrabalarımızı sık sık etmeliyiz.

Aile ve akrabalar, zor zamanlarda destek olmalıdır.

Evimizdeki ile zamandan tasarruf edebiliriz.

Aile büyüklerimize her zaman davranmalıyız.

Etkinlik: Aşağıdaki ifadelerden doğru olanlara "D" yanlış olanlara "Y" yazınız.

Yakın akrabalarımızın sorunları bizi ilgilendirmez.

Akrabalık ilişkilerimize önem vermeliyiz.

Ailemizle ortak kararlar almalıyız.

Aile büyüklerimizi sevip saymalıyız.




Akrabamız telefon ettiğinde rahatsız oluruz.

Teyzemi ve kuzenlerimi hiç görmedim.




Aile bireylerinin doğum günlerini kutlamam.

Yaşlı akrabalarla ilgilenmemeliyiz.

1. Aşağıdaki noktalama işaretlerinden hangisinden sonra büyük harf kullanılmaz?

- A)  B)  C) 

2. "Eyvah, geç kaldım" cümlesinin sonuna hangi noktalama işareti konulmalıdır?

- A)  B)  C) 

3. Aşağıdakilerden hangisi tür ad değildir?

- A) Adana B) Askı C) Tartı

4. Aşağıdaki cümlelerin hangisinin sonuna ünlem (!) işareti gelir?

- A) Nereye gidiyorsun
B) Of, çok sıcak
C) Bahçemizden patlıcan topladım.

5. Aşağıdaki cümlelerden hangisinin sonuna farklı bir noktalama işareti gelir?

- A) Birlikte oyanayalım mı
B) Sebze yemeği yemelisin
C) Kitap okumayı seviyorum

6. Aşağıdakilerden hangisi hem tür ad hem de tekil adıdır?

- A) Saksılar B) İpek
C) Bilal

7. Aşağıdakilerden hangisi isim değildir?

- A)  B) 



8. $37 + \text{🐢} = 73$

Yukarıdaki işlemde verilmeyen toplanan kaçtır?

- A) 35 B) 36 C) 34

9. Toplananlardan biri 48 olan toplama işleminde toplam 98 ise diğer toplanan kaçtır?

- A) 50 B) 58 C) 47

10. Toplama işleminde tahmini sonucu bulurken hangisini yapmalıyız?

- A) Toplanları birbirinden çıkarırız.
B) Toplananları toplayıp sonucunu onluğa yuvarlarız.
C) Toplananları en yakın onluğa yuvarlayıp toplarız.

11. Sınıfımızda 24 kız, 18 erkek öğrenci vardır. Sınıf mevcudumuz tahmini olarak kaçtır?

- A) 50 B) 40 C) 30

12. Hangi işlemin sonucu tahmini olarak 70 buluruz?

- A) $57 + 12 =$ B) $69 + 11 =$
C) $37 + 12 =$

13. Aşağıdaki değerlerden hangisinin akrabalık ilişkimizde kullanmalıyız?

- A) Kıskançlık B) Hoşgörü
C) Nefret

14. Aşağıdaki çocuklardan hangisinin akrabalık ilişkisi bozuktur?

- A) Bayramlarda akrabalarımızı ziyaret ederiz.
B) Her akşam dedemi ararım.
C) Ailem akraba ziyaretine giderken ben evde kalırım.

15. Teknoloji gelişmemişken (eski zamanlarda) uzaktaki akrabalarımızın bayramını nasıl kutlardık?

- A) Bayram tebrik kartı gönderdik.
B) Uzaktaki akrabalarımızla bayramlaşmazdık.
C) Cep telefonundan mesaj yazardık.

CEVAP ANAHTARI



1 - B 6 - B 11 - B
2 - C 7 - C 12 - A
3 - A 8 - B 13 - B
4 - B 9 - A 14 - C
5 - A 10 - C 15 - A