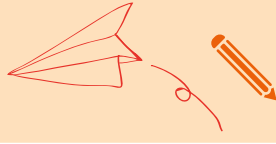




TÜRKÇE, MATEMATİK VE HAYAT ÇALIŞMALARI





Yüz ifadelerini duygularla eşleştirelim.




üzüntü

mutluluk

şaşkınlık

kızgınlık

Bulmacadan duyguları bulup listeye yazalım.



Liste

u	t	a	n	g	a	ç
f	ö	e	k	a	j	d
l	u	m	u	t	l	u
s	u	ç	l	u	g	r
m	e	r	a	k	l	ı
s	b	m	ş	p	n	ç
i	c	e	s	u	r	t
m	u	t	l	u	h	o
k	ı	s	k	a	n	ç
c	ğ	ü	z	g	ü	n

.....

.....

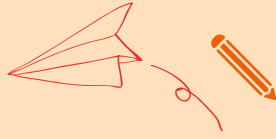
.....

.....

.....

.....

.....



☞ Verilen durumlarda ne hissederiz? Bulutunu boyyalım.

☞ Bugün senin doğum günün.

üzgün

mutlu

kıskanç

☞ Arkadaşın yalan söyledi.

suçlu

huzurlu

kızgın

☞ Pazarda kayboldun.

korkmuş

mutlu

utangaç

☞ Yanlışlıkla yere süt döktün.

mutlu

utangaç

heyecanlı

☞ Annen sana sürpriz yaptı.

meraklı

üzgün

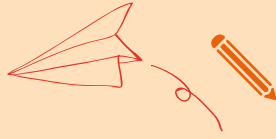
mutsuz

☞ Ağır olan çantayı öğretmenin taşıdı.

kıskanç

huysuz

minnettar



☞ Kelime kartlarını okuyalım. Verilen harflerle biz de üç kelime yazalım.

A a

aslan
albüm
alkış
atlet
aydın

B b

balık
badem
bagaj
bağış
barış

C c

cacık
ceviz
cimri
coşku
cüsse

Ç ç

çanta
çatal
çelik
çiçek
çorap

D d

damla
değer
dekor
diken
dolma

E e

ekmek
eksik
elmas
emsal
evlat

👉 Kelime kartlarını okuyalım. Verilen harflerle biz de üç kelime yazalım.

F f

fazla

fener

fırça

filiz

folyo

G g

galip

gediz

geyik

gıcık

gizem

H h

haber

hamak

hedef

hızır

hukuk

İ i

ığdır

ırmak

ıslak

ıssız

ısrar

İ i

içten

ihbar

ilave

iklim

ileri

J j


japon

jeton

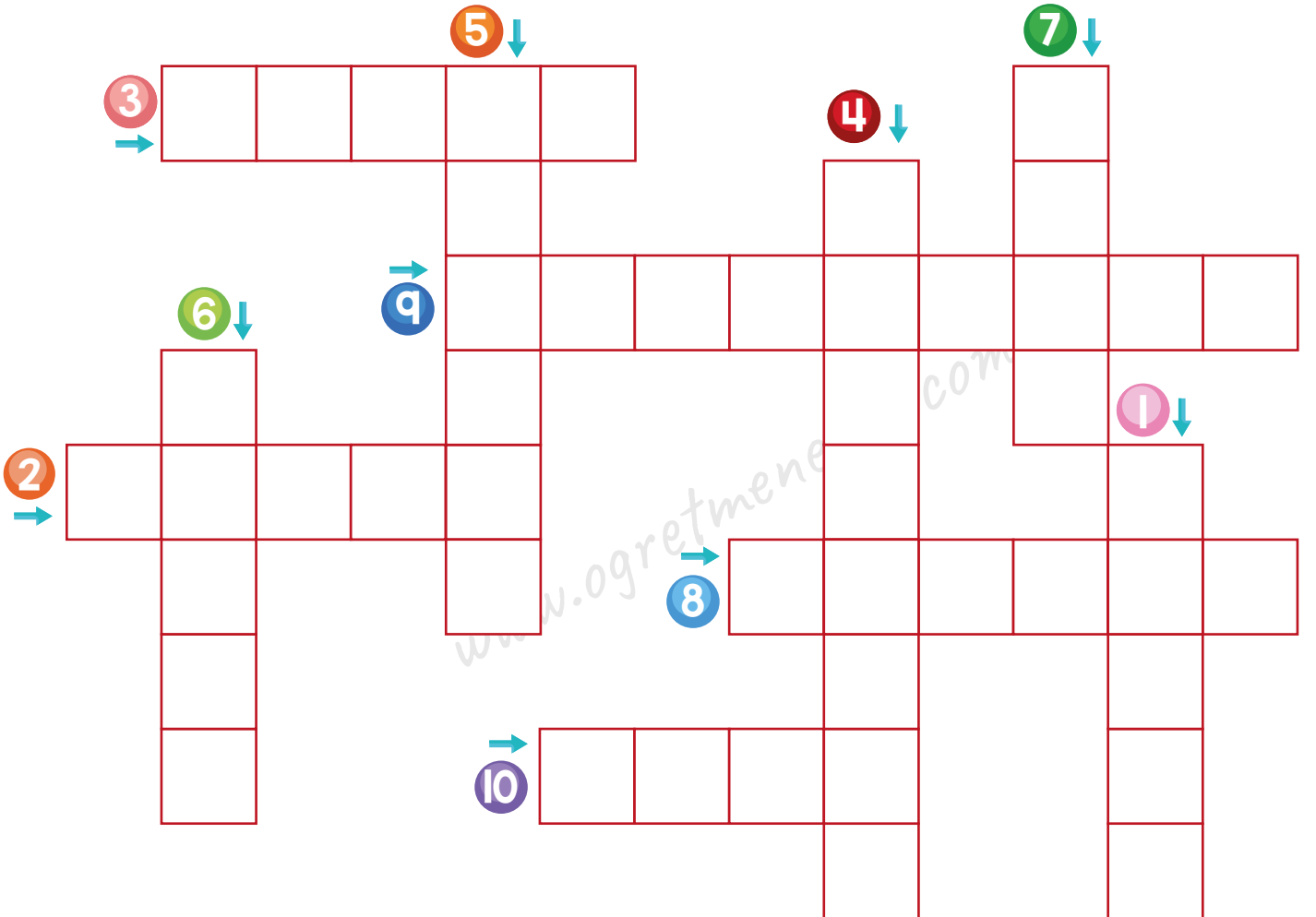

jilet

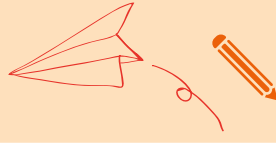
joker

jokey



Görseli verilen varlıkların adını bulmayaca yazalım.





☞ Kelimeleri okuyalım. Doğru alana yazalım.

Türkiye

zambak

avukat

pilav

nergis

çorba

Fransa

papatya

mantı

Almanya

köfte

çiftçi

doktor

öğretmen

lale

Fransa

Ülke İsimleri

•-----

•-----

•-----

•-----



Çiçek İsimleri

•-----

•-----

•-----

•-----

Meslek İsimleri

•-----

•-----

•-----

•-----




Yemek İsimleri

•-----









•-----



•-----

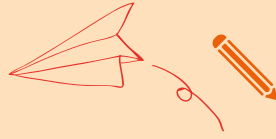
•-----



👉 Harfleri karışık verilen kelimeleri bulalım. Görselini sayfanın aşağısından kesip yapıştıralım.

 a l l e	 l ü f t	 a a s m
 l k u k a	 i t g r a	 r y o d a
 ü s m l b ü	 a r p k z u	





☞ Görseli verilen varlıkların hecelerini boyayalım.



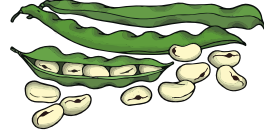
büs o ot
tot üs to



ar an a
nah ah tar



ay çay ık
dan lik da



fa sü sul
ül ye as



kar in ka
rin ca ar



lık ul ku
ak lak ık



da no noz
ay dan may



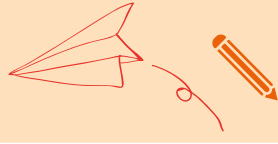
pat at ya
ap pa pap



lin sal sa
in cak ca



zür fa a
ra zü af



👉 Karışık kelimelerden cümleler oluşturalım.

birlikte

teyzemle

yaptık

pasta

bir

şapka

aldım

çarşıdan

mor

bulaşıkları

yıkar

makinede

annem

bir

atki

Nida

renkli

takmış

Sude

aldı

bakkaldan

iki

ekmek

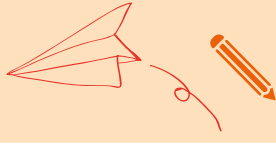
kız

babamın

kardeşine

derim

hala



☞ Verilen hecelerle kelimeler oluşturalım. Bu kelimeleri cümle içinde kullanalım.

Hece

Kelime

Cümle

ba



balık



Akşam balık yedik.

an



ka



el



sil



ki



ör



sa

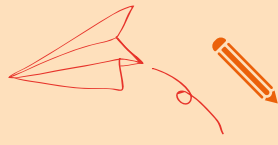


ke




ay





☞ Görseli verilen varlıkların ne işe yaradıklarını yazalım.



.....



.....

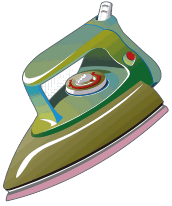


www.ogretmenevde.com.tr


.....



.....



.....



.....




www.ogretmenevde.com.tr

.....



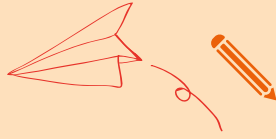
.....



.....



.....



👉 Soruları görsele göre cevaplayalım.



1. Ağaç ne ağacı?

.....

2. Kim uçurtma uçuruyor?

.....

3. Hakan'ın elinde ne var?

.....

4. Aslı ne takmış?

.....

5. Kimin boyu daha uzun?

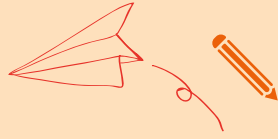
.....

6. Kimin saçı sarı?

.....

7. Balon ne renk?


.....



👉 Tekerlemeleri okuyup beğendiğimiz birini yazalım.

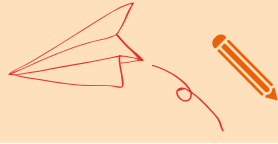
Leylek

Leylek leylek lekirdek
Hani bana çekirdek
Çekirdeğin içi yok
Sarı kızın saçı yok



Saksağan

Saksağan sek sek
Kuyruğu tümsek
Kuyruğuna binelim
Bizim köye gidelim



☞ Sayışmaları okuyalım.

Portakal

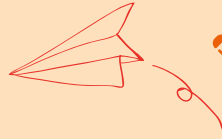
Portakalı soydum,
Başucuma koydum.
Ben bir yalan uydurdum.
Duma duma dum,
Kırmızı mum.
Dolapta pekmez,
Yala yala bitmez.
Ayşecik cik cik cik
Fatmacık cik cik cik
Sen bu oyundan çık!



Altın Top

Ooooo
İğne battı,
Canımı yaktı.
Tombul kuş,
Arabaya koş.
Arabanın tekeri,
İstanbul'un şekeri.
Hop hop altın top!
Bundan başka
Oyun yok!





👉 Bilmecelerin cevaplarını aşağıdan bulalım. Kesip yapıştıralım.

Otu samanı yer, sütünden çocuklar içsin der. <input type="text"/>	Sahibini görünce kuyruk sallar, Hırsızı havlayarak kovalar. <input type="text"/>
Ormanların kralı, Biraz uzak durmalı. <input type="text"/>	Horul horul uyur, Mırıl mırıl konuşur. <input type="text"/>
Üstü çayır biçilir, Altı çeşme içilir. <input type="text"/>	Dağdan gelir, Taştan gelir, Tin tin Sakallı gelir. <input type="text"/>
İki uzun kulağı var, Küçük top kuyruğu var. <input type="text"/>	Uzun boyunlu, uzun bacaklı, desenli giysili, küçücük kulaklı <input type="text"/>

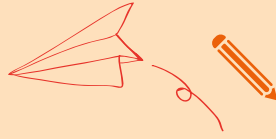


keçi
inek

kedi
zürafa

tavşan
koyun

aslan
köpek



Bunları biliyor musun?



Kangurular geri geri yürüyemez.



Fare, bir deveden bile daha uzun süre susuz kalabilir.



Hastalanmayan tek hayvan köpek balığıdır.



Güvercinlerin mideleri yoktur.



İstakozların kanları mavi renklidir.



El tırnakları, ayak tırnaklarından daha hızlı uzar.



İnsan vücudundaki en güçlü kas, dil kasıdır.



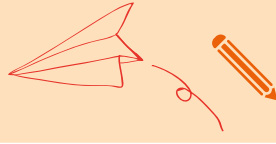
Salyangozlar yemek yemeden üç yıl uyur.



Balinalar geri geri yüzemezler.



Baykuş, mavi rengi görebilen tek kuştur.



👉 Soruları cevaplayalım.

Vücudumuzda iskelet olmasaydı ne olurdu?



*----->

Bütün insanlar aynı anda zıplasa ne olur?



*----->

Uzaylı bir arkadaşın olsa ona ne söylerdin?



*----->

Bir gözün daha olsa nerede olsun isterdin?




*----->


Uçabilseydin nereye gitmek isterdin?




*----->



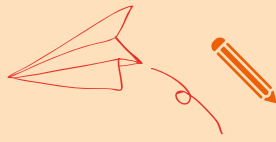
☞ Görsellere on saniye bakalım. Üzerini kapatıp hatırladıklarımızı yazalım.



Four horizontal dashed lines for writing.



Four horizontal dashed lines for writing.



☞ Metni iki kez okuyalım. Her birini ne kadar sürede okuduğumuzu yazalım.

BEN KİMİM?

İsmim Zeynep. Belediye otobüsü şoförüüm. Yolcular beni görünce şaşırıyor bazen. Bazı meslekler kadınlara uygun görülüyor. Bazıları ise erkeklere... Bu düşünceye katılmıyorum. İnsanlar, ilgi ve yeteneğine uyan her işi yapabilir. Günün bazı saatleri trafik yoğun oluyor. Özellikle işe gidiş geliş saatlerinde... Her gün sayısız insanla karşılaşıyorum. Onların yolculuğuna eşlik ediyorum. Birçoğu "Günaydın." diyor sabahları. İnanır mısınız? Günüm güzel geçiyor sonra.



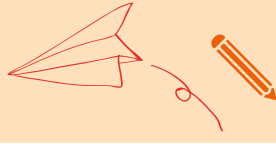
Mehtap Beste Algın

BİLE!

İlk Türk kadın belediye otobüsü şoförü, Fatma Kasapoğlu'dur.



	Süre
1. Okuma
2. Okuma



👉 Soruları "Ben Kimim?" metnine göre cevaplayalım.



1. Zeynep ne iş yapıyormuş?

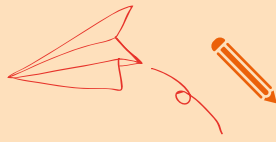
2. Yolcular Zeynep'i görünce sence neden şaşırıyor?

3. Zeynep'e göre insanlar hangi işi yapabilir?

4. İlk Türk kadın belediye otobüsü şoförü kimdir?

👉 Aşağıdaki taşıtların isimlerini yazalım.





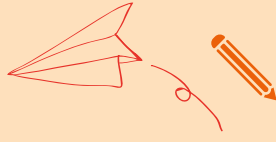
Metni okuyalım.

AĞRI



Hafta sonu Ağrı'ya, amcamın yanına gittik. Amcam, hayvancılıkla uğraşiyor. Ağrı'da tarım ve hayvancılık yaygınmış. Hayatımda hiç bu kadar koyun görmemiştim. Birlikte gezerken kocaman bir pamuğa benziyorlardı. Hava çok soğuktu. Neyse ki en kalın giysilerimizi götürmüştük. Kışın çoğunlukla kar yağıyormuş. Ağrı'ya giderseniz, Ağrı Dağını görmenizi isterim. Türkiye'nin en yüksek dağıymış. Kardan bembeyaz görünüyordu. Eve dönerken yanımızda bal getirdik. Bu, Ağrı'nın meşhur balıymış. Yedikçe orada geçen iki günümü hatırlayacağım.

Mehtap Beste Algın



👉 Soruları "Ağrı" metnine göre cevaplayalım.

1. Çocuğun amcası ne ile uğraşıyormuş?

.....

2. Türkiye'nin en yüksek dağı hangisidir?

.....

3. Ağrıdan gelirken ne getirmişler?

.....

👉 Cümleleri "Ağrı" metnine göre tamamlayalım.

➤ Hafta sonu gittik.

➤, hayvancılıkla uğraşıyor.

➤ Ağrı'da yaygınmış.

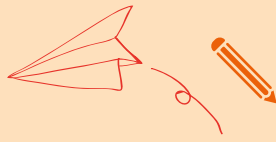
➤ Hayatımda hiç bu kadar görmemiştim.

➤ Hava çok




➤ Kışın çoğunlukla yağıyormuş.

➤ Ağrı'ya giderseniz, görmenizi isterim.

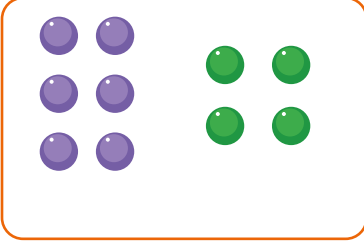
➤ Eve dönerken yanımızda getirdik.



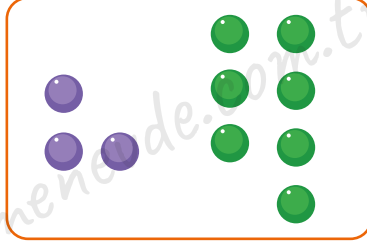
👉 Ağrı metni ile ilgili görselleri işaretleyelim.



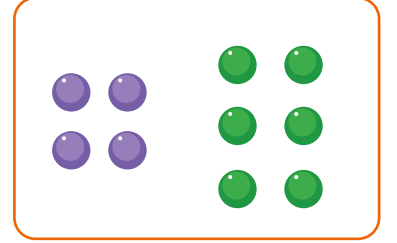
☞ Görselleri inceleyelim. Verilmeyen misket sayılarını yazalım.




$$6 + 4 = 10$$



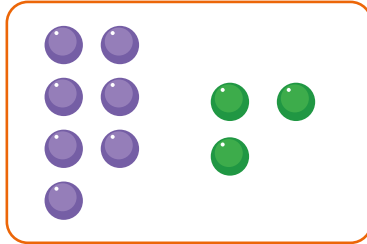
$$3 + \square = 10$$



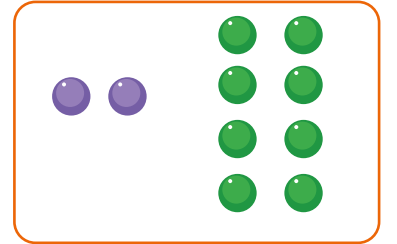
$$4 + \square = 10$$



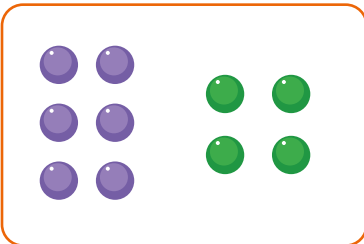
$$\square + 5 = 10$$



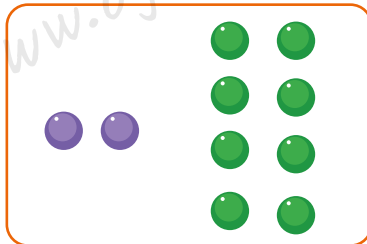
$$\square + 3 = 10$$



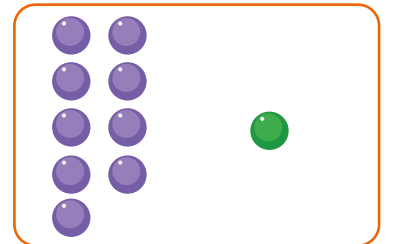
$$\square + 8 = 10$$



$$\square + 4 = 10$$




$$2 + \square = 10$$




$$\square + 1 = 10$$


☞ Görselleri inceleyelim. Verilmeyen yıldız sayılarını yazalım.




$$3 + \square = 9$$




$$\square + 6 = 13$$




$$4 + \square = 12$$




$$\square + 7 = 11$$




$$9 + \square = 12$$




$$\square + 10 = 12$$



$$5 + \square = 12$$



$$\square + 9 = 12$$




$$8 + \square = 15$$

Modellenen toplama işlemlerinde verilmeyen toplananı bulalım.



$$2 + \dots = 7$$




$$\dots + 7 = 11$$



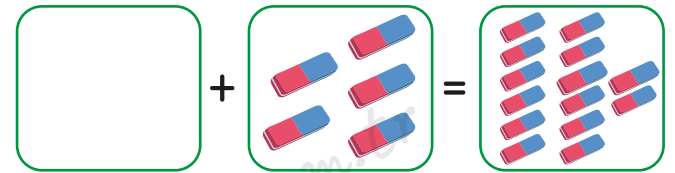
$$\dots + 3 = 9$$



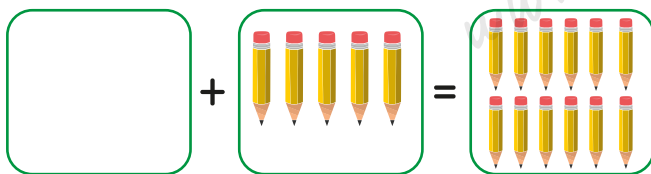
$$6 + \dots = 8$$



$$6 + \dots = 12$$



$$\dots + 5 = 14$$



$$\dots + 5 = 12$$



$$8 + \dots = 12$$

👉 Örneği inceleyelim. Verilmeyen toplananları bulalım.

$3 + \square = 7$ Verilmeyen toplananı bulmak için
3'ün üzerine 7'ye kadar sayalım.

$3 \rightarrow 4, 5, 6, 7$

4 sayı saydık.

Verilmeyen toplanan 4'tür.

$5 + \square = 8 \rightarrow 5$ 'in üzerine 8'e kadar sayalım.

$\square + 6 = 10 \rightarrow 6$ 'nın üzerine 10'a kadar sayalım.

$3 + \square = 12 \rightarrow 3$ 'ün üzerine 12'ye kadar sayalım.

$\square + 8 = 15 \rightarrow 8$ 'in üzerine 15'e kadar sayalım.

$4 + \square = 11 \rightarrow 4$ 'ün üzerine 11'e kadar sayalım.

$\square + 7 = 12 \rightarrow 7$ 'nin üzerine 12'ye kadar sayalım.

$6 + \square = 15 \rightarrow 6$ 'nın üzerine 15'e kadar sayalım.

$\square + 2 = 13 \rightarrow 2$ 'nin üzerine 13'e kadar sayalım.

Örneği inceleyelim. Verilmeyen toplananları bulalım.

$8 + \square = 13$ Verilmeyen toplananı bulmak için
8'in üzerine 13'e kadar sayalım.

$8 \rightarrow 9, 10, 11, 12, 13$

5 sayı saydık.

Verilmeyen toplanan 5'tir.

$2 + \square = 9$

$\square + 3 = 14$

$7 + \square = 18$

$\square + 5 = 12$

$9 + \square = 10$

$\square + 6 = 15$

$3 + \square = 11$

$\square + 8 = 13$

$7 + \square = 9$

$\square + 6 = 16$

$4 + \square = 18$

$\square + 1 = 12$

$2 + \square = 15$

$\square + 8 = 16$

$5 + \square = 8$

☞ Toplama işlemlerinde verilmeyen toplananları bulmacaya yazalım.

$$\begin{array}{r} \textcircled{1} \\ 2 \\ \square \\ + \\ \hline 20 \end{array}$$

$$\begin{array}{r} \textcircled{2} \\ \square \\ 6 \\ + \\ \hline 7 \end{array}$$

$$\begin{array}{r} \textcircled{3} \\ 3 \\ \square \\ + \\ \hline 14 \end{array}$$


$$\begin{array}{r} \textcircled{4} \\ \square \\ 9 \\ + \\ \hline 11 \end{array}$$

$$\begin{array}{r} \textcircled{5} \\ \square \\ 7 \\ + \\ \hline 12 \end{array}$$

$$\begin{array}{r} \textcircled{6} \\ 8 \\ \square \\ + \\ \hline 15 \end{array}$$

$$\begin{array}{r} \textcircled{7} \\ \square \\ 12 \\ + \\ \hline 16 \end{array}$$

$$\begin{array}{r} \textcircled{8} \\ 3 \\ \square \\ + \\ \hline 9 \end{array}$$



☞ Verilmeyen toplananı bulalım. Damlasını boyayalım.

$$6 + \text{damla} = 15$$

7 8 9

$$\text{damla} + 8 = 12$$

3 4 5

$$5 + \text{damla} = 13$$

6 7 8

$$\text{damla} + 5 = 9$$

4 5 6

$$\text{damla} + 9 = 13$$

4 5 6

$$13 + \text{damla} = 13$$

0 1 2

$$\text{damla} + 7 = 10$$

3 4 5

$$9 + \text{damla} = 14$$

5 6 7

İşlem sonuçları bulutlarda yazılıdır. Verilmeyen toplananları örnekteki gibi yazalım.

12

6	+	6
3	+	9
3	+	9

13

10	+	
	+	8
2	+	

14

12	+	
	+	9
5	+	

15

7	+	
	+	8
9	+	

16

12	+	
	+	3
7	+	

17

3	+	
	+	14
13	+	

18

6	+	
	+	12
14	+	

19

12	+	
	+	9
8	+	

20

10	+	
	+	12
18	+	

👉 Verilmeyen toplananı aynı olan işlemleri eşleştirelim.

$8 + \bigcirc = 14$

$\bigcirc + 2 = 8$

$\bigcirc + 5 = 12$

$6 + \bigcirc = 13$

$9 + \bigcirc = 17$

$\bigcirc + 4 = 9$

$\bigcirc + 6 = 11$

$3 + \bigcirc = 11$

$10 + \bigcirc = 13$

$\bigcirc + 9 = 12$

$\bigcirc + 6 = 10$

$8 + \bigcirc = 17$

$9 + \bigcirc = 11$

$\bigcirc + 7 = 8$

$\bigcirc + 6 = 15$

$7 + \bigcirc = 14$

$8 + \bigcirc = 9$

$\bigcirc + 12 = 14$

$\bigcirc + 5 = 12$

$8 + \bigcirc = 12$

İşlemlerdeki verilmeyen toplananları bulalım.

$6 + \square = 14$

$\square + 12 = 15$

$4 + \square = 12$

$\square + 6 = 18$

$2 + \square = 9$

$\square + 11 = 17$

$3 + \square = 12$

$\square + 17 = 20$

$7 + \square = 18$

$\square + 9 = 12$

$8 + \square = 14$

$\square + 5 = 10$




$9 + \square = 15$

$\square + 0 = 9$

$1 + \square = 8$

$\square + 3 = 12$

👉 Görgü kuralları ile görselleri eşleştirelim.



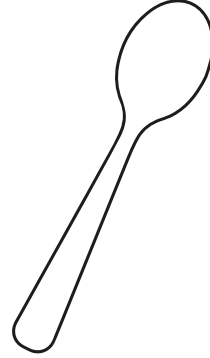
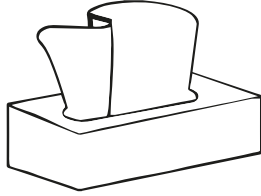

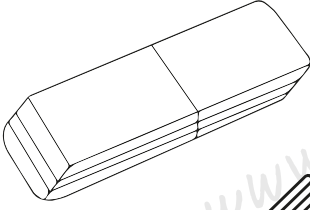
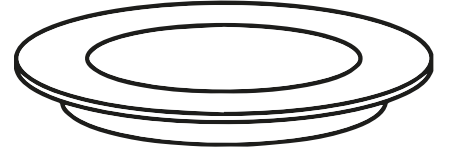
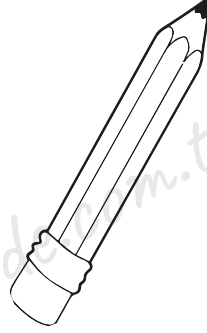
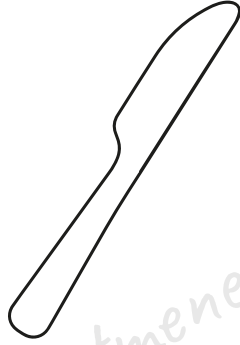
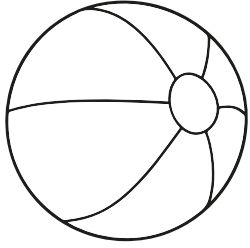


- 1- Yemekten önce ellerimizi yıkamalıyız.
- 2- Peçete kullanmalıyız.
- 3- Ağızımızda lokma varken konuşmamalıyız.
- 4- Yemeği çatal ve kaşıkla yemeliyiz.
- 5- Tabağımızdaki yemeği bitirmeliyiz.
- 6- Yemeği yapana "Ellerine sağlık!" demeliyiz.

👉 Görgü kurallarına uygun yemek yiyen çocukları işaretleyelim.



Yemek yerken kullandığımız araç gereçleri boyayalım.



Doğru ifadelerin başına D, yanlış olanların başına Y yazalım.



Yemek yerken peçete kullanmalıyız.



Tabağımızda yiyeceğimizden fazla yemek almamalıyız.



Herkesle birlikte yemeğe başlamamalıyız.



Ekmek israfından kaçınmalıyız.








Yemek yerken konuşmalıyız.



Yemek yerken televizyon izlemeliyiz.

👉 Noktalı yerleri uygun kelimelerle tamamlayalım.



- 🔥 Yemeğe başlarken herkese
" olsun." demeliyiz.
- 🔥 Yemek sırasında sandalyeye
oturmamızdır.
- 🔥 Ağzımıza sığacağı kadar
almamızdır.
- 🔥 Yemek yerken
şapırdatmamamızdır.
- 🔥 Yemek sofradan
kalkmamamızdır.
- 🔥 Yemeği yapana " sağlık." demeliyiz.

☞ Yemekte uyulması gereken görgü kurallarından 5 tanesini yazalım.

1

2

3

4

5

